



おうちで、やろう。

Study at home. 小学校受験の家庭学習教材

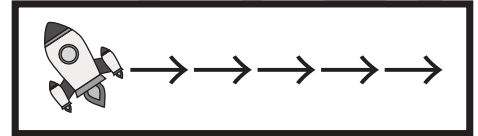
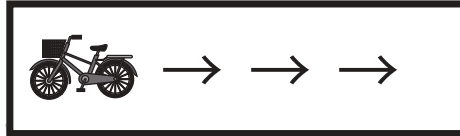
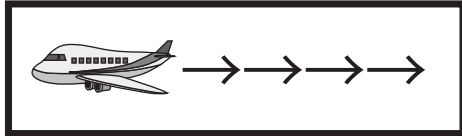
指示の聞き取り 20


下の太い四角が約束です。飛行機と言ったら4マス、自転車と言ったら3マス、ロケットと言ったら5マス進めます。この約束で☆から進み、①～③の問題に答えましょう。

①飛行機、飛行機、自転車、ロケット、ついた場所に○をつけます。

②ロケット、ロケット、自転車、飛行機、自転車、ついた場所に×をつけます。

③自転車、飛行機、自転車、ロケット、飛行機、ロケット、自転車、飛行機、ついた場所に◎をつけます。



※1. このプリントは、しながわ・目黒こどもスクールのウェブサイトでダウンロードができます。無断複写・引用はご遠慮ください。

※2. このプリントを活用したオンライン授業のスケジュールは、しながわ・目黒こどもスクールのウェブサイトでご確認ください。


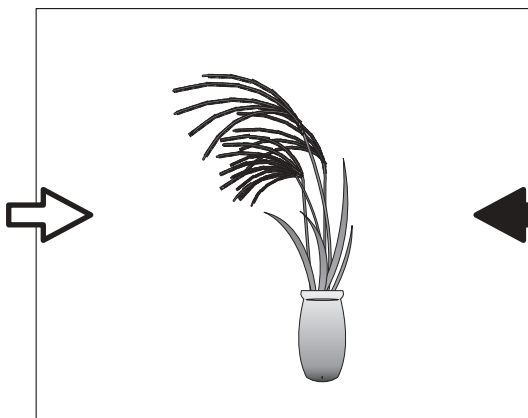
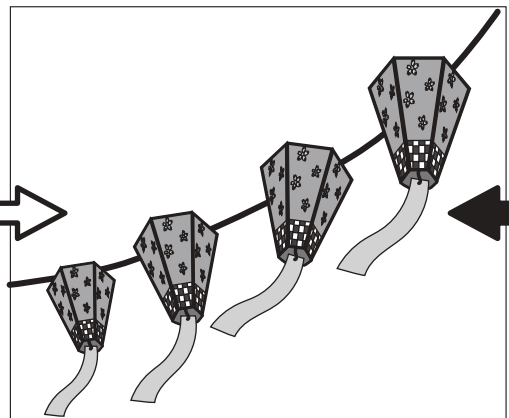

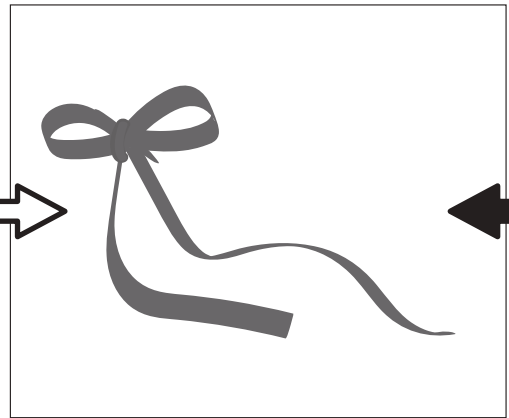
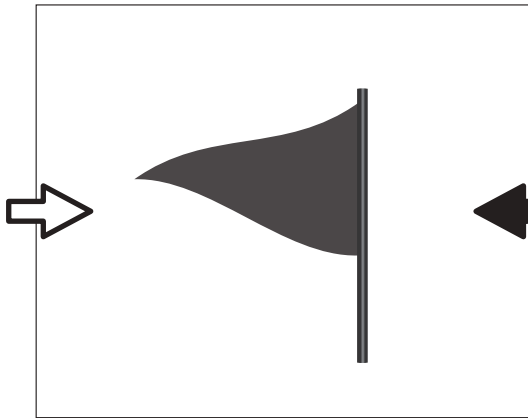
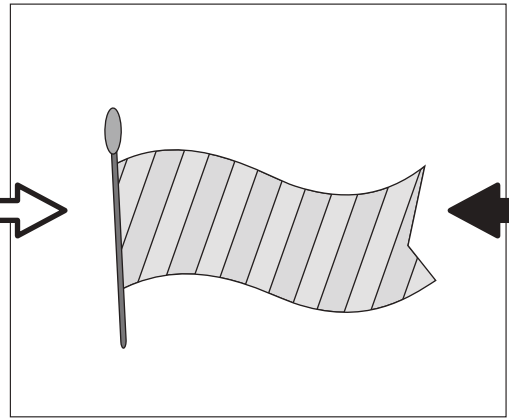
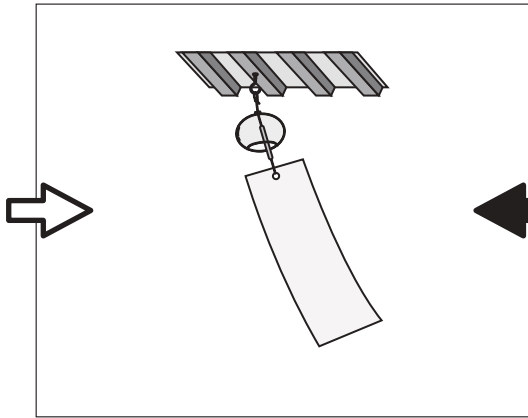


おうちで、やろう。

Study at home. 小学校受験の家庭学習教材

常識：風向き 4

それぞれの絵は風に吹かれている様子の絵です。どちらからどちらへ風が吹いていますか。
左から右へ風が吹いているときは白い矢印に、右から左へ風が吹いているときは黒い矢印に○をつけます。



が
も

目

ク

が
も

※1. このプリントは、しながわ・目黒こどもスクールのウェブサイトでダウンロードができます。無断複写・引用はご遠慮ください。

※2. このプリントを活用したオンライン授業のスケジュールは、しながわ・目黒こどもスクールのウェブサイトでご確認ください。





おうちで、やろう。

Study at home. 小学校受験の家庭学習教材

図形：回転 76

左の四角を矢印の方向へ 1 度倒すと白丸が黒丸に、黒丸が白丸変わってしまいます。このときの見え方を考えて右の四角にかきますが、もう黒丸がかいてありますね。これは左の四角の白丸です。左の四角の黒丸の場所を考えて白丸にかえて右の四角にかきましょう。

※1. このプリントは、しながわ・目黒こどもスクールのウェブサイトでダウンロードができます。無断複写・引用はご遠慮ください。
 ※2. このプリントを活用したオンライン授業のスケジュールは、しながわ・目黒こどもスクールのウェブサイトでご確認ください。



おうちで、やろう。

Study at home. 小学校受験の家庭学習教材

図形：回転 77

左の四角を矢印の方向へ 1 度倒すと白丸が黒丸に、黒丸が白丸変わってしまいます。このときの見え方を考えて右の四角に○をかきますが、もう黒丸がかいてありますね。これは左の四角の白丸です。左の四角の黒丸の場所を考えて白丸にかえて右の四角にかきましょう。

The puzzles are arranged in two columns separated by a vertical line. Each puzzle consists of a 3x3 grid of circles. Arrows indicate a 90-degree clockwise rotation from the left grid to the right grid. The right grid shows the result of the rotation, with some circles already filled in to help the student determine the original positions of the white circles.

※1. このプリントは、しながわ・目黒こどもスクールのウェブサイトでダウンロードができます。無断複写・引用はご遠慮ください。

※2. このプリントを活用したオンライン授業のスケジュールは、しながわ・目黒こどもスクールのウェブサイトでご確認ください。





おうちで、やろう。

Study at home. 小学校受験の家庭学習教材

図形：同図形 9

左の太い枠の形がお手本です。右の四角の中の4つの形のうち、お手本と同じ形を見つけて○をつけます。向きが変わっているものもありますので気をつけましょう。

※1. このプリントは、しながわ・目黒こどもスクールのウェブサイトからダウンロードできます。無断複写・引用はご遠慮ください。

※2. このプリントを活用したオンライン授業のスケジュールは、しながわ・目黒こどもスクールのウェブサイトでご確認ください。

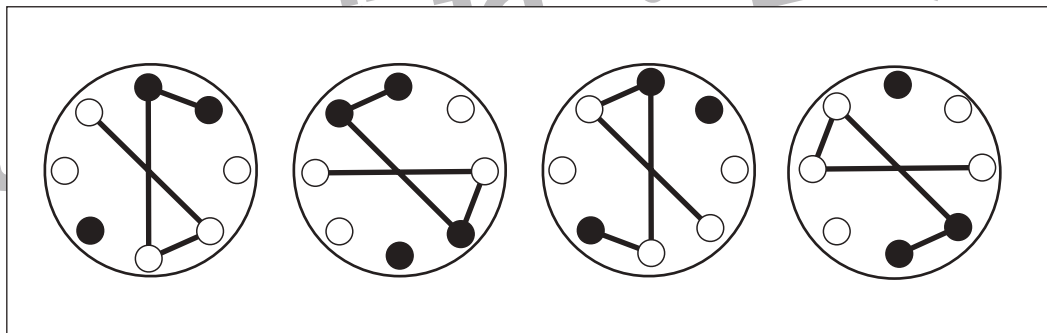
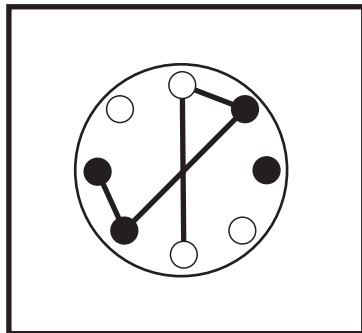
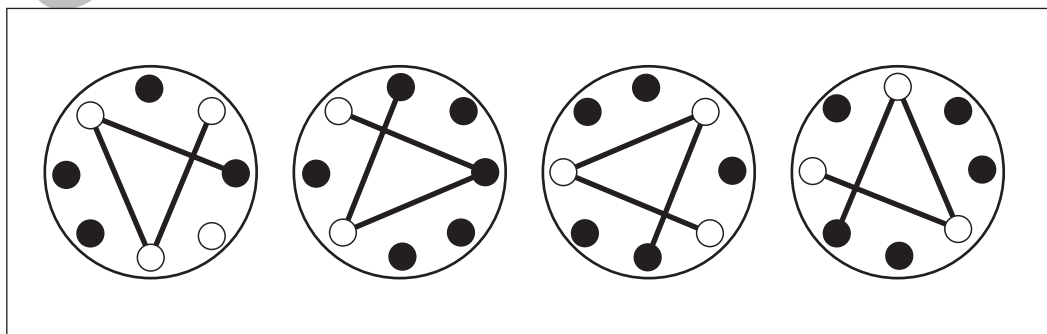
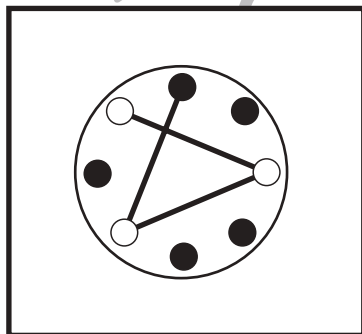
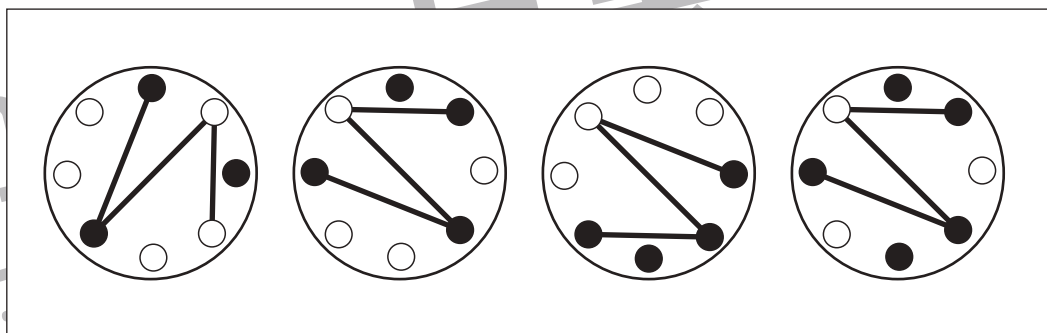
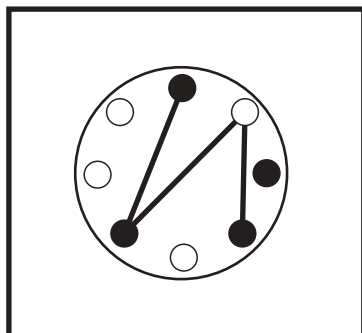
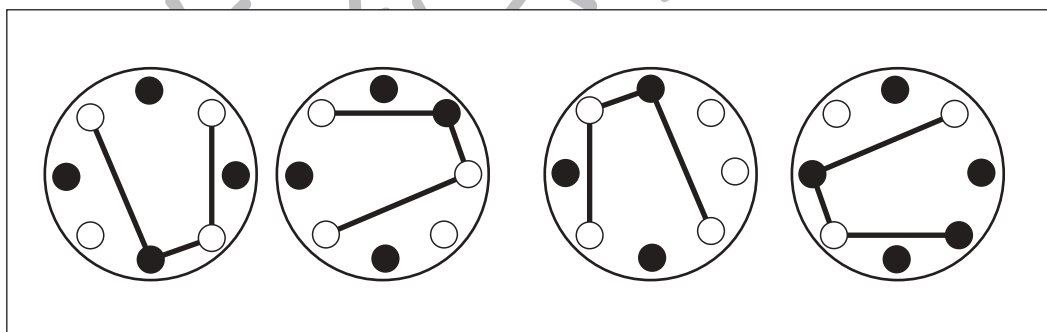
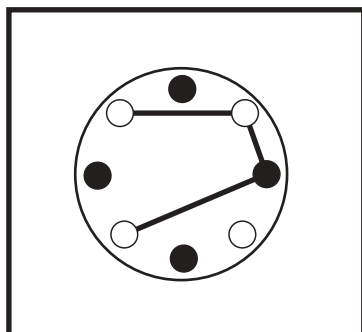
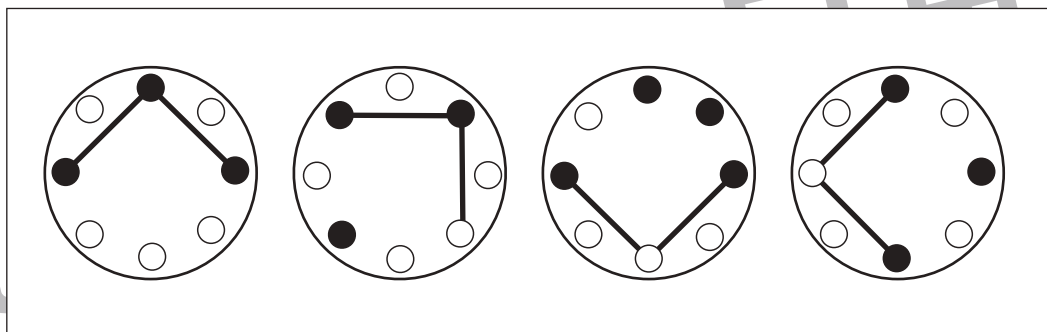
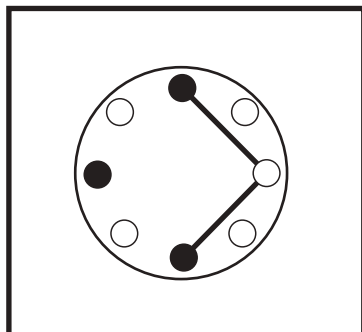


おうちで、やろう。

Study at home. 小学校受験の家庭学習教材

図形：同図形 10

左の太い枠の形がお手本です。右の四角の中の4つの形のうち、お手本と同じ形を見つけて○をつけます。向きが変わっているものもありますので気をつけましょう。



※1. このプリントは、しながわ・目黒こどもスクールのウェブサイトからダウンロードできます。無断複写・引用はご遠慮ください。
※2. このプリントを活用したオンライン授業のスケジュールは、しながわ・目黒こどもスクールのウェブサイトでご確認ください。

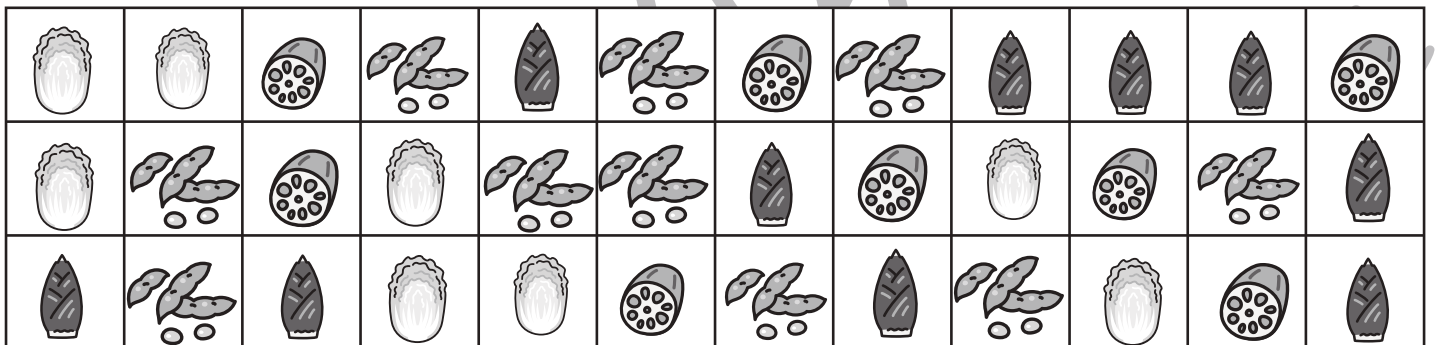
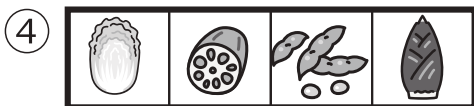

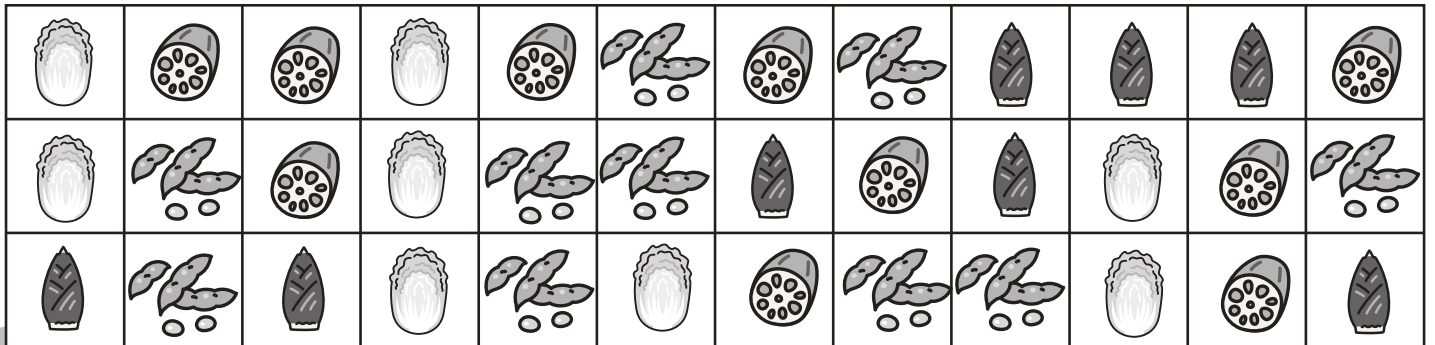
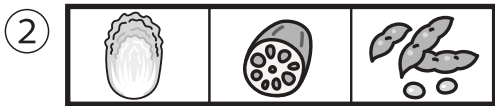

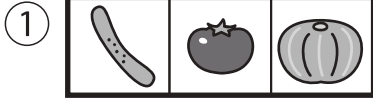




おうちで、やろう。

Study at home. 小学校受験の家庭学習教材

上の太い線の四角がお手本です。お手本と同じように並んでいるところを3か所見つけてお手本と同じ形で囲みます。



※1. このプリントは、しながわ・目黒こどもスクールのウェブサイトからダウンロードできます。無断複写・引用はご遠慮ください。

※2. このプリントを活用したオンライン授業のスケジュールは、しながわ・目黒こどもスクールのウェブサイトでご確認ください。

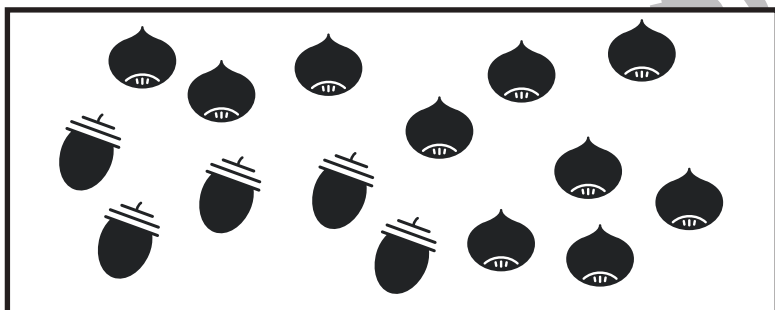
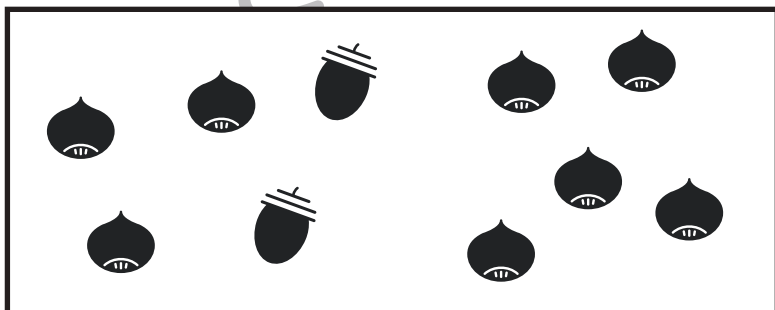

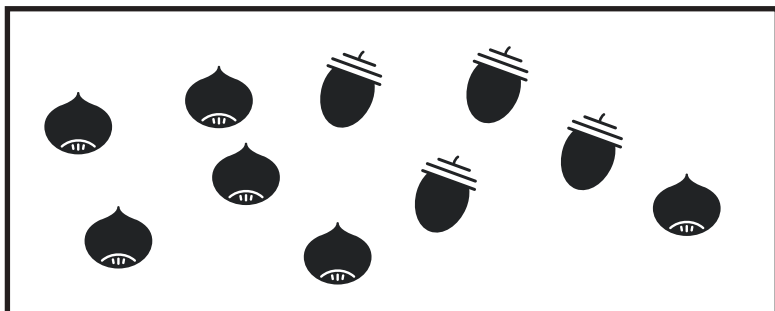

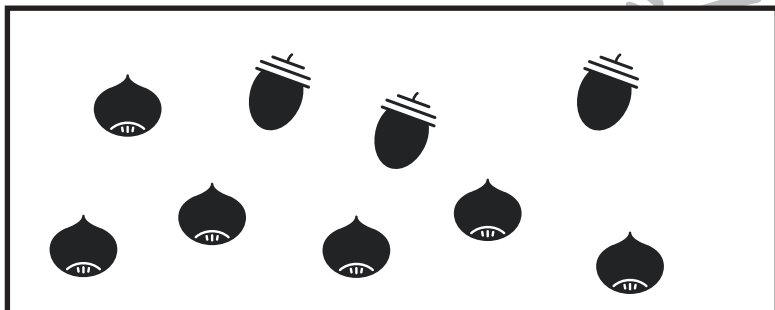
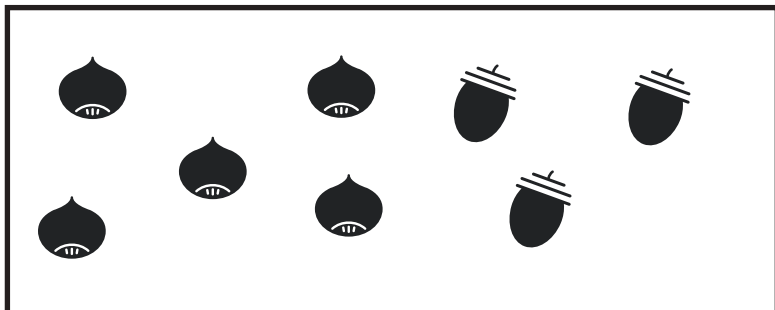


おうちで、やろう。

Study at home. 小学校受験の家庭学習教材

数量：加減 44

左の四角の中のくりを、四角の中のどんぐりの数だけ少なくします。残ったくりの数だけ右の四角に○をかきます。



※1. このプリントは、しながわ・目黒こどもスクールのウェブサイトでダウンロードができます。無断複写・引用はご遠慮ください。

※2. このプリントを活用したオンライン授業のスケジュールは、しながわ・目黒こどもスクールのウェブサイトでご確認ください。



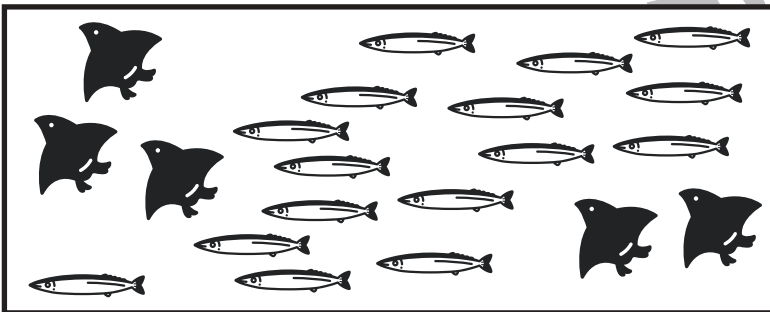

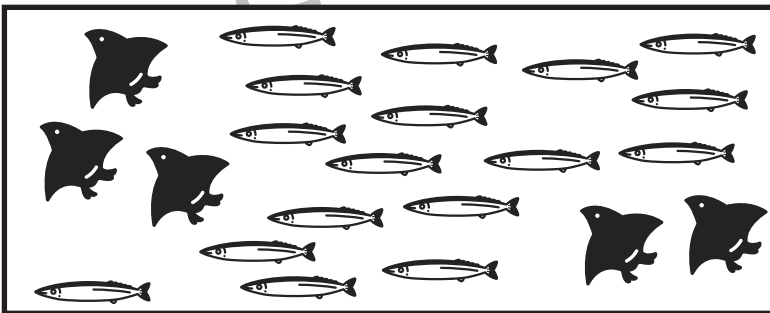

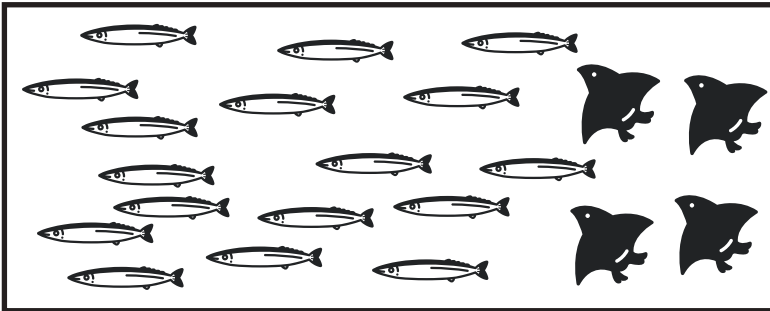
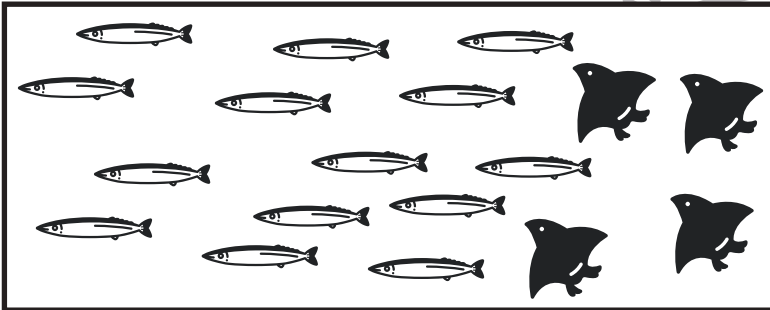

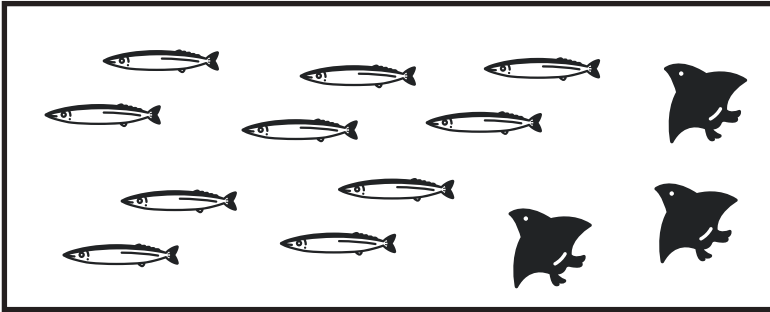


おうちで、やろう。

Study at home. 小学校受験の家庭学習教材

数量：加減 45

左の四角の中の鳥は、一羽につき三匹ずつ魚を食べます。余った魚の数だけ右の四角に○をかきます。



※1. このプリントは、しながわ・目黒こどもスクールのウェブサイトからダウンロードできます。無断複写・引用はご遠慮ください。
※2. このプリントを活用したオンライン授業のスケジュールは、しながわ・目黒こどもスクールのウェブサイトでご確認ください。





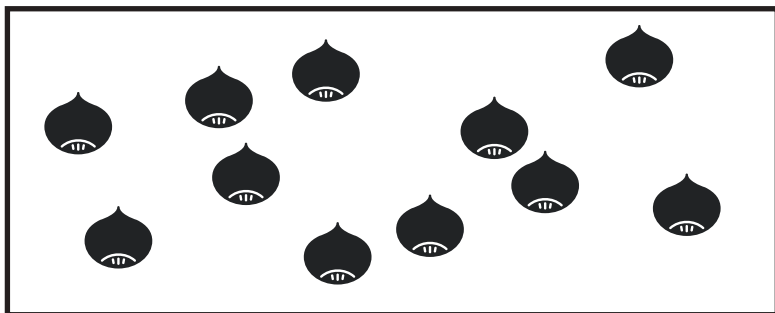

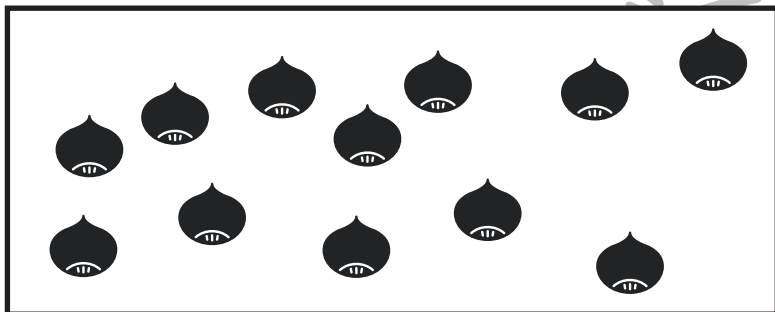
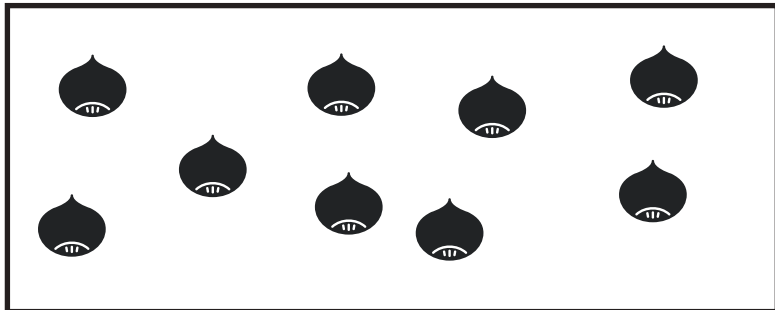


おうちで、やろう。

Study at home. 小学校受験の家庭学習教材

処理：加減3

左の四角の中のくりの数より2つ少ない数だけ右の四角に○をかきます。
この問題はスピードを意識して取り組む練習をしてみましょう。(1分～1分30秒)



※1. このプリントは、しながわ・目黒こどもスクールのウェブサイトでダウンロードができます。無断複写・引用はご遠慮ください。
※2. このプリントを活用したオンライン授業のスケジュールは、しながわ・目黒こどもスクールのウェブサイトでご確認ください。

