

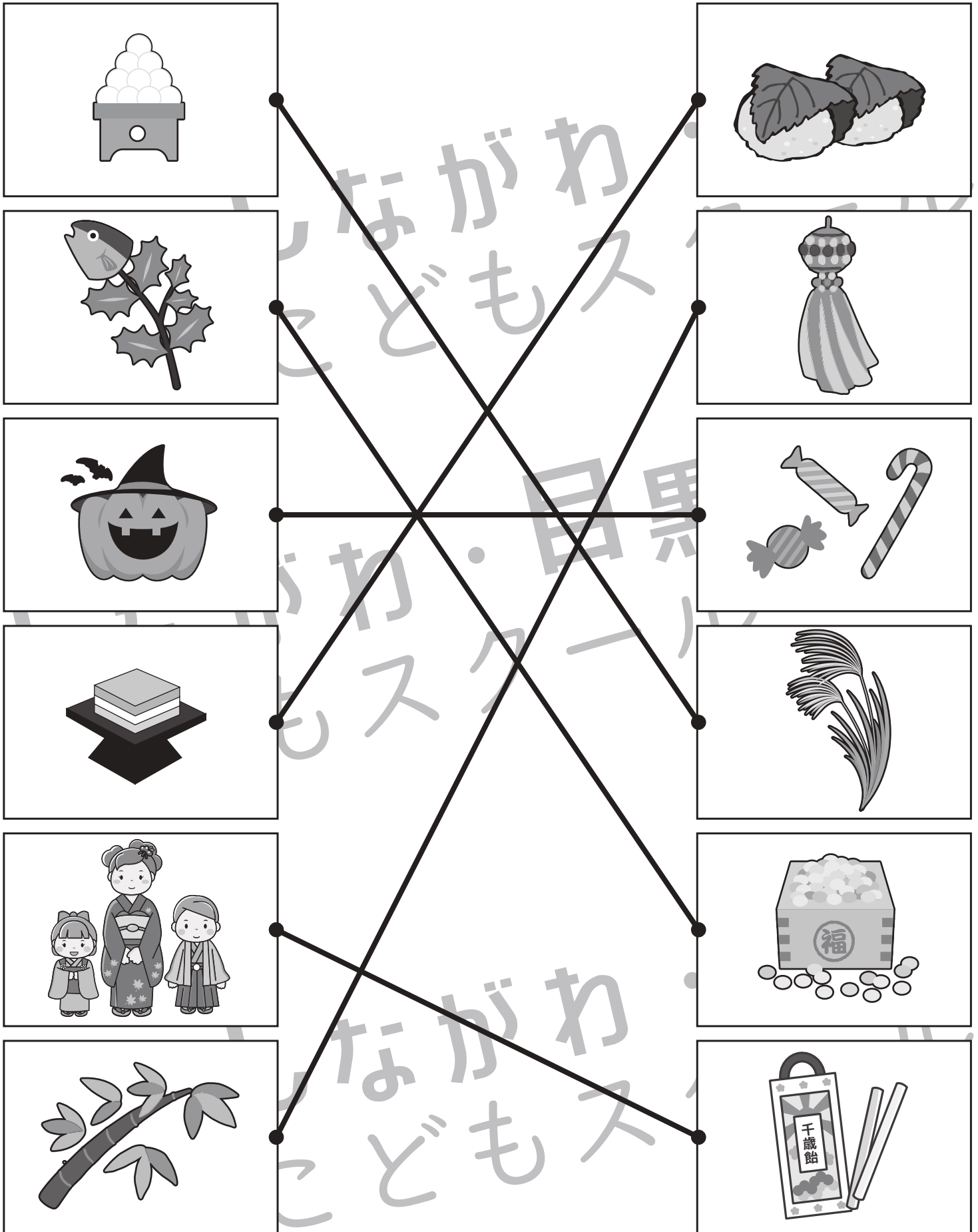


おうちで、やろう。

Study at home. 小学校受験の家庭学習教材

常識：行事 6

左の絵と仲良しな絵を右から選び、線で結びましょう。



※1. このプリントは、しながわ・目黒こどもスクールのウェブサイトからダウンロードできます。無断複写・引用はご遠慮ください。
 ※2. このプリントを活用したオンライン授業のスケジュールは、しながわ・目黒こどもスクールのウェブサイトでご確認ください。



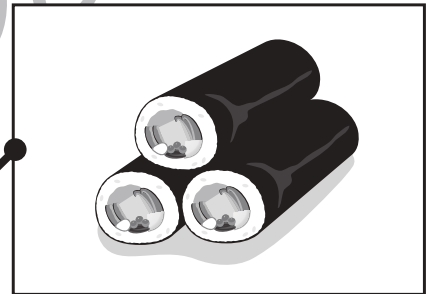





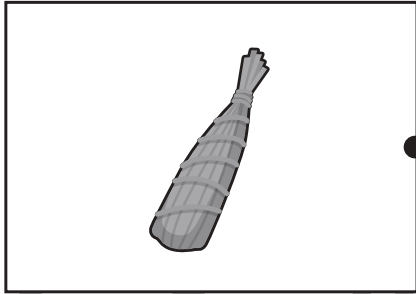

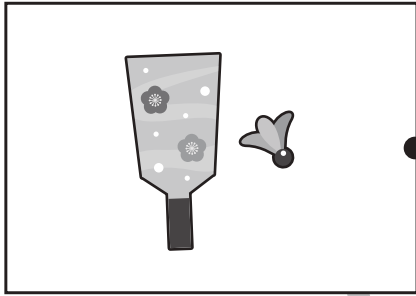


おうちで、やろう。

Study at home. 小学校受験の家庭学習教材

常識：行事7

左の絵と仲良しな絵を右から選び、線で結びましょう。



※1. このプリントは、しながわ・目黒子どもスクールのウェブサイトでダウンロードができます。無断複写・引用はご遠慮ください。
※2. このプリントを活用したオンライン授業のスケジュールは、しながわ・目黒子どもスクールのウェブサイトでご確認ください。






おうちで、やろう。

Study at home. 小学校受験の家庭学習教材

常識：昔話 5

質問をよく聞いて正解の絵に○を付けましょう。

- ① ガラスの靴を履いたのは誰ですか。その物語の絵に○を付けます。
- ② ネズミが出てくるお話の絵に○を付けます。
- ③ 鬼が出てくる物語に○を付けます。
- ④ 玉手箱を貰った人は誰ですか。その物語に○を付けます。
- ⑤ 物語の最後にあわになって消えてしまうのは誰ですか。その物語の絵に○を付けます。



※1. このプリントは、しながわ・目黒こどもスクールのウェブサイトでダウンロードができます。無断複写・引用はご遠慮ください。
 ※2. このプリントを活用したオンライン授業のスケジュールは、しながわ・目黒こどもスクールのウェブサイトでご確認ください。



















おうちで、やろう。

















Study at home. 小学校受験の家庭学習教材

















推理：あみだくじ8

















食べ物からあみだくじで進み、ついた場所にそれぞれの記号をかきます。上の四角が条件です。

※あみだくじのルール：①上から下へ進みます。道は戻ってはいけません。②途中で曲がり角があったら必ず曲がります。

※1. このプリントは、しながわ・目黒こどもスクールのウェブサイトでダウンロードができます。無断複写・引用はご遠慮ください。

※2. このプリントを活用したオンライン授業のスケジュールは、しながわ・目黒こどもスクールのウェブサイトでご確認ください。






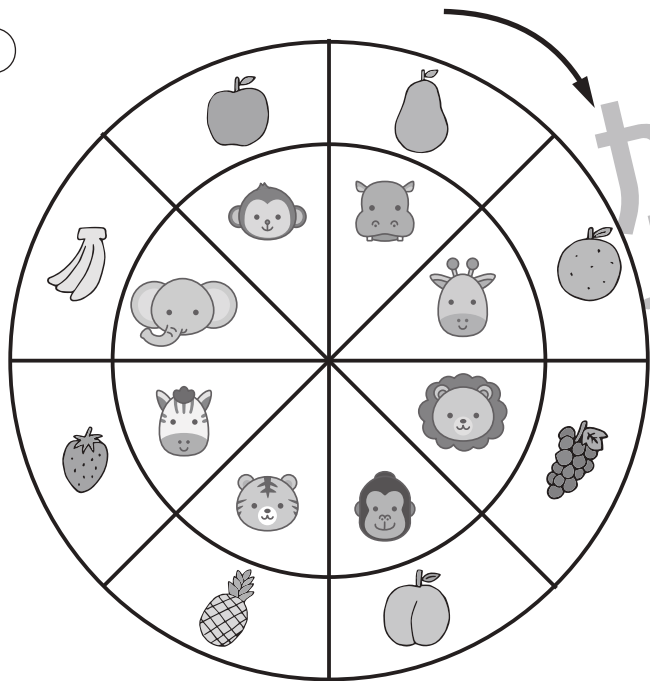
おうちで、やろう。

Study at home. 小学校受験の家庭学習教材

推理：ルーレット1


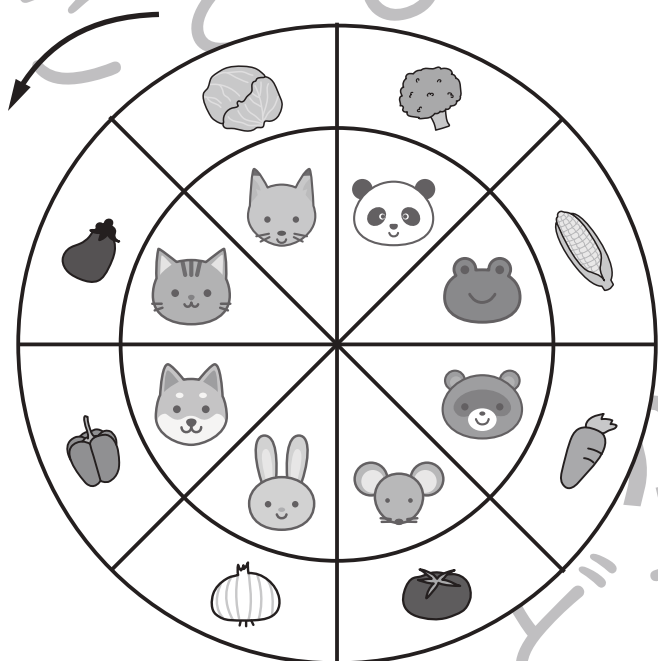
矢印の方向に、動物ルーレットが回ります。サルがブドウの場所に来たとき、ゴリラはどの果物のところに来ますか。右の四角の中にある果物に○をつけましょう。

①



矢印の方向に、動物ルーレットが回ります。パンダがニンジンのところに来た時、ネズミがついた野菜に○、ネコがついた野菜に△を四角の中の野菜にそれぞれの印をつけます。

②



※1. このプリントは、しながわ・目黒こどもスクールのウェブサイトからダウンロードできます。無断複写・引用はご遠慮ください。

※2. このプリントを活用したオンライン授業のスケジュールは、しながわ・目黒こどもスクールのウェブサイトでご確認ください。



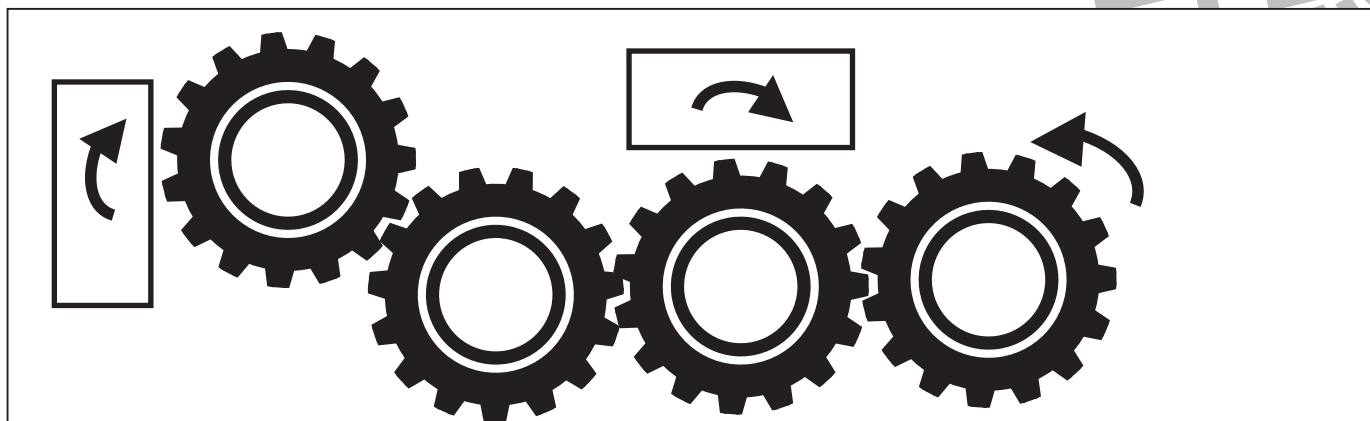






おうちで、やろう。

Study at home. 小学校受験の家庭学習教材

図形：歯車4

歯車がいくつか並んでいます。その中の1つが矢印の方向に進んだ時、四角の近くにある歯車は右回り、左回りどちらに動きますか。動く向きに矢印をかきます。



※1. このプリントは、しながわ・目黒こどもスクールのウェブサイトからダウンロードできます。無断複写・引用はご遠慮ください。

※2. このプリントを活用したオンライン授業のスケジュールは、しながわ・目黒こどもスクールのウェブサイトでご確認ください。




おうちで、やろう。

Study at home. 小学校受験の家庭学習教材

推理：順位付け6

左の家族が右のベンチに座ります。どのベンチに座ったらよいか考えて点と点を線で結びます。



※1. このプリントは、しながわ・目黒こどもスクールのウェブサイトでダウンロードができます。無断複写・引用はご遠慮ください。

※2. このプリントを活用したオンライン授業のスケジュールは、しながわ・目黒こどもスクールのウェブサイトでご確認ください。


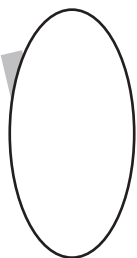

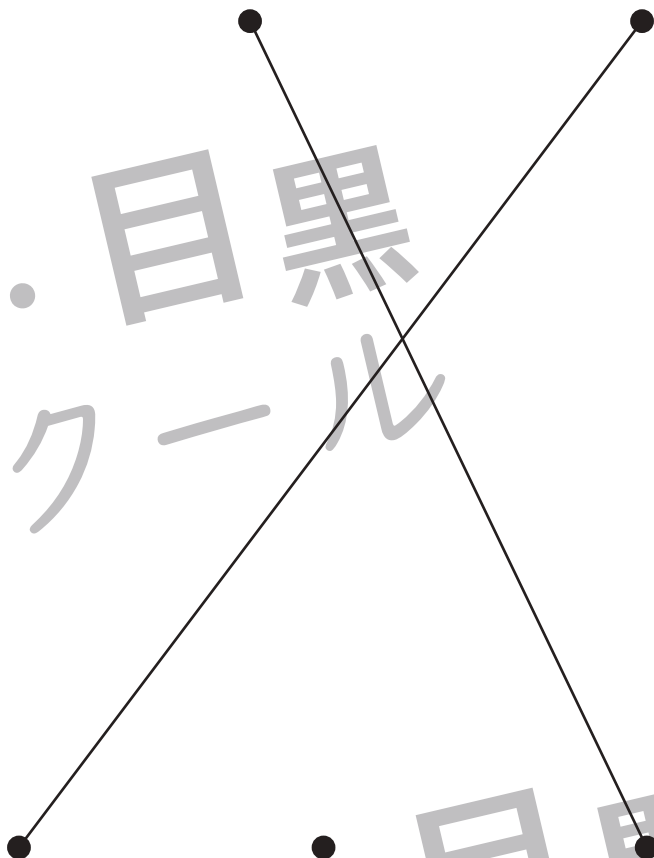
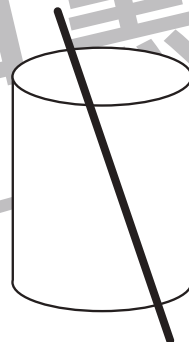
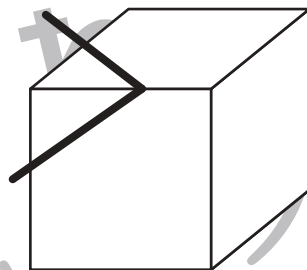

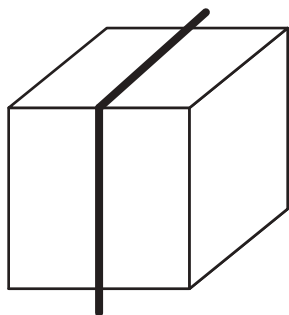


おうちで、やろう。

Study at home. 小学校受験の家庭学習教材

推理：切り口 1

上の段には形の黒い線のところで、切ったとき、切り口がどのように見えるかを考えて下の形と結びます。



※1. このプリントは、しながわ・目黒こどもスクールのウェブサイトでダウンロードができます。無断複写・引用はご遠慮ください。
※2. このプリントを活用したオンライン授業のスケジュールは、しながわ・目黒こどもスクールのウェブサイトでご確認ください。

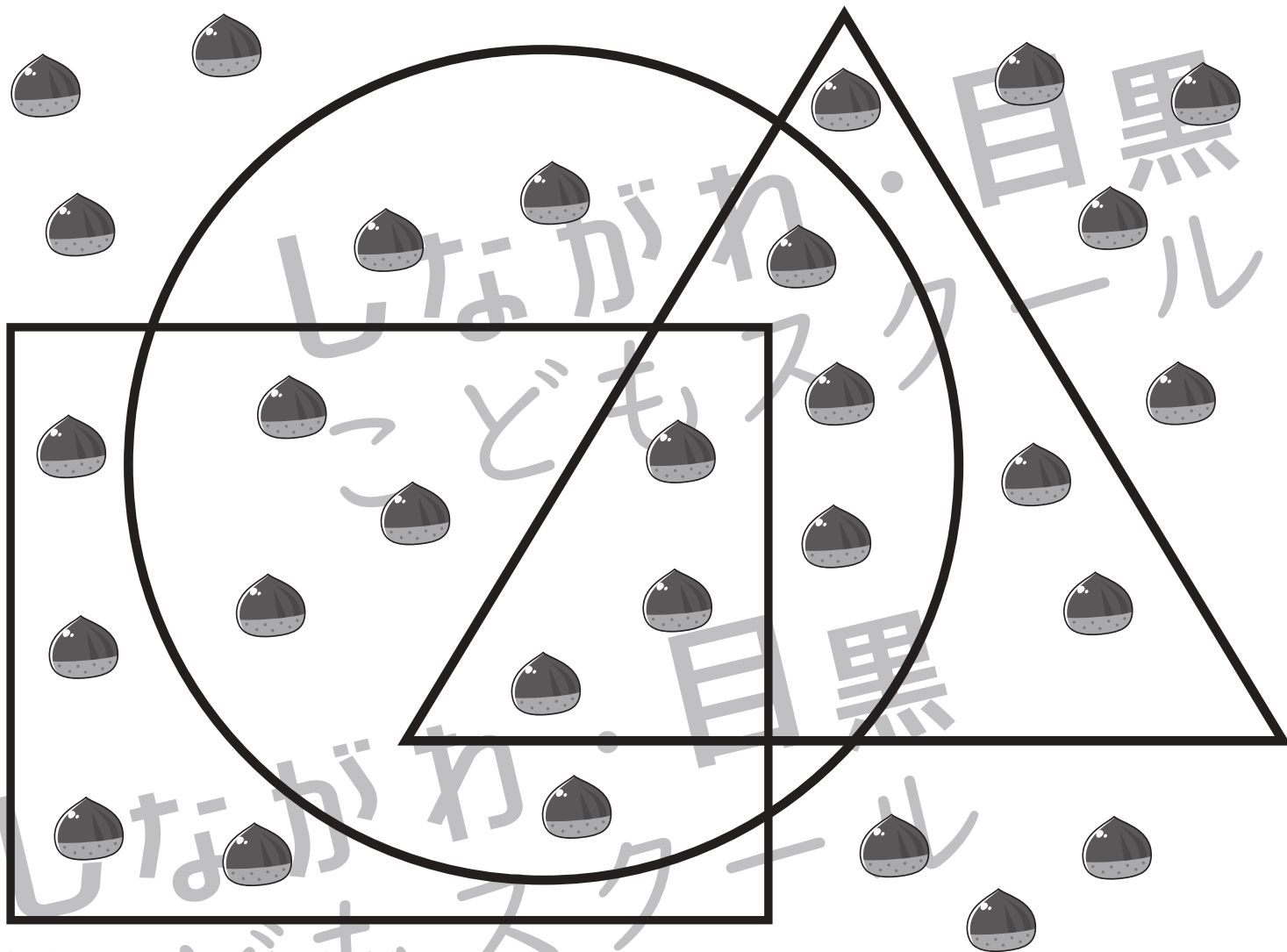


おうちで、やろう。

Study at home. 小学校受験の家庭学習教材

数量：計数 24

○△□の形の中に栗が入っています。お話をよく聞いて問題に答えましょう。



①丸の中に入っている栗の数だけ○をかきましょう。

○×12

②丸と三角が重なっている場所にある栗の数だけ△をかきましょう。

△×6

③丸と三角と四角が重なっている場所にある栗の数だけ□をかきましょう。

□×3

④どの形の中にも入っていない栗の数だけ○をかきましょう。

○×10