





おうちで、やろう。

Study at home. 小学校受験の家庭学習教材

言語：お話づくり 8

4枚の絵でお話づくりをします。順番を考えてお話ししましょう。保護者の方がお子さまのお話した内容を下に記入してください。

<学習のアドバイス>絵の説明だけに終わらないようにすることが大切です。まずは、何をしている様子なのかを考えましょう。人物の名前や、どんな会話をしているか想像してみると、お話の内容が充実していきます。※この問題に正解はありません。



あなたの考えたお話

※1. このプリントは、しながわ・目黒こどもスクールのウェブサイトでダウンロードができます。無断複写・引用はご遠慮ください。
 ※2. このプリントを活用したオンライン授業のスケジュールは、しながわ・目黒こどもスクールのウェブサイトでご確認ください。



おうちで、やろう。

Study at home. 小学校受験の家庭学習教材

言語：お話づくり9

4枚の絵でお話づくりをします。順番を考えてお話ししましょう。保護者の方がお子さまのお話した内容を下に記入してください。

<学習のアドバイス>絵の説明だけに終わらないようにすることが大切です。まずは、何をしている様子なのかを考えましょう。人物の名前や、どんな会話をしているか想像してみると、お話の内容が充実していきます。※この問題に正解はありません。



1まいめ



2まいめ



3まいめ



4まいめ

あなたの考えたお話

※1. このプリントは、しながわ・目黒こどもスクールのウェブサイトでダウンロードができます。無断複写・引用はご遠慮ください。
※2. このプリントを活用したオンライン授業のスケジュールは、しながわ・目黒こどもスクールのウェブサイトでご確認ください。




おうちで、やろう。

Study at home. 小学校受験の家庭学習教材

言語：お話づくり 10

4枚の絵でお話づくりをします。順番を考えてお話ししましょう。保護者の方がお子さまのお話した内容を下に記入してください。

<学習のアドバイス>絵の説明だけに終わらないようにすることが大切です。まずは、何をしている様子なのかを考えましょう。人物の名前や、どんな会話をしているか想像してみると、お話の内容が充実していきます。※この問題に正解はありません。



あなたの考えたお話

※1. このプリントは、しながわ・目黒こどもスクールのウェブサイトでダウンロードができます。無断複写・引用はご遠慮ください。
 ※2. このプリントを活用したオンライン授業のスケジュールは、しながわ・目黒こどもスクールのウェブサイトでご確認ください。



おうちで、やろう。

Study at home. 小学校受験の家庭学習教材

図形：反転 16

左のお手本を上への矢印の向きに回して裏返した時の見え方を考えて、左の四角にかきます。

※1. このプリントは、しながわ・目黒こどもスクールのウェブサイトでダウンロードができます。無断複写・引用はご遠慮ください。
 ※2. このプリントを活用したオンライン授業のスケジュールは、しながわ・目黒こどもスクールのウェブサイトでご確認ください。



おうちで、やろう。

Study at home. 小学校受験の家庭学習教材

図形：反転 17

左のお手本を上への矢印の向きに回して裏返した時の見え方を考えて、左の四角にかきます。

※1. このプリントは、しながわ・目黒こどもスクールのウェブサイトでダウンロードができます。無断複写・引用はご遠慮ください。
 ※2. このプリントを活用したオンライン授業のスケジュールは、しながわ・目黒こどもスクールのウェブサイトでご確認ください。



おうちで、やろう。

Study at home. 小学校受験の家庭学習教材

図形：反転 18

左のお手本を上矢印の向きに回して裏返した時の見え方を考えて、左の四角にかきます。

※1. このプリントは、しながわ・目黒こどもスクールのウェブサイトでダウンロードができます。無断複写・引用はご遠慮ください。
 ※2. このプリントを活用したオンライン授業のスケジュールは、しながわ・目黒こどもスクールのウェブサイトでご確認ください。












おうちで、やろう。

Study at home. 小学校受験の家庭学習教材

推理：シルエット 12

左の太い四角の中は、色々なものが影になっています。四角の中には影がいくつあるのかを数えてその数だけ右の四角に○をかきます。



※1. このプリントは、しながわ・目黒こどもスクールのウェブサイトでダウンロードができます。無断複写・引用はご遠慮ください。
※2. このプリントを活用したオンライン授業のスケジュールは、しながわ・目黒こどもスクールのウェブサイトでご確認ください。













おうちで、やろう。

Study at home. 小学校受験の家庭学習教材

推理：シルエット 13

左の太い四角の中には、ものが影になって重なっています。右の四角の中で、左の四角の中にいないものを見つけて × をつけます。



※1. このプリントは、しながわ・目黒こどもスクールのウェブサイトでダウンロードができます。無断複写・引用はご遠慮ください。
※2. このプリントを活用したオンライン授業のスケジュールは、しながわ・目黒こどもスクールのウェブサイトでご確認ください。













おうちで、やろう。

Study at home. 小学校受験の家庭学習教材

推理：シルエット 14

左の太い四角の中には、動物が影になって重なっています。右の四角の中で、左の四角の中にない動物を見つけて × をつけます。



※1. このプリントは、しながわ・目黒こどもスクールのウェブサイトでダウンロードができます。無断複写・引用はご遠慮ください。
※2. このプリントを活用したオンライン授業のスケジュールは、しながわ・目黒こどもスクールのウェブサイトでご確認ください。






おうちで、やろう。

Study at home. 小学校受験の家庭学習教材

処理：計数 13

上の四角の中の絵の数をかぞえて、下の四角の同じ絵の右にかぞえた数より2つ多い数の○をかきます。
この問題はスピードを意識して取り組む練習をしてみましょう。(1分～1分30秒)



○
×
□
△
◎

※1. このプリントは、しながわ・目黒こどもスクールのウェブサイトからダウンロードできます。無断複写・引用はご遠慮ください。
※2. このプリントを活用したオンライン授業のスケジュールは、しながわ・目黒こどもスクールのウェブサイトでご確認ください。