



# おうちで、やろう。

Study at home. 小学校受験の家庭学習教材

## 図形：反転 16

左のお手本を上への矢印の向きに回して裏返した時の見え方を考えて、左の四角にかきます。

The image shows a 3x4 grid of diamond-shaped puzzles. Each puzzle contains a path of dots connected by lines. The first two columns are identical, and the last two columns are their mirror images across a central vertical line. Each puzzle has a rotation arrow at the top and a small square at the bottom for marking the answer.

※1. このプリントは、しながわ・目黒こどもスクールのウェブサイトでダウンロードができます。無断複写・引用はご遠慮ください。  
 ※2. このプリントを活用したオンライン授業のスケジュールは、しながわ・目黒こどもスクールのウェブサイトでご確認ください。



# おうちで、やろう。

Study at home. 小学校受験の家庭学習教材

図形：反転 17

左のお手本を上矢印の向きに回して裏返した時の見え方を考えて、左の四角にかきます。

※1. このプリントは、しながわ・目黒こどもスクールのウェブサイトでダウンロードができます。無断複写・引用はご遠慮ください。  
 ※2. このプリントを活用したオンライン授業のスケジュールは、しながわ・目黒こどもスクールのウェブサイトでご確認ください。



# おうちで、やろう。

Study at home. 小学校受験の家庭学習教材

図形：反転 18

左のお手本を上への矢印の向きに回して裏返した時の見え方を考えて、左の四角にかきます。

※1. このプリントは、しながわ・目黒こどもスクールのウェブサイトでダウンロードができます。無断複写・引用はご遠慮ください。  
 ※2. このプリントを活用したオンライン授業のスケジュールは、しながわ・目黒こどもスクールのウェブサイトでご確認ください。



# おうちで、やろう。


Study at home. 小学校受験の家庭学習教材

## 推理：シルエット 12


左の太い四角の中は、色々なものが影になっています。四角の中には影がいくつあるのかを数えてその数だけ右の四角に○をかきます。



$$\bigcirc \times 6$$



$$\bigcirc \times 5$$



$$\bigcirc \times 6$$



$$\bigcirc \times 8$$



$$\bigcirc \times 8$$

※1. このプリントは、しながわ・目黒こどもスクールのウェブサイトでダウンロードができます。無断複写・引用はご遠慮ください。  
※2. このプリントを活用したオンライン授業のスケジュールは、しながわ・目黒こどもスクールのウェブサイトでご確認ください。











# おうちで、やろう。

Study at home. 小学校受験の家庭学習教材

## 推理：シルエット 13

左の太い四角の中には、ものが影になって重なっています。右の四角の中で、左の四角の中にいないものを見つけて × をつけます。



※1. このプリントは、しながわ・目黒こどもスクールのウェブサイトからダウンロードできます。無断複写・引用はご遠慮ください。  
※2. このプリントを活用したオンライン授業のスケジュールは、しながわ・目黒こどもスクールのウェブサイトでご確認ください。











# おうちで、やろう。

Study at home. 小学校受験の家庭学習教材

## 推理：シルエット 14

左の太い四角の中には、動物が影になって重なっています。右の四角の中で、左の四角の中にいない動物を見つけて × をつけます。



※1. このプリントは、しながわ・目黒こどもスクールのウェブサイトからダウンロードできます。無断複写・引用はご遠慮ください。  
※2. このプリントを活用したオンライン授業のスケジュールは、しながわ・目黒こどもスクールのウェブサイトでご確認ください。






# おうちで、よろう。

Study at home. 小学校受験の家庭学習教材

処理：計数 13

上の四角の中の絵の数をかぞえて、下の四角の同じ絵の右にかぞえた数より2つ多い数の○をかきます。  
この問題はスピードを意識して取り組む練習をしてみましょう。(1分～1分30秒)



○	○×8
×	○×9
□	○×10
△	○×12
◎	○×7

※1. このプリントは、しながわ・目黒こどもスクールのウェブサイトからダウンロードできます。無断複写・引用はご遠慮ください。  
※2. このプリントを活用したオンライン授業のスケジュールは、しながわ・目黒こどもスクールのウェブサイトでご確認ください。

