









おうちで、やろう。

Study at home. 小学校受験の家庭学習教材

指示の聞き取り 21

それぞれの動物がお話の通りにマスを移動します。

- ①ライオン：上に3つ、左に2つ移動したマスに○をかきます。
- ②イヌ：右端まで移動して下に5つ移動したマスに△をかきます。
- ③サル：左に3つ、上に3つ、左に1つ移動したマスに×をかきます。
- ④クマ：下に3つ、右に4つ、上に2つ移動したマスに◎をかきます。
- ⑤パンダ、ネコ：パンダは右上に真っすぐ進み、ネコは下に真っすぐ進み2匹がぶつかるマスに□をかきます。

※1. このプリントは、しながわ・目黒こどもスクールのウェブサイトからダウンロードできます。無断複写・引用はご遠慮ください。

※2. このプリントを活用したオンライン授業のスケジュールは、しながわ・目黒こどもスクールのウェブサイトでご確認ください。



おうちで、やろう。

Study at home. 小学校受験の家庭学習教材

指示の聞き取り 22


下の四角の中には丸、三角、四角の形があります。①～③の指示通りにすばやく取り組みます。

①好きな丸を2つ青のクーピーで濃く塗り、好きな丸1つを青のクーピーで薄く塗ります。

②すべての四角を緑のクーピーでなぞります。

③すべての三角を赤と黒のクーピーでなぞります。このとき、赤の方が多くなるようになぞります。

※このプリントに解答はありません。



※1. このプリントは、しながわ・目黒こどもスクールのウェブサイトからダウンロードできます。無断複写・引用はご遠慮ください。

※2. このプリントを活用したオンライン授業のスケジュールは、しながわ・目黒こどもスクールのウェブサイトでご確認ください。











おうちで、やろう。














Study at home. 小学校受験の家庭学習教材

言語：音の数 20

上の太い四角の中の動物の音の数を考えます。これがお手本の数です。

下の四角の中の動物が上のどの動物と同じ音の数なのかを考えて、お手本の動物の下にある記号をつけます。

※1. このプリントは、しながわ・目黒こどもスクールのウェブサイトでダウンロードができます。無断複写・引用はご遠慮ください。

※2. このプリントを活用したオンライン授業のスケジュールは、しながわ・目黒こどもスクールのウェブサイトでご確認ください。


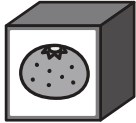





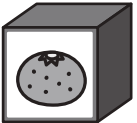

おうちで、やろう。



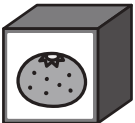
Study at home. 小学校受験の家庭学習教材


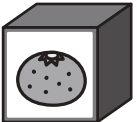

推理：ブラックボックス 18

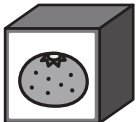


上の太い四角が約束です。左の形が箱の中を通ると約束にしがたって出てきます。どんな約束なのかをよく考えて最後の矢印の後に出てくる形を考えて右の四角にかきます。

○ →  → ×	□ →  → ○
△ →  → □	× →  → △

△ →  →  →  →	
--	--

× →  →  →  →	
--	--

○ →  →  →  →	
--	--

□ →  →  →  →	
--	--

※1. このプリントは、しながわ・目黒こどもスクールのウェブサイトからダウンロードできます。無断複写・引用はご遠慮ください。
 ※2. このプリントを活用したオンライン授業のスケジュールは、しながわ・目黒こどもスクールのウェブサイトでご確認ください。


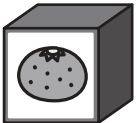

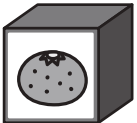





おうちで、やろう。




Study at home. 小学校受験の家庭学習教材


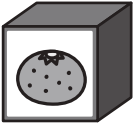

推理：ブラックボックス 19



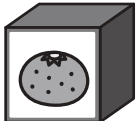
上の太い四角が約束です。左の形が箱の中を通ると約束にしがたって出てきます。どんな約束なのかをよく考えて最後の矢印の後に出てくる形を考えて右の四角にかきます。

× →  → ○	△ →  → ×
□ →  → △	○ →  → □

○ →  →  →  →	
--	--

□ →  →  →  →	
--	--

× →  →  →  →	
--	--

△ →  →  →  →	
--	--

※1. このプリントは、しながわ・目黒こどもスクールのウェブサイトからダウンロードができます。無断複写・引用はご遠慮ください。
 ※2. このプリントを活用したオンライン授業のスケジュールは、しながわ・目黒こどもスクールのウェブサイトでご確認ください。



おうちで、やろう。

Study at home. 小学校受験の家庭学習教材

推理：ブラックボックス 20

上の太い四角が約束です。左の形が箱の中を通ると約束にしがたって出てきます。左の形が最後の矢印の後に出てくるものが右の四角の中にあります。このとき、どの箱を通ってきたのかを考えて、通った箱に○をつけます。

×	→		→	○	□	→		→	×
△	→		→	□	○	→		→	△

△	→		→		→	×
---	---	--	---	--	---	---

○	→		→		→	□
---	---	--	---	--	---	---

□	→		→		→		→	△
---	---	--	---	--	---	--	---	---

×	→		→		→		→	□
---	---	--	---	--	---	--	---	---

※1. このプリントは、しながわ・目黒こどもスクールのウェブサイトからダウンロードできます。無断複写・引用はご遠慮ください。
 ※2. このプリントを活用したオンライン授業のスケジュールは、しながわ・目黒こどもスクールのウェブサイトでご確認ください。



おうちで、やろう。

Study at home. 小学校受験の家庭学習教材

推理：重さ 17

天秤とバネを使って重さ比べをしました。3つのボールの中で一番重いボールはどれですか。右の四角の中のボールに○をつけます。

※1. このプリントは、しながわ・目黒こどもスクールのウェブサイトでダウンロードができます。無断複写・引用はご遠慮ください。

※2. このプリントを活用したオンライン授業のスケジュールは、しながわ・目黒こどもスクールのウェブサイトでご確認ください。



おうちで、やろう。

Study at home. 小学校受験の家庭学習教材

推理：重さ 18

天秤とバネを使って重さ比べをしました。4つのボールの中で一番重いボールはどれですか。右の四角の中のボールに○をつけます。

※1. このプリントは、しながわ・目黒こどもスクールのウェブサイトでダウンロードができます。無断複写・引用はご遠慮ください。

※2. このプリントを活用したオンライン授業のスケジュールは、しながわ・目黒こどもスクールのウェブサイトでご確認ください。



おうちで、やろう。

Study at home. 小学校受験の家庭学習教材

推理：重さ 19

天秤とバネを使って重さ比べをしました。5つのボールの中で一番重いボールに○、一番軽いボールに△をつけます。右の四角の中のボールに○をつけます。

※1. このプリントは、しながわ・目黒こどもスクールのウェブサイトでダウンロードができます。無断複写・引用はご遠慮ください。

※2. このプリントを活用したオンライン授業のスケジュールは、しながわ・目黒こどもスクールのウェブサイトでご確認ください。



おうちで、やろう。

Study at home. 小学校受験の家庭学習教材

処理：多少 4

横に並んだ4つの四角の中の果物のうち数が2番目に多い方の四角に○、数が2番目に少ない四角に×をつけます。
この問題はスピードを意識して取り組む練習をしてみましょう。(1分30秒～2分)

※1. このプリントは、しながわ・目黒こどもスクールのウェブサイトからダウンロードができます。無断複写・引用はご遠慮ください。

※2. このプリントを活用したオンライン授業のスケジュールは、しながわ・目黒こどもスクールのウェブサイトでご確認ください。