

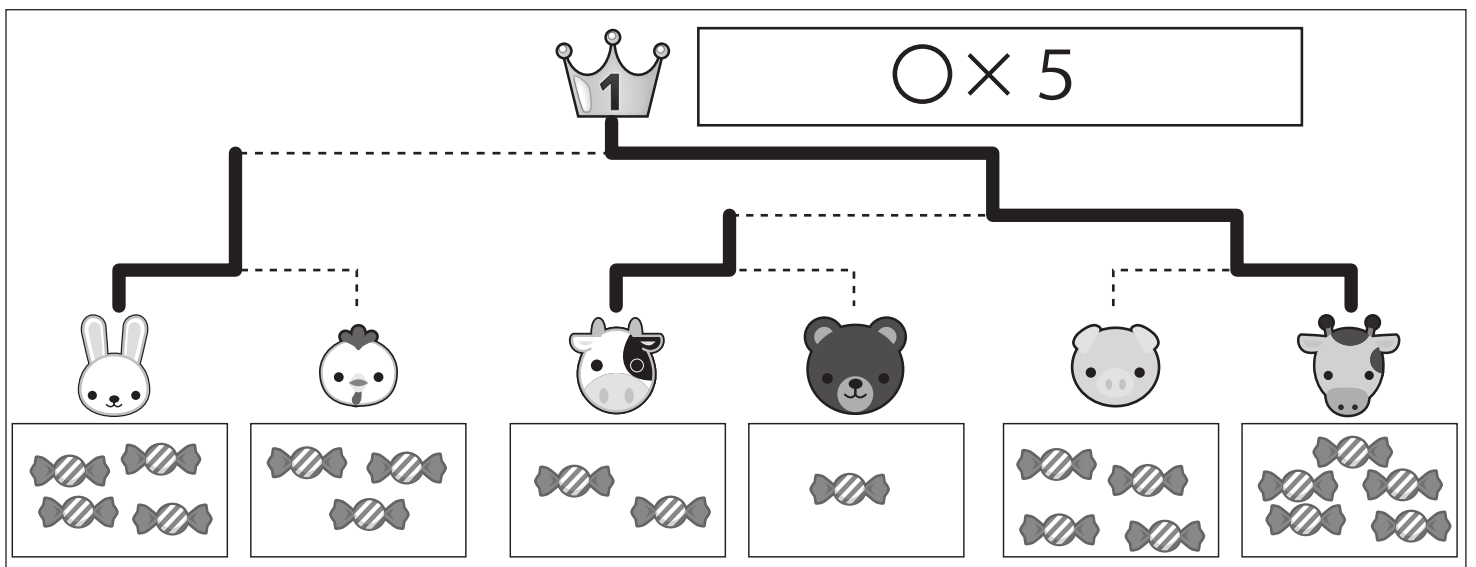
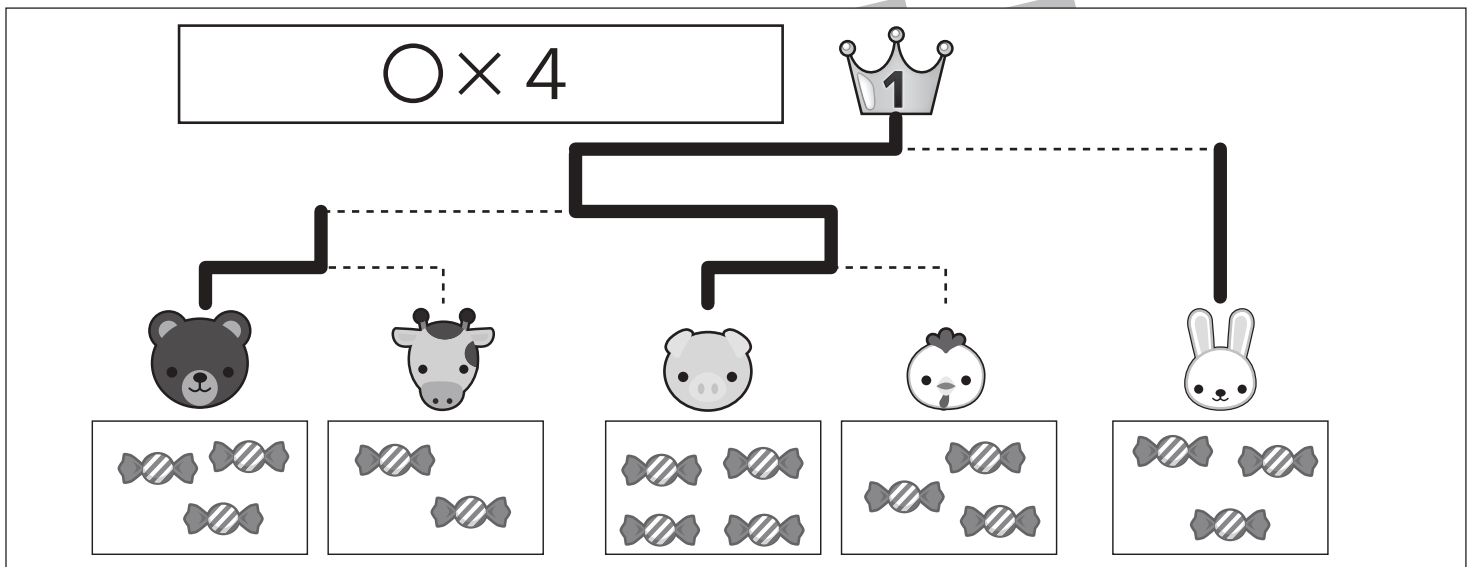
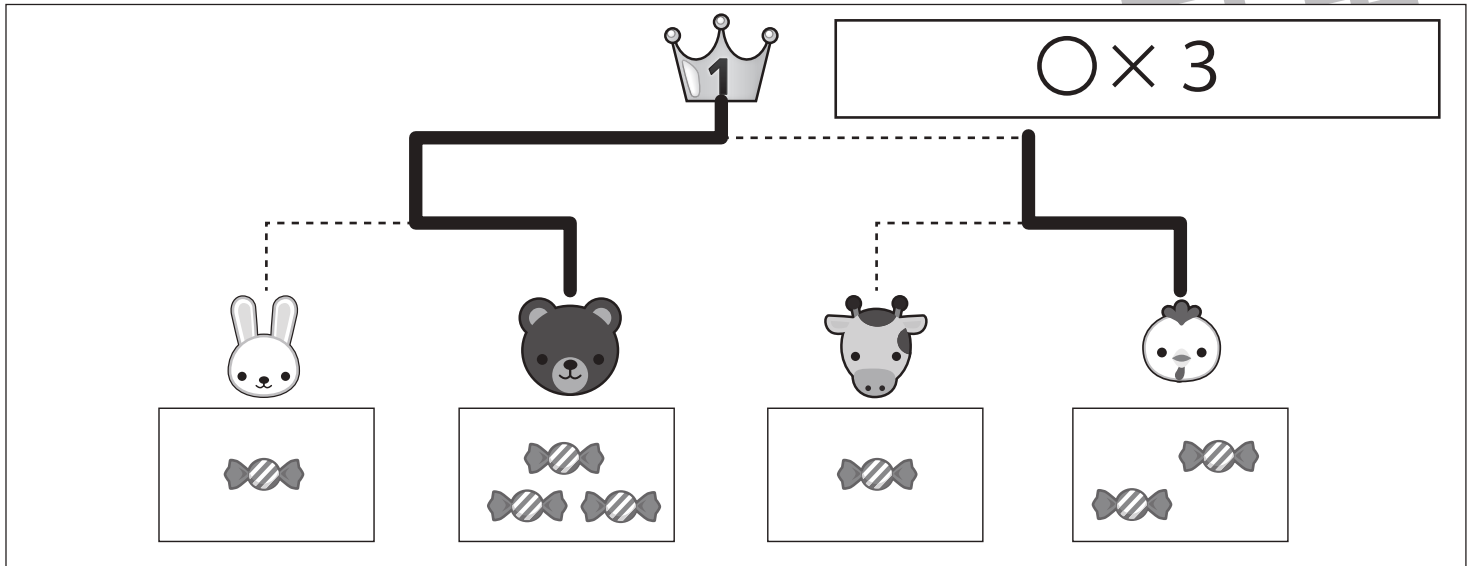


おうちで、やろう。

Study at home. 小学校受験の家庭学習教材

推理：条件推理 35

動物たちがトーナメント勝負をします。トーナメントは点線で結んである2匹の勝負です。勝負はそれぞれの動物たちの持っている飴の数です。飴の数を比べて多い方が勝ちです。勝った動物は次の勝負に進み、点線で結んである動物と勝負します。この約束で順番に勝負をして一番になった動物に○をつけます。そして一番になった動物が持っている飴の数だけ王冠の隣の四角に○をかきます。また、それぞれの動物がどのようにトーナメントを進んだか点線をなぞってみましょう。



※1. このプリントは、しながわ・目黒こどもスクールのウェブサイトでダウンロードができます。無断複写・引用はご遠慮ください。

※2. このプリントを活用したオンライン授業のスケジュールは、しながわ・目黒こどもスクールのウェブサイトでご確認ください。

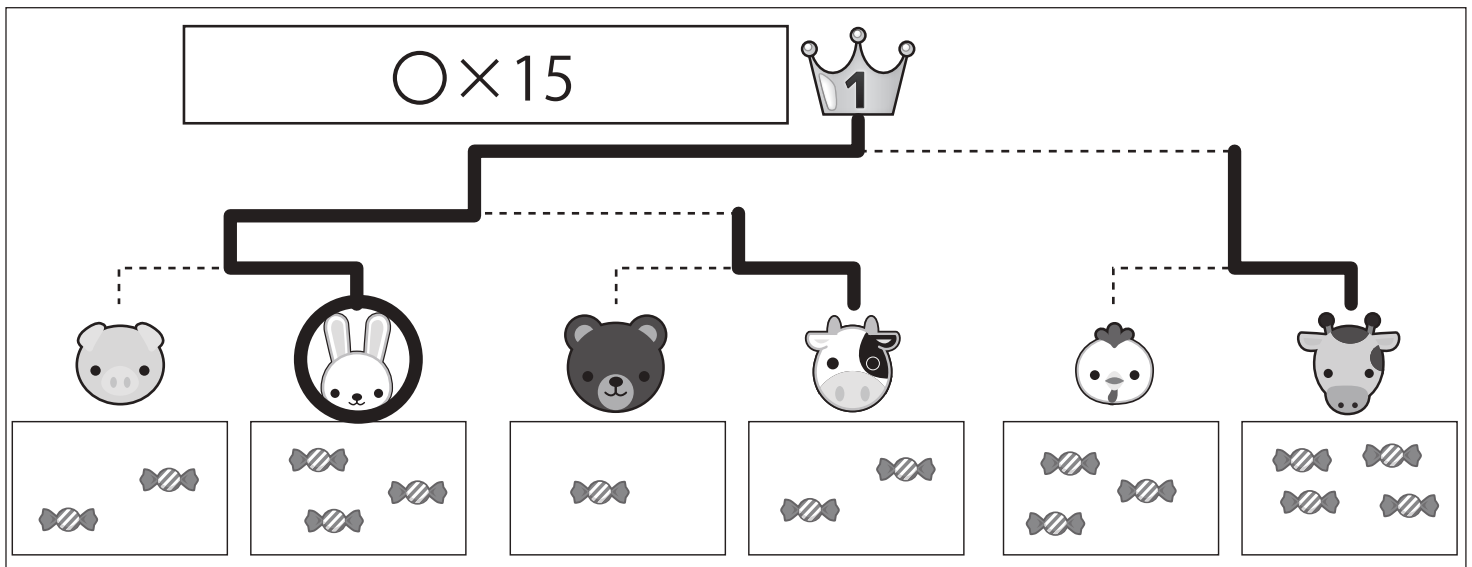
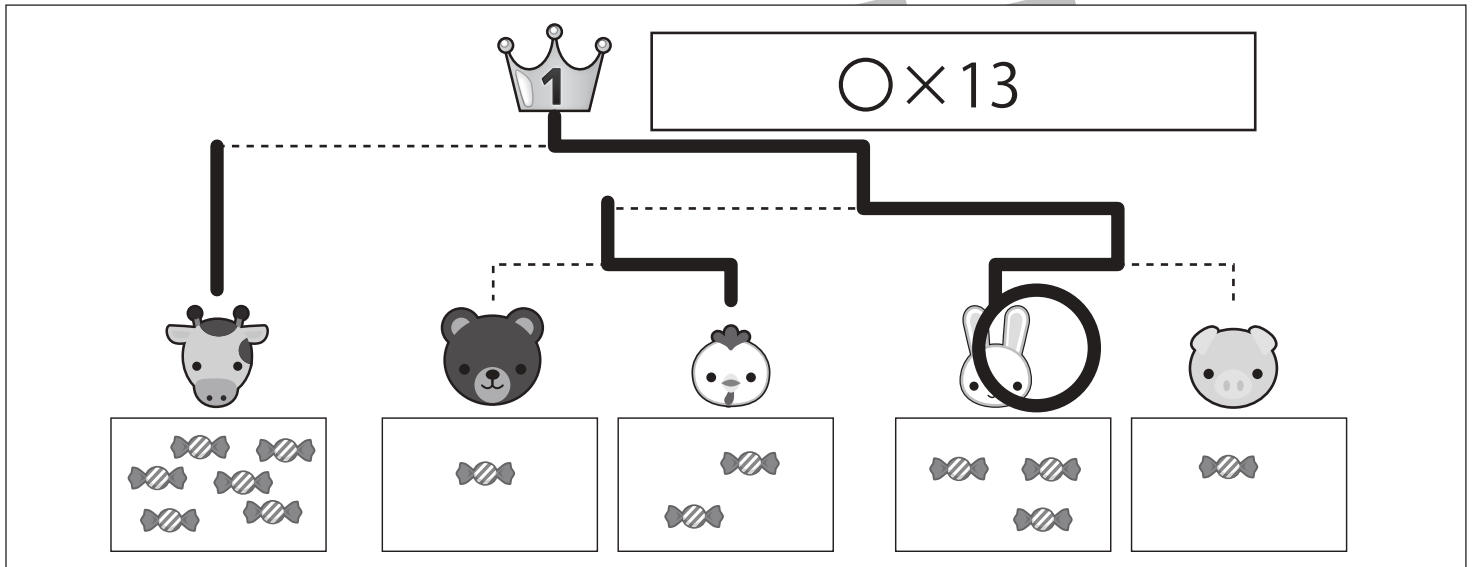
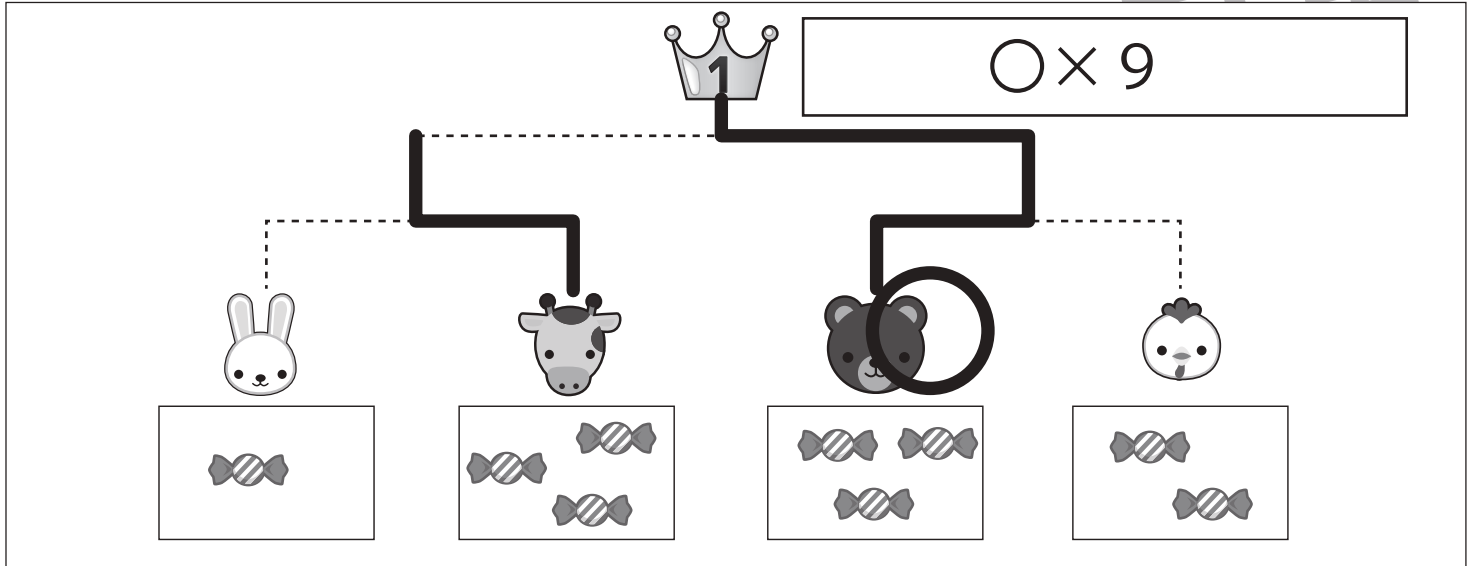


おうちで、やろう。

Study at home. 小学校受験の家庭学習教材

推理：条件推理 36

動物たちがトーナメント勝負をします。トーナメントは点線で結んである2匹の勝負です。勝負はそれぞれの動物たちの持っている飴の数です。飴の数を比べて多い方が勝ちです。勝った動物は負けた動物の持っている飴をもらって次の勝負に進み、点線で結んである動物と勝負します。この約束で順番に勝負をして一番になった動物に○をつけます。そして一番になった動物が持っている飴の数だけ王冠の隣ある四角に○をかきます。また、それぞれの動物がどのようにトーナメントを進んだか点線をなぞってみましょう。



※1. このプリントは、しながわ・目黒こどもスクールのウェブサイトでダウンロードができます。無断複写・引用はご遠慮ください。

※2. このプリントを活用したオンライン授業のスケジュールは、しながわ・目黒こどもスクールのウェブサイトでご確認ください。

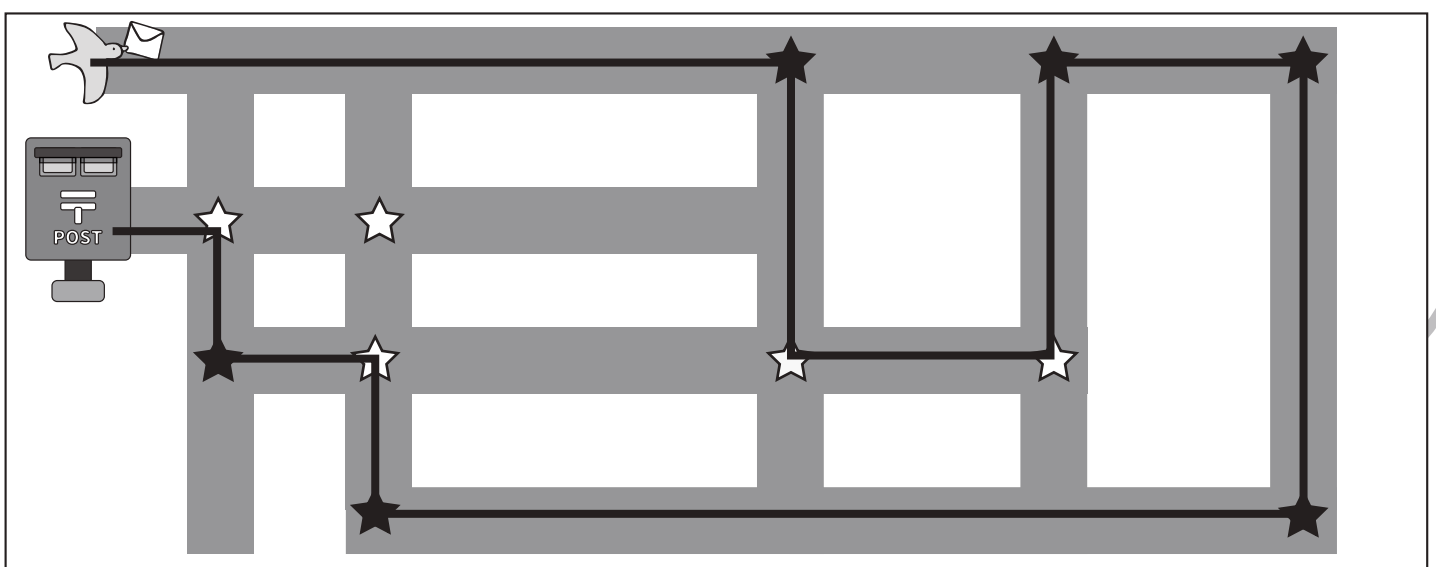
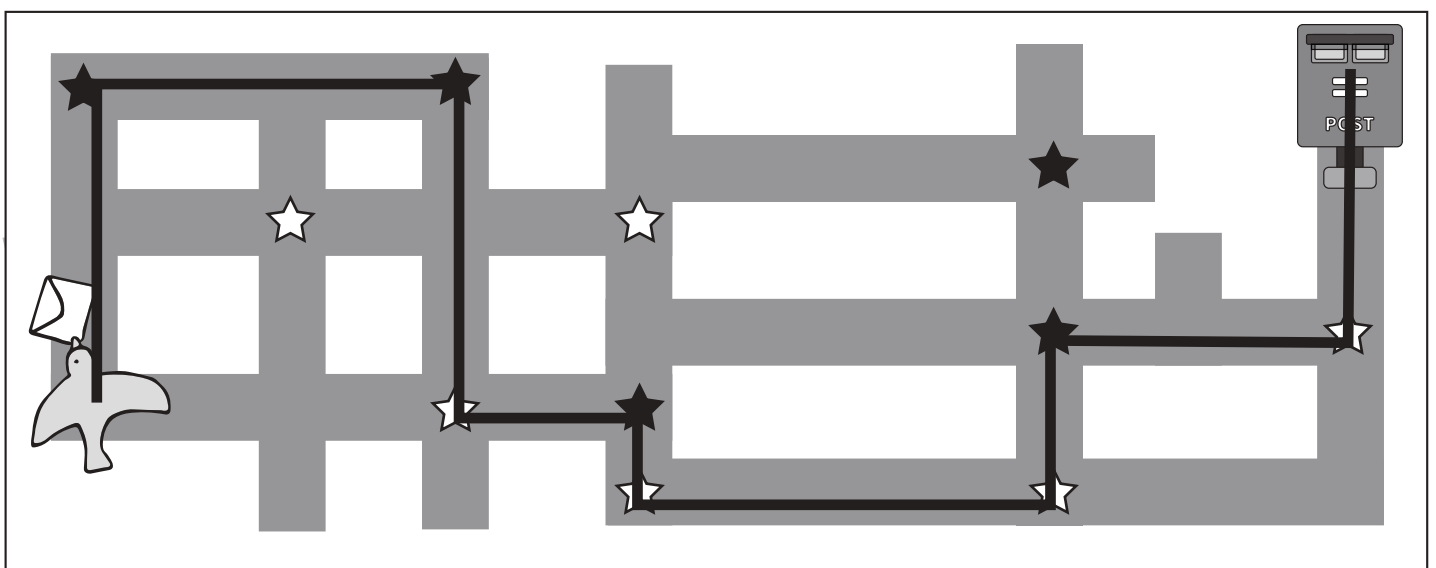
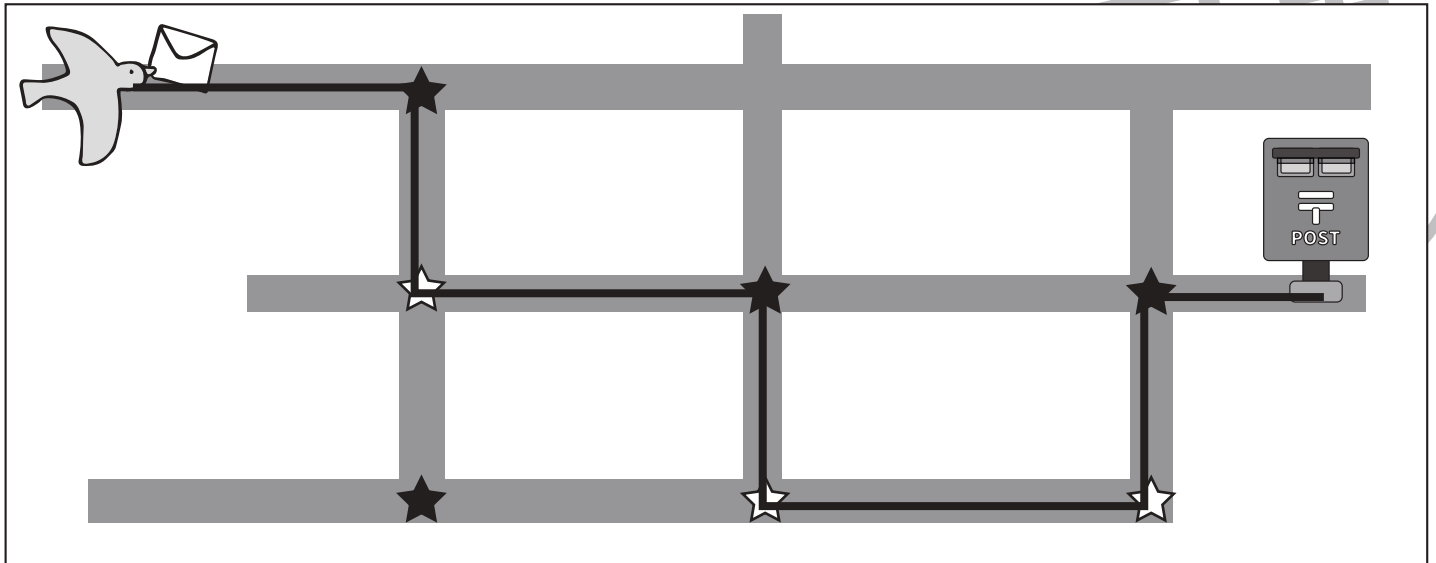


おうちで、やろう。

Study at home. 小学校受験の家庭学習教材

推理：地図の移動 5

鳥がポストまで手紙を運びます。鳥は今、向いている方向へまっすぐ進み、途中の黒い星のマークのある曲がり角では右へ、白い星のマークがある曲がり角では左へまがります。星のマークがない角はそのまま真っすぐ進みます。この約束で鳥がポストに行く道を考えて線をかきます。



※1. このプリントは、しながわ・目黒こどもスクールのウェブサイトからダウンロードできます。無断複写・引用はご遠慮ください。
※2. このプリントを活用したオンライン授業のスケジュールは、しながわ・目黒こどもスクールのウェブサイトでご確認ください。



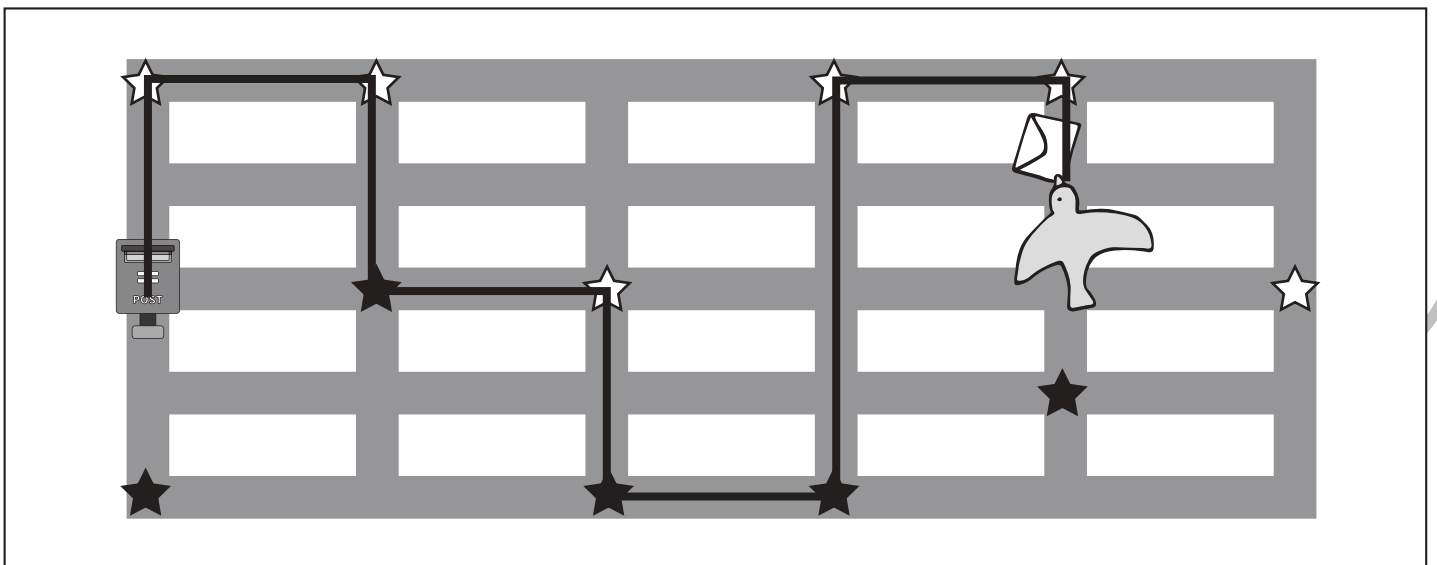
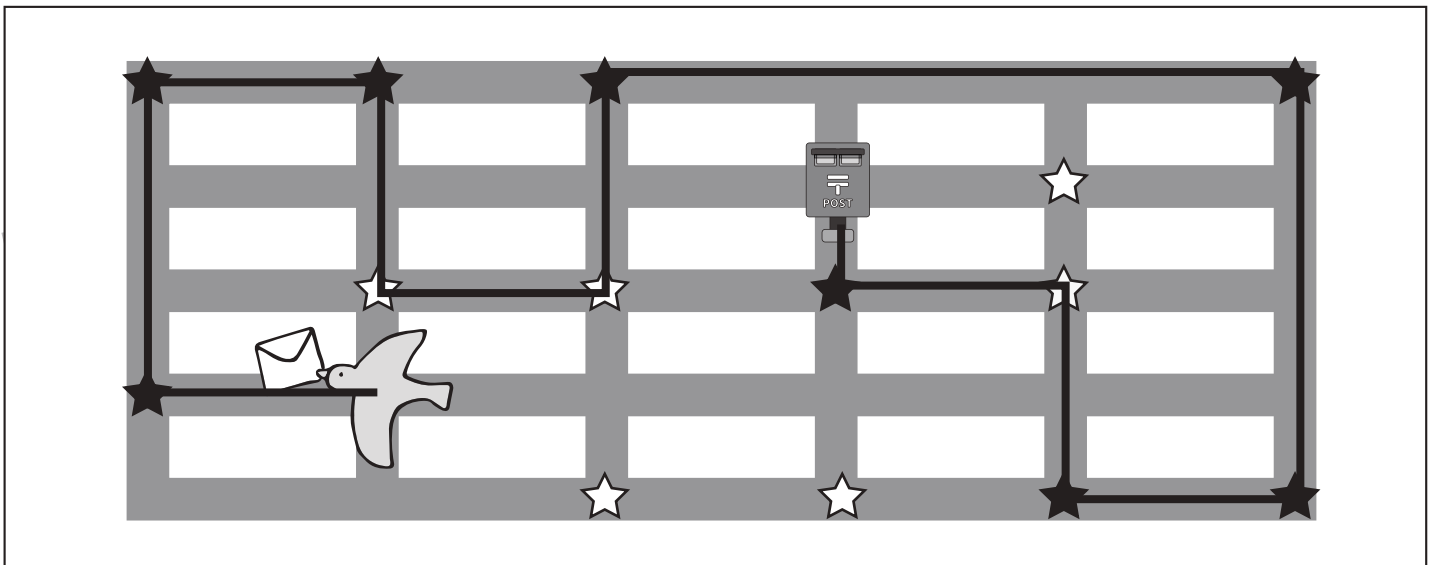
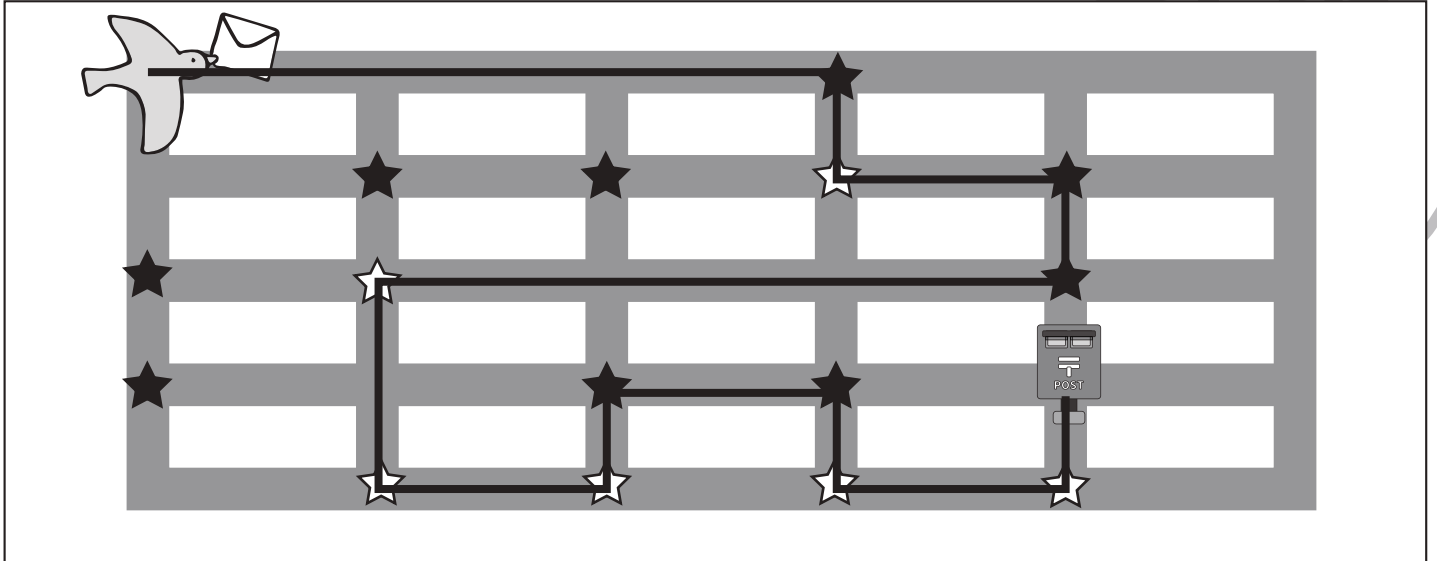


おうちで、やろう。

Study at home. 小学校受験の家庭学習教材

推理：地図の移動6

鳥がポストまで手紙を運びます。鳥は今、向いている方向へまっすぐ進み、途中の黒い星のマークのある曲がり角では右へ、白い星のマークがある曲がり角では左へまがります。星のマークがない角はそのまま真っすぐ進みます。この約束で鳥がポストに行く道を考えて線をかきます。



※1. このプリントは、しながわ・目黒こどもスクールのウェブサイトからダウンロードできます。無断複写・引用はご遠慮ください。

※2. このプリントを活用したオンライン授業のスケジュールは、しながわ・目黒こどもスクールのウェブサイトでご確認ください。

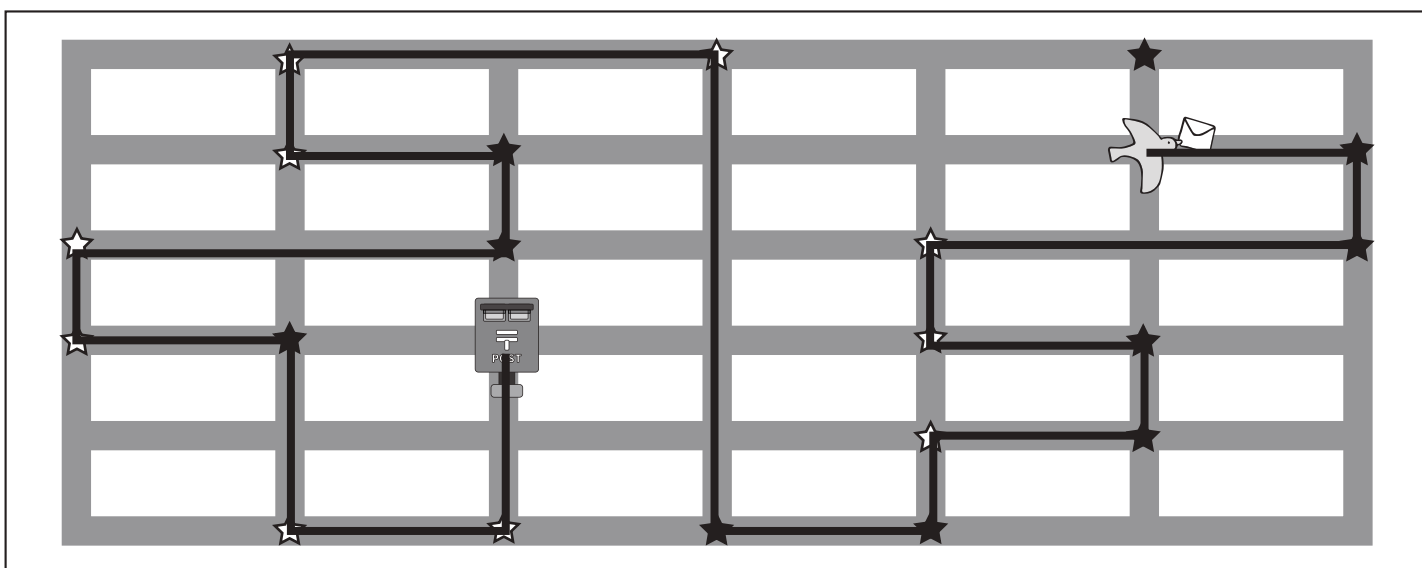
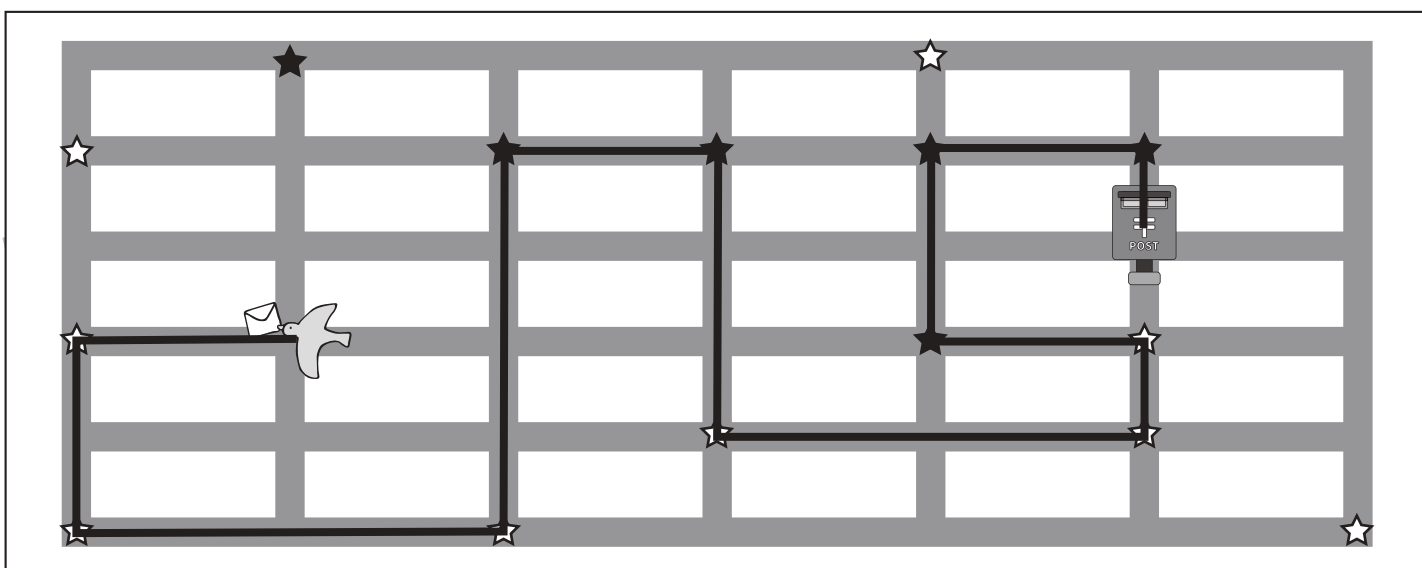
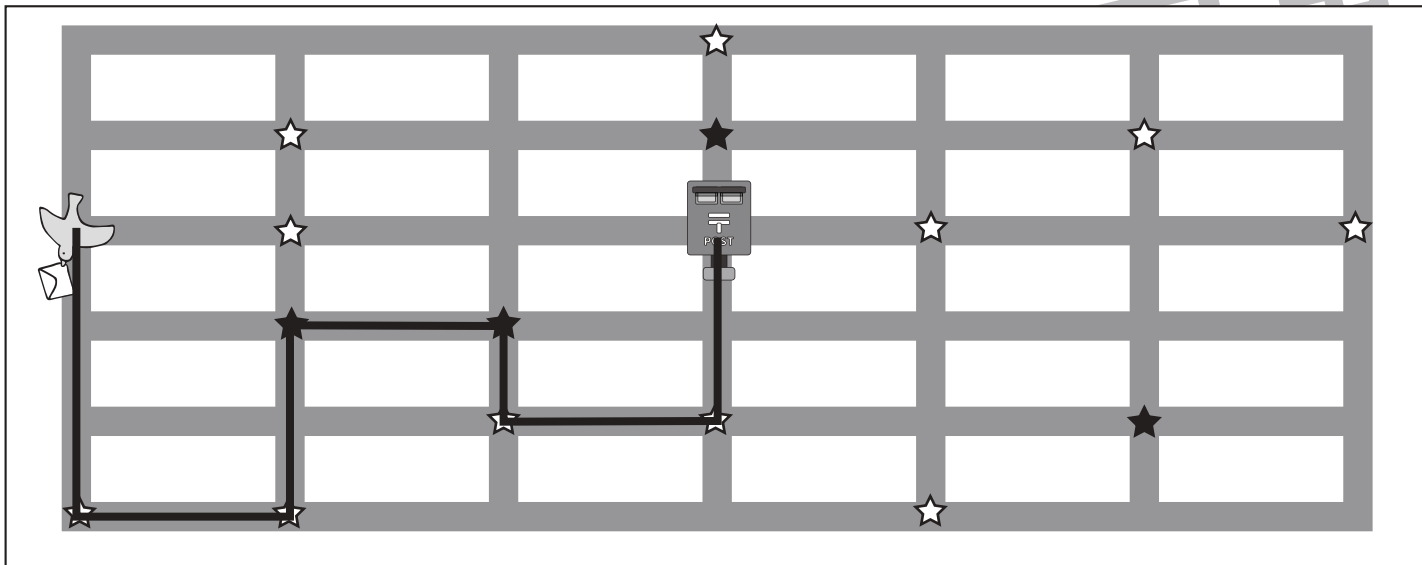


おうちで、やろう。

Study at home. 小学校受験の家庭学習教材

推理：地図の移動 7

鳥がポストまで手紙を運びます。鳥は今、向いている方向へまっすぐ進み、途中の黒い星のマークのある曲がり角では右へ、白い星のマークがある曲がり角では左へまがります。星のマークがない角はそのまま真っすぐ進みます。この約束で鳥がポストに行く道を考えて線をかきます。



※1. このプリントは、しながわ・目黒こどもスクールのウェブサイトでダウンロードができます。無断複写・引用はご遠慮ください。

※2. このプリントを活用したオンライン授業のスケジュールは、しながわ・目黒こどもスクールのウェブサイトでご確認ください。



おうちで、やろう。

Study at home. 小学校受験の家庭学習教材

数量：広さ 22

左の四角の中の灰色の部分の広さを考えます。

右の四角の中で灰色の部分の広さが左の四角の中と同じ広さのものを見つけて○をつけます。

※1. このプリントは、しながわ・目黒こどもスクールのウェブサイトでダウンロードができます。無断複写・引用はご遠慮ください。

※2. このプリントを活用したオンライン授業のスケジュールは、しながわ・目黒こどもスクールのウェブサイトでご確認ください。



おうちで、やろう。

Study at home. 小学校受験の家庭学習教材

数量：広さ 23

左の四角の中の灰色の部分の広さを考えます。

右の四角の中で灰色の部分の広さが左の四角の中と同じ広さのものを見つけて○をつけます。

※1. このプリントは、しながわ・目黒こどもスクールのウェブサイトでダウンロードができます。無断複写・引用はご遠慮ください。

※2. このプリントを活用したオンライン授業のスケジュールは、しながわ・目黒こどもスクールのウェブサイトでご確認ください。



おうちで、やろう。

Study at home. 小学校受験の家庭学習教材

数量：広さ 24

左の四角の中の灰色の部分の広さを考えます。

右の四角の中で灰色の部分の広さが左の四角の中と同じ広さのものを見つけて○をつけます。

※1. このプリントは、しながわ・目黒こどもスクールのウェブサイトでダウンロードができます。無断複写・引用はご遠慮ください。

※2. このプリントを活用したオンライン授業のスケジュールは、しながわ・目黒こどもスクールのウェブサイトでご確認ください。








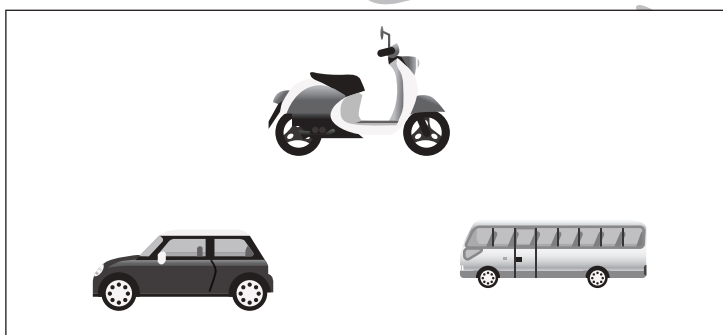




おうちで、やろう。

Study at home. 小学校受験の家庭学習教材

数量：タイヤの数1

左の四角の中の乗り物のタイヤの数を合わせるといくつになりますか。その数だけ右の四角の中のタイヤを囲みます。



※1. このプリントは、しながわ・目黒こどもスクールのウェブサイトでダウンロードができます。無断複写・引用はご遠慮ください。
※2. このプリントを活用したオンライン授業のスケジュールは、しながわ・目黒こどもスクールのウェブサイトでご確認ください。









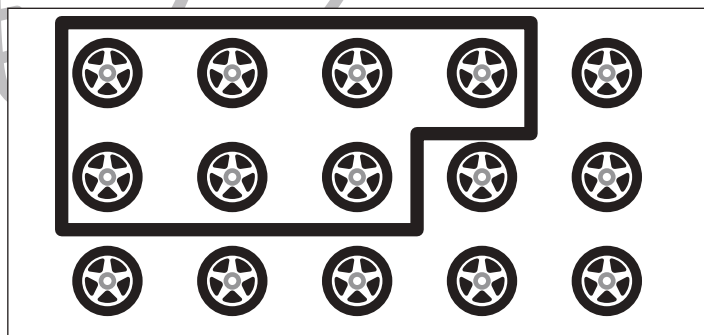

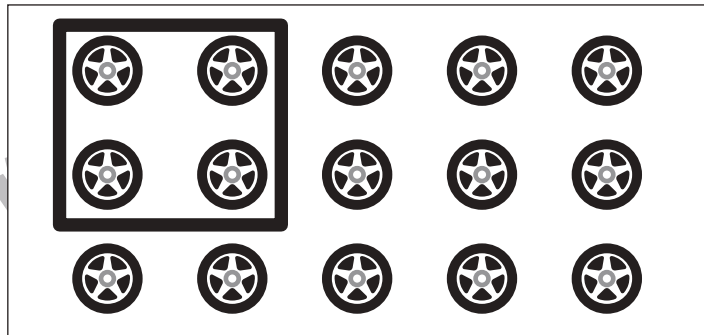



おうちで、やろう。

Study at home. 小学校受験の家庭学習教材

数量：タイヤの数2

左の四角の中の乗り物があります。同じ枠にいる人が吹き出しの中の乗り物に乗って出かけていくようです。左の四角の中の乗り物を借りて出掛けると、残った乗り物のタイヤの数は合わせていくつですか。その数だけ右の四角のタイヤを囲みます。



※1. このプリントは、しながわ・目黒こどもスクールのウェブサイトでダウンロードができます。無断複写・引用はご遠慮ください。

※2. このプリントを活用したオンライン授業のスケジュールは、しながわ・目黒こどもスクールのウェブサイトでご確認ください。

