





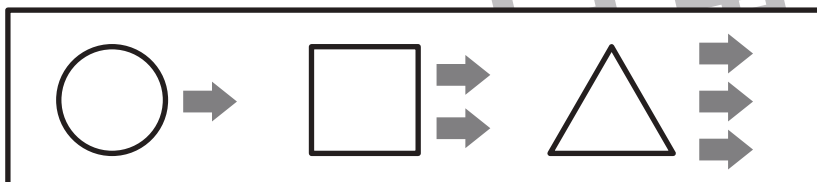
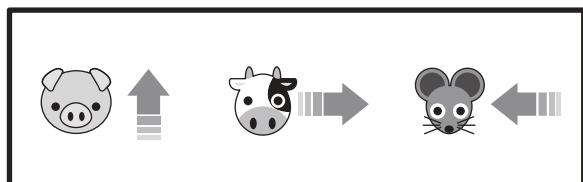


おうちで、やろう。

Study at home. 小学校受験の家庭学習教材

図形：移動 49

上の太枠に約束があります。左の太枠は進む向きを表しています。ブタは上に、ウシは右に、ネズミは左に進む約束です。右の太枠は進むかすを表しています。○は1回、□は2回、△は3回進みます。問題の上の①～④の数字の横に、記号の中に動物が描かれたものがいくつかあります。このマークは左から見ていきます。進む向きと進むかすをよく考えて、★の場所からスタートしてどこに着くかを答えます。辿り着くマスに×印を付けましょう。



※1. このプリントは、しながわ・目黒こどもスクールのウェブサイトでダウンロードができます。無断複写・引用はご遠慮ください。
※2. このプリントを活用したオンライン授業のスケジュールは、しながわ・目黒こどもスクールのウェブサイトでご確認ください。

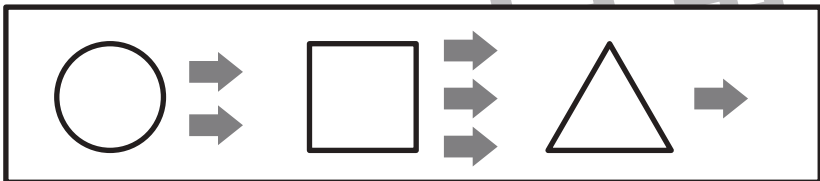



おうちで、やろう。

Study at home. 小学校受験の家庭学習教材

図形：移動 50

上の太枠に約束があります。左の太枠は進む向きを表しています。フタは下に、ウシは上に、ネズミは右に進む約束です。右の太枠は進むかすを表しています。○は2回、□は3回、△は1回進みます。問題の上の①～④の数字の横に、記号の中に動物が描かれたものがいくつかあります。このマークは左から見ていきます。進む向きと進むかすをよく考えて、★の場所からスタートしてどこに着くかを答えます。辿り着くマスに×印を付けましょう。



★					



	★				



		★			



★					

※1. このプリントは、しながわ・目黒こどもスクールのウェブサイトでダウンロードができます。無断複写・引用はご遠慮ください。
※2. このプリントを活用したオンライン授業のスケジュールは、しながわ・目黒こどもスクールのウェブサイトでご確認ください。





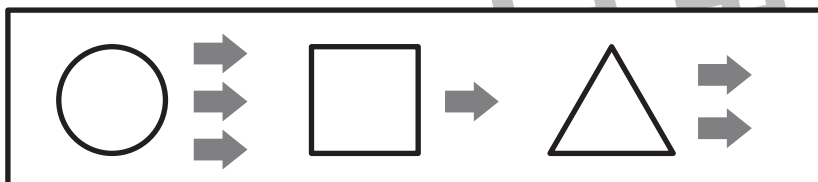



おうちで、やろう。

Study at home. 小学校受験の家庭学習教材

図形：移動51

上の太枠に約束があります。左の太枠は進む向きを表しています。フタは右上に、ウシは左に、ネズミは下に進む約束です。右の太枠は進むかすを表しています。○は3回、□は1回、△は2回進みます。問題の上の①～④の数字の横に、記号の中に動物が描かれたものがいくつかあります。このマークは左から見ていきます。進む向きと進むかすをよく考えて、★の場所からスタートしてどこに着くかを答えます。辿り着くマスに×印を付けましょう。



※1. このプリントは、しながわ・目黒こどもスクールのウェブサイトでダウンロードができます。無断複写・引用はご遠慮ください。
※2. このプリントを活用したオンライン授業のスケジュールは、しながわ・目黒こどもスクールのウェブサイトでご確認ください。



おうちで、やろう。

Study at home. 小学校受験の家庭学習教材

推理：条件推理 37

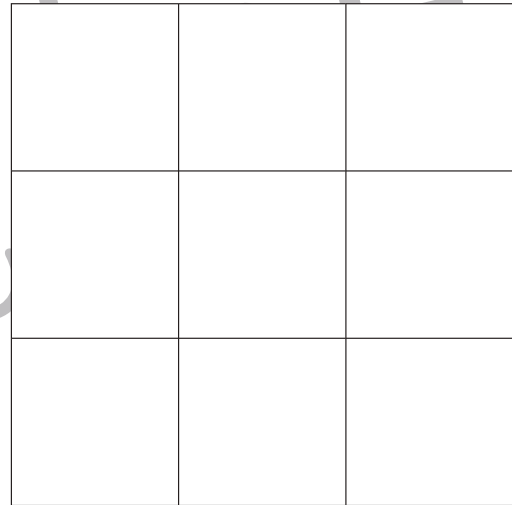
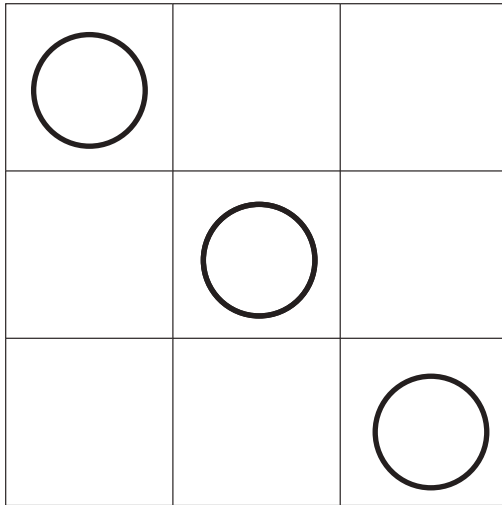
9マスある四角の中を2色使って1マスずつ色を塗ります。ただし、それぞれ上、下、右、左のマスが同じ色にならないように塗ります。この約束で①～③の指示通りになるように塗っていきます。答えはまず、左マスを塗ります。もし間違えてしまった場合は右のマスを塗りましょう。

①赤と黒のクーピーを使います。○のマスは黒で塗ります。残りは約束どおりに塗ります。


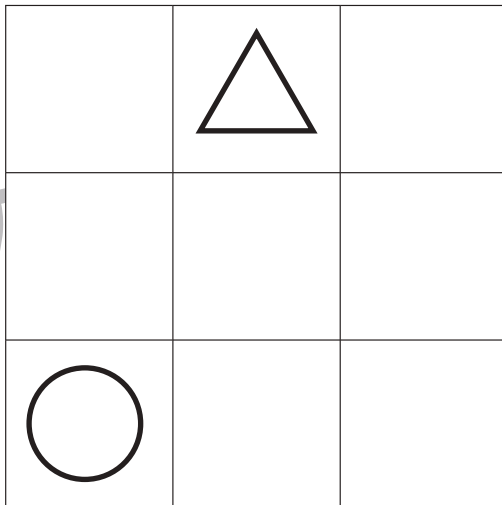
②青と緑のクーピーを使います。○は青で塗り、△は緑で塗ります。残りは約束どおりに塗ります。

③オレンジと黄色のクーピーを使います。○はオレンジで塗ります。残りは約束どおりに塗ります。


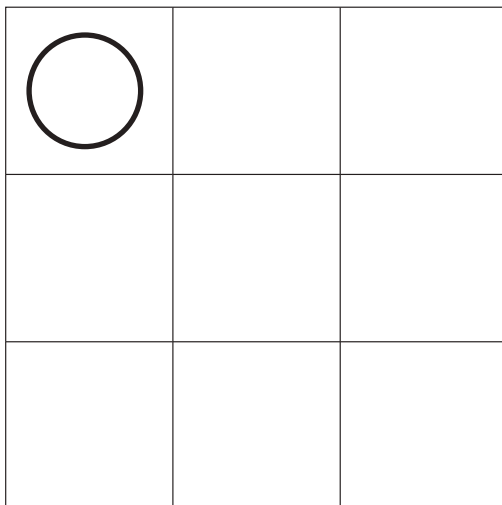
①



②



③



※1. このプリントは、しながわ・目黒こどもスクールのウェブサイトでダウンロードができます。無断複写・引用はご遠慮ください。

※2. このプリントを活用したオンライン授業のスケジュールは、しながわ・目黒こどもスクールのウェブサイトでご確認ください。



おうちで、やろう。


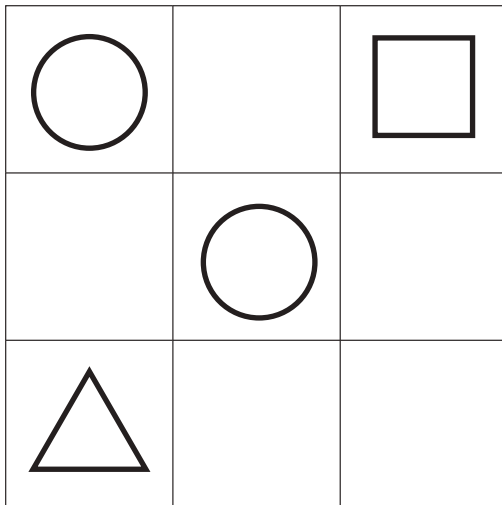
Study at home. 小学校受験の家庭学習教材

推理：条件推理 38


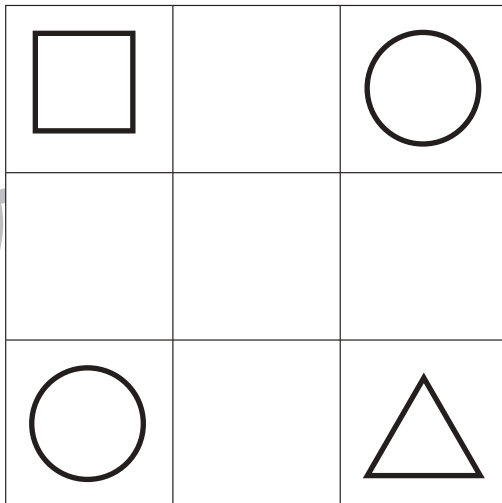
9マスある四角の中を3色使って1マスずつ色を塗ります。ただし、それぞれ上、下、右、左のマスが同じ色にならないように塗ります。このとき、それぞれの色で塗れるマスは3マスずつです。この約束で①～③の指示通りになるように塗っていきます。答えはまず、左マスを塗ります。もし間違えてしまった場合は右のマスを塗りましょう。

- ①青、水色、紫のクーピーを使います。○のマスは青で塗り、△は水色で塗り、□は紫色で塗ります。残りは約束どおりに塗ります。
- ②緑、黄緑、橙色のクーピーを使います。○は緑で塗り、△は黄緑で塗り、□は橙色で塗ります。残りは約束どおりに塗ります。
- ③赤、桃色、茶色のクーピーを使います。○は桃色で塗り、□は茶色で塗ります。残りは約束どおりに塗ります。


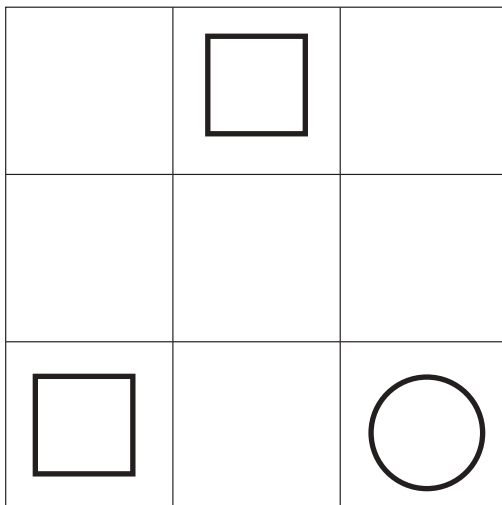
①



②



③



※1. このプリントは、しながわ・目黒こどもスクールのウェブサイトでダウンロードができます。無断複写・引用はご遠慮ください。
 ※2. このプリントを活用したオンライン授業のスケジュールは、しながわ・目黒こどもスクールのウェブサイトでご確認ください。




おうちで、やろう。

Study at home. 小学校受験の家庭学習教材

数量：複合 9

上の大きな四角の中の絵は家の中の様子です。このとき①～④の問題に答えましょう。

- ①子どもと大人の数の違いはいくつですか。その数だけ〇をかきます。
- ②これからみんなでおやつにします。子どもたちに2枚ずつクッキーを配ります。全部で何枚必要ですか。
- ③これからみんなでおやつにします。大人のクッキーは8枚あります。
みんなで仲良く同じ数になるように配ったとき、1人分のクッキーの数だけ〇をかきます。
- ④おやつを食べ終わると、他にもお友だちが3人来ました。でも時間になったので2人帰りました。
今、家の中にいる子どもの数だけ〇をかきます。



①

②

③

④

※1. このプリントは、しながわ・目黒こどもスクールのウェブサイトからダウンロードできます。無断複写・引用はご遠慮ください。
 ※2. このプリントを活用したオンライン授業のスケジュールは、しながわ・目黒こどもスクールのウェブサイトでご確認ください。

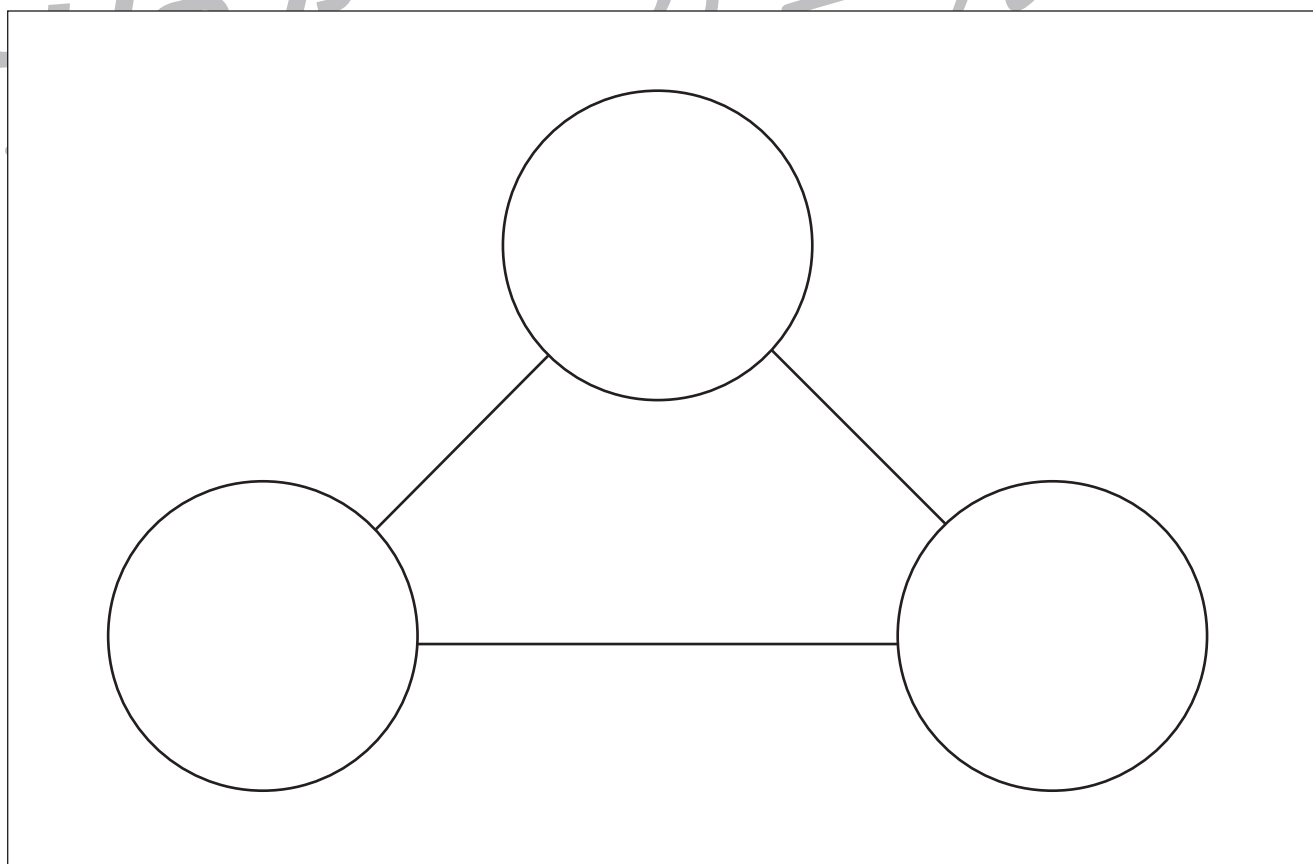
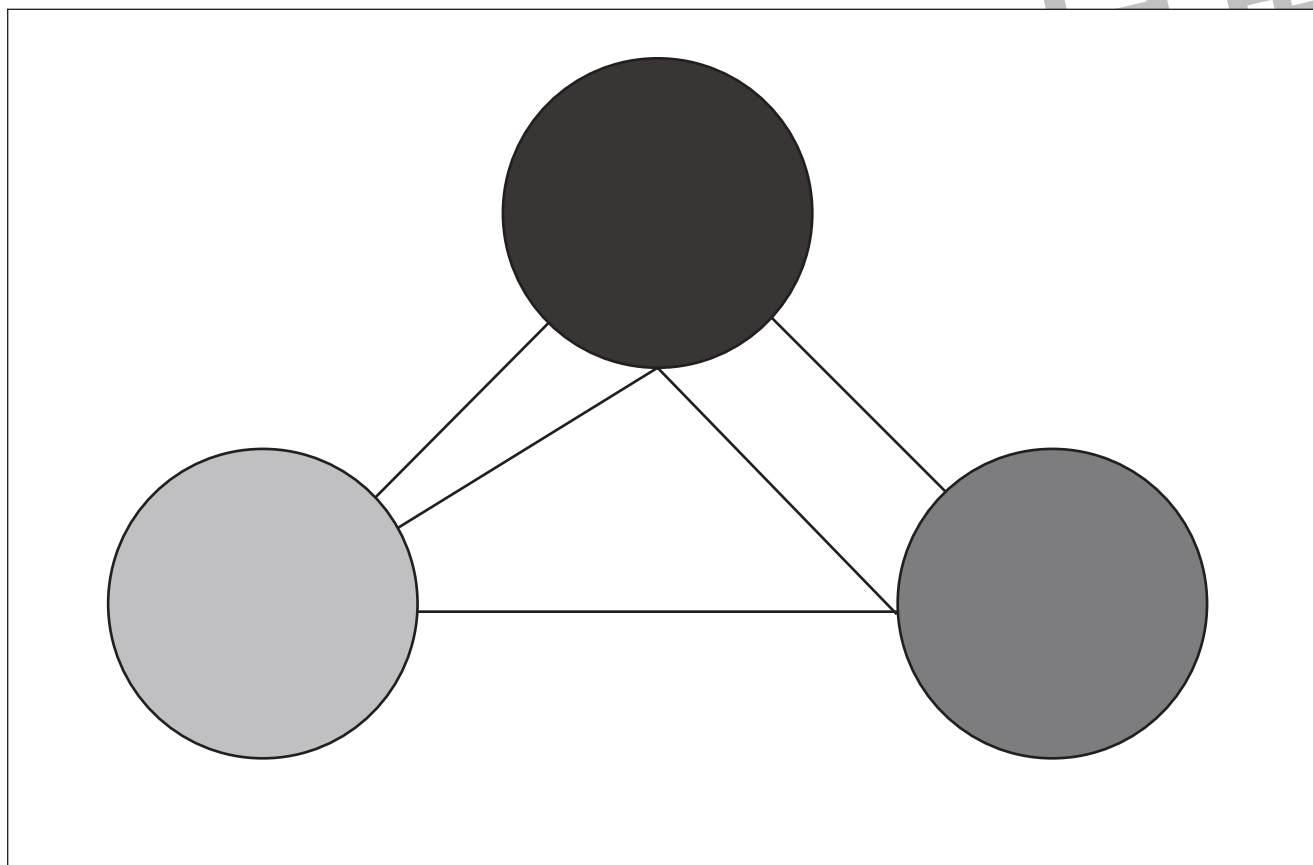


おうちで、やろう。

Study at home. 小学校受験の家庭学習教材

運筆：模写 10

上のお手本と同じになるように足りない形や線、色を塗りましょう。
※この問題に解答はありません。



※1. このプリントは、しながわ・目黒こどもスクールのウェブサイトでダウンロードができます。無断複写・引用はご遠慮ください。
※2. このプリントを活用したオンライン授業のスケジュールは、しながわ・目黒こどもスクールのウェブサイトでご確認ください。



おうちで、やろう。

Study at home. 小学校受験の家庭学習教材

処理：運筆 20

壁にぶつからないように一周線をかきます。どこからはじめてもよいのできれいな線をかきましょう。

この問題はスピードを意識して取り組む練習をしてみましょう。

※えんぴつ、クーピー、水性ペンなどをしましょう。 ※この問題に解答はありません。



※1. このプリントは、しながわ・目黒こどもスクールのウェブサイトでダウンロードができます。無断複写・引用はご遠慮ください。

※2. このプリントを活用したオンライン授業のスケジュールは、しながわ・目黒こどもスクールのウェブサイトでご確認ください。



おうちで、やろう。



Study at home. 小学校受験の家庭学習教材

処理：運筆 21

壁にぶつからないように一周線をかきます。どこからはじめてもよいのできれいな線をかきましょう。

この問題はスピードを意識して取り組む練習をしてみましょう。

※えんぴつ、クーピー、水性ペンなどをしましょう。 ※この問題に解答はありません。



※1. このプリントは、しながわ・目黒こどもスクールのウェブサイトでダウンロードができます。無断複写・引用はご遠慮ください。

※2. このプリントを活用したオンライン授業のスケジュールは、しながわ・目黒こどもスクールのウェブサイトでご確認ください。



おうちで、よろう。

Study at home. 小学校受験の家庭学習教材

図形：模写 12

左のお手本と同じになるように右の四角の点を囲みます。 ※この問題に答えはありません。

※1. このプリントは、しながわ・目黒こどもスクールのウェブサイトでダウンロードができます。無断複写・引用はご遠慮ください。
 ※2. このプリントを活用したオンライン授業のスケジュールは、しながわ・目黒こどもスクールのウェブサイトでご確認ください。