

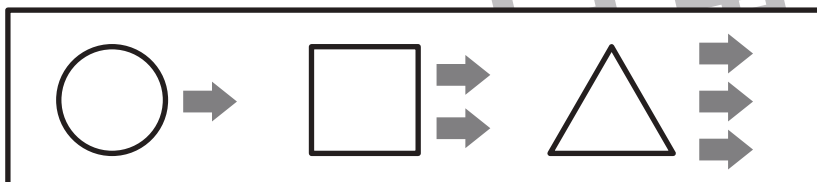
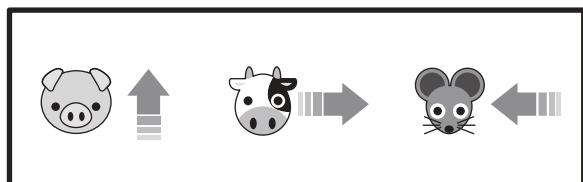


# おうちで、やろう。

Study at home. 小学校受験の家庭学習教材

## 図形：移動 49

上の太枠に約束があります。左の太枠は進む向きを表しています。ブタは上に、ウシは右に、ネズミは左に進む約束です。右の太枠は進むかすを表しています。○は1回、□は2回、△は3回進みます。問題の上の①～④の数字の横に、記号の中に動物が描かれたものがいくつかあります。このマークは左から見ていきます。進む向きと進むかすをよく考えて、★の場所からスタートしてどこに着くかを答えます。辿り着くマスに×印を付けましょう。



×					
	★				



				×	
		★			



			×		
				★	



	×				
★					

※1. このプリントは、しながわ・目黒こどもスクールのウェブサイトでダウンロードができます。無断複写・引用はご遠慮ください。  
※2. このプリントを活用したオンライン授業のスケジュールは、しながわ・目黒こどもスクールのウェブサイトでご確認ください。

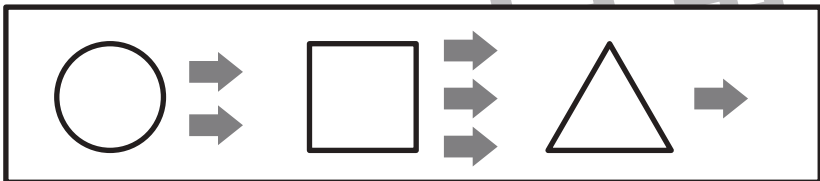



# おうちで、やろう。

Study at home. 小学校受験の家庭学習教材

図形：移動 50

上の太枠に約束があります。左の太枠は進む向きを表しています。ブタは下に、ウシは上に、ネズミは右に進む約束です。右の太枠は進むかすを表しています。○は2回、□は3回、△は1回進みます。問題の上の①～④の数字の横に、記号の中に動物が描かれたものがいくつかあります。このマークは左から見ていきます。進む向きと進むかすをよく考えて、★の場所からスタートしてどこに着くかを答えます。辿り着くマスに×印を付けましょう。



★					
			×		



				×	
	★				



		★			
				×	



★					
					×

※1. このプリントは、しながわ・目黒こどもスクールのウェブサイトでダウンロードができます。無断複写・引用はご遠慮ください。  
※2. このプリントを活用したオンライン授業のスケジュールは、しながわ・目黒こどもスクールのウェブサイトでご確認ください。

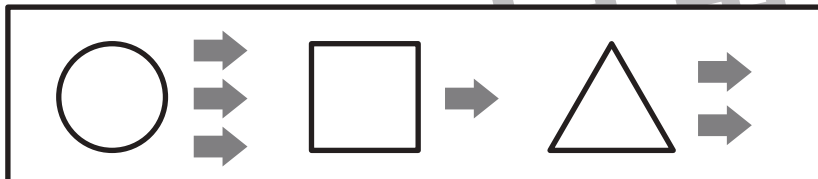
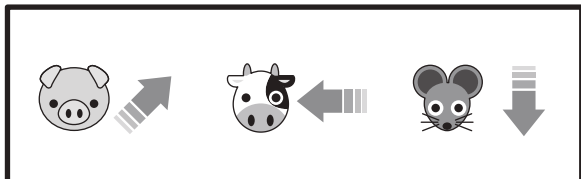


# おうちで、やろう。

Study at home. 小学校受験の家庭学習教材

## 図形：移動51

上の太枠に約束があります。左の太枠は進む向きを表しています。フタは右上に、ウシは左に、ネズミは下に進む約束です。右の太枠は進むかすを表しています。○は3回、□は1回、△は2回進みます。問題の上の①～④の数字の横に、記号の中に動物が描かれたものがいくつかあります。このマークは左から見ていきます。進む向きと進むかすをよく考えて、★の場所からスタートしてどこに着くかを答えます。辿り着くマスに×印を付けましょう。



		★			
×					



		×			
★					



×	★				



					×
					★

※1. このプリントは、しながわ・目黒こどもスクールのウェブサイトでダウンロードができます。無断複写・引用はご遠慮ください。

※2. このプリントを活用したオンライン授業のスケジュールは、しながわ・目黒こどもスクールのウェブサイトでご確認ください。



# おうちで、やろう。

Study at home. 小学校受験の家庭学習教材

推理：条件推理 37

9マスある四角の中を2色使って1マスずつ色を塗ります。ただし、それぞれ上、下、右、左のマスが同じ色にならないように塗ります。この約束で①～③の指示通りになるように塗っていきます。答えはまず、左マスを塗ります。もし間違えてしまった場合は右のマスを塗りましょう。

①赤と黒のクーピーを使います。○のマスは黒で塗ります。残りは約束どおりに塗ります。

②青と緑のクーピーを使います。○は青で塗り、△は緑で塗ります。残りは約束どおりに塗ります。

③橙色と黄色のクーピーを使います。○は橙色で塗ります。残りは約束どおりに塗ります。

①

○黒	赤	黒
赤	○黒	赤
黒	赤	○黒


②

青	△緑	青
緑	青	緑
○青	緑	青


③

○橙色	黄色	橙色
黄色	橙色	黄色
橙色	黄色	橙色


※1. このプリントは、しながわ・目黒こどもスクールのウェブサイトでダウンロードができます。無断複写・引用はご遠慮ください。

※2. このプリントを活用したオンライン授業のスケジュールは、しながわ・目黒こどもスクールのウェブサイトでご確認ください。



# おうちで、やろう。

Study at home. 小学校受験の家庭学習教材

## 推理：条件推理 38

9マスある四角の中を3色使って1マスずつ色を塗ります。ただし、それぞれ上、下、右、左のマスが同じ色にならないように塗ります。このとき、それぞれの色で塗れるマスは3マスずつです。この約束で①～③の指示通りになるように塗っていきます。答えはまず、左マスを塗ります。もし間違えてしまった場合は右のマスを塗りましょう。

①青、水色、紫のクーピーを使います。○のマスは青で塗り、△は水色で塗り、□は紫色で塗ります。残りは約束どおりに塗ります。

②緑、黄緑、橙色のクーピーを使います。○は緑で塗り、△は黄緑で塗り、□は橙色で塗ります。残りは約束どおりに塗ります。

③赤、桃色、茶色のクーピーを使います。○は桃色で塗り、□は茶色で塗ります。残りは約束どおりに塗ります。

①

○青	水色	□紫
紫	○青	水色
△水色	紫	青


②

□橙	黄緑	○緑
黄緑	緑	橙
○緑	橙	△黄緑


③

桃色	□茶色	赤
赤	桃色	茶色
□茶色	赤	○桃色


※1. このプリントは、しながわ・目黒こどもスクールのウェブサイトでダウンロードができます。無断複写・引用はご遠慮ください。

※2. このプリントを活用したオンライン授業のスケジュールは、しながわ・目黒こどもスクールのウェブサイトでご確認ください。




# おうちで、やろう。

Study at home. 小学校受験の家庭学習教材

数量：複合 9

上の大きな四角の中の絵は家の中の様子です。このとき①～④の問題に答えましょう。

- ①子どもと大人の数の違いはいくつですか。その数だけ○をかきます。
- ②これからみんなでおやつにします。子どもたちに2枚ずつクッキーを配ります。全部で何枚必要ですか。
- ③これからみんなでおやつにします。大人のクッキーは8枚あります。  
みんなで仲良く同じ数になるように配ったとき、1人分のクッキーの数だけ○をかきます。
- ④おやつを食べ終わると、他にもお友だちが3人来ました。でも時間になったので2人帰りました。  
今、家の中にいる子どもの数だけ○をかきます。



①

○ × 1

②

○ × 10

③

○ × 2

④

○ × 6

※1. このプリントは、しながわ・目黒こどもスクールのウェブサイトでダウンロードができます。無断複写・引用はご遠慮ください。

※2. このプリントを活用したオンライン授業のスケジュールは、しながわ・目黒こどもスクールのウェブサイトでご確認ください。