



# おうちで、やろう。


Study at home. 小学校受験の家庭学習教材

記憶：絵の記憶 12

別紙『記憶 - 絵の記憶 12 (記憶用紙)』を 20 秒記憶してから取り組みます。

- ① 絵の中の天気にもつきます。
- ② 絵の中にいた人の数だけ○をかきます。
- ③ 絵の中の右側にいた人たちの顔にもつきます。
- ④ 絵の中にあった木の本数だけ○をかきます。


①




②



③



④



※ 1. このプリントは、しながわ・目黒こどもスクールのウェブサイトでダウンロードができます。無断複写・引用はご遠慮ください。  
※ 2. このプリントを活用したオンライン授業のスケジュールは、しながわ・目黒こどもスクールのウェブサイトでご確認ください。





# おうちで、やろう。


Study at home. 小学校受験の家庭学習教材


## 言語：音の理解 43


上の四角の生き物の名前の中に数字が隠れています。  
何の数字が隠れているのか考えて、その数字の数だけ下の四角に○をかきます。



○×2


○×5


○×10


○×9


○×5


○×2

※1. このプリントは、しながわ・目黒こどもスクールのウェブサイトでダウンロードができます。無断複写・引用はご遠慮ください。  
※2. このプリントを活用したオンライン授業のスケジュールは、しながわ・目黒こどもスクールのウェブサイトでご確認ください。





# おうちで、やろう。

Study at home. 小学校受験の家庭学習教材


言語：音の理解 44


上の四角の食べ物や乗り物の名前の中に数字が隠れています。  
何の数字が隠れているのか考えて、その数字の数だけ下の四角に○をかきます。  
★があるものは数字が2つ隠れていますので合わせた数だけ下の四角に○をかきます。


○×5


○×7

★ 
○×6


○×3

★ 
○×18


○×1

※1. このプリントは、しながわ・目黒こどもスクールのウェブサイトでダウンロードができます。無断複写・引用はご遠慮ください。  
※2. このプリントを活用したオンライン授業のスケジュールは、しながわ・目黒こどもスクールのウェブサイトでご確認ください。



# おうちで、やろう。

Study at home. 小学校受験の家庭学習教材

## 指示の聞き取り 23

- ①左から○が黒、黄色、緑の順番に繰り返し並んでいます。この時、黄色の場所を塗ります。
- ②真ん中の星だけは黄色でなぞってから中を塗り、その他の星は緑でなぞります。
- ③鉛筆で左から丸、三角、四角の順番に繰り返し3回かきます。
- ④鉛筆で右端と左端に丸をかき、その間にその丸よりも小さい丸を同じ大きさで4つかきます。

①

②

③

④

※1. このプリントは、しながわ・目黒こどもスクールのウェブサイトでダウンロードができます。無断複写・引用はご遠慮ください。  
 ※2. このプリントを活用したオンライン授業のスケジュールは、しながわ・目黒こどもスクールのウェブサイトでご確認ください。



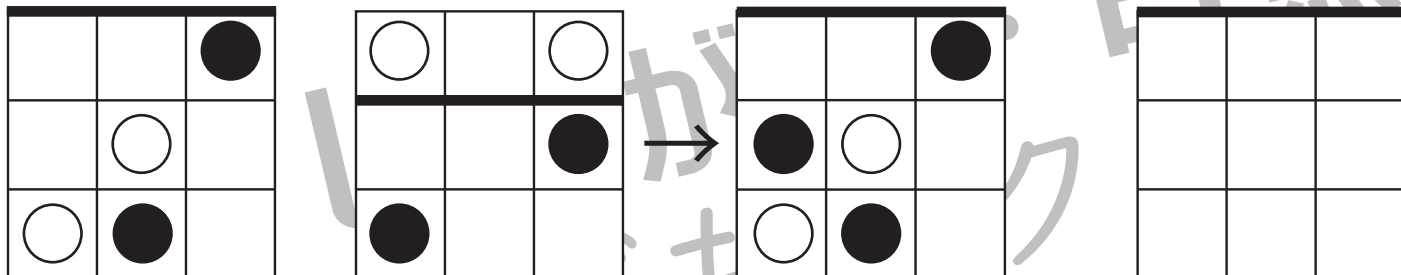
# おうちで、やろう。

Study at home. 小学校受験の家庭学習教材

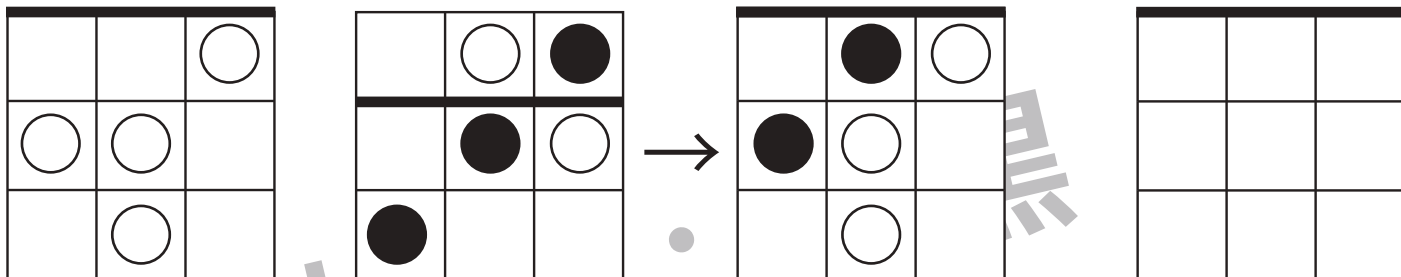
## 図形：重ね図形 40

一番左の四角にその隣の四角を太い線が合わさるように重ねたときの見え方を考えて矢印の右の四角にかきます。  
この問題は間違えてしまったときは訂正せずに隣の四角にもう一度かきなおみましょう。

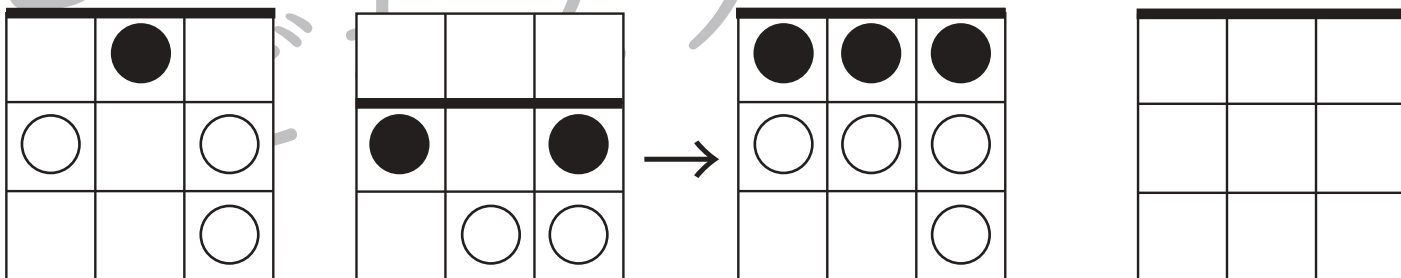
①



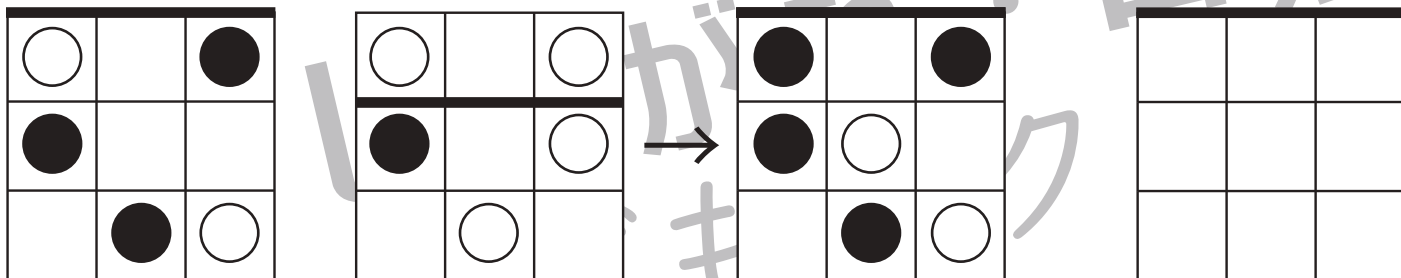
②



③



④



※1. このプリントは、しながわ・目黒こどもスクールのウェブサイトでダウンロードができます。無断複写・引用はご遠慮ください。

※2. このプリントを活用したオンライン授業のスケジュールは、しながわ・目黒こどもスクールのウェブサイトでご確認ください。



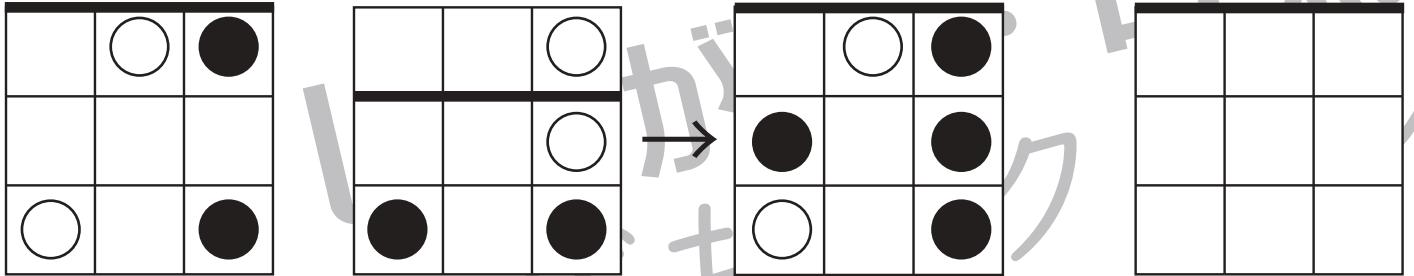
# おうちで、やろう。

Study at home. 小学校受験の家庭学習教材

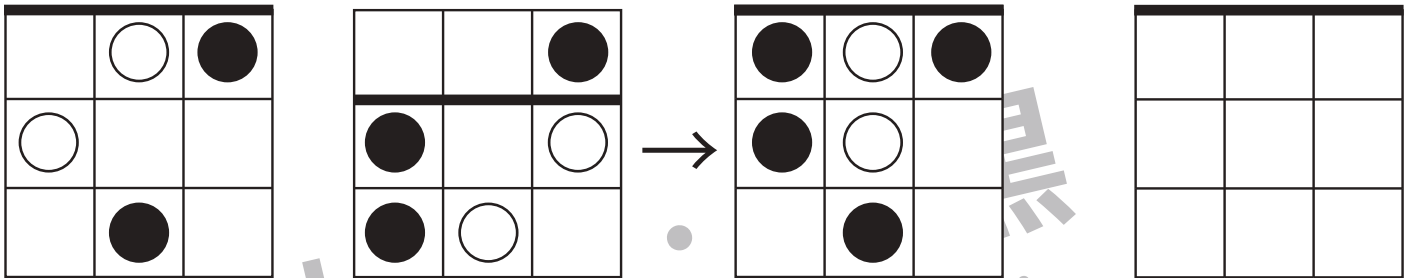
## 図形：重ね図形 41

一番左の四角にその隣の四角を太い線が合わさるように重ねたときの見え方を考えて矢印の右の四角にかきます。  
この問題は間違えてしまったときは訂正せずに隣の四角にもう一度かきなおみましょう。

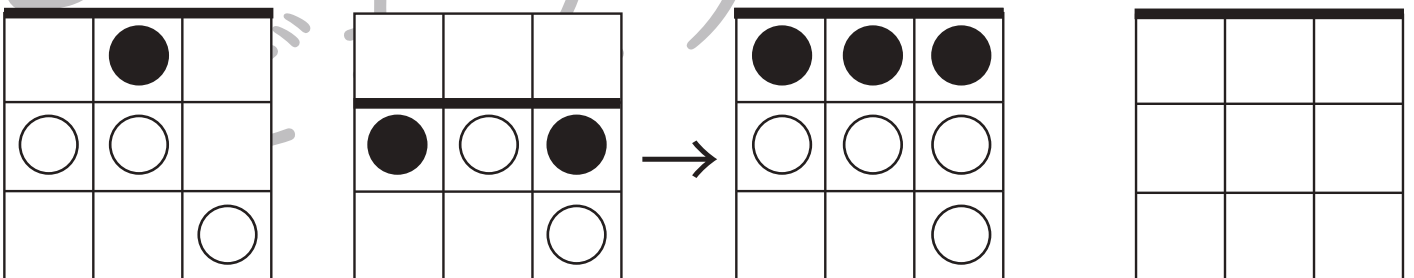
①



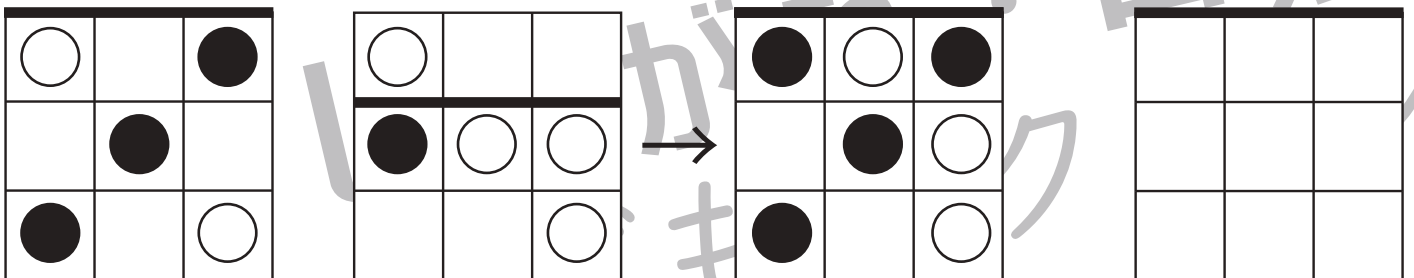
②



③



④



※1. このプリントは、しながわ・目黒こどもスクールのウェブサイトでダウンロードができます。無断複写・引用はご遠慮ください。  
 ※2. このプリントを活用したオンライン授業のスケジュールは、しながわ・目黒こどもスクールのウェブサイトでご確認ください。



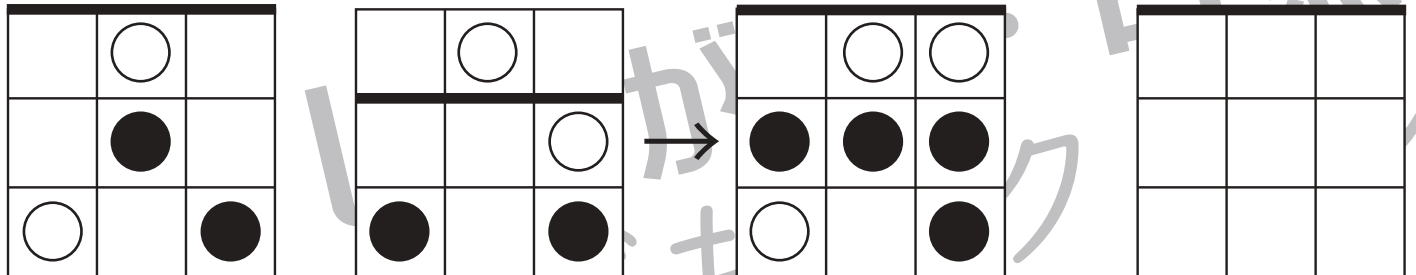
# おうちで、やろう。

Study at home. 小学校受験の家庭学習教材

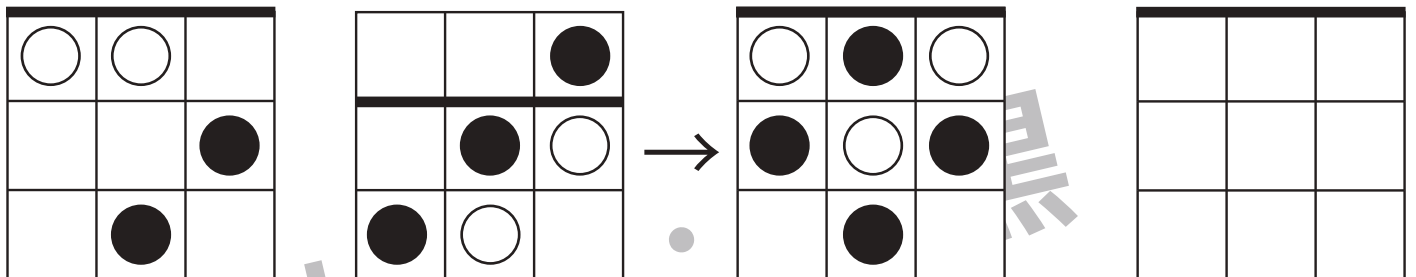
## 図形：重ね図形 42

一番左の四角にその隣の四角を太い線が合わさるように重ねたときの見え方を考えて矢印の右の四角にかきます。  
この問題は間違えてしまったときは訂正せずに隣の四角にもう一度かきなおみましょう。

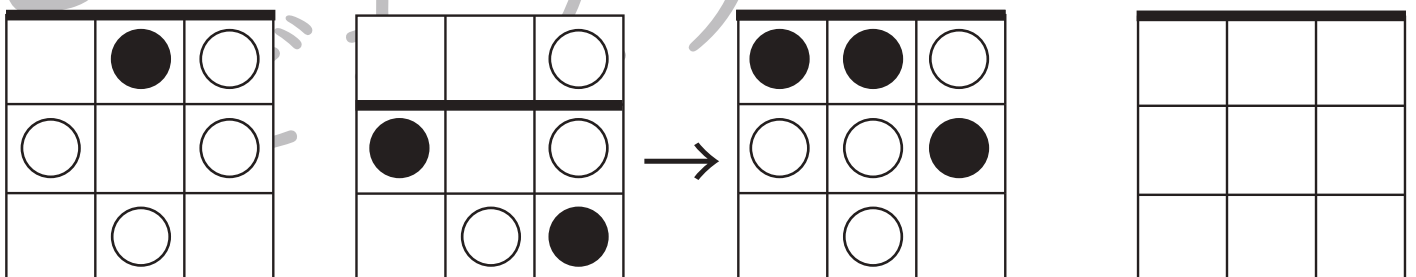
①



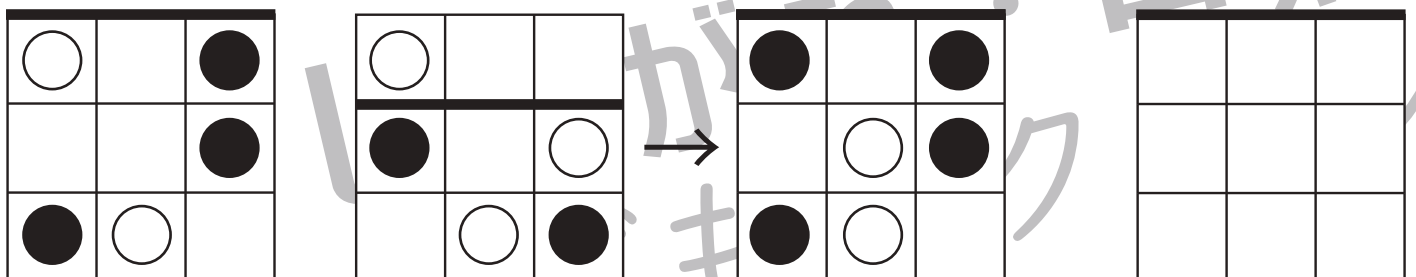
②



③



④



※1. このプリントは、しながわ・目黒こどもスクールのウェブサイトでダウンロードができます。無断複写・引用はご遠慮ください。  
 ※2. このプリントを活用したオンライン授業のスケジュールは、しながわ・目黒こどもスクールのウェブサイトでご確認ください。




# おうちで、やろう。

Study at home. 小学校受験の家庭学習教材

数量：加減 48

別紙『数量：加減 48（問題文）』を使用し組みます。



※1. このプリントは、しながわ・目黒こどもスクールのウェブサイトでダウンロードができます。無断複写・引用はご遠慮ください。

※2. このプリントを活用したオンライン授業のスケジュールは、しながわ・目黒こどもスクールのウェブサイトでご確認ください。







# おうちで、やろう。

Study at home. 小学校受験の家庭学習教材

数量：加減 49

別紙『数量：加減 48（問題文）』を使用し組みます。



※1. このプリントは、しながわ・目黒こどもスクールのウェブサイトでダウンロードができます。無断複写・引用はご遠慮ください。

※2. このプリントを活用したオンライン授業のスケジュールは、しながわ・目黒こどもスクールのウェブサイトでご確認ください。