

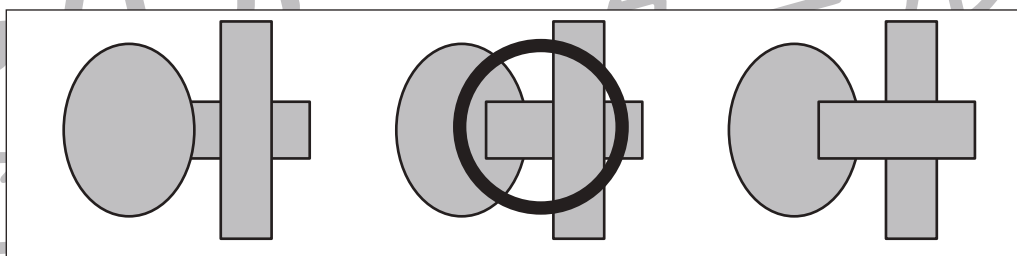
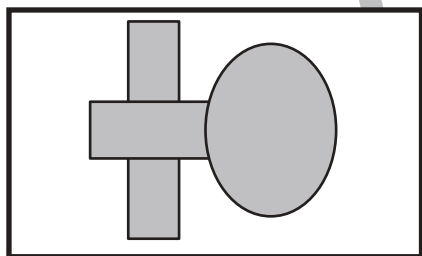
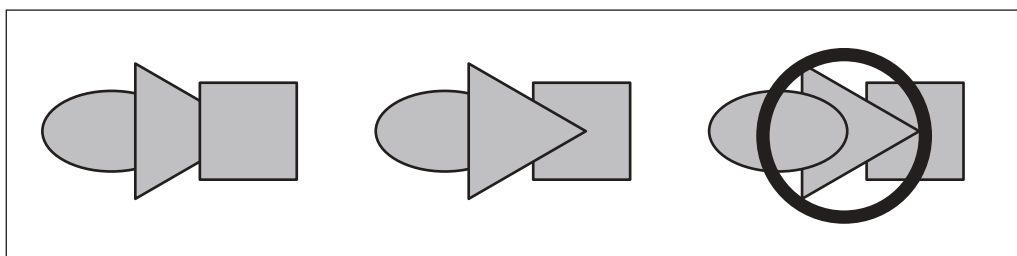
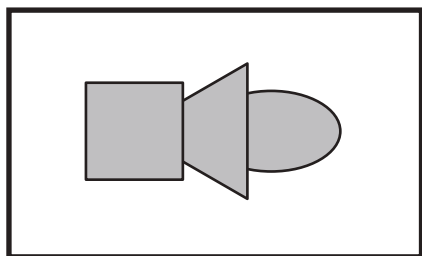
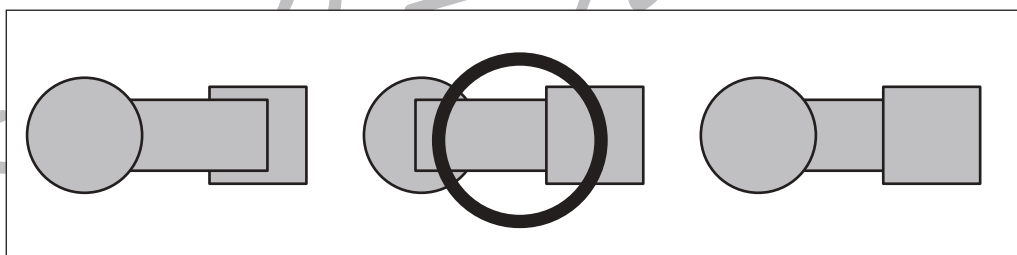
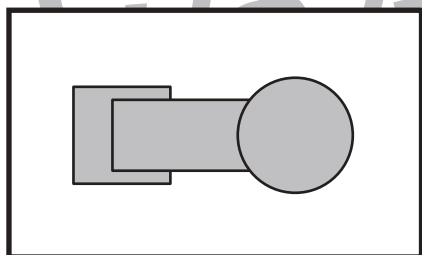
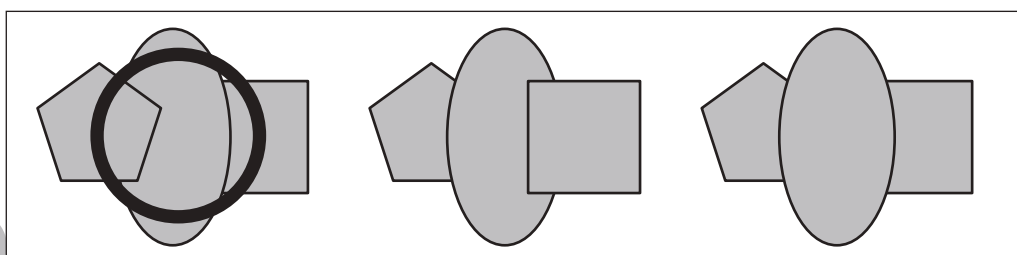
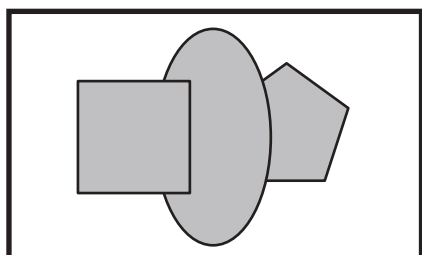
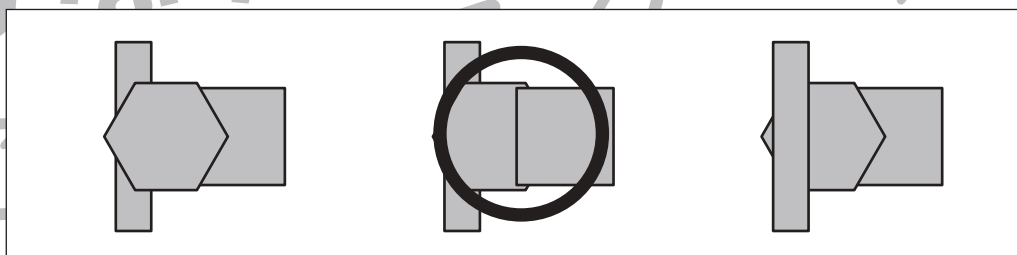
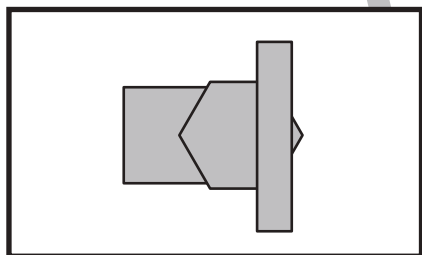
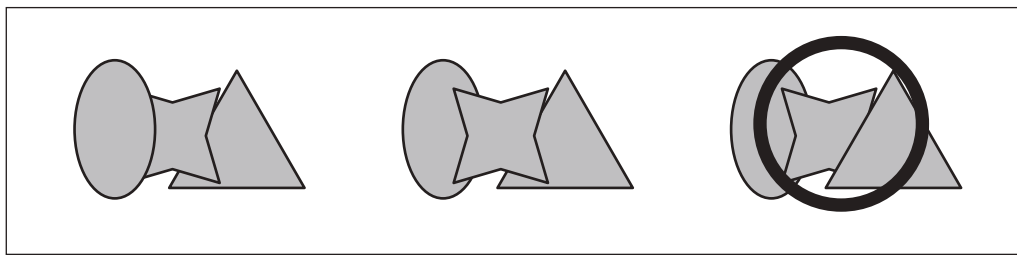
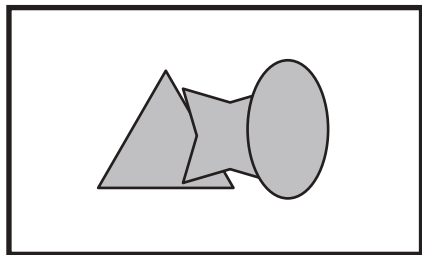


おうちで、よろう。

Study at home. 小学校受験の家庭学習教材

図形：重なり 25

左の太い四角の中の形を裏返して見たものが右の四角の中に並んでいます。正しいものを見つけて○をつけます。



※1. このプリントは、しながわ・目黒こどもスクールのウェブサイトでダウンロードができます。無断複写・引用はご遠慮ください。
※2. このプリントを活用したオンライン授業のスケジュールは、しながわ・目黒こどもスクールのウェブサイトでご確認ください。

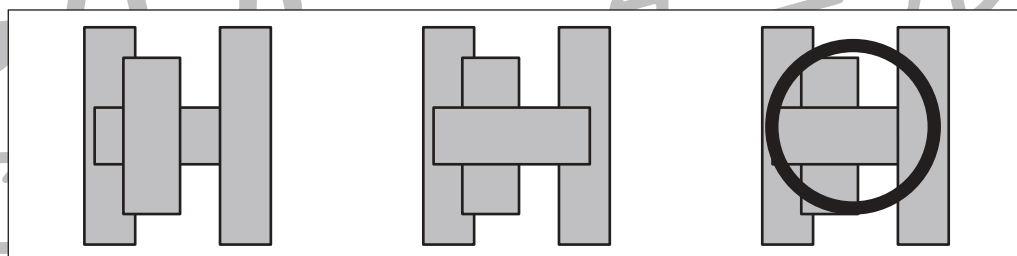
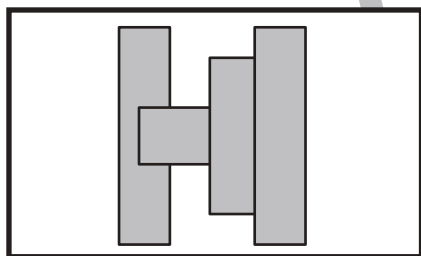
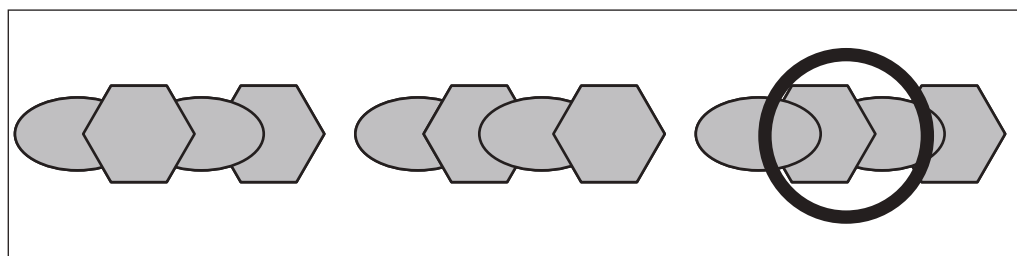
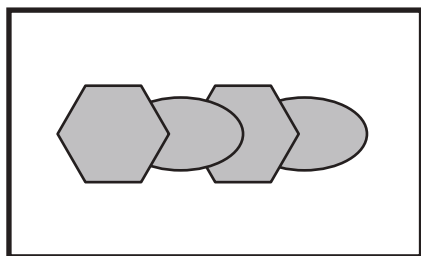
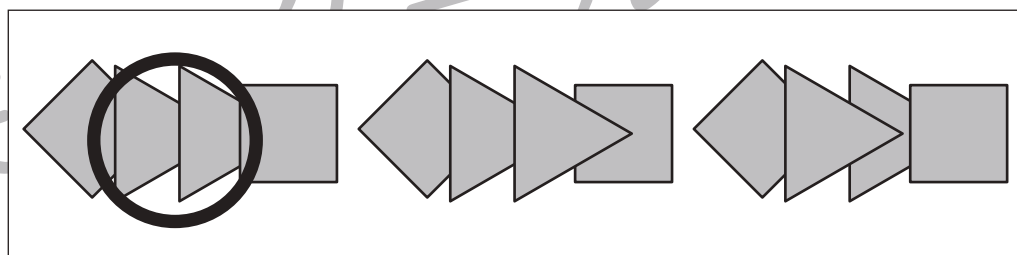
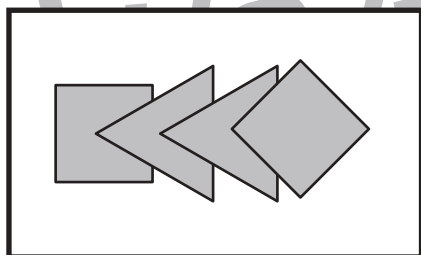
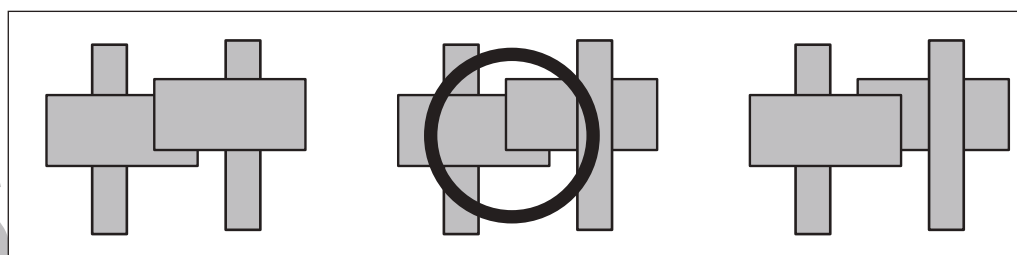
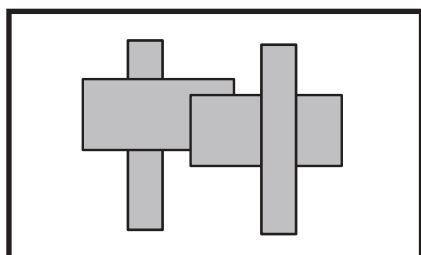
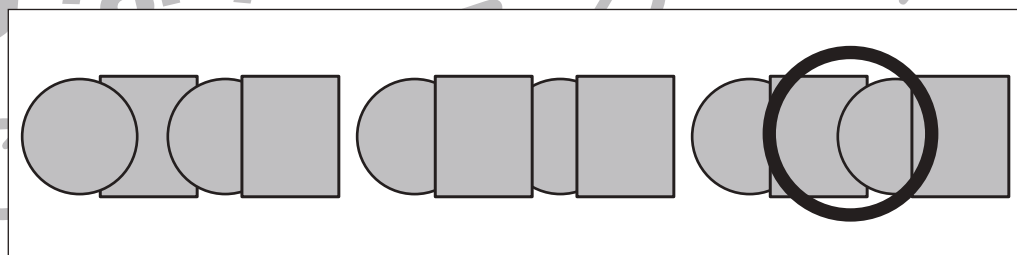
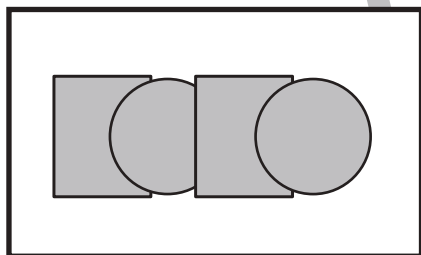
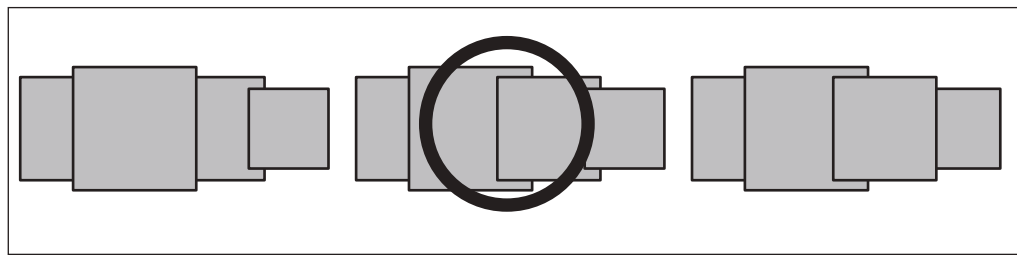
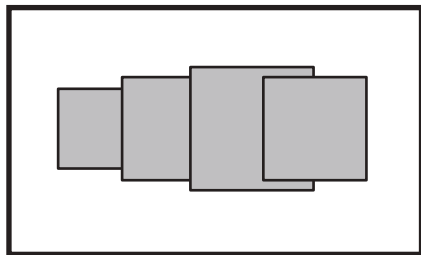


おうちで、やろう。

Study at home. 小学校受験の家庭学習教材

図形：重なり 26

左の太い四角の中の形を裏返して見たものが右の四角の中に並んでいます。正しいものを見つけて○をつけます。



※1. このプリントは、しながわ・目黒こどもスクールのウェブサイトからダウンロードできます。無断複写・引用はご遠慮ください。
※2. このプリントを活用したオンライン授業のスケジュールは、しながわ・目黒こどもスクールのウェブサイトでご確認ください。




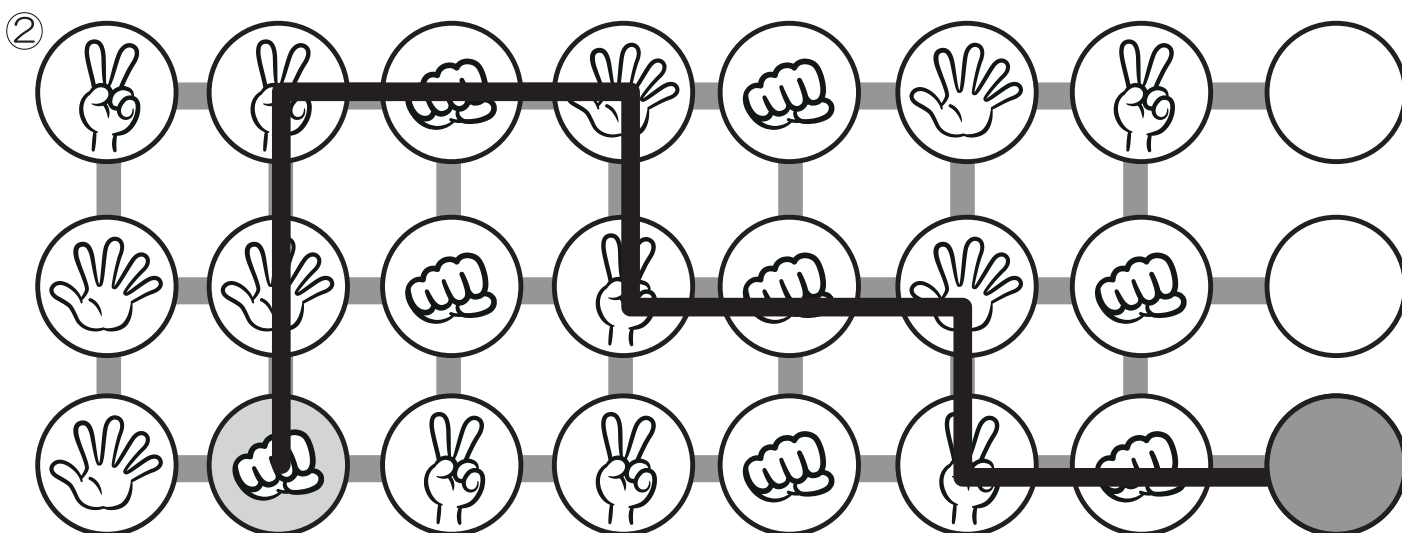

おうちで、やろう。

Study at home. 小学校受験の家庭学習教材

推理：じゃんけん 22

灰色の丸からじゃんけんで進んでいくゲームです。

スタートは灰色の丸です。ここから丸の中の手に勝つ手を見つけ進んでいったとき、最後に着いた丸を塗ります。



※1. このプリントは、しながわ・目黒こどもスクールのウェブサイトからダウンロードができます。無断複写・引用はご遠慮ください。

※2. このプリントを活用したオンライン授業のスケジュールは、しながわ・目黒こどもスクールのウェブサイトでご確認ください。

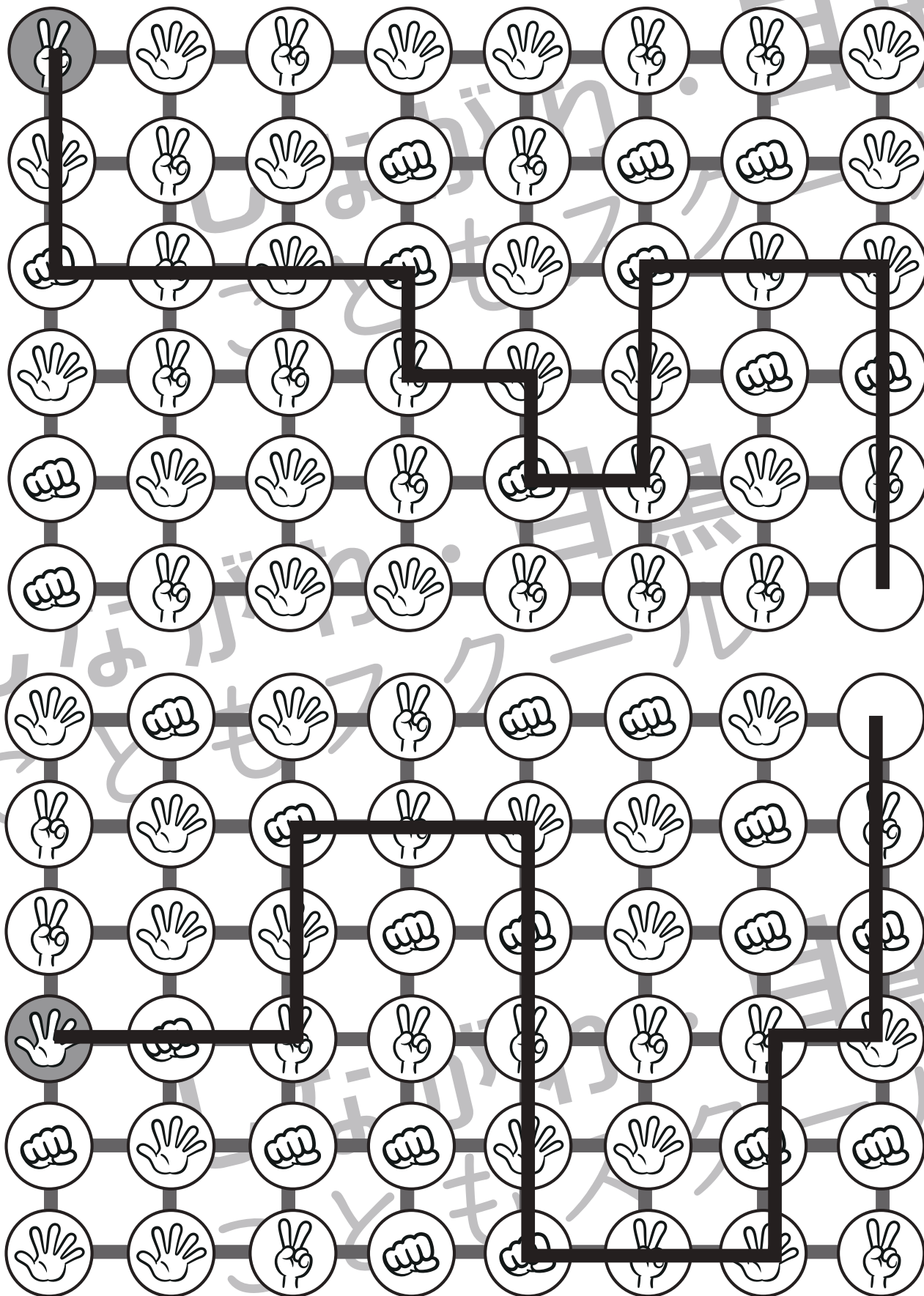


おうちで、やろう。

Study at home. 小学校受験の家庭学習教材

推理：じゃんけん 23

灰色の丸からじゃんけんで進んでいくゲームです。灰色の丸から丸の中にある手に負ける手を選んでいくと、最後は手がない白いマスにつきます。進んだ通りに線をかきます。



※1. このプリントは、しながわ・目黒こどもスクールのウェブサイトでダウンロードができます。無断複写・引用はご遠慮ください。

※2. このプリントを活用したオンライン授業のスケジュールは、しながわ・目黒こどもスクールのウェブサイトでご確認ください。



おうちで、やろう。

Study at home. 小学校受験の家庭学習教材

数量：同数 19

上の黒い星と下の白い星の数が同じときは○、違うときは×を真ん中の太い四角の中にかきます。

<div style="border: 1px solid black; width: 40px; height: 40px; margin: 0 auto; display: flex; align-items: center; justify-content: center;">○</div>

<div style="border: 1px solid black; width: 40px; height: 40px; margin: 0 auto; display: flex; align-items: center; justify-content: center;">×</div>

<div style="border: 1px solid black; width: 40px; height: 40px; margin: 0 auto; display: flex; align-items: center; justify-content: center;">×</div>

<div style="border: 1px solid black; width: 40px; height: 40px; margin: 0 auto; display: flex; align-items: center; justify-content: center;">○</div>

<div style="border: 1px solid black; width: 40px; height: 40px; margin: 0 auto; display: flex; align-items: center; justify-content: center;">○</div>

<div style="border: 1px solid black; width: 40px; height: 40px; margin: 0 auto; display: flex; align-items: center; justify-content: center;">×</div>

※1. このプリントは、しながわ・目黒こどもスクールのウェブサイトでダウンロードができます。無断複写・引用はご遠慮ください。
 ※2. このプリントを活用したオンライン授業のスケジュールは、しながわ・目黒こどもスクールのウェブサイトでご確認ください。



おうちで、やろう。

Study at home. 小学校受験の家庭学習教材

数量：同数 20

上の黒い星と下の白い星の数が同じときは○、違うときは×を真ん中の太い四角の中にかきます。

<div style="border: 2px solid black; width: 40px; height: 40px; margin: 0 auto; display: flex; align-items: center; justify-content: center;">○</div>

<div style="border: 2px solid black; width: 40px; height: 40px; margin: 0 auto; display: flex; align-items: center; justify-content: center;">○</div>

<div style="border: 2px solid black; width: 40px; height: 40px; margin: 0 auto; display: flex; align-items: center; justify-content: center;">×</div>

<div style="border: 2px solid black; width: 40px; height: 40px; margin: 0 auto; display: flex; align-items: center; justify-content: center;">×</div>

<div style="border: 2px solid black; width: 40px; height: 40px; margin: 0 auto; display: flex; align-items: center; justify-content: center;">○</div>

<div style="border: 2px solid black; width: 40px; height: 40px; margin: 0 auto; display: flex; align-items: center; justify-content: center;">×</div>

※1. このプリントは、しながわ・目黒こどもスクールのウェブサイトでダウンロードができます。無断複写・引用はご遠慮ください。
 ※2. このプリントを活用したオンライン授業のスケジュールは、しながわ・目黒こどもスクールのウェブサイトでご確認ください。




おうちで、やろう。

Study at home. 小学校受験の家庭学習教材

数量：複合 10

上の大きな四角の中の絵は幼稚園の様子です。①～④の問題に答えましょう。

- ① 園庭で遊んでいる子どもは何人ですか。その数だけ○をかきます。
- ② 園庭で遊んでいるお友だちはボールで遊ぶことにしました。1人1つのボールを使うことにしましたが、ボールは4つしかありません。足りないボールの数だけ△をかきます。
- ③ 幼稚園の教室で遊んでいる人は園庭で遊んでいる人よりも5人少ない人数です。幼稚園の中で遊んでいる人の数だけ○をかきます。
- ④ 今、園庭で遊んでいるお友だちが3人教室に入って、教室から2人園庭にやってきました。今、園庭にいるお友だちの数だけ○をかきます。



① ○ × 9

② △ × 5

③ ○ × 4

④ ○ × 8




おうちで、やろう。

Study at home. 小学校受験の家庭学習教材

数量：複合 11

上の大きな四角の中の絵は運動会の玉入れの様子です。①～④の問題に答えましょう。

- ①上の白組の様子を見て、かごに入らずに下に落ちている玉の数だけ○をかきます。
- ②下の赤組の様子を見て、かごに入っている玉の数だけ○をかきます。
- ③赤組と白組のかごに入っている玉の数の違いはいくつですか。その数だけ△をかきます。
- ④下に落ちている玉とお友だちが手に持っている玉をいくつか入れてそれぞれかごの中の玉の数を 10 個にしました。このとき、残った玉はいくつですか。白組は左の四角、赤組は右の四角にその数だけ○をかきます。



① ○ × 9

② ○ × 8

③ △ × 3

④ ○ × 6

○ × 10



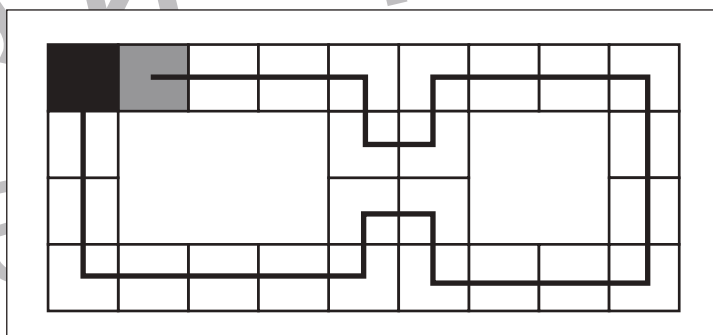
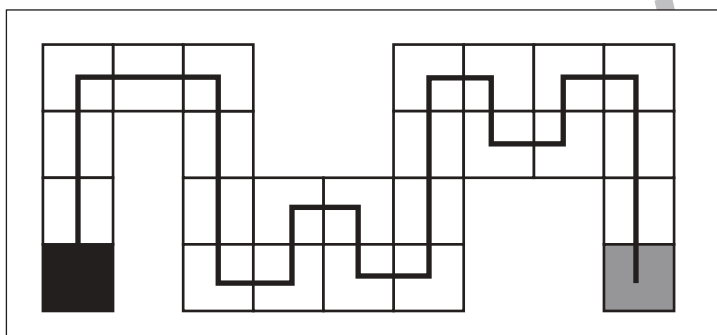
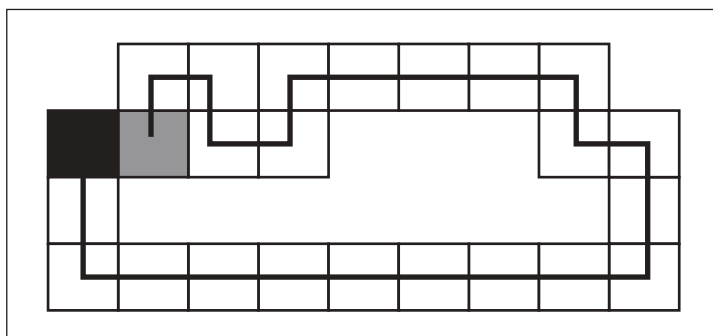
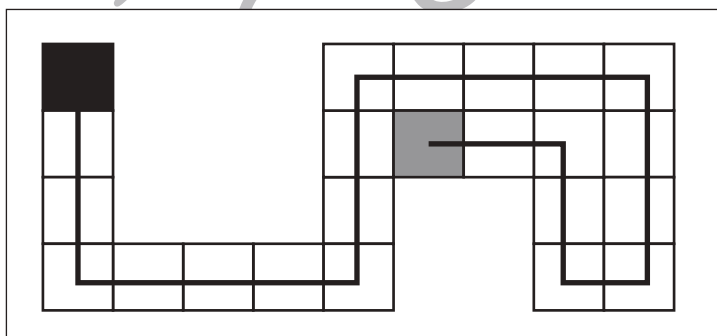
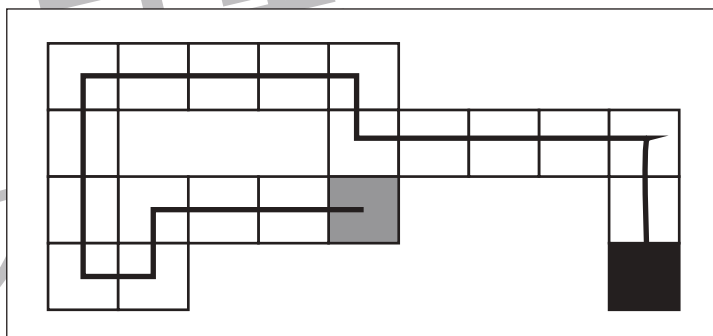
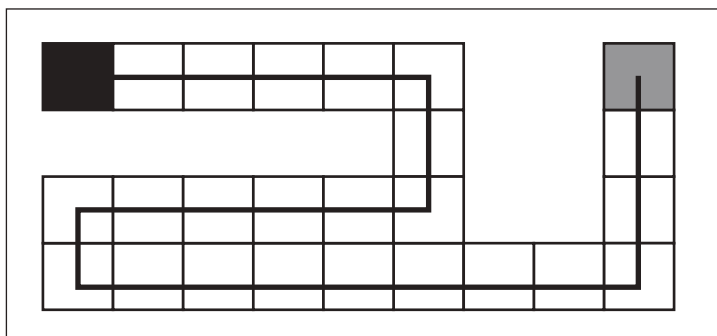
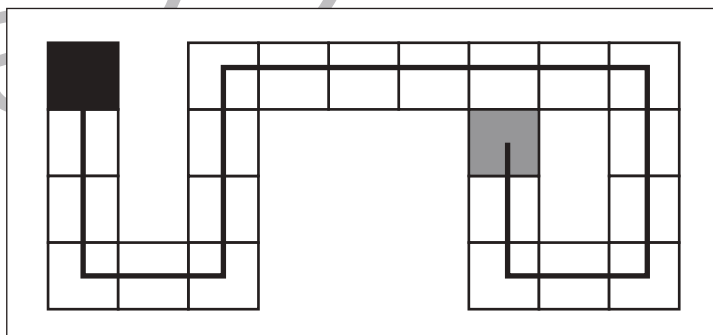
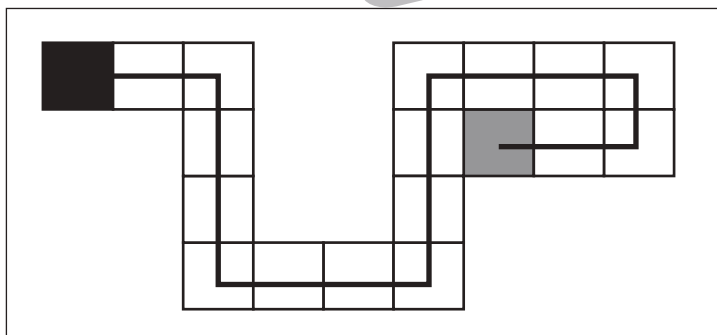
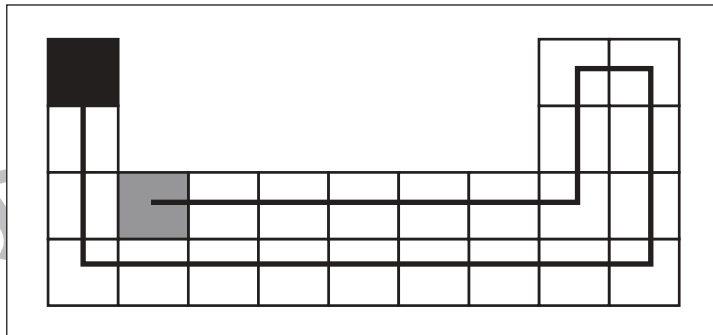
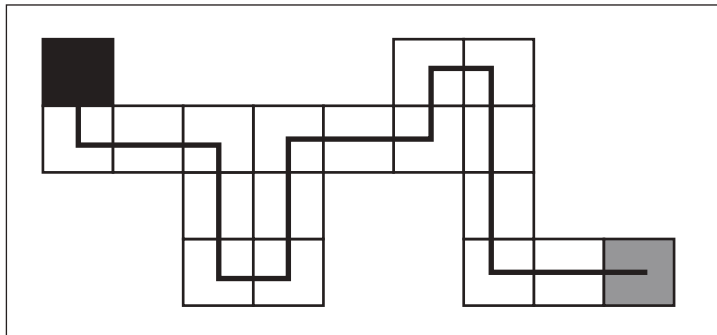
おうちで、やろう。

Study at home. 小学校受験の家庭学習教材

処理：運筆6

※他の解答でも約束通りに進めていけば正解としてください。

黒いマスから灰色のマスまですべてのマスを通って進み、線をかきます。進み方は縦と横には進めますが、斜めに進むことはできません。また、同じマスを2回通ってはけません。この問題はスピードを意識して取り組みましょう。(1分～1分30秒)



※1. このプリントは、しながわ・目黒こどもスクールのウェブサイトでダウンロードができます。無断複写・引用はご遠慮ください。

※2. このプリントを活用したオンライン授業のスケジュールは、しながわ・目黒こどもスクールのウェブサイトでご確認ください。