





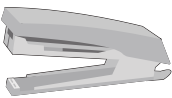





# おうちで、やろう。

Study at home. 小学校受験の家庭学習教材

## 言語：同音異義語 3

それぞれの物を使うときの言葉を考えます。「ひく」という言葉に合う絵に○、「かける」という言葉に合う絵に△をつけます。

※1. このプリントは、しながわ・目黒こどもスクールのウェブサイトからダウンロードできます。無断複写・引用はご遠慮ください。

※2. このプリントを活用したオンライン授業のスケジュールは、しながわ・目黒こどもスクールのウェブサイトでご確認ください。











# おうちで、やろう。

Study at home. 小学校受験の家庭学習教材

数量：計数25

四角の中にある物の数を数えて数の多い四角から順番に青、赤、黄、緑、紫、水色、橙の線で結びましょう。



※1. このプリントは、しながわ・目黒こどもスクールのウェブサイトでダウンロードができます。無断複写・引用はご遠慮ください。  
※2. このプリントを活用したオンライン授業のスケジュールは、しながわ・目黒こどもスクールのウェブサイトでご確認ください。



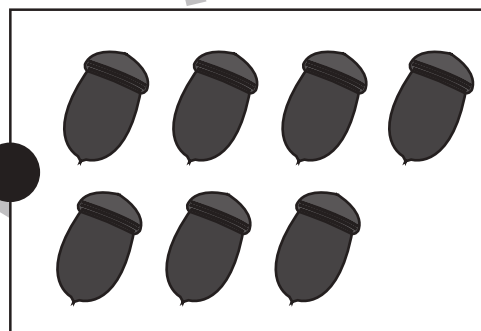
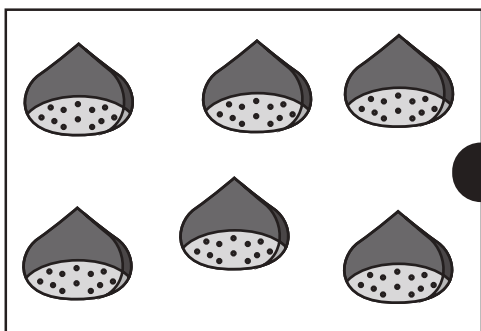
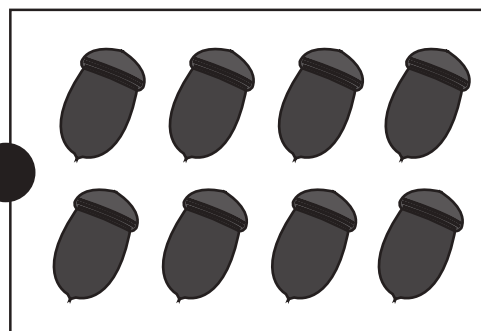
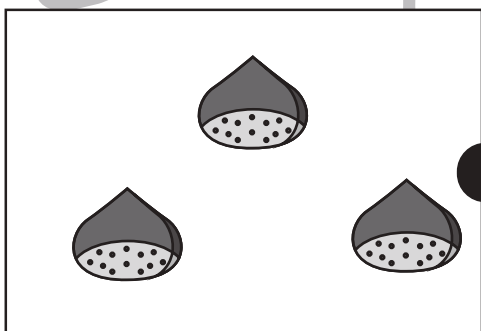
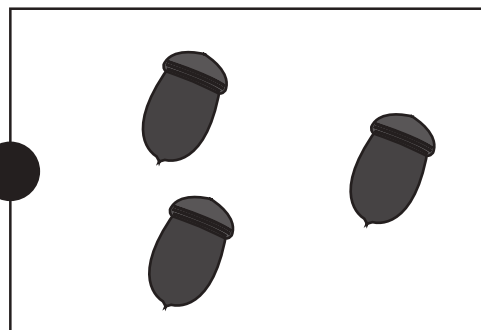
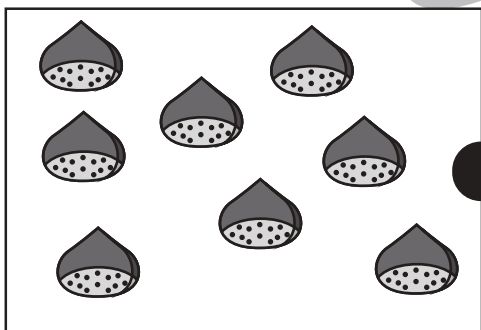



# おうちで、やろう。

Study at home. 小学校受験の家庭学習教材

数量：計数26

左と右の四角の中にある物の数をかぞえて、同じ数の四角同士を線で結びます。



※1. このプリントは、しながわ・目黒こどもスクールのウェブサイトでダウンロードができます。無断複写・引用はご遠慮ください。  
※2. このプリントを活用したオンライン授業のスケジュールは、しながわ・目黒こどもスクールのウェブサイトでご確認ください。




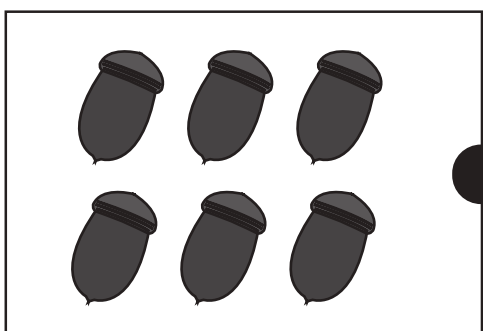
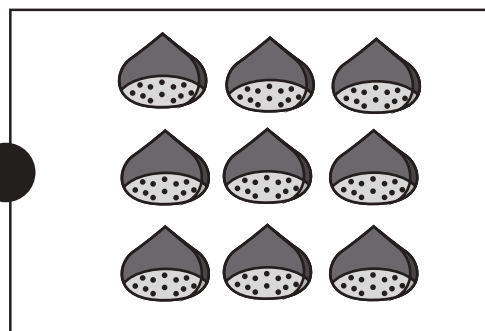
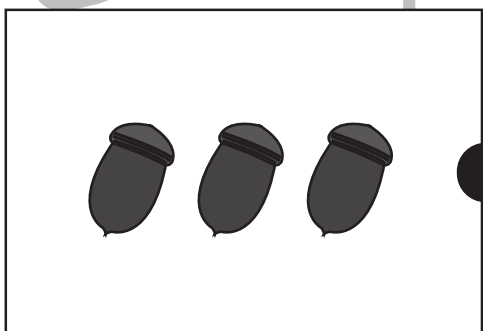
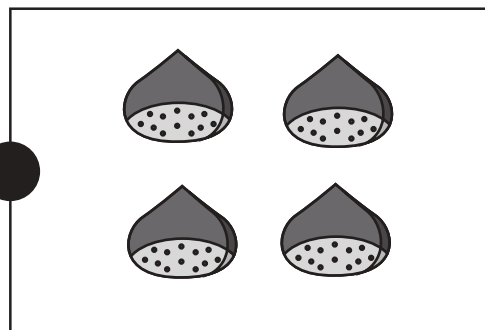
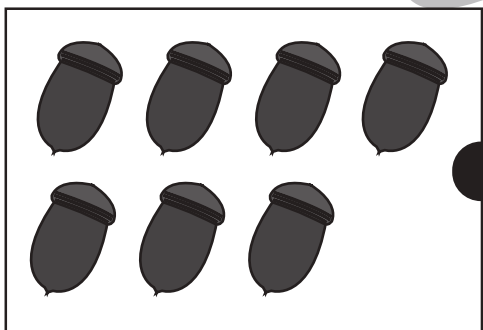

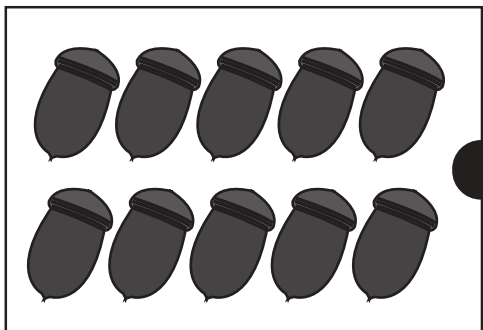


# おうちで、やろう。

Study at home. 小学校受験の家庭学習教材

数量：計数27

四角の中にある物の数を数えて、左側と右側の四角の中で数が一番多いもの同士を青色の線で結びます。  
一番少ないもの同士を赤で、二番目に多いもの同士を緑で、同じ数のものを黄色で結びます。



※1. このプリントは、しながわ・目黒こどもスクールのウェブサイトでダウンロードができます。無断複写・引用はご遠慮ください。  
※2. このプリントを活用したオンライン授業のスケジュールは、しながわ・目黒こどもスクールのウェブサイトでご確認ください。





# おうちで、やろう。

Study at home. 小学校受験の家庭学習教材

数量：同数 21

上の黒い星と下の白い星の数が同じときは○、違うときは×を真ん中の太い四角の中にかきます。

	<input type="checkbox"/>	
--	--------------------------	--

	<input type="checkbox"/>	
--	--------------------------	--

	<input type="checkbox"/>	
--	--------------------------	--

	<input type="checkbox"/>	
--	--------------------------	--

	<input type="checkbox"/>	
--	--------------------------	--

	<input type="checkbox"/>	
--	--------------------------	--

※1. このプリントは、しながわ・目黒こどもスクールのウェブサイトでダウンロードができます。無断複写・引用はご遠慮ください。  
 ※2. このプリントを活用したオンライン授業のスケジュールは、しながわ・目黒こどもスクールのウェブサイトでご確認ください。



# おうちで、やろう。

Study at home. 小学校受験の家庭学習教材

数量：同数 22

上の黒い星と下の白い星の数が同じときは○、違うときは×を真ん中の太い四角の中にかきます。

★ ★ ★ ★ ★	
★ ★ ★ ★ ★	
★ ★ ★ ★ ★	
	□
☆ ☆ ☆ ☆ ☆	
☆ ☆	
☆ ☆ ☆ ☆ ☆	

★ ★ ★ ★ ★	
★ ★ ★ ★ ★	
★ ★ ★ ★ ★	
	□
☆ ☆ ☆ ☆ ☆	
☆ ☆	
☆ ☆ ☆ ☆ ☆	
☆ ☆	

★ ★ ★ ★ ★	
★ ★ ★ ★ ★	
★ ★ ★ ★ ★	
	□
☆ ☆ ☆	
☆ ☆ ☆	
☆ ☆ ☆ ☆ ☆	
☆ ☆ ☆	

★ ★ ★ ★ ★	
★ ★ ★ ★ ★	
★ ★ ★ ★ ★	
	□
☆ ☆ ☆ ☆ ☆	
☆ ☆ ☆ ☆ ☆	
☆ ☆ ☆ ☆ ☆	
☆ ☆ ☆ ☆ ☆	

★ ★ ★ ★ ★	
★ ★ ★ ★ ★	
★ ★ ★ ★ ★	
	□
☆ ☆ ☆ ☆ ☆	
☆ ☆	
☆ ☆ ☆ ☆ ☆	
☆ ☆ ☆	

★ ★ ★ ★ ★	
★ ★ ★ ★ ★	
★ ★ ★ ★ ★	
	□
☆ ☆ ☆ ☆ ☆	
☆ ☆ ☆ ☆ ☆	
☆ ☆ ☆ ☆ ☆	
☆ ☆ ☆ ☆ ☆	

※1. このプリントは、しながわ・目黒こどもスクールのウェブサイトでダウンロードができます。無断複写・引用はご遠慮ください。  
 ※2. このプリントを活用したオンライン授業のスケジュールは、しながわ・目黒こどもスクールのウェブサイトでご確認ください。



# おうちで、よろう。

Study at home. 小学校受験の家庭学習教材

数量：同数 23

上の黒い星と下の白い星の数が同じときは○、違うときは×を真ん中の太い四角の中にかきます。

★ ★ ★ ★ ★	
★ ★ ★ ★ ★	
★ ★ ★ ★ ★	
★ ★ ★ ★ ★	
	□
☆ ☆ ☆ ☆ ☆	
☆ ☆ ☆ ☆ ☆	
☆ ☆ ☆ ☆ ☆	
☆ ☆ ☆ ☆ ☆	
☆ ☆ ☆ ☆ ☆	

★ ★ ★ ★ ★	
★ ★ ★ ★ ★	
★ ★ ★ ★ ★	
★ ★ ★ ★ ★	
	□
☆ ☆ ☆ ☆ ☆	
☆ ☆ ☆ ☆ ☆	
☆ ☆ ☆ ☆ ☆	
☆ ☆ ☆ ☆ ☆	
☆ ☆ ☆ ☆ ☆	

★ ★ ★ ★ ★	
★ ★ ★ ★ ★	
★ ★ ★ ★ ★	
★ ★ ★ ★ ★	
	□
☆ ☆ ☆ ☆ ☆	
☆ ☆ ☆ ☆ ☆	
☆ ☆ ☆ ☆ ☆	
☆ ☆ ☆ ☆ ☆	
☆ ☆ ☆ ☆ ☆	

★ ★ ★ ★ ★	
★ ★ ★ ★ ★	
★ ★ ★ ★ ★	
★ ★ ★ ★ ★	
	□
☆ ☆ ☆ ☆ ☆	
☆ ☆ ☆ ☆ ☆	
☆ ☆ ☆ ☆ ☆	
☆ ☆ ☆ ☆ ☆	
☆ ☆ ☆ ☆ ☆	

★ ★ ★ ★ ★	
★ ★ ★ ★ ★	
★ ★ ★ ★ ★	
★ ★ ★ ★ ★	
	□
☆ ☆ ☆ ☆ ☆	
☆ ☆ ☆ ☆ ☆	
☆ ☆ ☆ ☆ ☆	
☆ ☆ ☆ ☆ ☆	
☆ ☆ ☆ ☆ ☆	

★ ★ ★ ★ ★	
★ ★ ★ ★ ★	
★ ★ ★ ★ ★	
★ ★ ★ ★ ★	
	□
☆ ☆ ☆ ☆ ☆	
☆ ☆ ☆ ☆ ☆	
☆ ☆ ☆ ☆ ☆	
☆ ☆ ☆ ☆ ☆	
☆ ☆ ☆ ☆ ☆	

※1. このプリントは、しながわ・目黒こどもスクールのウェブサイトでダウンロードができます。無断複写・引用はご遠慮ください。  
 ※2. このプリントを活用したオンライン授業のスケジュールは、しながわ・目黒こどもスクールのウェブサイトでご確認ください。




# おうちで、やろう。

Study at home. 小学校受験の家庭学習教材

□頭試問 6

横断歩道をわたっているお友だちの様子絵を見ながら下の質問に答えましょう。  
※この問題に解答はありません。



①横断歩道をわたるときに気をつけることはなんですか。3つ教えてください。

②横断歩道をわたるとき、青信号が点滅しています。あなたならどうしますか。

③横断歩道をわたるとき、反対から走ってきている人がいます。あなたならどうしますか。

④横断歩道は青信号でも危ないことがあります。どんなことだと思いますか。







# おうちで、やろう。

Study at home. 小学校受験の家庭学習教材

□頭試問 7

お手伝いをしているお友だちの様子を見ながら下の質問に答えましょう。  
※この問題に解答はありません。



①上のお手伝いの中で、あなたがやったことがあるお手伝いは何ですか。

②上のお手伝いの中で、難しいお手伝いは何ですか。どんなところが難しいですか。

③上のお手伝いの中で、これからやってみたいお手伝いは何ですか。

④お手伝いをしたとき、お家の人はなんと声をかけてくれますか。




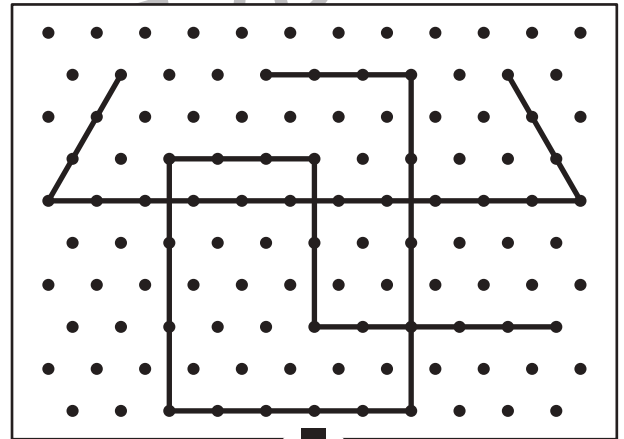

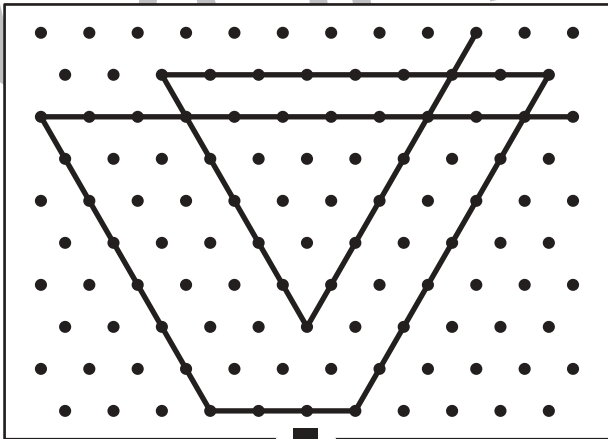

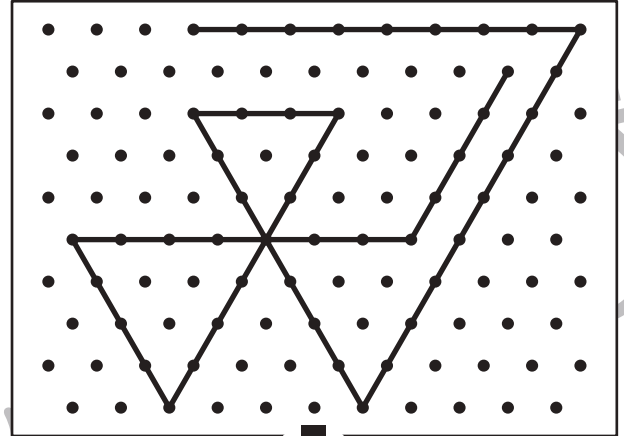

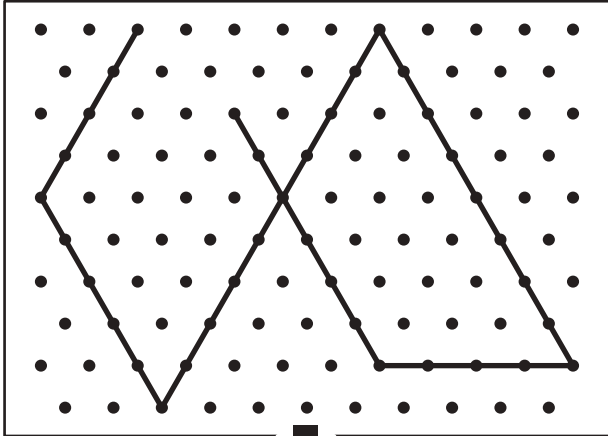


# おうちで、やろう。

Study at home. 小学校受験の家庭学習教材

## 図形：点図形 61

上のお手本と同じになるように下の四角の点と点を結びます。※このプリントに解答はありません。



※1. このプリントは、しながわ・目黒こどもスクールのウェブサイトでダウンロードができます。無断複写・引用はご遠慮ください。

※2. このプリントを活用したオンライン授業のスケジュールは、しながわ・目黒こどもスクールのウェブサイトでご確認ください。

