



# おうちで、やろう。

Study at home. 小学校受験の家庭学習教材

## 図形：移動 52

左の四角の中が約束です。真ん中の四角にある記号を約束の矢印の向きに1マスずつ動かして着いた場所を考えて一番右の四角にかきます。矢印は左から順番に見ていきます。

□	↓ ← ↑
△	← ← →

	□		
			△


□	↓ → → ↑ →
△	← ← ↓ → ↑

□		△	


□	↓ ← → ↑ ↘ ↗
△	↙ ← ↑ ↘ ↑ ←

	□	△	


○	↓ ↓ → →
△	→ ↑ ↑ ←
□	← ← ↑ ←

○			
			□
	△		


○	↓ → ↑ ← ↘
△	↙ ← ↑ → ←
□	↘ ← → ↙ ↑

○		□	
			△


○	↑ ↑ → ← ↙ ↘
△	↗ ← ↑ → ← ↓
□	↙ ↘ ↑ → ↑ ↘

		□	
	△	○	


※1. このプリントは、しながわ・目黒こどもスクールのウェブサイトでダウンロードができます。無断複写・引用はご遠慮ください。  
※2. このプリントを活用したオンライン授業のスケジュールは、しながわ・目黒こどもスクールのウェブサイトでご確認ください。



# おうちで、やろう。

Study at home. 小学校受験の家庭学習教材

## 図形：移動 53

左の四角の中が約束です。真ん中の四角にある記号を約束の矢印の向きに1マスずつ動かして着いた場所を考えて一番右の四角にかきます。矢印は左から順番に見ていきます。

○	↓	→	↓	↗		
△	↓	←	↑	→	→	↖
□	↑	↑	↘	↘		
◎	→	←	↓	↓	←	↖

○		◎	
	△		
		□	


○	↓	←	←	↗	↗	←
△	↓	←	↖	→		
□	↓	↓	↓	↖		
◎	→	←	→	→	←	↑

	□		
		○	△
◎			


○	↓	←	↓	↖	↖	
△	→	→	↑	↘	↖	↖
□	↓	↓	↓	↗	↗	→
◎	→	←	↓	↑	→	

□			
			○
		◎	
△			


○	↓	→	↑	↗	←	↘
△	↓	←	↓	↑	↖	↓
□	→	→	↑	↖	↖	←
◎	→	←	↓	↓	↖	↑

			△
	◎		
○			
	□		


※1. このプリントは、しながわ・目黒こどもスクールのウェブサイトでダウンロードができます。無断複写・引用はご遠慮ください。

※2. このプリントを活用したオンライン授業のスケジュールは、しながわ・目黒こどもスクールのウェブサイトでご確認ください。



# おうちで、よろう。

Study at home. 小学校受験の家庭学習教材

## 図形：移動54

左の四角の中が約束です。真ん中の四角にある記号を約束の矢印の向きに1マスずつ動かして着いた場所を考えて一番右の四角にかきます。矢印は左から順番に見ていきます。

△	↑	↑	↖	←	↓	←
▽	↙	↓	↖	←	↑	→
◎	↘	↘	↑	←	↓	↑
○	↑	↑	←	←	↑	→
□	↓	←	↘	↗	←	↓

		□	
			▽
◎			
		○	
			△


△	↓	←	↖	↙	↑	→
▽	→	→	↓	↓	↑	↖
◎	↘	↗	↖	↗	↑	←
○	↓	↓	→	↗	↑	←
□	↓	←	↑	→	↑	↗

○			
	▽		
		□	
	◎		△


△	↖	↖	↖	↗	↓	←
▽	↘	↘	↑	↖	↑	←
◎	↘	↘	↘	←	←	↗
○	↙	↙	↙	↑	↑	↓
□	↗	↖	↖	↙	↓	→

◎			
			○
	▽		
		□	
			△


※1. このプリントは、しながわ・目黒こどもスクールのウェブサイトでダウンロードができます。無断複写・引用はご遠慮ください。

※2. このプリントを活用したオンライン授業のスケジュールは、しながわ・目黒こどもスクールのウェブサイトでご確認ください。



# おうちで、やろう。

Study at home. 小学校受験の家庭学習教材

## 図形：構成 39

左の太い四角の中の形は3つの四角いパズルで作ったお手本です。右の四角の中にはお手本のパズルを1つ動かした形が並んでいます。どのパズルを動かしたのか考えて動かしたパズル1つを四角で囲みます。


※1. このプリントは、しながわ・目黒こどもスクールのウェブサイトでダウンロードができます。無断複写・引用はご遠慮ください。  
※2. このプリントを活用したオンライン授業のスケジュールは、しながわ・目黒こどもスクールのウェブサイトでご確認ください。



# おうちで、やろう。

Study at home. 小学校受験の家庭学習教材

## 図形：構成 40

左の太い四角の中の形はいくつかの四角いパズルで作ったお手本です。右の四角の中にはお手本のパズルを1つ動かした形が並んでいます。どのパズルを動かしたのか考えて動かしたパズル1つを四角で囲みます。


※1. このプリントは、しながわ・目黒こどもスクールのウェブサイトからダウンロードできます。無断複写・引用はご遠慮ください。  
※2. このプリントを活用したオンライン授業のスケジュールは、しながわ・目黒こどもスクールのウェブサイトでご確認ください。

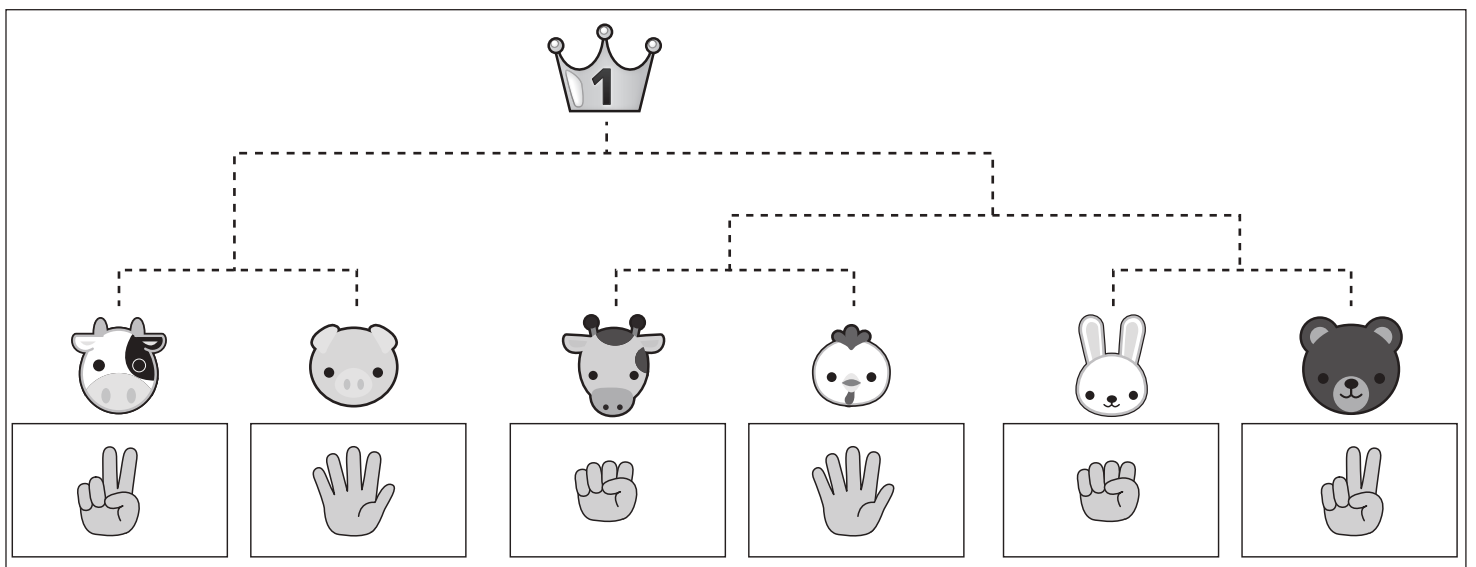
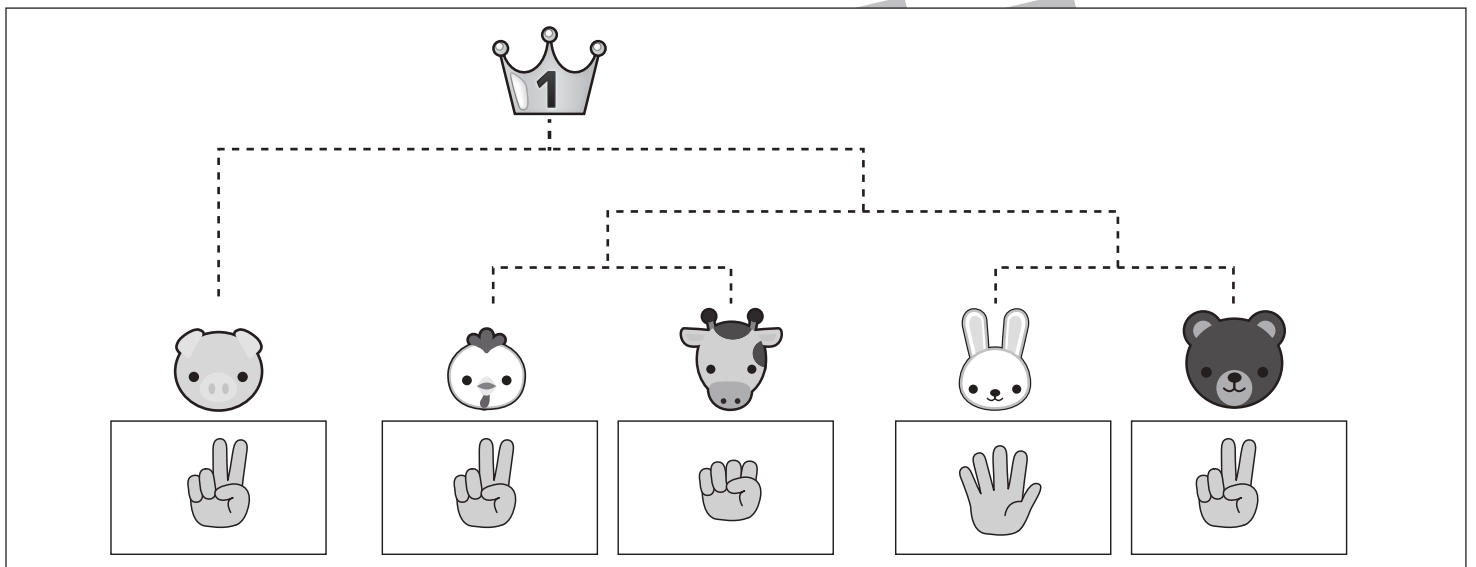
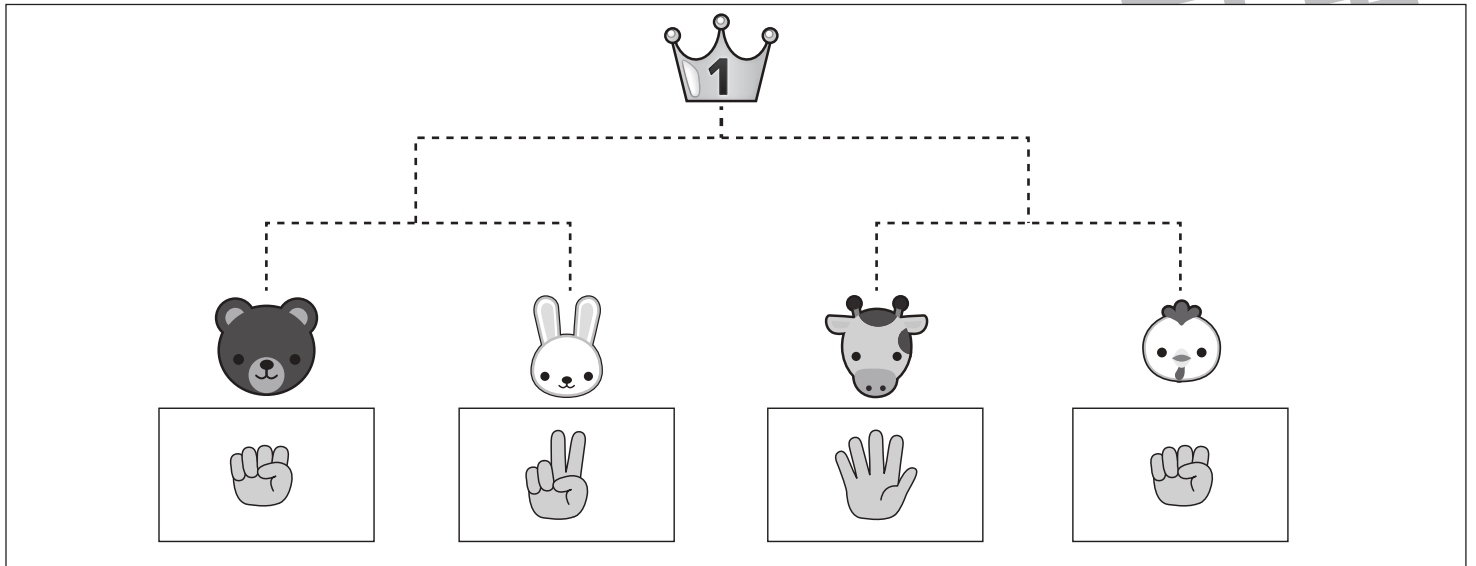


# おうちで、やろう。

Study at home. 小学校受験の家庭学習教材

## 推理：条件推理 39

動物たちがトーナメント勝負をします。トーナメントは点線で結んである2匹の勝負です。勝負はじゃんけんです。動物たちの下の四角の中の手を出して勝負をします。勝った動物は次の勝負に進み、点線で結んである動物と勝負します。この約束で順番に勝負をして一番になった動物に○をつけます。また、それぞれの動物がどのようにトーナメントを進んだか点線をなぞってみましょう。



※1. このプリントは、しながわ・目黒こどもスクールのウェブサイトでダウンロードができます。無断複写・引用はご遠慮ください。

※2. このプリントを活用したオンライン授業のスケジュールは、しながわ・目黒こどもスクールのウェブサイトでご確認ください。

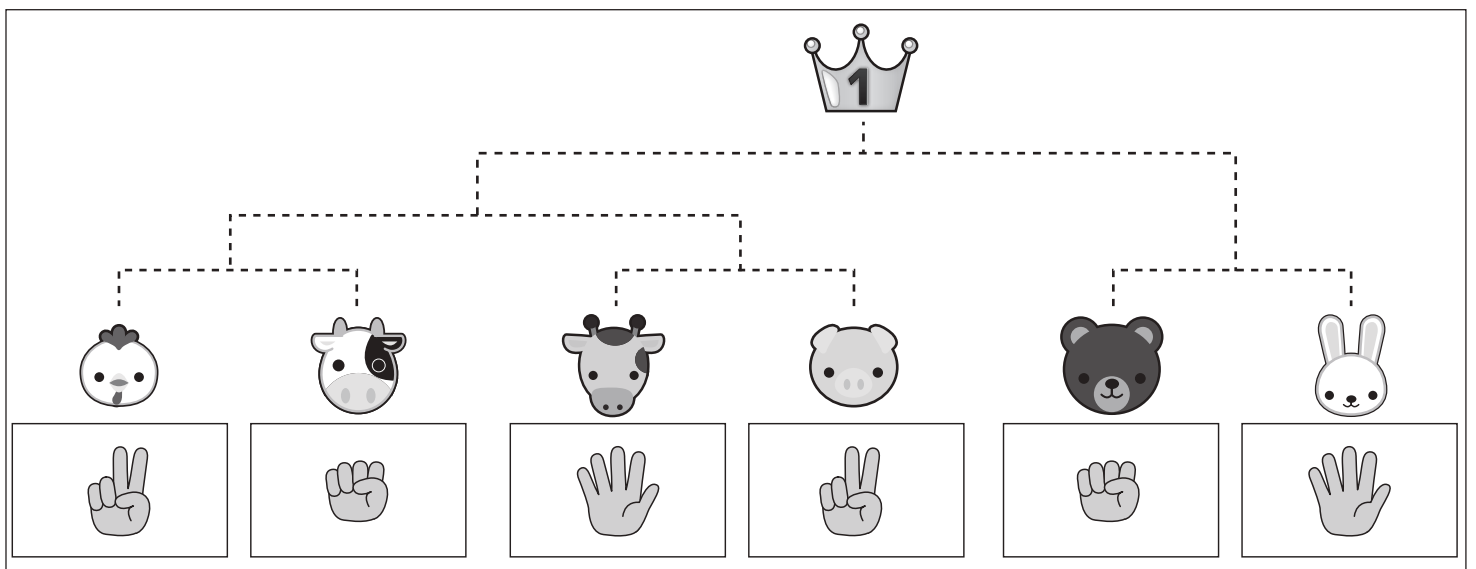
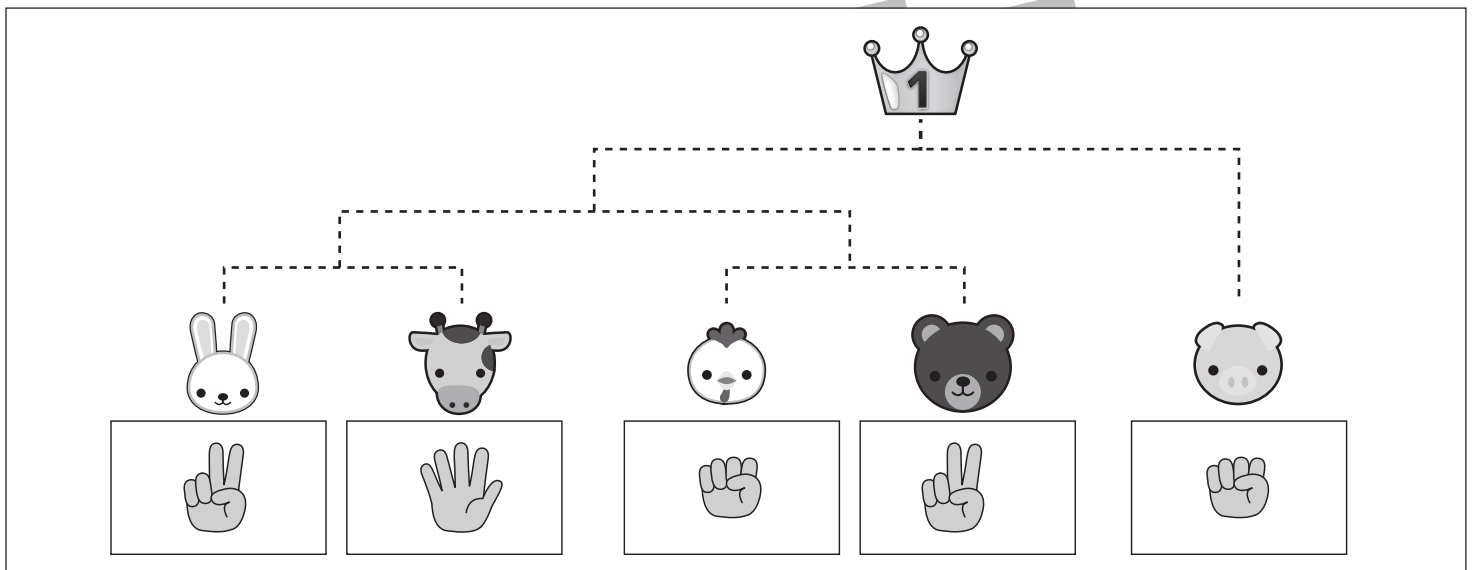
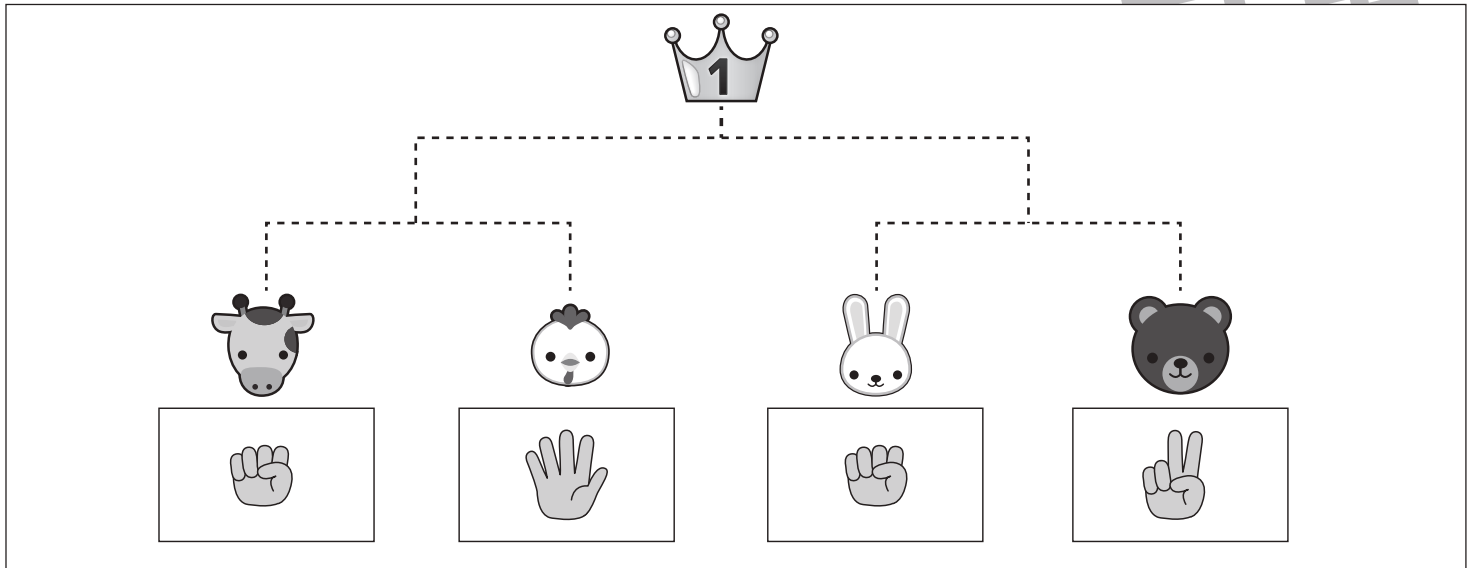


# おうちで、やろう。

Study at home. 小学校受験の家庭学習教材

## 推理：条件推理 40

動物たちがトーナメント勝負をします。トーナメントは点線で結んである2匹の勝負です。勝負はじゃんけんです。動物たちの下の四角の中の手を出して勝負をします。負けた動物は次の勝負に進み、点線で結んである動物と勝負します。この約束で順番に勝負をして一番になった動物に○をつけます。また、それぞれの動物がどのようにトーナメントを進んだか点線をなぞってみましょう。



※1. このプリントは、しながわ・目黒こどもスクールのウェブサイトでダウンロードができます。無断複写・引用はご遠慮ください。

※2. このプリントを活用したオンライン授業のスケジュールは、しながわ・目黒こどもスクールのウェブサイトでご確認ください。



# おうちで、やろう。

Study at home. 小学校受験の家庭学習教材

## 数量：合わせた数 20

左の太い四角の中の果物の数を10個にします。右の4つの四角のうち左の四角の中の果物と合わせて10個になるものを選んで○をつけます。

--	--	--	--	--

--	--	--	--	--

--	--	--	--	--

--	--	--	--	--

※1. このプリントは、しながわ・目黒こどもスクールのウェブサイトでダウンロードができます。無断複写・引用はご遠慮ください。  
 ※2. このプリントを活用したオンライン授業のスケジュールは、しながわ・目黒こどもスクールのウェブサイトでご確認ください。





# おうちで、やろう。

Study at home. 小学校受験の家庭学習教材

## 数量：合わせた数 21

5つの四角のうち、2つの四角の中の果物を合わせて8個にします。どれとどれを合わせればよいですか。2つ選んで○をつけます。

--	--	--	--	--

--	--	--	--	--

--	--	--	--	--

--	--	--	--	--

※1. このプリントは、しながわ・目黒こどもスクールのウェブサイトでダウンロードができます。無断複写・引用はご遠慮ください。  
 ※2. このプリントを活用したオンライン授業のスケジュールは、しながわ・目黒こどもスクールのウェブサイトでご確認ください。

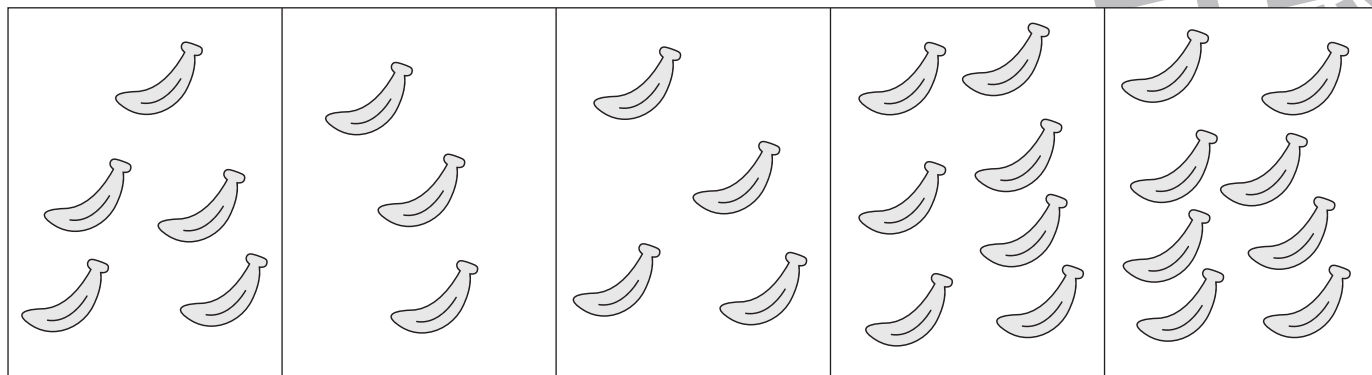
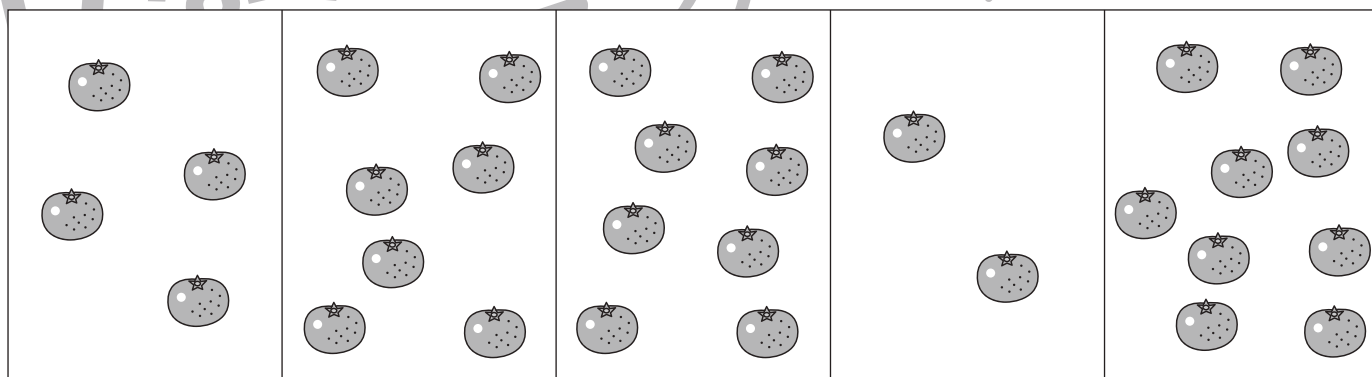
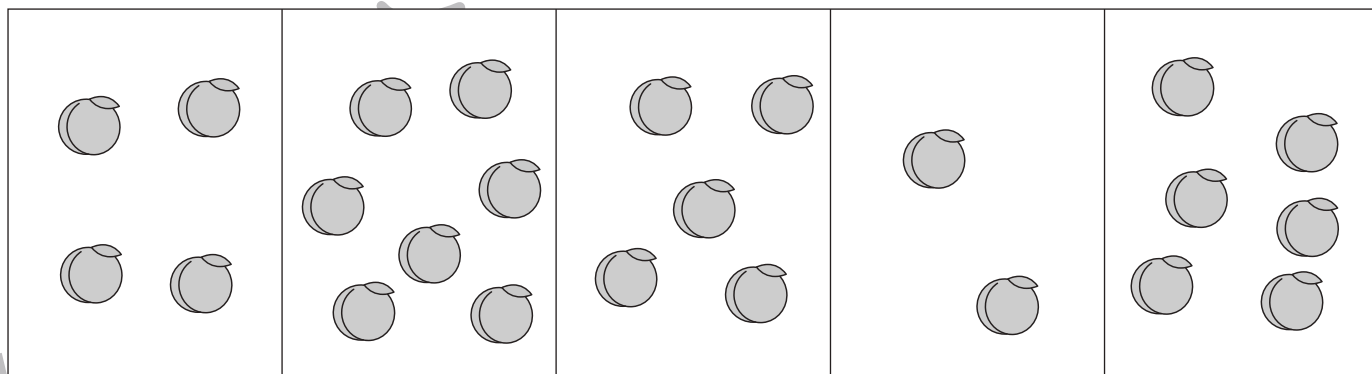



# おうちで、やろう。

Study at home. 小学校受験の家庭学習教材

## 数量：合わせた数 22

5つの四角のうち、2つの四角の中の果物を合わせて10個にします。どれとどれを合わせればよいですか。2つ選んで○をつけます。



※1. このプリントは、しながわ・目黒こどもスクールのウェブサイトからダウンロードできます。無断複写・引用はご遠慮ください。  
 ※2. このプリントを活用したオンライン授業のスケジュールは、しながわ・目黒こどもスクールのウェブサイトでご確認ください。