






おうちで、やろう。

Study at home. 小学校受験の家庭学習教材

言語：音の理解 45

上の点線の四角の中をみて下さい。それぞれ絵があり、下にマスがあります。そのマスの中を見ると、○や線が描かれています。どのようなお約束で描かれているかを考え、その下に描かれているものの場合、どのようになるかを考えて、マスの中に印を描きましょう。

																	
<table border="1" style="display: inline-table;"> <tr> <td style="width: 20px; height: 20px;">○</td> <td style="width: 20px; height: 20px;">●</td> <td style="width: 20px; height: 20px;">○</td> <td style="width: 20px; height: 20px;">/</td> <td style="width: 20px; height: 20px;">/</td> </tr> </table>	○	●	○	/	/	<table border="1" style="display: inline-table;"> <tr> <td style="width: 20px; height: 20px;">○</td> <td style="width: 20px; height: 20px;">○</td> <td style="width: 20px; height: 20px;">○</td> <td style="width: 20px; height: 20px;">◎</td> <td style="width: 20px; height: 20px;">○</td> </tr> </table>	○	○	○	◎	○	<table border="1" style="display: inline-table;"> <tr> <td style="width: 20px; height: 20px;">◎</td> <td style="width: 20px; height: 20px;">○</td> <td style="width: 20px; height: 20px;">●</td> <td style="width: 20px; height: 20px;">/</td> <td style="width: 20px; height: 20px;">/</td> </tr> </table>	◎	○	●	/	/
○	●	○	/	/													
○	○	○	◎	○													
◎	○	●	/	/													



--	--	--	--	--



--	--	--	--	--



--	--	--	--	--



--	--	--	--	--




--	--	--	--	--



--	--	--	--	--



--	--	--	--	--



--	--	--	--	--



--	--	--	--	--



--	--	--	--	--










※1. このプリントは、しながわ・目黒こどもスクールのウェブサイトでダウンロードができます。無断複写・引用はご遠慮ください。
※2. このプリントを活用したオンライン授業のスケジュールは、しながわ・目黒こどもスクールのウェブサイトでご確認ください。



おうちで、やろう。

Study at home. 小学校受験の家庭学習教材

左の四角の中の人と、関わりのある物を右の四角から選び線で結びましょう。



※1. このプリントは、しながわ・目黒こどもスクールのウェブサイトでダウンロードができます。無断複写・引用はご遠慮ください。
※2. このプリントを活用したオンライン授業のスケジュールは、しながわ・目黒こどもスクールのウェブサイトでご確認ください。





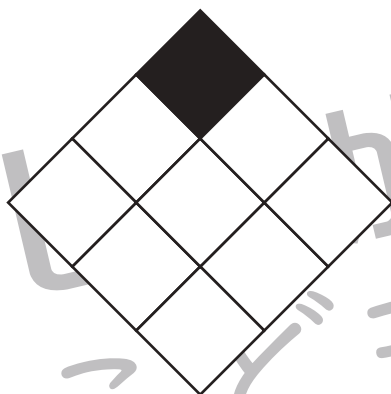
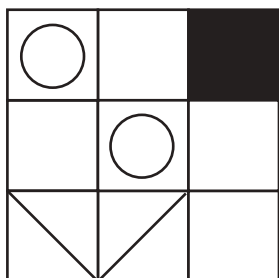
おうちで、やろう。

Study at home. 小学校受験の家庭学習教材


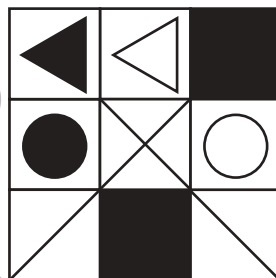
図形：回転 80

左の四角がお手本です。このお手本が右のように回転したときの見え方を考えて足りない形を右の四角にかきます。

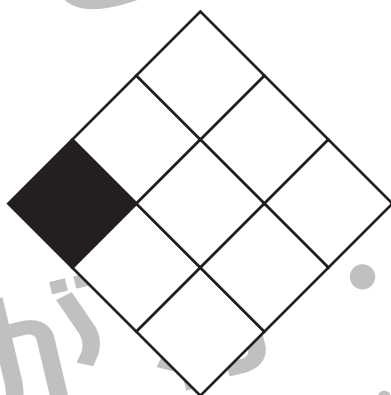
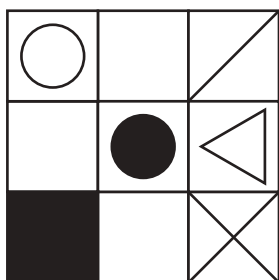
①



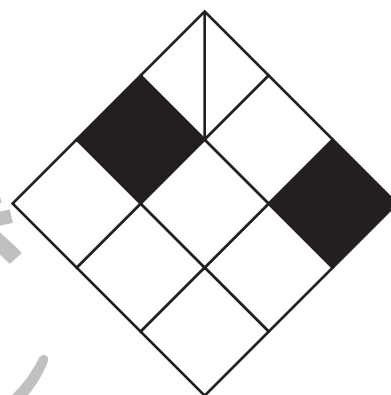

⑤



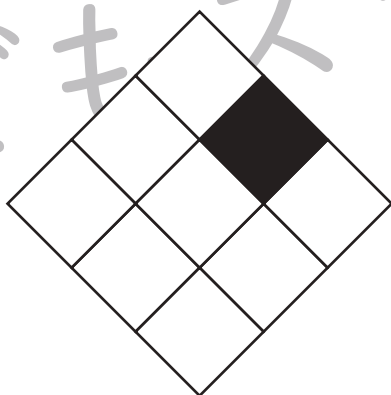

②



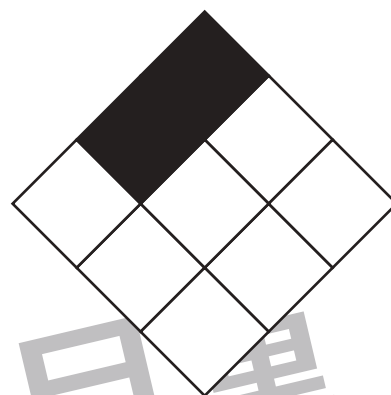

⑥



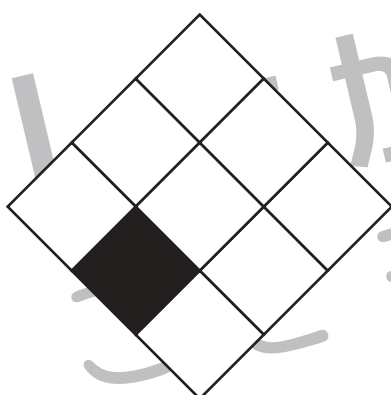

③



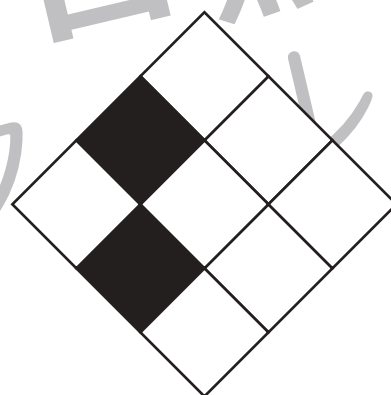

⑦



④



⑧



※1. このプリントは、しながわ・目黒こどもスクールのウェブサイトでダウンロードができます。無断複写・引用はご遠慮ください。
※2. このプリントを活用したオンライン授業のスケジュールは、しながわ・目黒こどもスクールのウェブサイトでご確認ください。





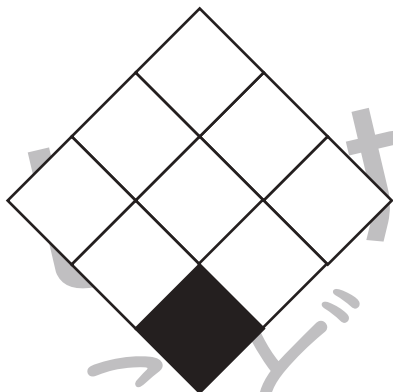
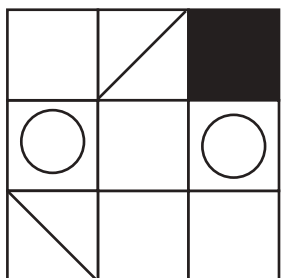
おうちで、やろう。

Study at home. 小学校受験の家庭学習教材

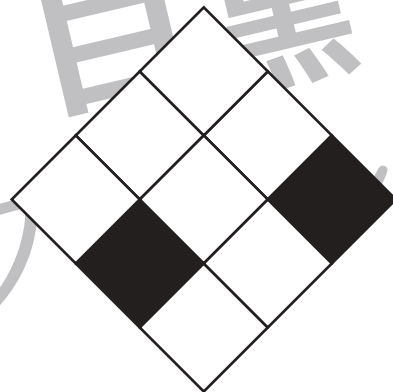

図形：回転 81

左の四角がお手本です。このお手本が右のように回転したときの見え方を考えて足りない形を右の四角にかきます。

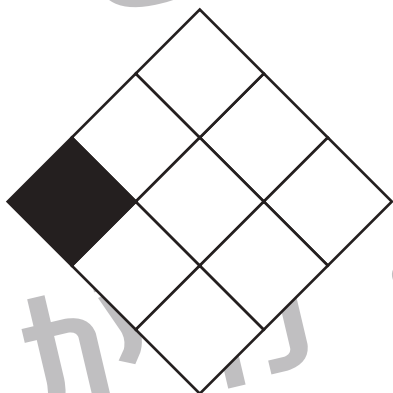

①





⑤



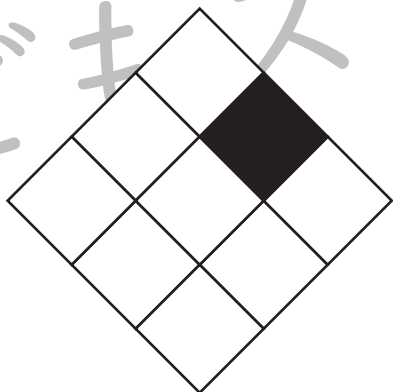

②



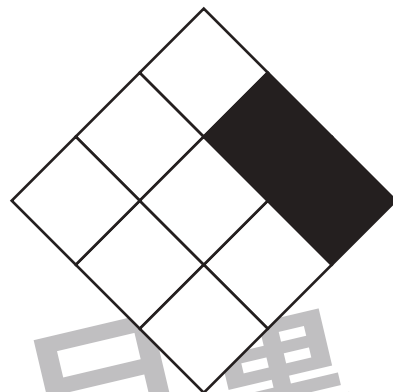
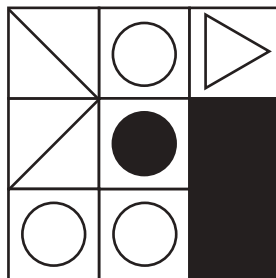
⑥



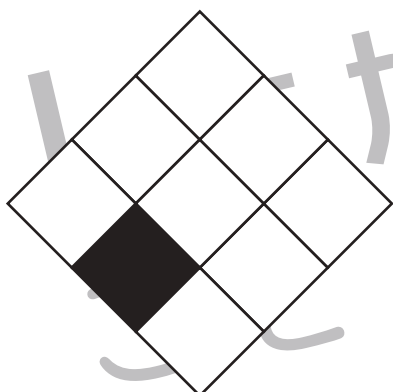

③



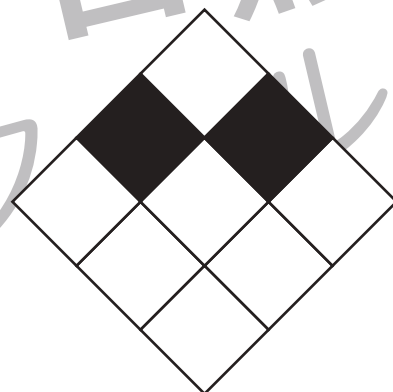

⑦



④



⑧



※1. このプリントは、しながわ・目黒こどもスクールのウェブサイトでダウンロードができます。無断複写・引用はご遠慮ください。
※2. このプリントを活用したオンライン授業のスケジュールは、しながわ・目黒こどもスクールのウェブサイトでご確認ください。



おうちで、やろう。

Study at home. 小学校受験の家庭学習教材

推理：積み木 25

左に描かれているブロックを使って右の四角の中の形を作りました。この中で作れないものが1つありますのでその形に×をつけます。

--	--

--	--

※1. このプリントは、しながわ・目黒こどもスクールのウェブサイトでダウンロードができます。無断複写・引用はご遠慮ください。

※2. このプリントを活用したオンライン授業のスケジュールは、しながわ・目黒こどもスクールのウェブサイトでご確認ください。



おうちで、やろう。

Study at home. 小学校受験の家庭学習教材

推理：隠れた絵 9

下のマスの中にはそれぞれある約束でマークや絵が並んでいます。そのお約束を考え、灰色の中に、下のマークや絵がいくつ入るかを考え、四角の中に○を描きましょう。

☆		☆	☆
♡			♡
☆	☆		
♡			♡

☾	☀	☾	
☀	☾	☀	☾
		☾	☀
☀	☾		☾

☆

☀

🍭	🍬	🍭	
🍭		🍬	🍭
🍬	🍭		
🍭		🍭	🍭

🍏	🍓	🍊	
🍓		🍏	🍓
	🍓		🍏
🍓	🍊	🍏	🍓

🍭

🍏

🍬

🍊

※1. このプリントは、しながわ・目黒こどもスクールのウェブサイトでダウンロードができます。無断複写・引用はご遠慮ください。
 ※2. このプリントを活用したオンライン授業のスケジュールは、しながわ・目黒こどもスクールのウェブサイトでご確認ください。

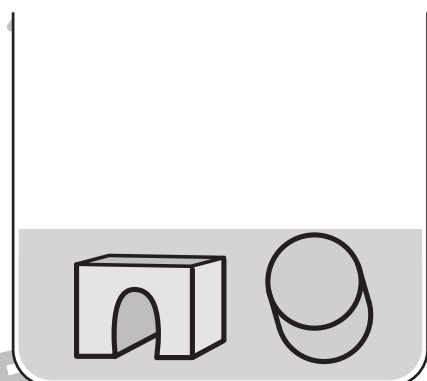

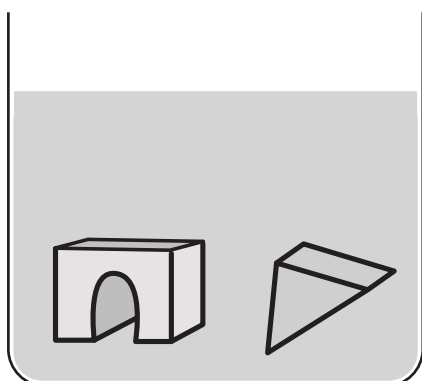
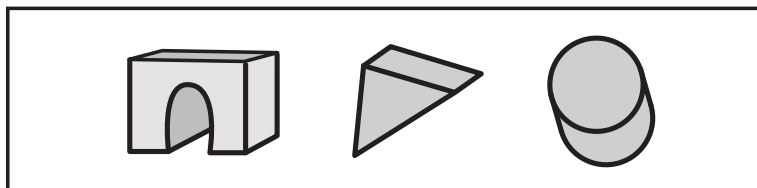


おうちで、やろう。





Study at home. 小学校受験の家庭学習教材

推理：水量 19

太い四角の中には積み木があります。その積み木を2つ一緒に水の中に入れた時、水の高さは下の箱のようになりました。3つの積み木の中で一番大きいものを選んで○をつけましょう。



大きさの違うおもちゃを水の中に入れたら、水の量が下の四角の中になりました。2つのおもちゃを一緒に入れた時、一番水の高さが高くなるものに△を、一番高さが低くなるものに○を描きましょう。



※1. このプリントは、しながわ・目黒こどもスクールのウェブサイトでダウンロードができます。無断複写・引用はご遠慮ください。

※2. このプリントを活用したオンライン授業のスケジュールは、しながわ・目黒こどもスクールのウェブサイトでご確認ください。




おうちで、やろう。

Study at home. 小学校受験の家庭学習教材

数量：計数 28


- ①下の四角の動物の中から、足が2本の動物の数だけ○をかきましょう。
- ②下の四角の動物の中から、足が4本の動物の数だけ○をかきましょう。



①

②

下の四角の中にはいろいろな形が描かれています。この中から、白で描かれている角のある形を選び、全ての角を合わせるといくつになるかを考えて下の四角の中に○をかきましょう。



※1. このプリントは、しながわ・目黒こどもスクールのウェブサイトでダウンロードができます。無断複写・引用はご遠慮ください。
 ※2. このプリントを活用したオンライン授業のスケジュールは、しながわ・目黒こどもスクールのウェブサイトでご確認ください。



おうちで、やろう。

Study at home. 小学校受験の家庭学習教材

数量：長さ 17

【①②】

3つの四角の中の線でちがう長さの四角を見つけて○をつけます。

【③④】

四角の中の線が長い方に○をつけます。

①

②

③

④

※1. このプリントは、しながわ・目黒こどもスクールのウェブサイトでダウンロードができます。無断複写・引用はご遠慮ください。

※2. このプリントを活用したオンライン授業のスケジュールは、しながわ・目黒こどもスクールのウェブサイトでご確認ください。
























おうちで、やろう。

Study at home. 小学校受験の家庭学習教材

図形：置き換え 14

上の太枠がお手本です。それぞれの絵を、すぐ横にある数字に変身させます。上のマス目の絵の場所をよく見て、下のマス目に答えを描きましょう。この問題はスピードを意識して取り組みます。(目安1分～1分30秒)

	1		2		3
	4		5		6

※1. このプリントは、しながわ・目黒こどもスクールのウェブサイトでダウンロードができます。無断複写・引用はご遠慮ください。

※2. このプリントを活用したオンライン授業のスケジュールは、しながわ・目黒こどもスクールのウェブサイトでご確認ください。