

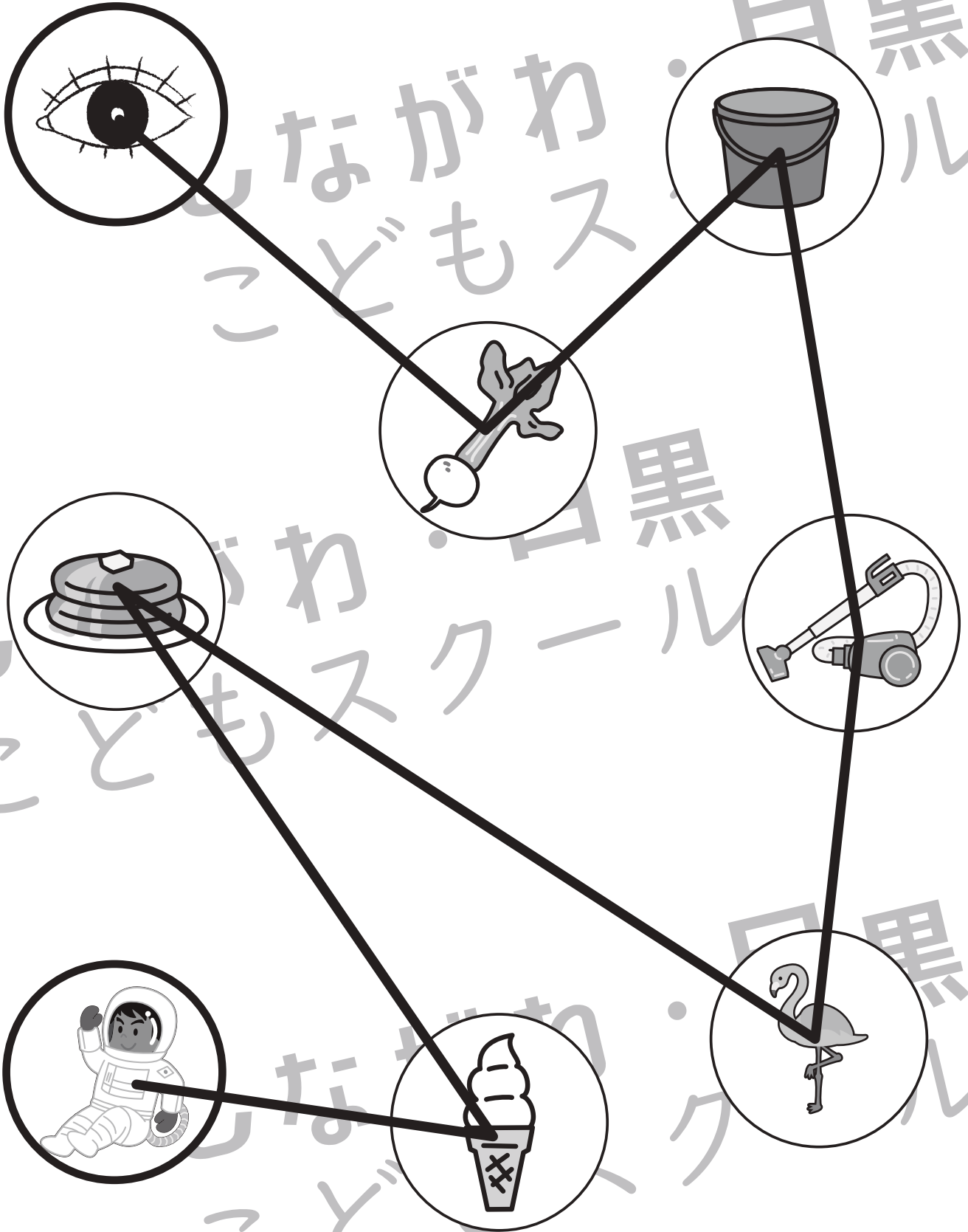


おうちで、やろう。

Study at home. 小学校受験の家庭学習教材

言語：音の数 21

左上の太い丸の目から左下の太い丸の宇宙飛行士まで音の数が1つずつ多くなるように線で結びます。



※1. このプリントは、しながわ・目黒こどもスクールのウェブサイトからダウンロードできます。無断複写・引用はご遠慮ください。
※2. このプリントを活用したオンライン授業のスケジュールは、しながわ・目黒こどもスクールのウェブサイトでご確認ください。

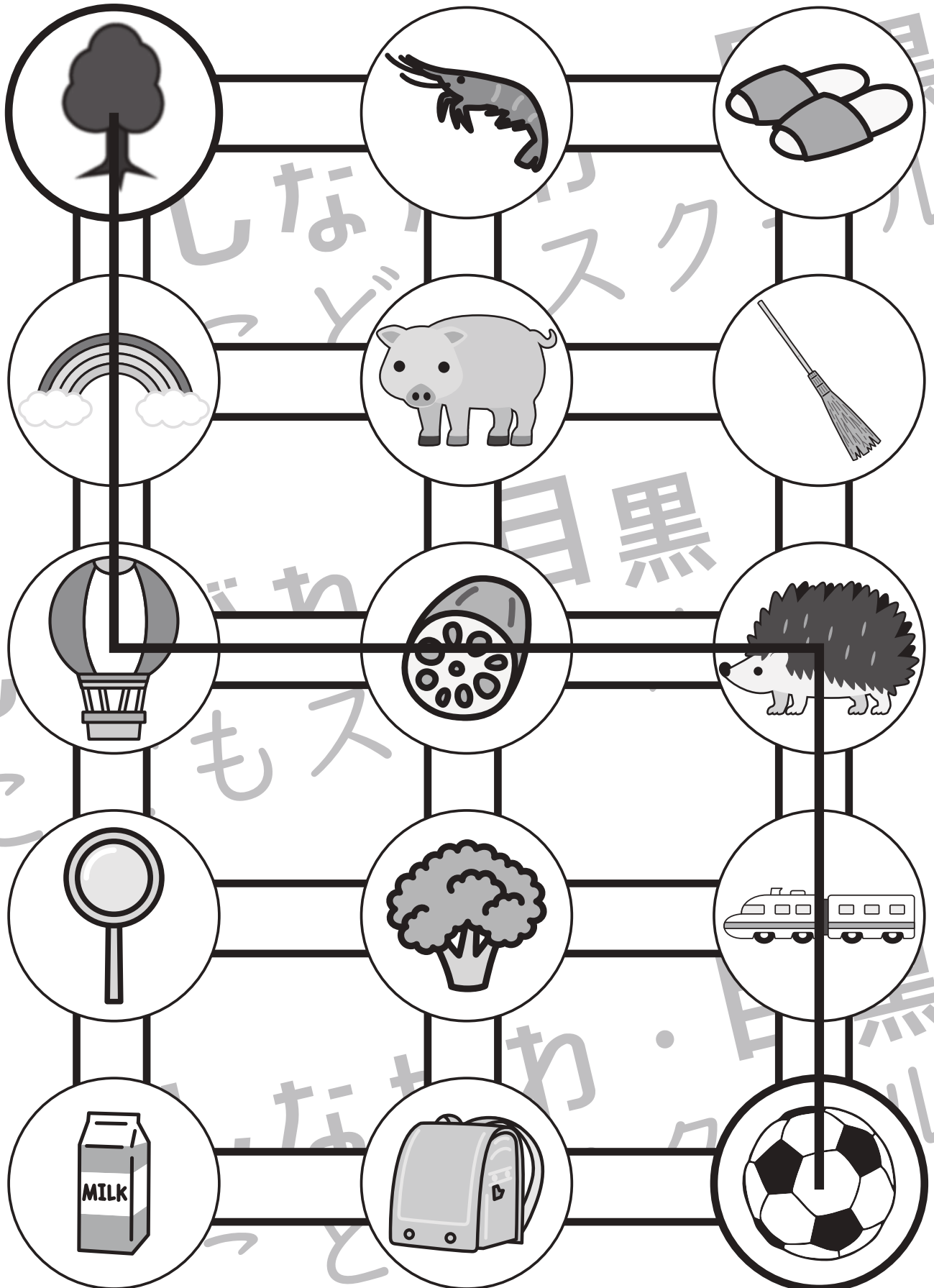


おうちで、やろう。

Study at home. 小学校受験の家庭学習教材

言語：音の数 22

左上の太い丸の木から右下の太い丸のサッカーボールまで音の数が1つずつ多くなるように進み、線をひきます。



※1. このプリントは、しながわ・目黒こどもスクールのウェブサイトでダウンロードができます。無断複写・引用はご遠慮ください。

※2. このプリントを活用したオンライン授業のスケジュールは、しながわ・目黒こどもスクールのウェブサイトでご確認ください。




おうちで、やろう。

Study at home. 小学校受験の家庭学習教材


図形：折り重ね 52

真ん中の太い線で折り重ねたときの見え方を考えます。このとき黒のマスの隠れないで見えている○を見つけて、下の四角に○をかきます。

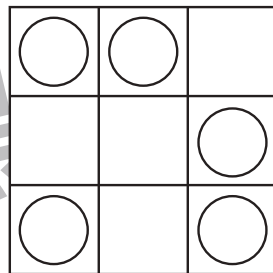
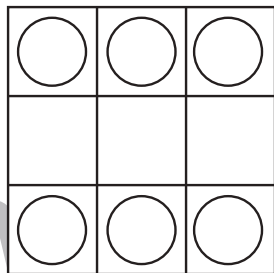
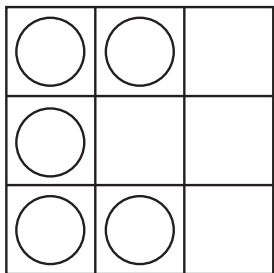
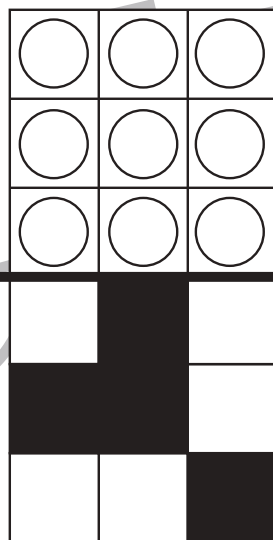
①




③




⑤



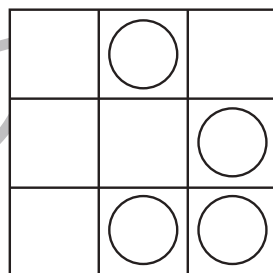
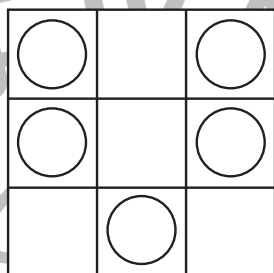
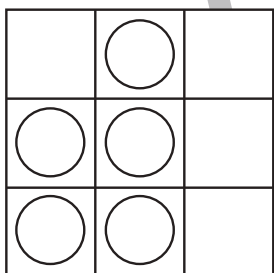

②



④



⑥



※1. このプリントは、しながわ・目黒こどもスクールのウェブサイトでダウンロードができます。無断複写・引用はご遠慮ください。

※2. このプリントを活用したオンライン授業のスケジュールは、しながわ・目黒こどもスクールのウェブサイトでご確認ください。



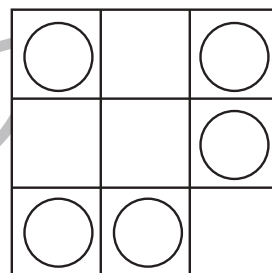

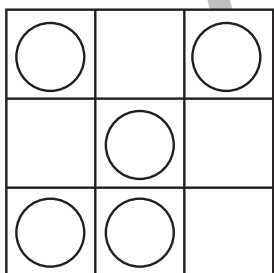



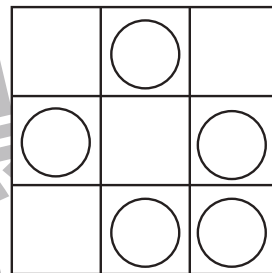
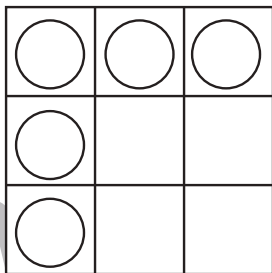
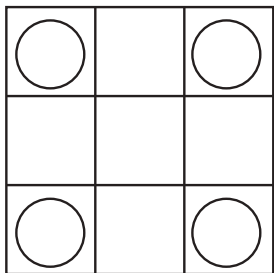





おうちで、やろう。

Study at home. 小学校受験の家庭学習教材

図形：折り重ね 53

真ん中の太い線で折り重ねたときの見え方を考えます。このとき黒のマスの隠れないで見えている○を見つけて、下の四角に○をかきます。



※1. このプリントは、しながわ・目黒こどもスクールのウェブサイトでダウンロードができます。無断複写・引用はご遠慮ください。

※2. このプリントを活用したオンライン授業のスケジュールは、しながわ・目黒こどもスクールのウェブサイトでご確認ください。

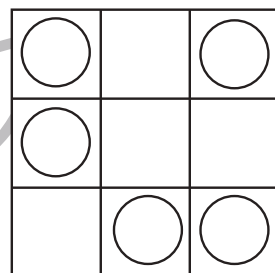
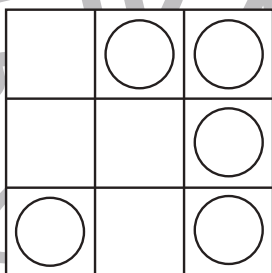
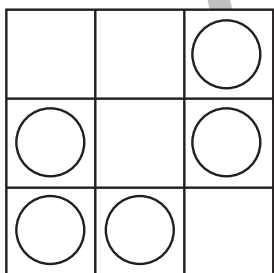



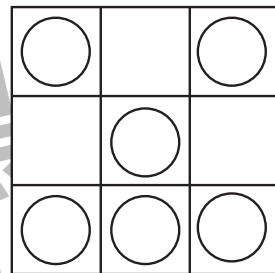
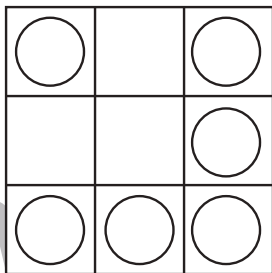
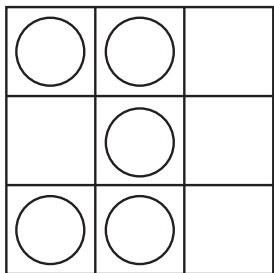





おうちで、やろう。

Study at home. 小学校受験の家庭学習教材

図形：折り重ね 54

真ん中の太い線で折り重ねたときの見え方を考えます。このとき黒のマスの隠れないで見えている○を見つけて、下の四角に○をかきます。



※1. このプリントは、しながわ・目黒こどもスクールのウェブサイトでダウンロードができます。無断複写・引用はご遠慮ください。

※2. このプリントを活用したオンライン授業のスケジュールは、しながわ・目黒こどもスクールのウェブサイトでご確認ください。



おうちで、やろう。

Study at home. 小学校受験の家庭学習教材

数量：的あてゲーム7


今から、果物と野菜が描かれた的の的あてをします。的あてはあたった絵によって得点が違います。果物の的は2点で、野菜の的は1点です。この約束のとき、①～④の問題に答えましょう。

①「ピーマン」と「ナス」の的にボールを当てたとき、何点になりますか。その数だけ〇をかきましょう。

②「バナナ」と「ナス」の的にボールを当てたとき、何点になりますか。その数だけ〇をかきましょう。

③「モモ」と「ブドウ」と「ニンジン」の的にボールを当てたとき、何点になりますか。その数だけ〇をかきましょう。

④「ナス」と「トウモロコシ」と「リンゴ」と「モモ」の的にボールを当てたとき、何点になりますか。その数だけ〇をかきましょう。



①

〇 × 2

②

〇 × 3

③

〇 × 5

④

〇 × 6



おうちで、やろう。

Study at home. 小学校受験の家庭学習教材

数量：的あてゲーム8


今から、動物が描かれた的の的あてをします。的あてはあたった動物によって得点が違います。卵で生まれる動物の的は2点で、赤ちゃんで生まれる動物の的は3点です。この約束のとき、①～④の問題に答えましょう。

①「ライオン」と「カンガルー」の的にボールを当てたとき、何点になりますか。その数だけ◎をかきましょう。

②「ワニ」と「ニワトリ」の的にボールを当てたとき、何点になりますか。その数だけ△をかきましょう。

③「ゾウ」と「ヘビ」と「キツネ」の的にボールを当てたとき、何点になりますか。その数だけ□をかきましょう。

④「カバ」と「ワニ」と「ヘビ」と「ペンギン」の的にボールを当てたとき、何点になりますか。その数だけ○をかきましょう。



①



②



③



④



※1. このプリントは、しながわ・目黒こどもスクールのウェブサイトでダウンロードができます。無断複写・引用はご遠慮ください。

※2. このプリントを活用したオンライン授業のスケジュールは、しながわ・目黒こどもスクールのウェブサイトでご確認ください。