





# おうちで、やろう。


Study at home. 小学校受験の家庭学習教材


## 言語：音の理解 46


上の太い四角がお手本です。絵の隣には名前の音の数だけ○があります。それぞれの四角の中の絵の音の数だけ下の四角の○をなぞります。また、お手本の●の部分は何の音なのかを考えて同じ音の場所を黒く塗ります。○は左端がはじめの音、右端が終わりの音と考えましょう。


	● ○ ○
---	-------



○ ○ ○ ○ ○ ○



● ○ ○ ○ ○ ○ ○



○ ○ ● ○ ○ ○ ○

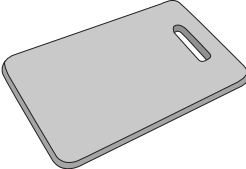

○ ○ ● ○ ○ ○ ○


○ ○ ○ ○ ○ ○ ○


○ ○ ● ○ ○ ○ ○


○ ○ ● ○ ○ ○ ○


● ○ ○ ○ ○ ○ ○


○ ○ ○ ○ ○ ○ ○

※1. このプリントは、しながわ・目黒こどもスクールのウェブサイトからダウンロードできます。無断複写・引用はご遠慮ください。

※2. このプリントを活用したオンライン授業のスケジュールは、しながわ・目黒こどもスクールのウェブサイトでご確認ください。





# おうちで、やろう。



Study at home. 小学校受験の家庭学習教材

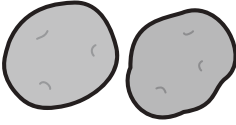

## 言語：音の理解 47



上の太い四角がお手本です。絵の隣には名前の音の数だけ○があります。それぞれの四角の中の絵の音の数だけ下の四角の○をなぞります。また、お手本の●の部分は「ちゃ」「ちゅ」「ちょ」のように小さい「や」「ゆ」「よ」の場所です。お手本と同じような音の場所の○をぬります。○は左端がはじめの音、右端が終わりの音と考えましょう。



	
---	--






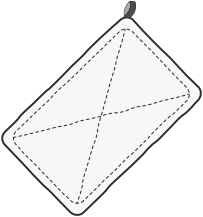














※1. このプリントは、しながわ・目黒こどもスクールのウェブサイトからダウンロードできます。無断複写・引用はご遠慮ください。

※2. このプリントを活用したオンライン授業のスケジュールは、しながわ・目黒こどもスクールのウェブサイトでご確認ください。





# おうちで、やろう。

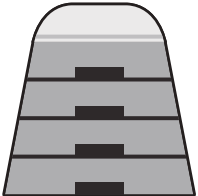
Study at home. 小学校受験の家庭学習教材


## 言語：音の理解 48


上の太い四角がお手本です。絵の隣には名前の音の数だけ○があります。それぞれの四角の中の絵の音の数だけ下の四角の○をなぞります。また、お手本の●の部分は伸ばす音の場所です。お手本と同じような音の場所の○をぬります。○は左端がはじめの音、右端が終わりの音と考えましょう。


	○ ● ○ ○
---	---------



○ ○ ● ○ ○ ○ ○

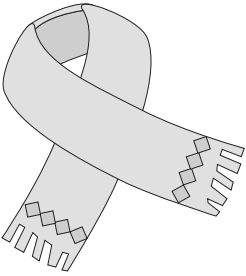

○ ○ ○ ○ ○ ○ ○ ○

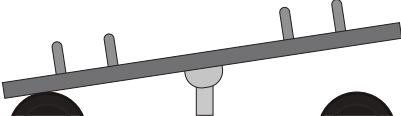

○ ○ ○ ○ ○ ○ ○ ○



○ ○ ○ ○ ○ ○ ●


○ ○ ○ ● ○ ●


○ ○ ○ ○ ○ ○ ○ ○


○ ○ ○ ● ○ ○ ○ ○


○ ● ○ ● ○ ○ ○ ○


○ ○ ○ ○ ○ ○ ○ ○

※1. このプリントは、しながわ・目黒こどもスクールのウェブサイトダウンロードができます。無断複写・引用はご遠慮ください。

※2. このプリントを活用したオンライン授業のスケジュールは、しながわ・目黒こどもスクールのウェブサイトでご確認ください。



# おうちで、やろう。

Study at home. 小学校受験の家庭学習教材

## 指示の聞き取り 24

お話を聞いた後で動物たちがそれぞれじゃんけんを何を出したか考えて線をひきましょう。ただし、3匹とも違う手を出します。

①リスさんはグーを出しました。ウサギさんはチョキは出ませんでした。パンダさんはパーは出ませんでした。

②パンダさんはグーを出しました。ウサギさんとリスさんはウサギさんが勝ちました。

③パンダさんはパーを出してリスさんに勝ちました。

④ウサギさんはグーを出したパンダさんに負けてしまいました。

①

②

③

④

※1. このプリントは、しながわ・目黒こどもスクールのウェブサイトでダウンロードができます。無断複写・引用はご遠慮ください。

※2. このプリントを活用したオンライン授業のスケジュールは、しながわ・目黒こどもスクールのウェブサイトでご確認ください。

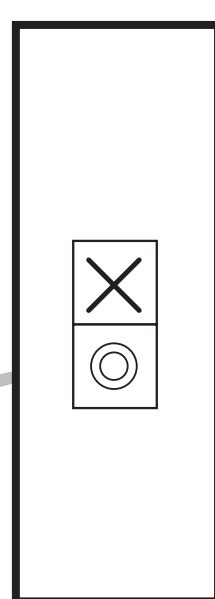

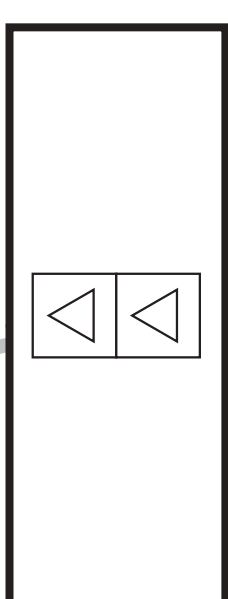

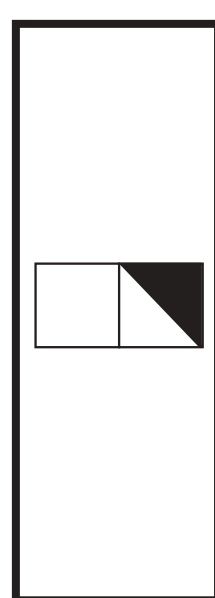

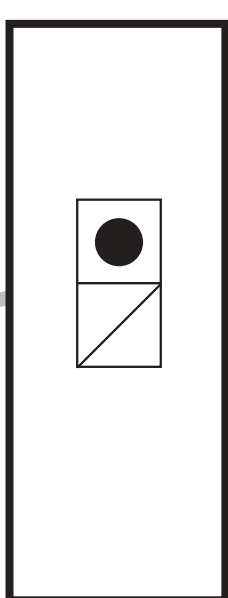

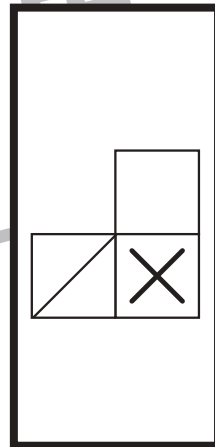
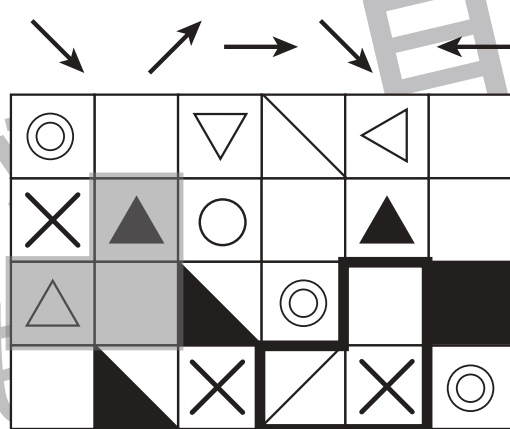
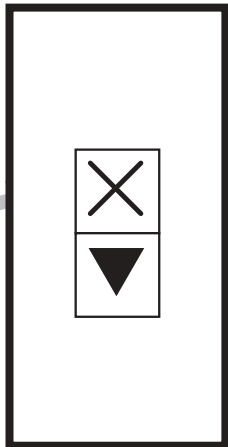
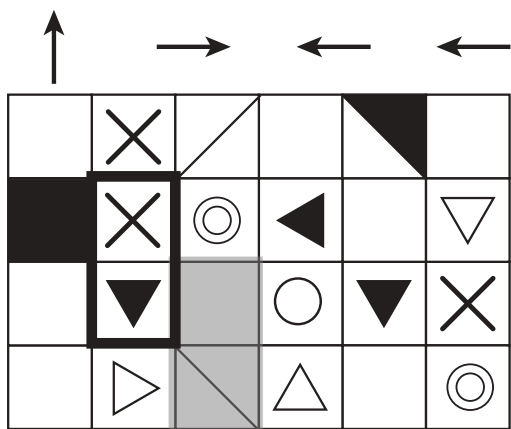


# おうちで、やろう。

Study at home. 小学校受験の家庭学習教材

## 図形：移動 55

左にはマスに灰色の四角がありますね。この四角が上の矢印を左から順番に移動したとき、最後に着いた場所のマス目の模様を考え、右の太い四角の中に形をかきます。



※1. このプリントは、しながわ・目黒こどもスクールのウェブサイトでダウンロードができます。無断複写・引用はご遠慮ください。  
 ※2. このプリントを活用したオンライン授業のスケジュールは、しながわ・目黒こどもスクールのウェブサイトでご確認ください。

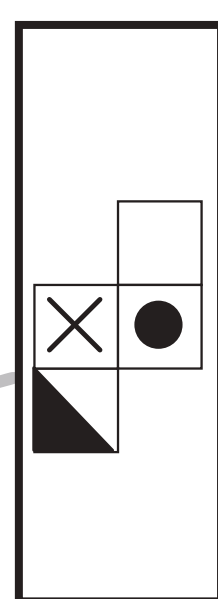



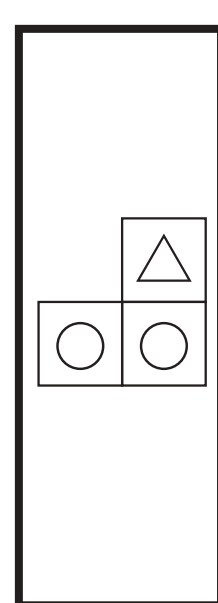

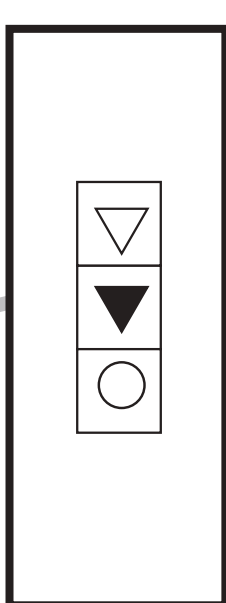

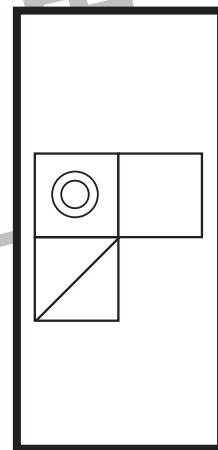
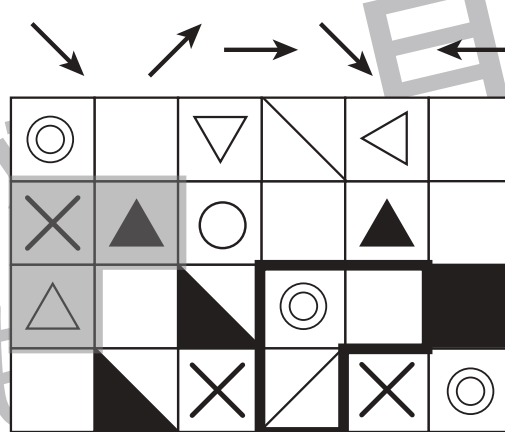
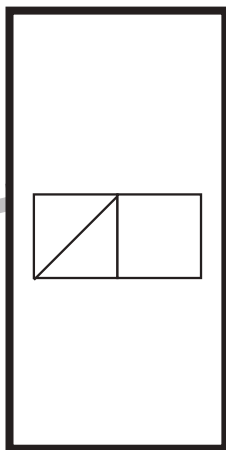
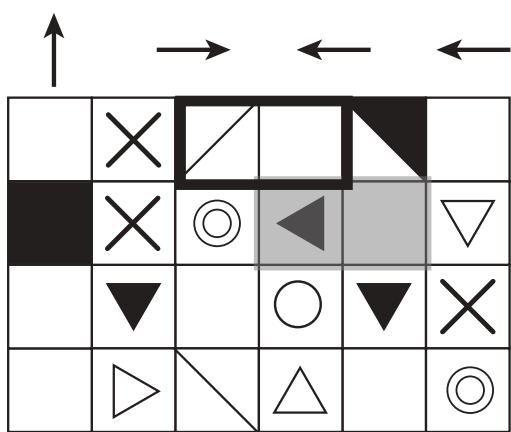


# おうちで、やろう。

Study at home. 小学校受験の家庭学習教材

## 図形：移動 56

左にはマスに灰色の四角がありますね。この四角が上の矢印を左から順番に移動したとき、最後に着いた場所のマス目の模様を考え、右の太い四角の中に形をかきます。



※1. このプリントは、しながわ・目黒こどもスクールのウェブサイトでダウンロードができます。無断複写・引用はご遠慮ください。  
 ※2. このプリントを活用したオンライン授業のスケジュールは、しながわ・目黒こどもスクールのウェブサイトでご確認ください。



# おうちで、やろう。

Study at home. 小学校受験の家庭学習教材

数量：違う数 17

それぞれの四角の中のピーマンとナスの数の違いはいくつですか。その数だけウサギは前に進みます。左の四角から順番にみていったとき、最後に着いたマスに○をかきます。

	→										
				○							

	→		→								
				○							

	→		→								
										○	

	→		→		→						
											○

※1. このプリントは、しながわ・目黒こどもスクールのウェブサイトでダウンロードができます。無断複写・引用はご遠慮ください。

※2. このプリントを活用したオンライン授業のスケジュールは、しながわ・目黒こどもスクールのウェブサイトでご確認ください。



# おうちで、やろう。

Study at home. 小学校受験の家庭学習教材

数量：違う数 18

それぞれの四角の中のトマトとニンジンの数の違いはいくつですか。その数だけウサギは前に進みます。左の四角から順番にみていったとき、最後に着いたマスに○をかきます。

	→										
				○							

	→		→								
							○				

	→		→								
								○			

	→		→		→						
											○

※1. このプリントは、しながわ・目黒こどもスクールのウェブサイトでダウンロードができます。無断複写・引用はご遠慮ください。  
 ※2. このプリントを活用したオンライン授業のスケジュールは、しながわ・目黒こどもスクールのウェブサイトでご確認ください。





# おうちで、やろう。

Study at home. 小学校受験の家庭学習教材

数量：違う数 19

それぞれの四角の中のピーマン、ナス、トマトの中で数が一番多いものと一番少ないものの数の違いはいくつですか。その数だけウサギは前に進みます。左の四角から順番にみていったとき、最後に着いたマスに○をかきます。

	→									
										○

	→		→							
										○

	→		→							
										○

	→		→		→					
										○

※1. このプリントは、しながわ・目黒こどもスクールのウェブサイトでダウンロードができます。無断複写・引用はご遠慮ください。

※2. このプリントを活用したオンライン授業のスケジュールは、しながわ・目黒こどもスクールのウェブサイトでご確認ください。