



# おうちで、やろう。

Study at home. 小学校受験の家庭学習教材

## 推理：ルーレット5

2つのルーレットが矢印の方向へ回ります。それぞれのルーレットが回ったとき、右の四角の太枠の中の動物とくっつく食べ物を考えて○をつけます。


※1. このプリントは、しながわ・目黒こどもスクールのウェブサイトからダウンロードできます。無断複写・引用はご遠慮ください。

※2. このプリントを活用したオンライン授業のスケジュールは、しながわ・目黒こどもスクールのウェブサイトでご確認ください。


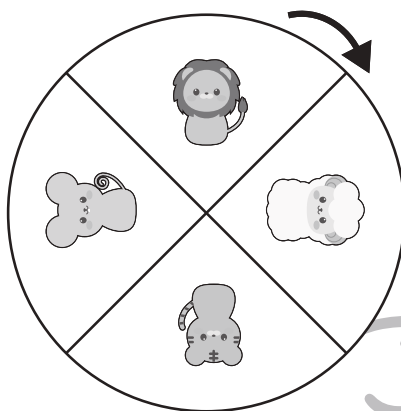







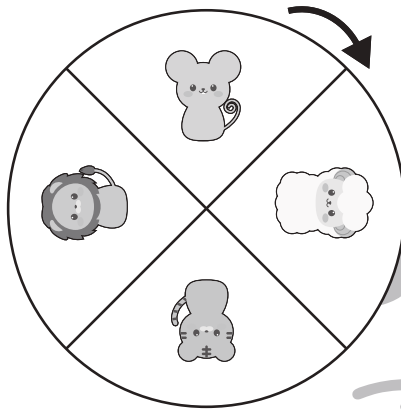


# おうちで、やろう。

Study at home. 小学校受験の家庭学習教材

## 推理：ルーレット6

2つのルーレットが矢印の方向へ回ります。それぞれのルーレットが回ったとき、右の四角の太枠の中の動物とくっつく食べ物を考えて○をつけます。



※1. このプリントは、しながわ・目黒こどもスクールのウェブサイトからダウンロードできます。無断複写・引用はご遠慮ください。

※2. このプリントを活用したオンライン授業のスケジュールは、しながわ・目黒こどもスクールのウェブサイトでご確認ください。



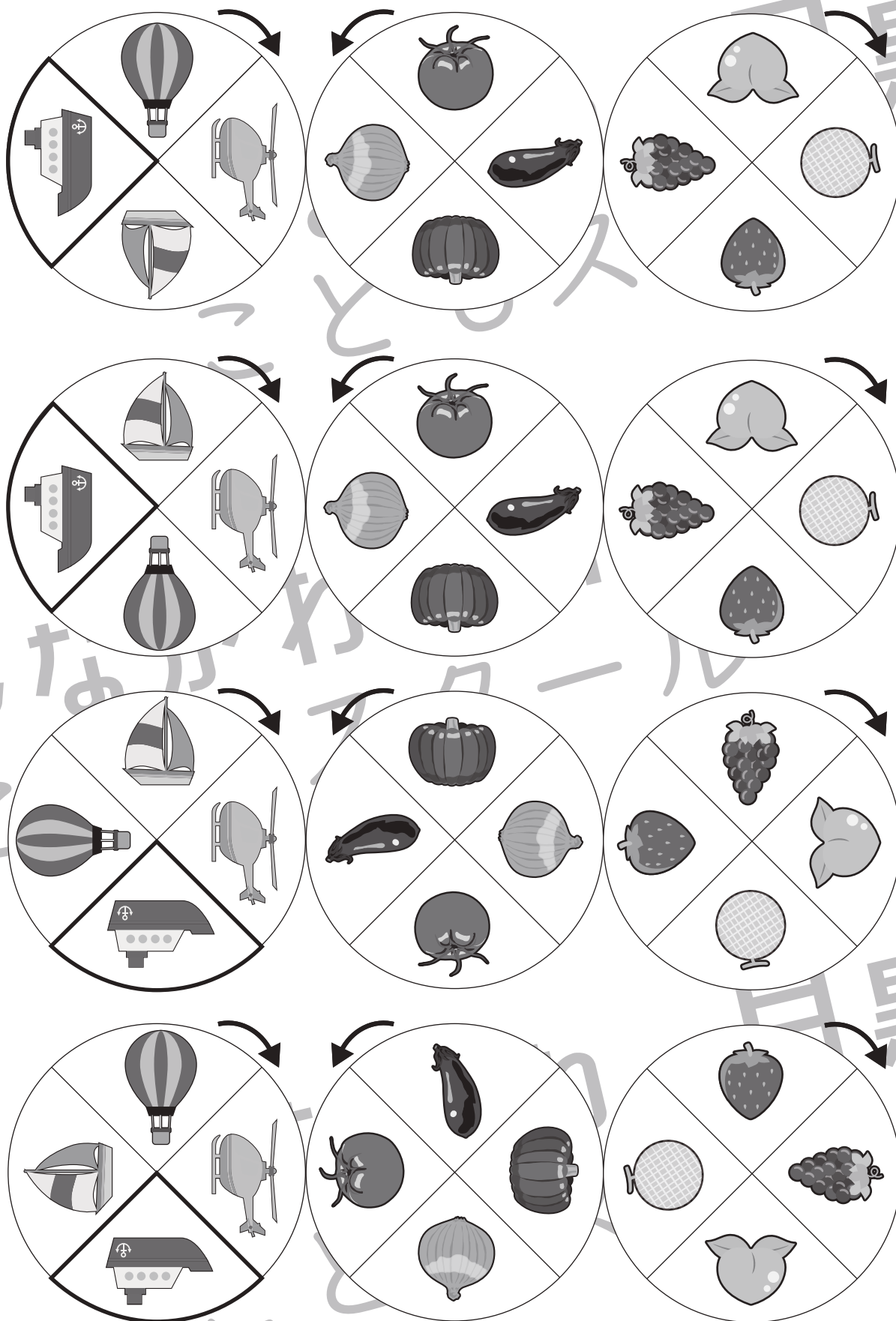


# おうちで、やろう。

Study at home. 小学校受験の家庭学習教材

## 推理：ルーレット7

3つのルーレットが矢印の方向へ回ります。それぞれのルーレットが回って、太い枠の船がヘリコプターの位置まで回ります。その時に船とくっつく野菜に○を、野菜のルーレットとくっついている果物に△を付けます。



※1. このプリントは、しながわ・目黒こどもスクールのウェブサイトでダウンロードができます。無断複写・引用はご遠慮ください。

※2. このプリントを活用したオンライン授業のスケジュールは、しながわ・目黒こどもスクールのウェブサイトでご確認ください。




# おうちで、やろう。







Study at home. 小学校受験の家庭学習教材

推理：観覧車6

動物たちが観覧車に乗って、観覧車は矢印の方向へ回ります。

- ①ブタのゴンドラが一番上に来た時、一番下になるゴンドラに乗っている動物は誰ですか。下の四角に○をかきます。
- ②ウサギのゴンドラが一番下に来た時、一番上になるゴンドラに乗っている動物は誰ですか。下の四角に△をかきます。
- ③コアラのゴンドラが一番上に来た時、一番下になるゴンドラに乗っている動物は誰ですか。下の四角に×をかきます。
- ④ブタがウサギの場所に来た時、一番下になるゴンドラに乗っている動物は誰ですか。下の四角に□をかきます。



※1. このプリントは、しながわ・目黒こどもスクールのウェブサイトからダウンロードできます。無断複写・引用はご遠慮ください。  
 ※2. このプリントを活用したオンライン授業のスケジュールは、しながわ・目黒こどもスクールのウェブサイトでご確認ください。




# おうちで、やろう。

Study at home. 小学校受験の家庭学習教材

推理：観覧車7

動物たちが観覧車に乗って、観覧車は矢印の方向へ回ります。

- ①ネズミのゴンドラが一番上に来た時、一番下になるゴンドラに乗っている動物は誰ですか。下の四角に○をかきます。
- ②フタのゴンドラがネコのゴンドラの場合に来た時、今タヌキのゴンドラの場合に来る動物は誰ですか。下の四角に△をかきます。
- ③ネズミのゴンドラがリスのゴンドラの場合に来た時、今フタのゴンドラの場合に来る動物は誰ですか。下の四角に×をかきます。
- ④ウサギのゴンドラが5つ進むとネコのゴンドラの場合は今どの動物がいるゴンドラですか。下の四角に□をかきます。




※1. このプリントは、しながわ・目黒こどもスクールのウェブサイトでダウンロードができます。無断複写・引用はご遠慮ください。  
 ※2. このプリントを活用したオンライン授業のスケジュールは、しながわ・目黒こどもスクールのウェブサイトでご確認ください。


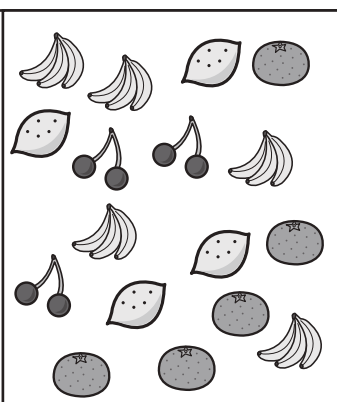







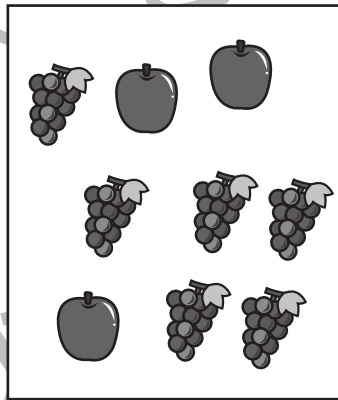







# おうちで、やろう。

Study at home. 小学校受験の家庭学習教材

処理：同数2

左の太い四角にある果物の数と同じ数の果物が入っている四角を右の3つの中から選び○をつけます。  
この問題はスピードを意識して取り組む練習をしてみましょう。(1分30秒～2分)



※1. このプリントは、しながわ・目黒こどもスクールのウェブサイトからダウンロードできます。無断複写・引用はご遠慮ください。  
※2. このプリントを活用したオンライン授業のスケジュールは、しながわ・目黒こどもスクールのウェブサイトでご確認ください。


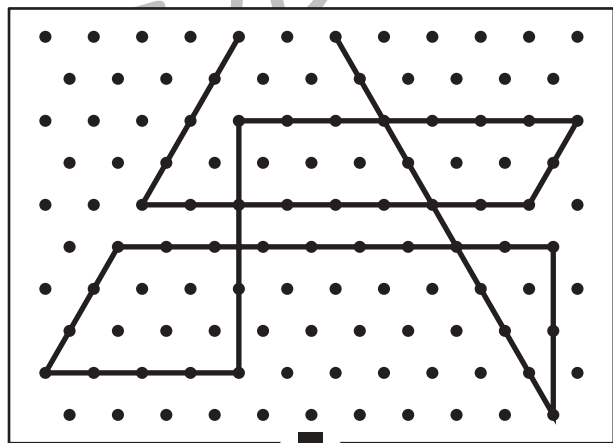

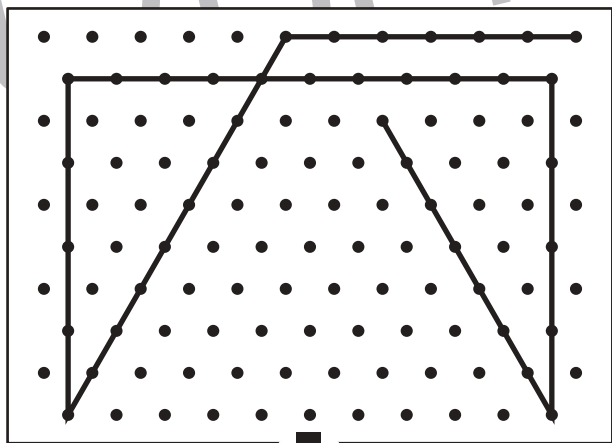

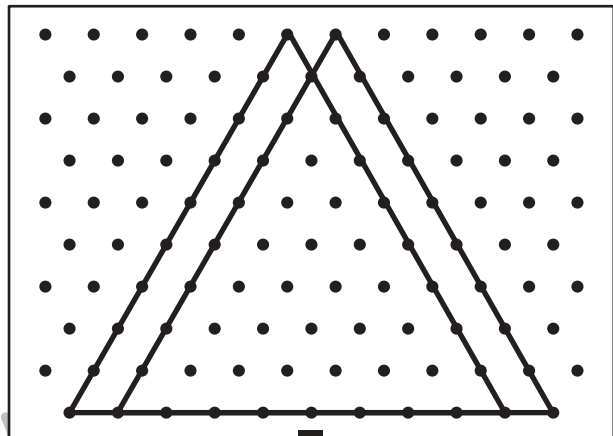

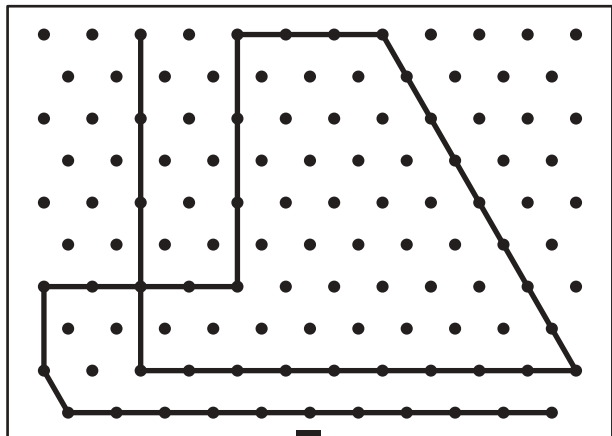


# おうちで、やろう。

Study at home. 小学校受験の家庭学習教材

## 図形：点図形 63

上のお手本と同じになるように下の四角の点と点を結びます。※このプリントに解答はありません。



※1. このプリントは、しながわ・目黒こどもスクールのウェブサイトからダウンロードできます。無断複写・引用はご遠慮ください。

※2. このプリントを活用したオンライン授業のスケジュールは、しながわ・目黒こどもスクールのウェブサイトでご確認ください。





# おうちで、やろう。

Study at home. 小学校受験の家庭学習教材


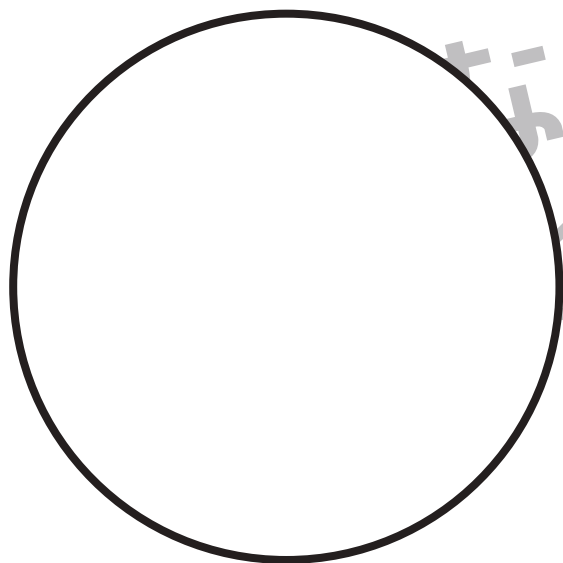
巧緻性：はさみ 14

①真ん中の点線をはさみできます。

②切り取った灰色の紙を使い上の○、□と同じ大きさの形になるように切ります。灰色の紙にはそれぞれの形はありませんので、自分で大きさや形を考えながら切りましょう。

③切った形を上形の形に合わせてのりで貼り付けます。

※この問題に解答はありません。





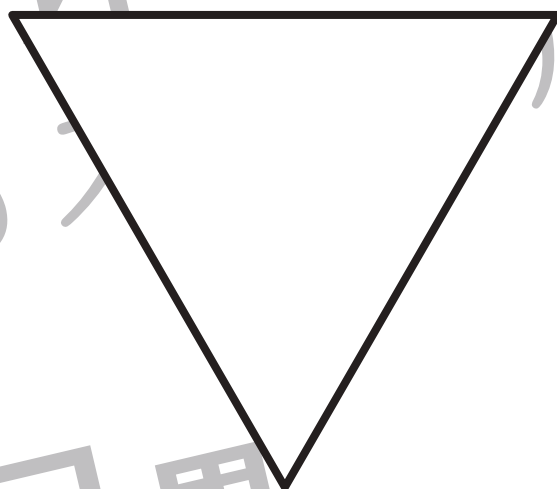
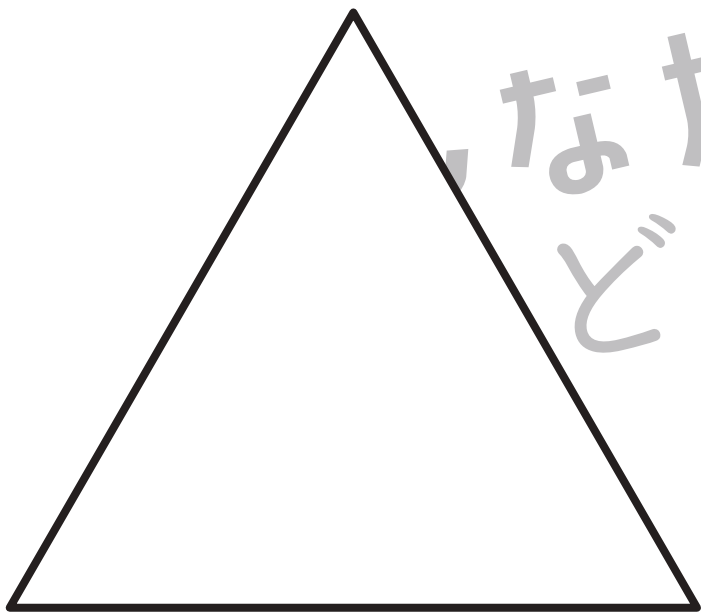


# おうちで、やろう。

Study at home. 小学校受験の家庭学習教材

巧緻性：はさみ 15

- ①真ん中の点線をはさみできます。
  - ②切り取った灰色の紙を使い上の△と同じ大きさの形になるように切ります。灰色の紙にはそれぞれの形はありませんので、自分で大きさや形を考えながら切りましょう。
  - ③切った形を上形の形に合わせてのりで貼り付けます。
- ※この問題に解答はありません。





# おうちで、やろう。

Study at home. 小学校受験の家庭学習教材

巧緻性：はさみ 16

- ①真ん中の点線をはさみできます。
  - ②切り取った灰色の紙を使い上の○と同じ大きさの形になるように切ります。灰色の紙にはそれぞれの形はありませんので、自分で大きさや形を考えながら切りましょう。
  - ③切った形を上形の形に合わせてのりで貼り付けます。
- ※この問題に解答はありません。

