









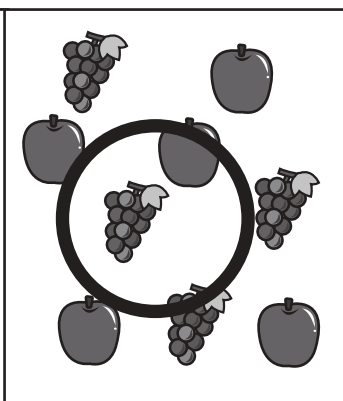

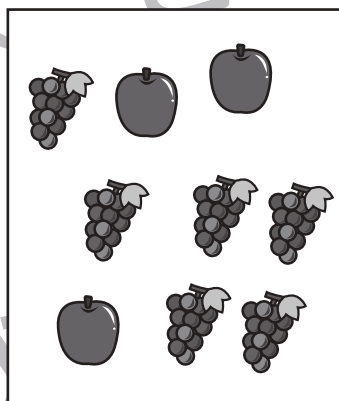
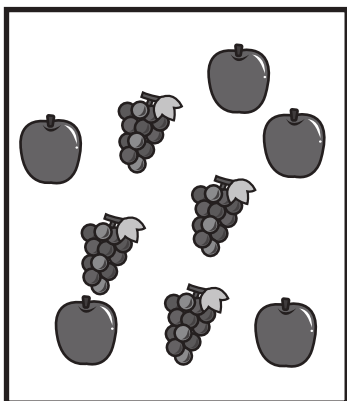






おうちで、やろう。

Study at home. 小学校受験の家庭学習教材

処理：同数2

左の太い四角にある果物の数と同じ数の果物が入っている四角を右の3つの中から選び○をつけます。
この問題はスピードを意識して取り組む練習をしてみましょう。(1分30秒～2分)



※1. このプリントは、しながわ・目黒こどもスクールのウェブサイトでダウンロードができます。無断複写・引用はご遠慮ください。
※2. このプリントを活用したオンライン授業のスケジュールは、しながわ・目黒こどもスクールのウェブサイトでご確認ください。

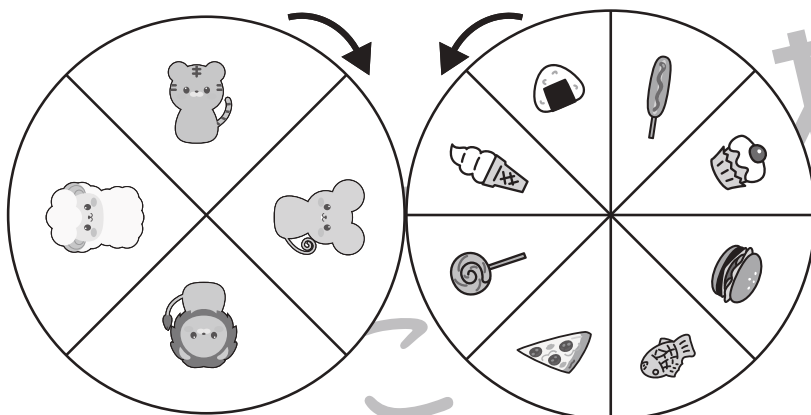

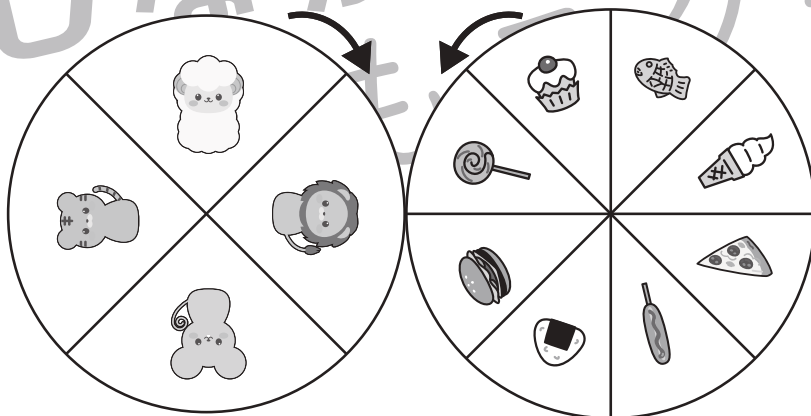

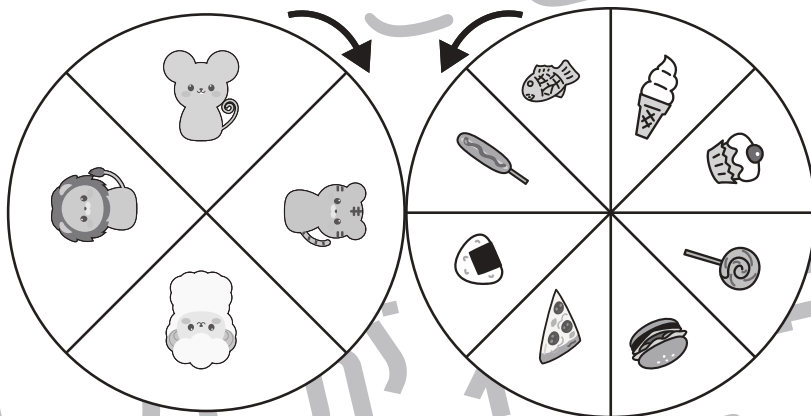

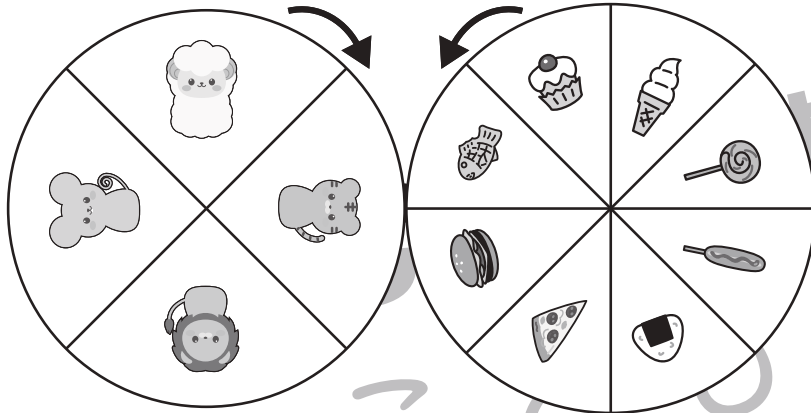


おうちで、やろう。

Study at home. 小学校受験の家庭学習教材

推理：ルーレット5

2つのルーレットが矢印の方向へ回ります。それぞれのルーレットが回ったとき、右の四角の太枠の中の動物とくっつく食べ物を考えて○をつけます。



※1. このプリントは、しながわ・目黒こどもスクールのウェブサイトからダウンロードできます。無断複写・引用はご遠慮ください。
 ※2. このプリントを活用したオンライン授業のスケジュールは、しながわ・目黒こどもスクールのウェブサイトでご確認ください。


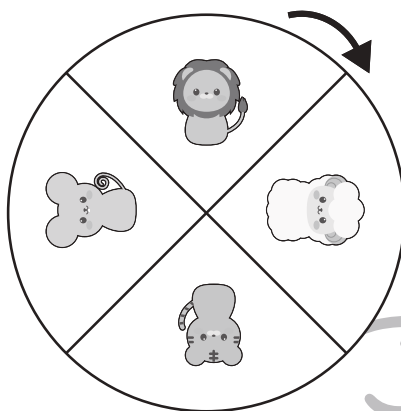







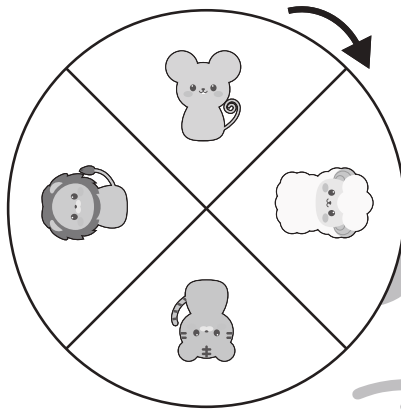


おうちで、やろう。

Study at home. 小学校受験の家庭学習教材

推理：ルーレット6

2つのルーレットが矢印の方向へ回ります。それぞれのルーレットが回ったとき、右の四角の太枠の中の動物とくっつく食べ物を考えて○をつけます。



※1. このプリントは、しながわ・目黒こどもスクールのウェブサイトからダウンロードできます。無断複写・引用はご遠慮ください。

※2. このプリントを活用したオンライン授業のスケジュールは、しながわ・目黒こどもスクールのウェブサイトでご確認ください。






おうちで、やろう。

Study at home. 小学校受験の家庭学習教材

推理：ルーレット7

3つのルーレットが矢印の方向へ回ります。それぞれのルーレットが回って、太い枠の船がヘリコプターの位置まで回ります。その時に船とくっつく野菜に○を、野菜のルーレットとくっついている果物に△を付けます。



※1. このプリントは、しながわ・目黒こどもスクールのウェブサイトでダウンロードができます。無断複写・引用はご遠慮ください。
 ※2. このプリントを活用したオンライン授業のスケジュールは、しながわ・目黒こどもスクールのウェブサイトでご確認ください。





おうちで、やろう。

Study at home. 小学校受験の家庭学習教材

推理：観覧車6

動物たちが観覧車に乗って、観覧車は矢印の方向へ回ります。

- ①ブタのゴンドラが一番上に来た時、一番下になるゴンドラに乗っている動物は誰ですか。下の四角に○をかきます。
- ②ウサギのゴンドラが一番下に来た時、一番上になるゴンドラに乗っている動物は誰ですか。下の四角に△をかきます。
- ③コアラのゴンドラが一番上に来た時、一番下になるゴンドラに乗っている動物は誰ですか。下の四角に×をかきます。
- ④ブタがウサギの場所に来た時、一番下になるゴンドラに乗っている動物は誰ですか。下の四角に□をかきます。



※1. このプリントは、しながわ・目黒こどもスクールのウェブサイトでダウンロードができます。無断複写・引用はご遠慮ください。

※2. このプリントを活用したオンライン授業のスケジュールは、しながわ・目黒こどもスクールのウェブサイトでご確認ください。




おうちで、やろう。

Study at home. 小学校受験の家庭学習教材

推理：観覧車7

動物たちが観覧車に乗って、観覧車は矢印の方向へ回ります。

- ①ネズミのゴンドラが一番上に来た時、一番下になるゴンドラに乗っている動物は誰ですか。下の四角に○をかきます。
- ②フタのゴンドラがネコのゴンドラの場所に来た時、今タヌキのゴンドラの場所に来るの動物は誰ですか。下の四角に△をかきます。
- ③ネズミのゴンドラがリスのゴンドラの場所に来た時、今フタのゴンドラの場所に来るの動物は誰ですか。下の四角に×をかきます。
- ④ウサギのゴンドラがらつ進むとネコのゴンドラの場所は今日の動物がいるゴンドラですか。下の四角に口をかきます。



		○	×	□		△	

※1. このプリントは、しながわ・目黒こどもスクールのウェブサイトでダウンロードができます。無断複写・引用はご遠慮ください。
 ※2. このプリントを活用したオンライン授業のスケジュールは、しながわ・目黒こどもスクールのウェブサイトでご確認ください。