

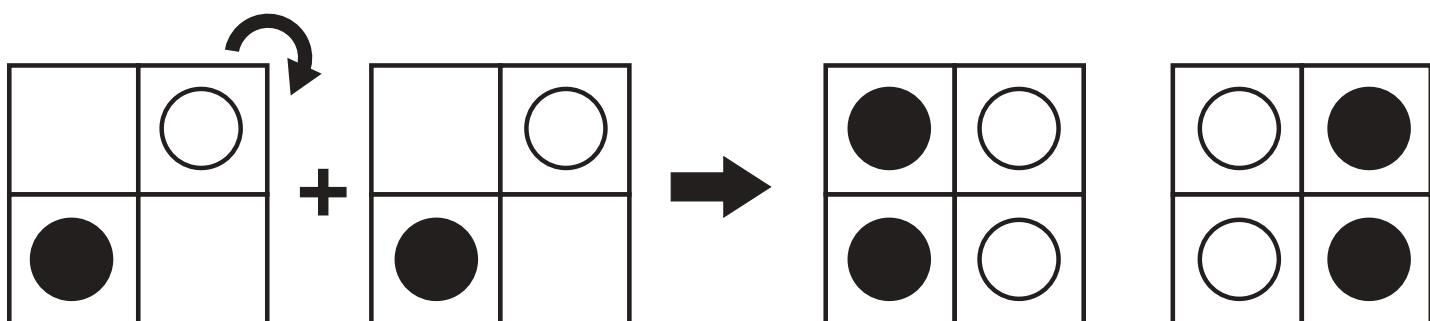
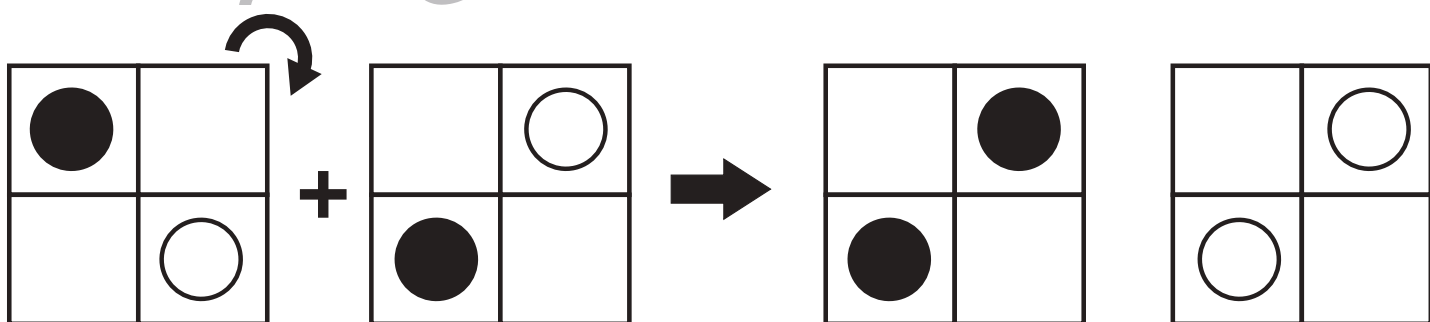
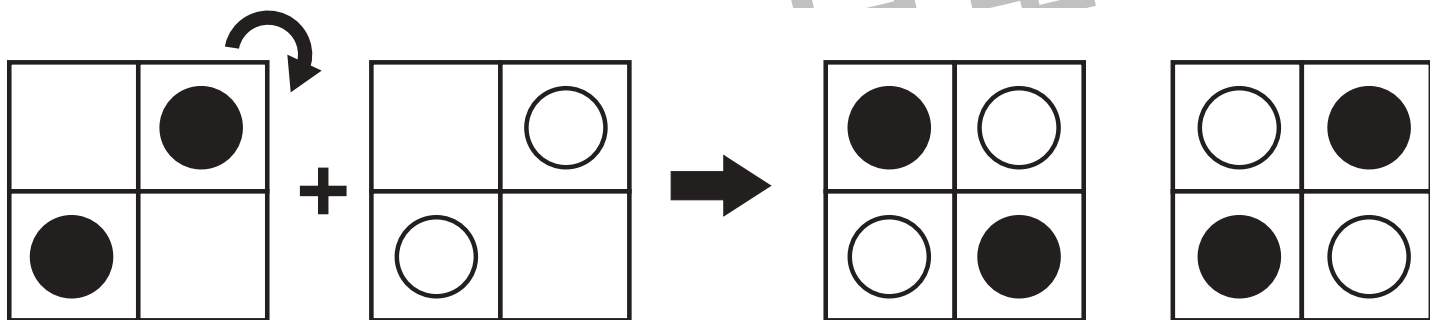
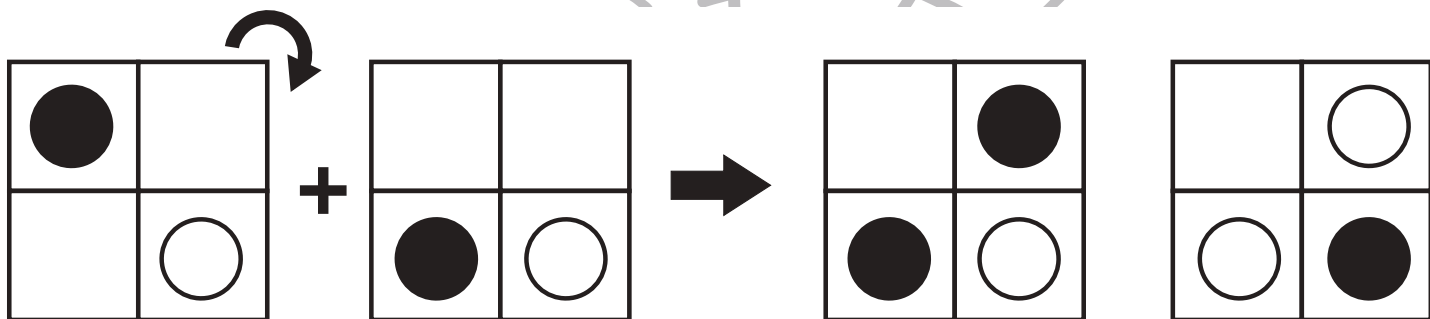
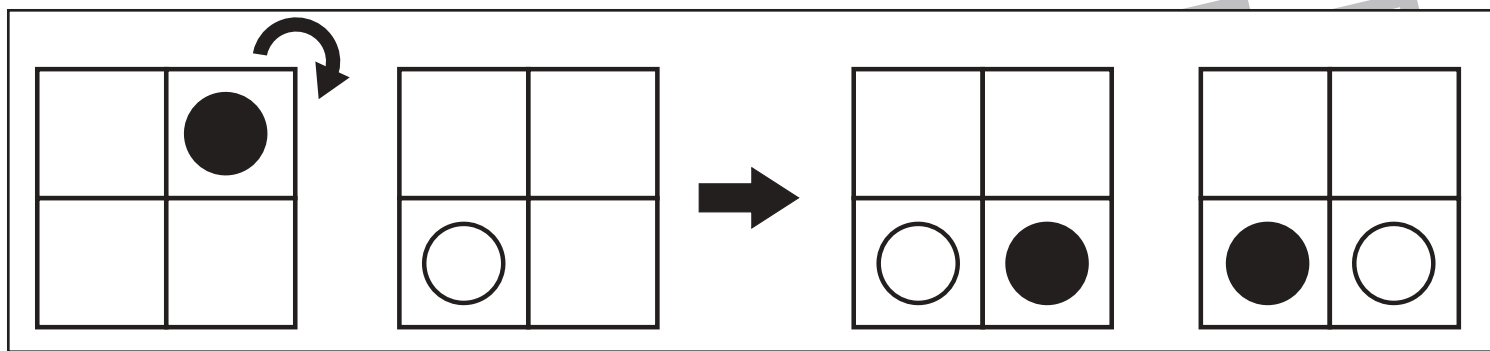


おうちで、やろう。

Study at home. 小学校受験の家庭学習教材

図形：回転重ね1

左の四角が矢印の数だけ矢印の方向に倒した後、すぐ隣にある四角と重ねた時の見え方を矢印の右の四角にかきます。さらに一番右の四角には自分でかいた答えの丸の色を白丸は黒丸へ、黒丸は白丸へ色を変えてかきます。※一番上の四角はお手本です。



※1. このプリントは、しながわ・目黒こどもスクールのウェブサイトでダウンロードができます。無断複写・引用はご遠慮ください。
 ※2. このプリントを活用したオンライン授業のスケジュールは、しながわ・目黒こどもスクールのウェブサイトでご確認ください。



おうちで、よろう。

Study at home. 小学校受験の家庭学習教材

図形：回転重ね 2

左の四角が矢印の数だけ矢印の方向に倒した後、すぐ隣にある四角と重ねた時の見え方を矢印の右の四角にかきます。さらに一番右の四角には自分でかいた答えの丸の色を白丸は黒丸へ、黒丸は白丸へ色を変えてかきます。

The visual puzzles are as follows:

- Row 1:** Grid 1 (top-left black, others white) → Grid 2 (top-left white, others white) → Grid 3 (top-left white, bottom-left black) → Grid 4 (top-left black, top-right black, bottom-left white, bottom-right white)
- Row 2:** Grid 1 (top-left black, others white) → Grid 2 (bottom-left black, top-right white, bottom-right white) → Grid 3 (bottom-left black, top-right white, bottom-right white) → Grid 4 (top-right black, bottom-right black, bottom-left white, top-left white)
- Row 3:** Grid 1 (top-right black, bottom-left black, bottom-right black) → Grid 2 (top-left white, top-right white, bottom-left white) → Grid 3 (top-left black, top-right black, bottom-left white, bottom-right black) → Grid 4 (top-left white, top-right white, bottom-left black, bottom-right white)
- Row 4:** Grid 1 (top-left black, top-right white, bottom-left black, bottom-right white) → Grid 2 (top-left black, top-right white, bottom-left white, bottom-right black) → Grid 3 (top-left black, top-right white, bottom-left black, bottom-right black) → Grid 4 (top-right black, bottom-left white, bottom-right white, top-left white)
- Row 5:** Grid 1 (top-left white, top-right white, bottom-left black, bottom-right black) → Grid 2 (top-left white, top-right white, bottom-left black, bottom-right white) → Grid 3 (top-left white, top-right black, bottom-left black, bottom-right black) → Grid 4 (top-left black, top-right white, bottom-left white, bottom-right white)

※1. このプリントは、しながわ・目黒こどもスクールのウェブサイトでダウンロードができます。無断複写・引用はご遠慮ください。
※2. このプリントを活用したオンライン授業のスケジュールは、しながわ・目黒こどもスクールのウェブサイトでご確認ください。




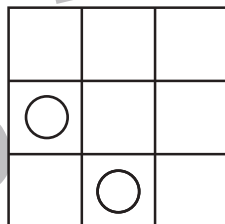
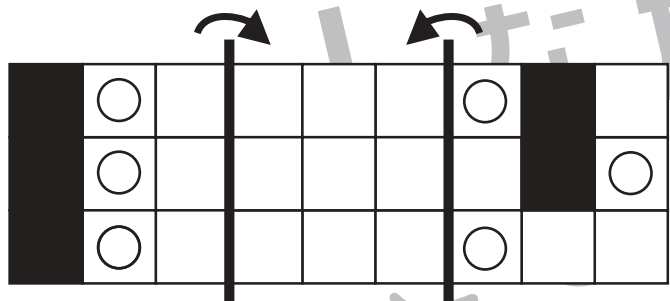
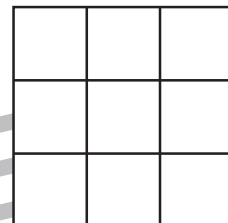
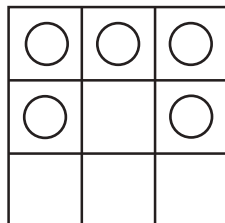

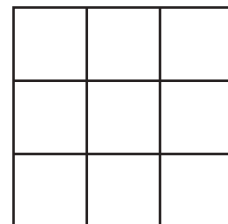
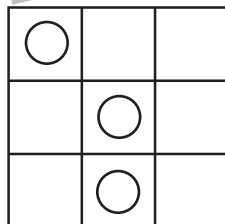

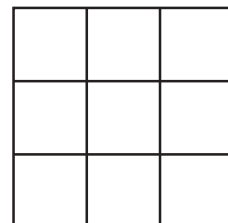
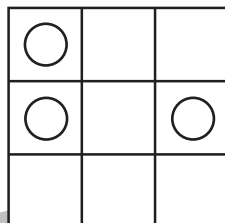
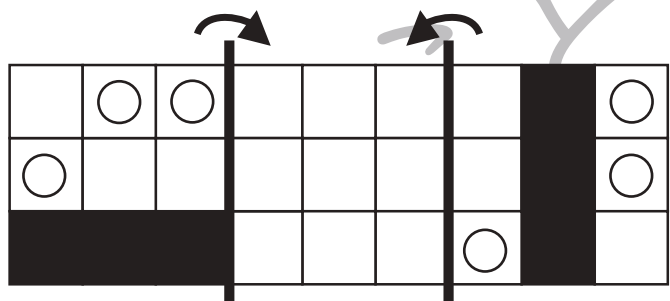
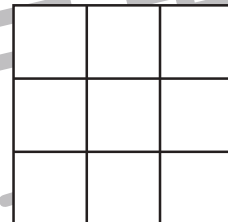
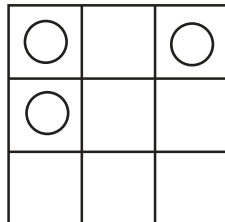
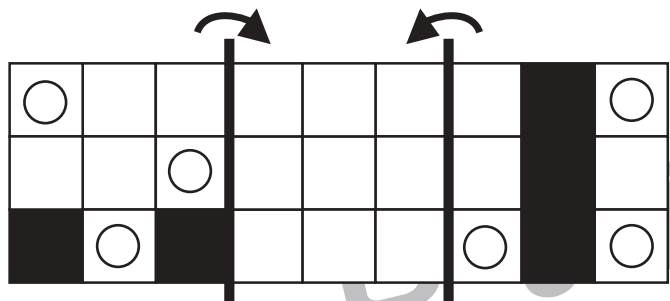


おうちで、やろう。

Study at home. 小学校受験の家庭学習教材

図形：折り重ね 55

それぞれの四角は透明です。太い線で折り、真ん中の四角に重ねます。このとき、黒いマスが重ならずに見えている○だけを右の四角にかきます。持ち間違えてしまった場合は、訂正せずに右端の四角にかきなおしましょう。



※1. このプリントは、しながわ・目黒こどもスクールのウェブサイトでダウンロードができます。無断複写・引用はご遠慮ください。
※2. このプリントを活用したオンライン授業のスケジュールは、しながわ・目黒こどもスクールのウェブサイトでご確認ください。


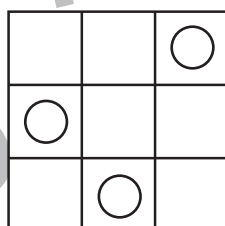

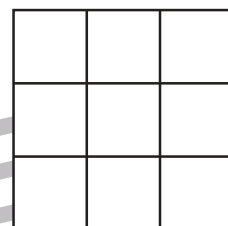
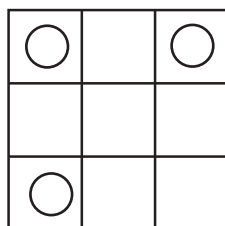
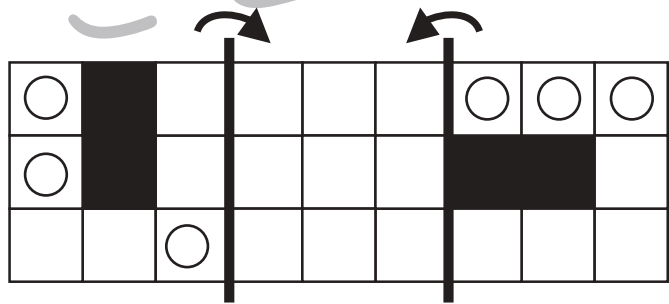
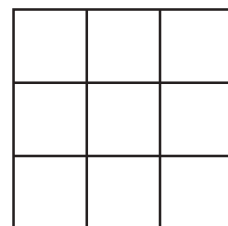
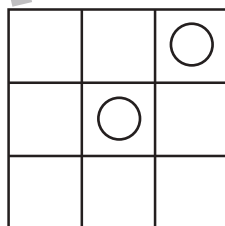
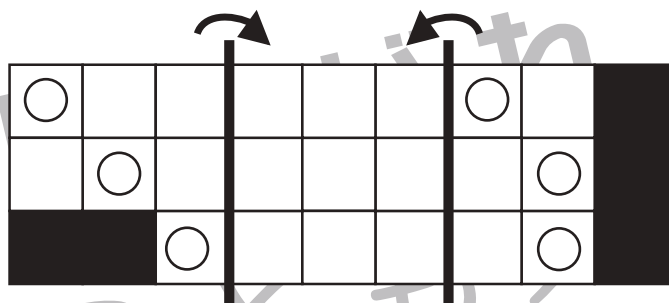
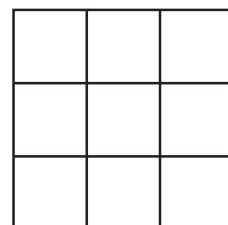
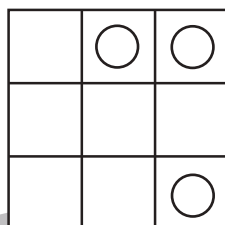
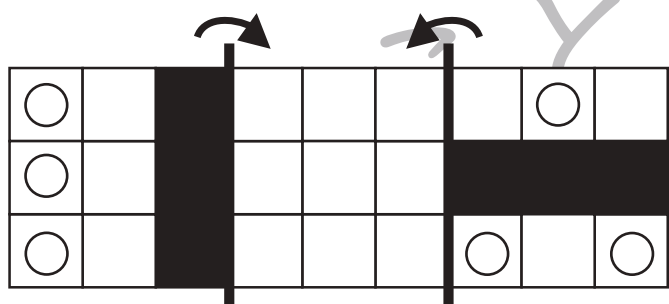

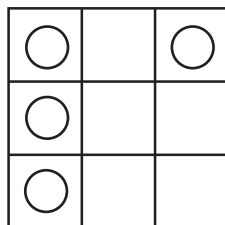
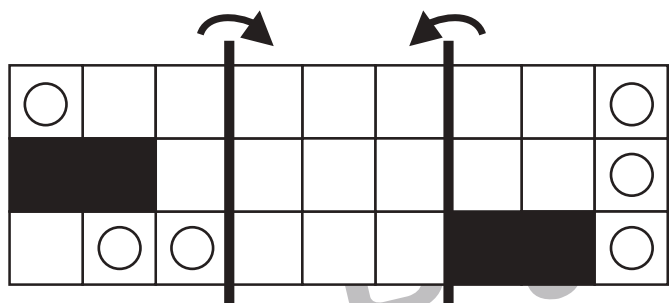


おうちで、やろう。

Study at home. 小学校受験の家庭学習教材

図形：折り重ね 56

それぞれの四角は透明です。太い線で折り、真ん中の四角に重ねます。このとき、黒いマスが重ならずに見えている○だけを右の四角にかきます。持ち間違えてしまった場合は、訂正せずに右端の四角にかきなおしましょう。



※1. このプリントは、しながわ・目黒こどもスクールのウェブサイトでダウンロードができます。無断複写・引用はご遠慮ください。
※2. このプリントを活用したオンライン授業のスケジュールは、しながわ・目黒こどもスクールのウェブサイトでご確認ください。




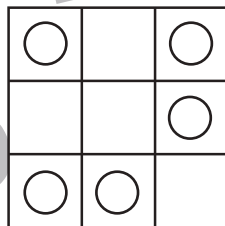

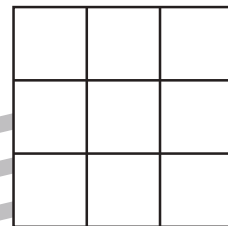
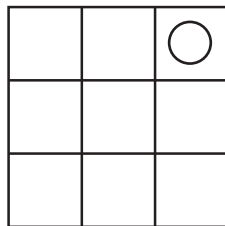

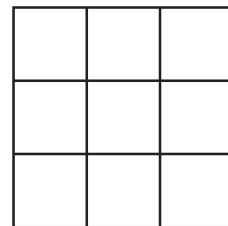
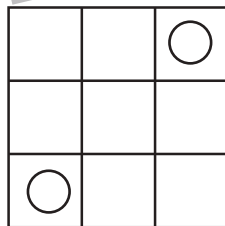

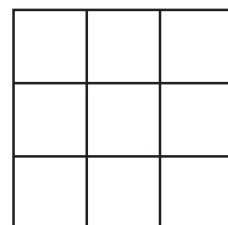
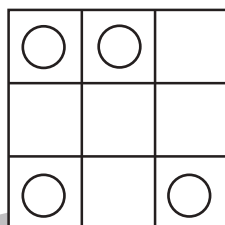
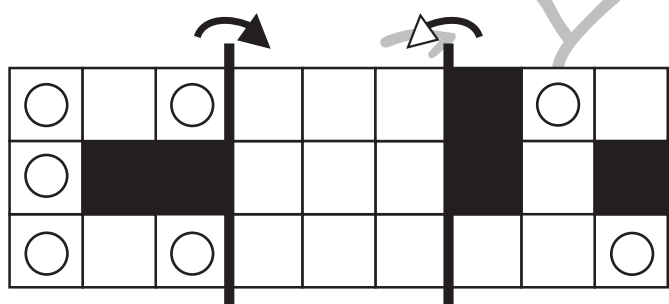

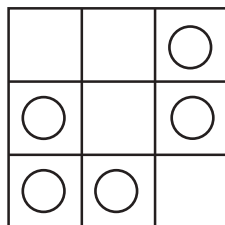
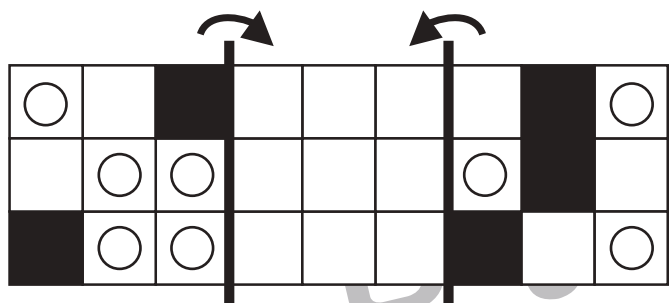


おうちで、やろう。

Study at home. 小学校受験の家庭学習教材

図形：折り重ね57

それぞれの四角は透明です。太い線で折り、真ん中の四角に重ねます。このとき、黒いマスが重ならずに見えている○だけを右の四角にかきます。持ち間違えてしまった場合は、訂正せずに右端の四角にかきなおしましょう。



※1. このプリントは、しながわ・目黒こどもスクールのウェブサイトでダウンロードができます。無断複写・引用はご遠慮ください。
※2. このプリントを活用したオンライン授業のスケジュールは、しながわ・目黒こどもスクールのウェブサイトでご確認ください。





おうちで、やろう。

Study at home. 小学校受験の家庭学習教材

推理：じゃんけん 24

ウサギとブタでじゃんけんゲームをします。じゃんけんの手は左がブタで、右がウサギです。じゃんけんに勝つと相手から1つ食べ物をもらえます。2回じゃんけんした後、ブタが持っている食べ物の数だけ下の四角に○をかきます。

○ ○ ○ ○ ○	○ ○ ○	○ ○ ○
○ ○	○ ○ ○ ○ ○ ○ ○	○ ○ ○ ○ ○ ○ ○
	○ ○	

※1. このプリントは、しながわ・目黒こどもスクールのウェブサイトでダウンロードができます。無断複写・引用はご遠慮ください。

※2. このプリントを活用したオンライン授業のスケジュールは、しながわ・目黒こどもスクールのウェブサイトでご確認ください。



おうちで、やろう。

Study at home. 小学校受験の家庭学習教材

推理：じゃんけん 25

ウサギとブタでじゃんけんゲームをします。じゃんけんの手は左がブタで、右がウサギです。じゃんけんに勝つと相手から2つ食べ物をもらえます。2回じゃんけんした後、ブタが持っている食べ物の数だけ下の四角に○をかきます。

※1. このプリントは、しながわ・目黒こどもスクールのウェブサイトでダウンロードができます。無断複写・引用はご遠慮ください。

※2. このプリントを活用したオンライン授業のスケジュールは、しながわ・目黒こどもスクールのウェブサイトでご確認ください。




おうちで、やろう。



Study at home. 小学校受験の家庭学習教材

数量：同数 24


お友だちが2列に並んでいます。それぞれの列のお友だちの人数が同じになるには、多く並んでいる列から何人移ればよいですか。移動する人の数だけ、矢印の先に○をかきましょう。

	→ ○ × 1
	

	→ ○ × 2
	

	→ ○ × 3
	

	→ ○ × 1
	

	→ ○ × 3
	

※1. このプリントは、しながわ・目黒こどもスクールのウェブサイトでダウンロードができます。無断複写・引用はご遠慮ください。

※2. このプリントを活用したオンライン授業のスケジュールは、しながわ・目黒こどもスクールのウェブサイトでご確認ください。



おうちで、やろう。

Study at home. 小学校受験の家庭学習教材

数量：同数 25

お友だちが3列に並んでいます。それぞれの列のお友だちの人数を同じにすると、1列に何人のお友だちが並んでいることになりませんか。1列に並ぶ人の数だけ矢印の先に○をかきましょう。

	$\rightarrow \bigcirc \times 4$
--	---------------------------------

	$\rightarrow \bigcirc \times 4$
--	---------------------------------

	$\rightarrow \bigcirc \times 6$
--	---------------------------------

	$\rightarrow \bigcirc \times 3$
--	---------------------------------

	$\rightarrow \bigcirc \times 4$
--	---------------------------------

※1. このプリントは、しながわ・目黒こどもスクールのウェブサイトでダウンロードができます。無断複写・引用はご遠慮ください。

※2. このプリントを活用したオンライン授業のスケジュールは、しながわ・目黒こどもスクールのウェブサイトでご確認ください。