




おうちで、やろう。


Study at home. 小学校受験の家庭学習教材

言語：音の数 22

それぞれの音の数が5つのものに△、4つのものに□、3つのものに○をつけましょう。




かぼちゃ




さつまいも



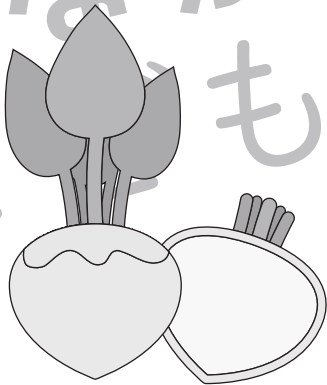
ぶどう



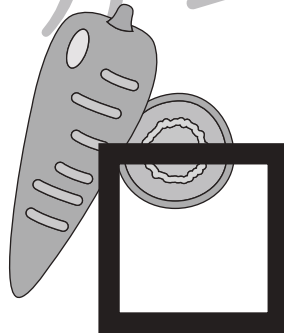
さといも



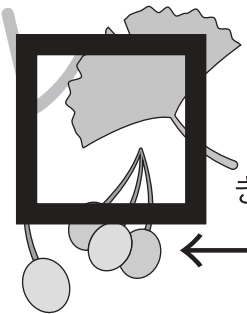
なす



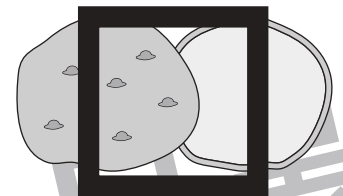
かぶ



にんじん



ぎんなん



じゃがいも



たまねぎ



メロン

※1. このプリントは、しながわ・目黒こどもスクールのウェブサイトでダウンロードができます。無断複写・引用はご遠慮ください。
※2. このプリントを活用したオンライン授業のスケジュールは、しながわ・目黒こどもスクールのウェブサイトでご確認ください。




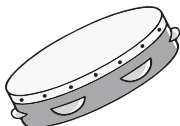


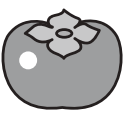






















おうちで、やろう。

Study at home. 小学校受験の家庭学習教材

言語：音の理解 50

左の四角の中の名前と、黒丸の部分と同じ音のものを右の四角の中から選び、×をつけましょう。

 ●○○○	 ○●○○●	 ●○○	 ○●	 ●○
 ○●	 ○○●○	 ●○○	 ●○○○	 ●○○○
 ○○●	 ○●○○	 ○○●	 ○○●○	 ○○●
 ●○○	 ●○	 ○○○○●	 ●○	 ●○○
 ○○●○	 ○○○●	 ●○○	 ○●○○○○	 ○○●

※1. このプリントは、しながわ・目黒こどもスクールのウェブサイトからダウンロードできます。無断複写・引用はご遠慮ください。

※2. このプリントを活用したオンライン授業のスケジュールは、しながわ・目黒こどもスクールのウェブサイトでご確認ください。



















おうちで、やろう。

Study at home. 小学校受験の家庭学習教材

言語：音の理解 51

それぞれの音の下には音の数だけ○があります。太い四角の中の音と同じ音を見つけてその場所を塗ります。

 ● ● ● ●	 ● ○ ○	 ● ○ ○	 ● ○ ○
 ● ○	 ● ○ ○ ●	 ○ ○ ● ●	 ● ○ ○
 ● ● ●	 ● ● ○	 ● ○ ○ ○ ○ ○ ○	 ● ○ ○
 ○ ○ ●	 ● ○ ○	 ○ ○ ●	 ● ○ ○

※1. このプリントは、しながわ・目黒こどもスクールのウェブサイトダウンロードができます。無断複写・引用はご遠慮ください。

※2. このプリントを活用したオンライン授業のスケジュールは、しながわ・目黒こどもスクールのウェブサイトでご確認ください。

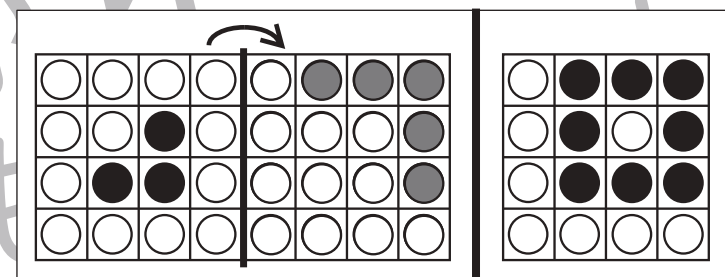
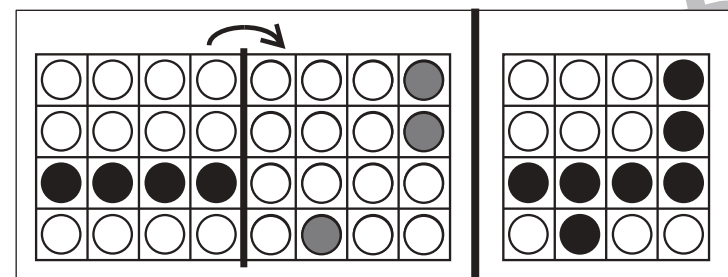
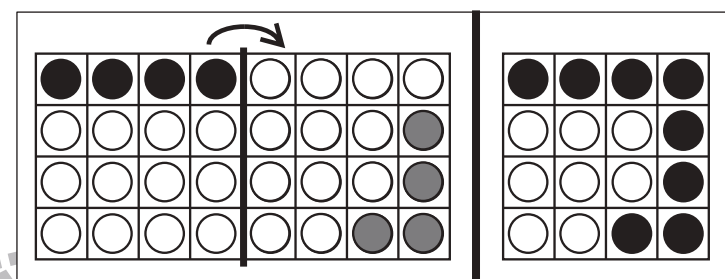
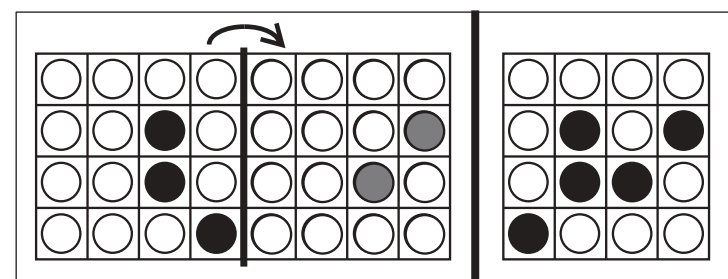
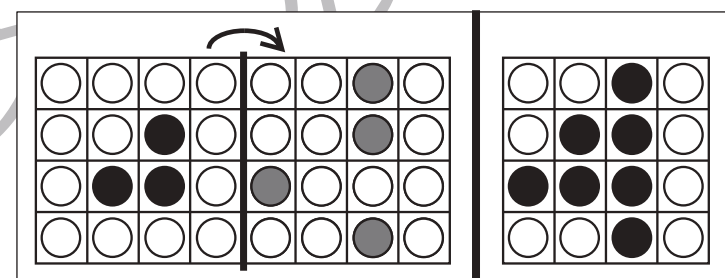
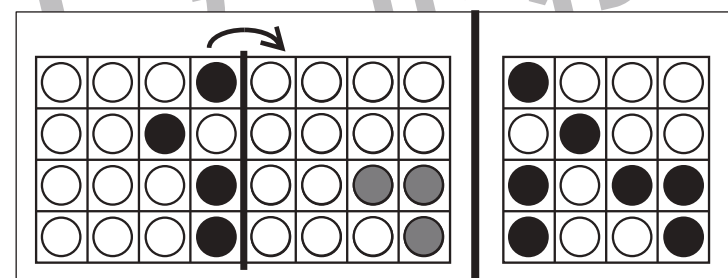
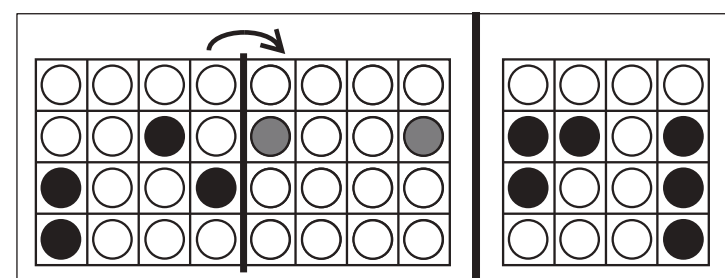
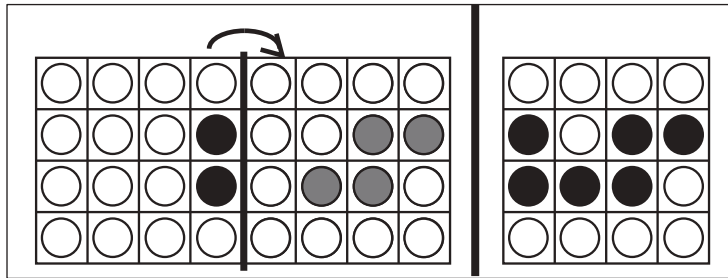
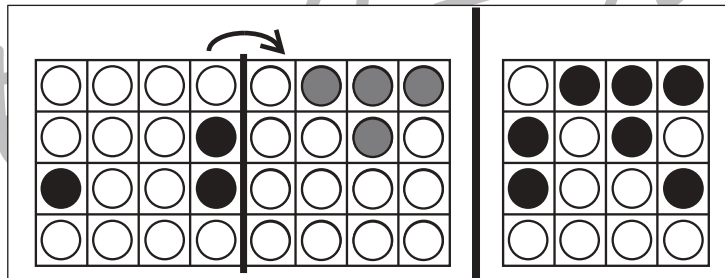
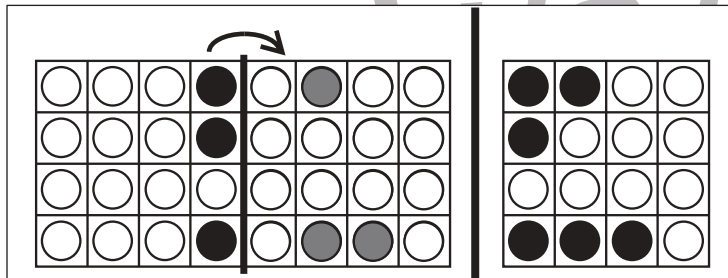
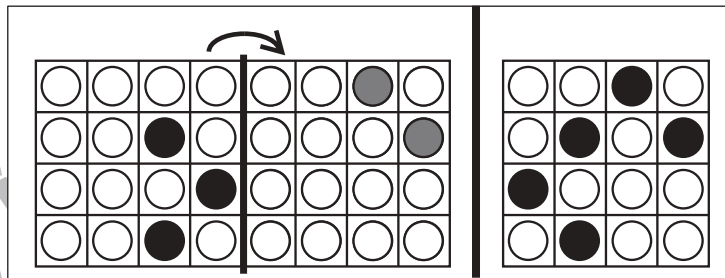
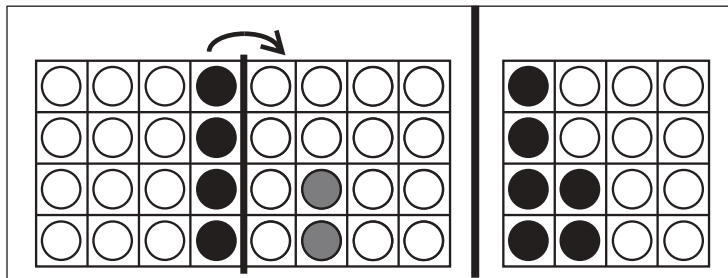


おうちで、やろう。

Study at home. 小学校受験の家庭学習教材

図形：折り重ね 58

左の四角を太い線で折り重ねたとき、右の四角の中のようになります。
このとき、足りない場所を考えて真ん中の四角の中の○を塗ります。



※1. このプリントは、しながわ・目黒こどもスクールのウェブサイトからダウンロードできます。無断複写・引用はご遠慮ください。

※2. このプリントを活用したオンライン授業のスケジュールは、しながわ・目黒こどもスクールのウェブサイトでご確認ください。





おうちで、やろう。

Study at home. 小学校受験の家庭学習教材

図形：折り重ね 59

左の四角を太い線で折り重ねたとき、右の四角の中のようになります。
このとき、足りない場所を考えて真ん中の四角の中の○を塗ります。

A grid of 24 visual puzzles arranged in 6 rows and 2 columns. Each puzzle consists of a 4x8 grid of circles. A vertical line is drawn between the 4th and 5th columns. An arrow above the line indicates a fold to the right. To the right of the main grid is a 4x4 grid showing the result of the fold. The circles in the 4x4 grid are either black, grey, or white, representing the overlapping areas and the original positions of the circles. The puzzles vary in the placement of black and grey circles in the original 4x8 grid.

※1. このプリントは、しながわ・目黒こどもスクールのウェブサイトでダウンロードができます。無断複写・引用はご遠慮ください。
※2. このプリントを活用したオンライン授業のスケジュールは、しながわ・目黒こどもスクールのウェブサイトでご確認ください。

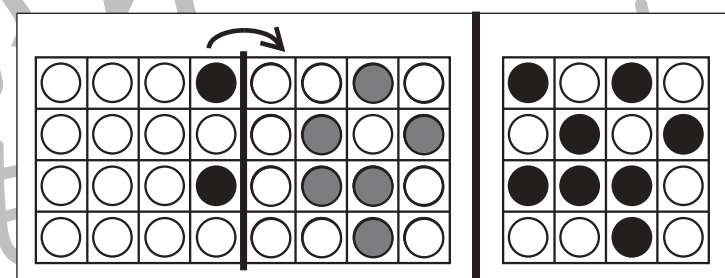
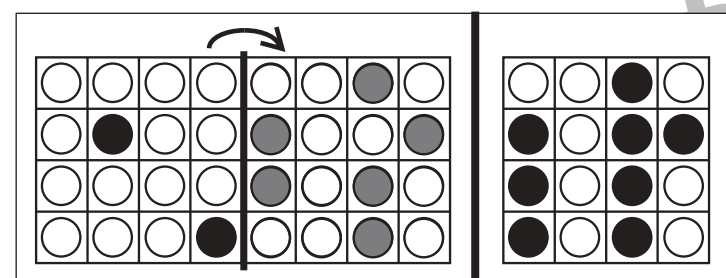
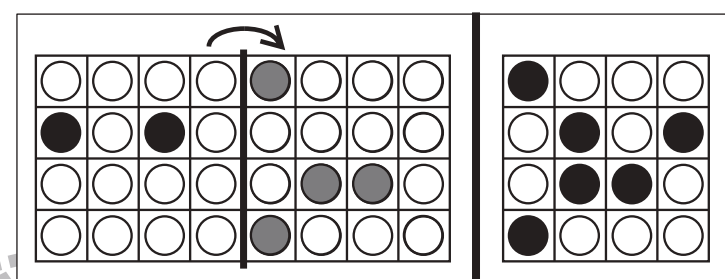
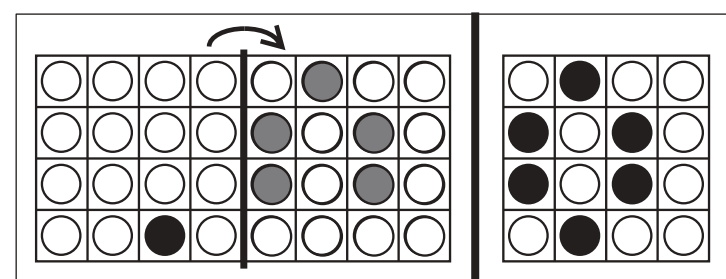
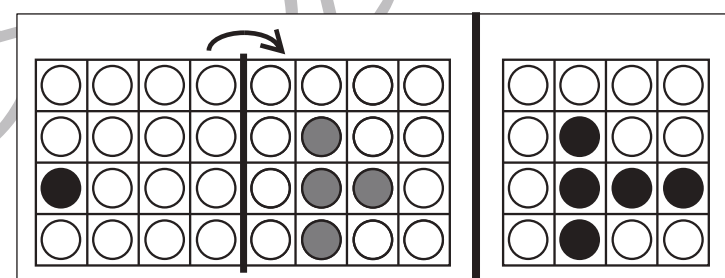
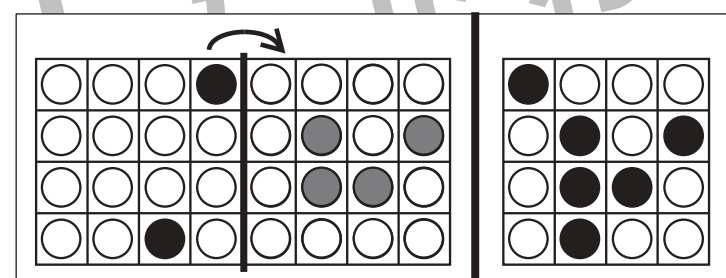
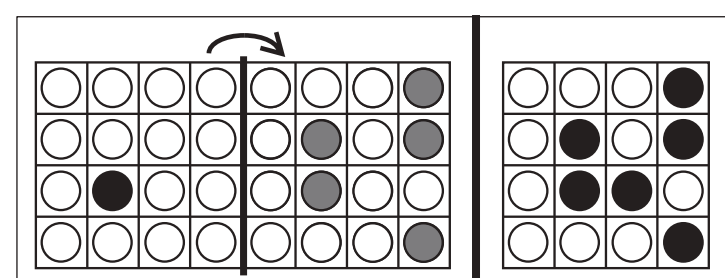
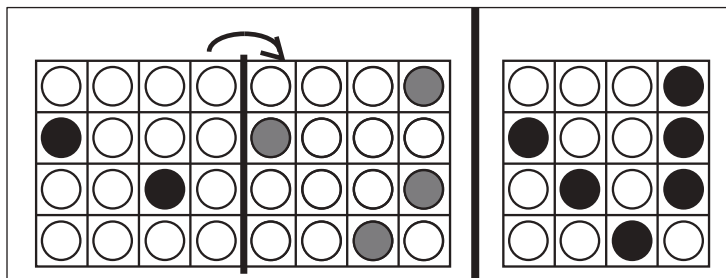
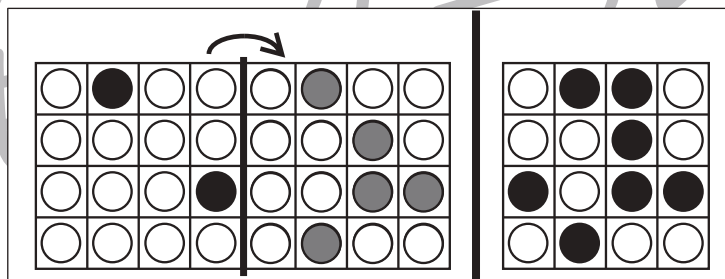
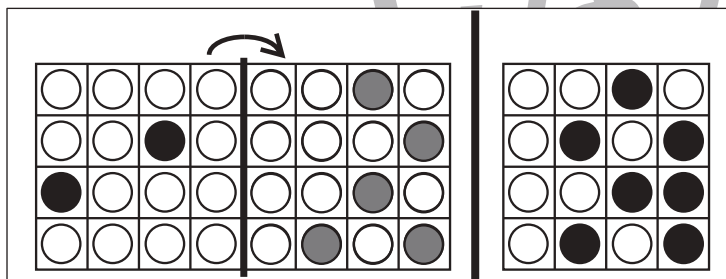
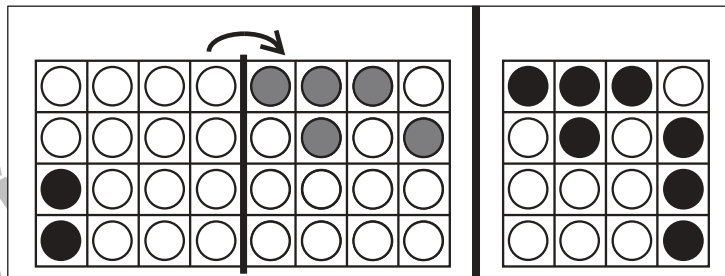
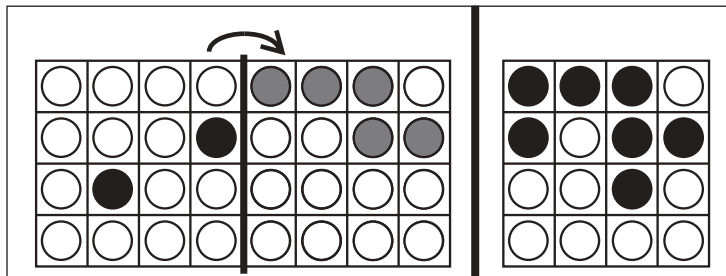


おうちで、やろう。

Study at home. 小学校受験の家庭学習教材

図形：折り重ね 60

左の四角を太い線で折り重ねたとき、右の四角の中のようになります。
このとき、足りない場所を考えて真ん中の四角の中の○を塗ります。



※1. このプリントは、しながわ・目黒こどもスクールのウェブサイトでダウンロードができます。無断複写・引用はご遠慮ください。
※2. このプリントを活用したオンライン授業のスケジュールは、しながわ・目黒こどもスクールのウェブサイトでご確認ください。



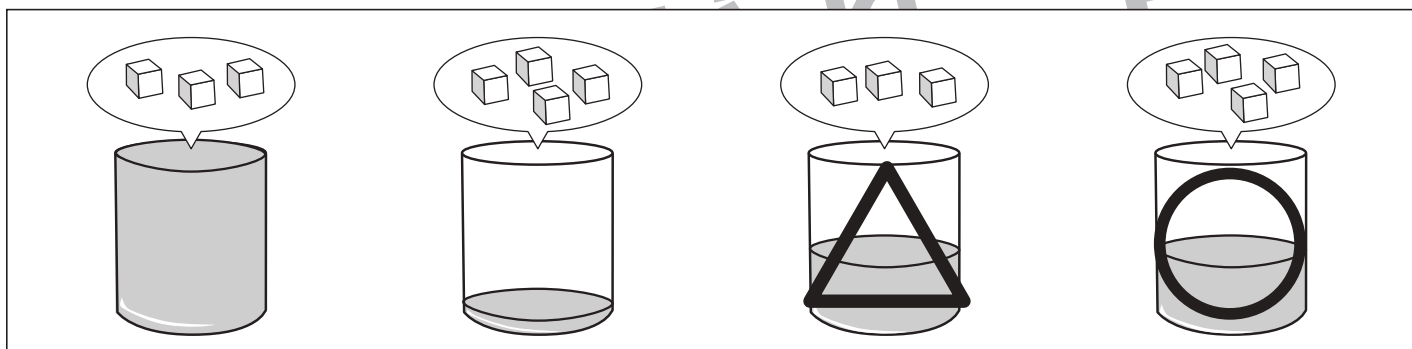
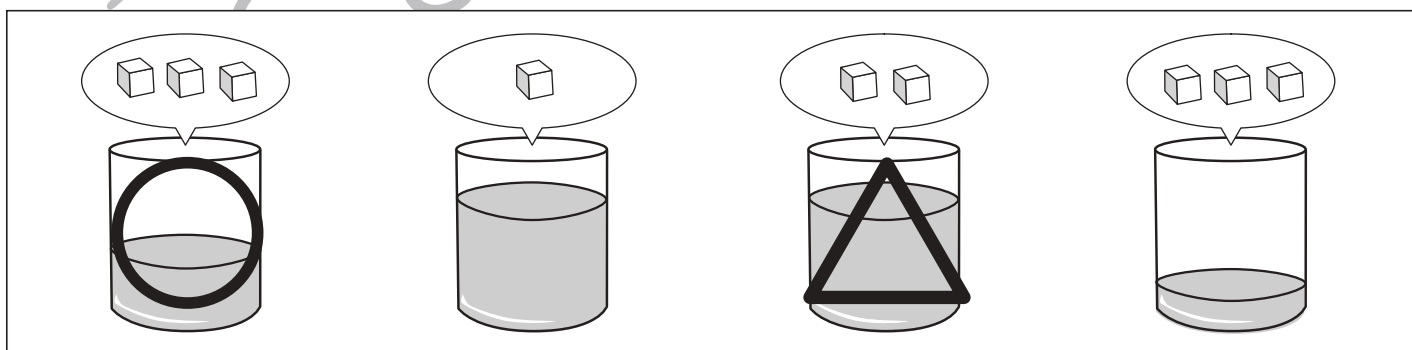
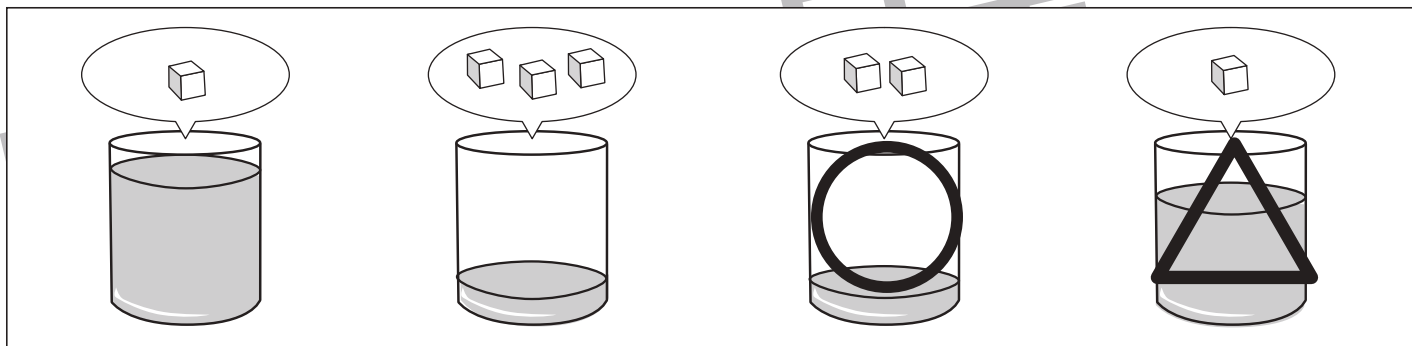
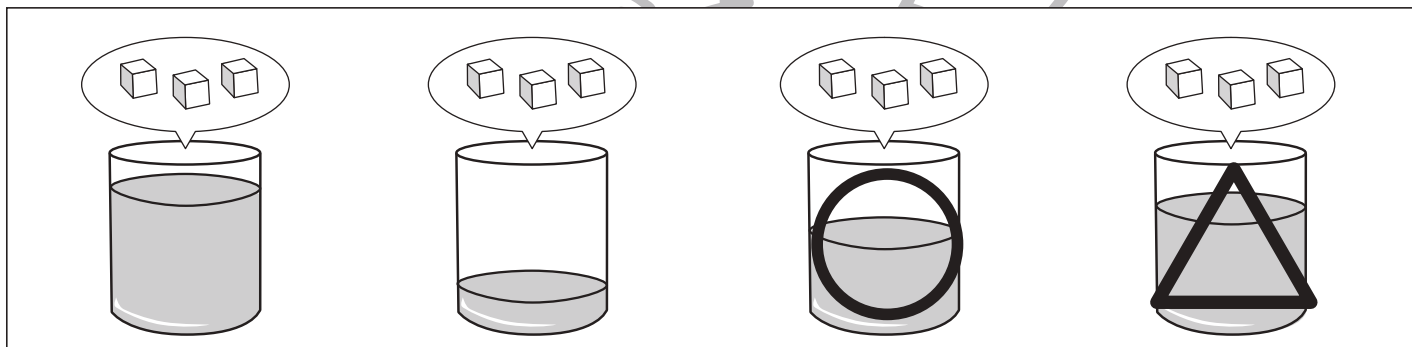
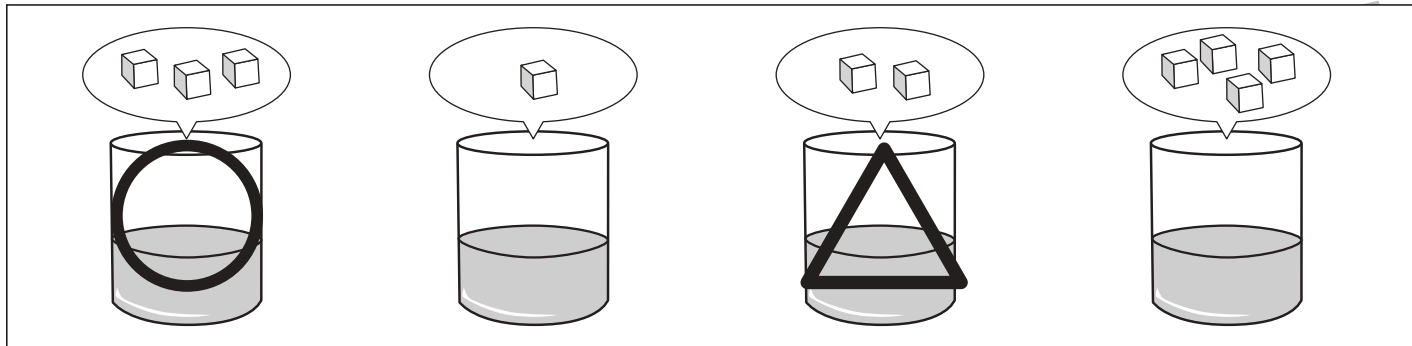


おうちで、やろう。

Study at home. 小学校受験の家庭学習教材

推理：濃度 10

それぞれの四角の中のコップには同じ量の水が入っています。このコップに上の吹き出しの中の角砂糖を入れます。入れた砂糖が全部溶けた後、二番目に甘いコップに○、二番目に甘くないコップに△をつけます。



※1. このプリントは、しながわ・目黒こどもスクールのウェブサイトでダウンロードができます。無断複写・引用はご遠慮ください。

※2. このプリントを活用したオンライン授業のスケジュールは、しながわ・目黒こどもスクールのウェブサイトでご確認ください。




おうちで、やろう。




Study at home. 小学校受験の家庭学習教材

数量：置き換え 11




上の太い四角の中がお約束です。それぞれの乗り物には同じ四角の中のお友だちの人数だけ乗ることができます。
左の四角の中の乗り物に右の四角の中のお友だちたちが矢印のところから順番に乗っていきます。このとき、最後に乗り物に乗れるお友だちに○をつけます。






①

 	→ 
--	--





②

 	→ 
--	---





③

 	→ 
--	--

④

  	→ 
---	--

⑤

  	→ 
---	--

※1. このプリントは、しながわ・目黒こどもスクールのウェブサイトからダウンロードできます。無断複写・引用はご遠慮ください。

※2. このプリントを活用したオンライン授業のスケジュールは、しながわ・目黒こどもスクールのウェブサイトでご確認ください。






おうちで、やろう。

Study at home. 小学校受験の家庭学習教材

数量：置き換え 12

上の太い四角の中がお約束です。それぞれの乗り物には同じ四角の中のお友だちの人数だけ乗ることができます。
左の四角の中の乗り物に右の四角の中のお友だちたちが矢印のところから順番に乗っていきます。このとき、最後に乗り物に乗れるお友だちに○をつけます。



①

②

③

④

⑤

※1. このプリントは、しながわ・目黒こどもスクールのウェブサイトからダウンロードできます。無断複写・引用はご遠慮ください。

※2. このプリントを活用したオンライン授業のスケジュールは、しながわ・目黒こどもスクールのウェブサイトでご確認ください。