

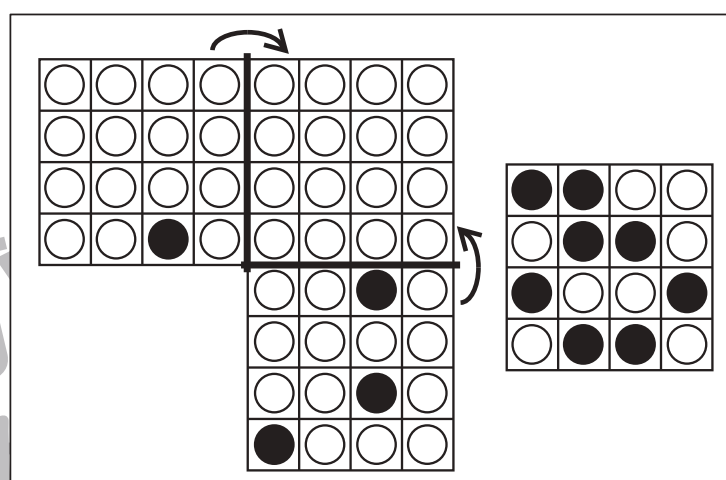
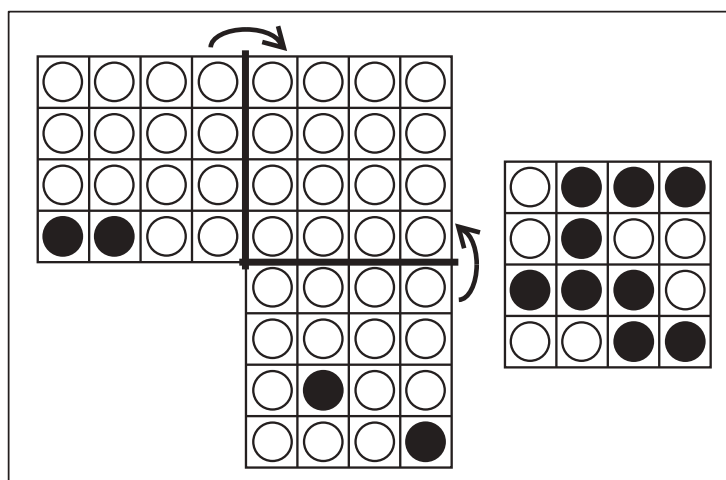
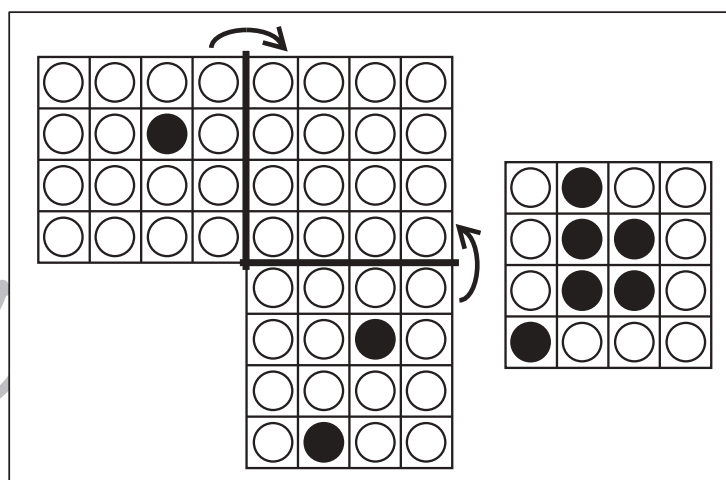
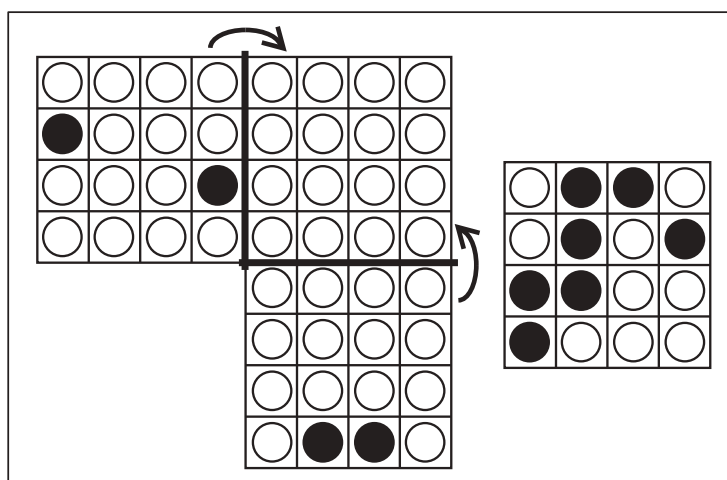
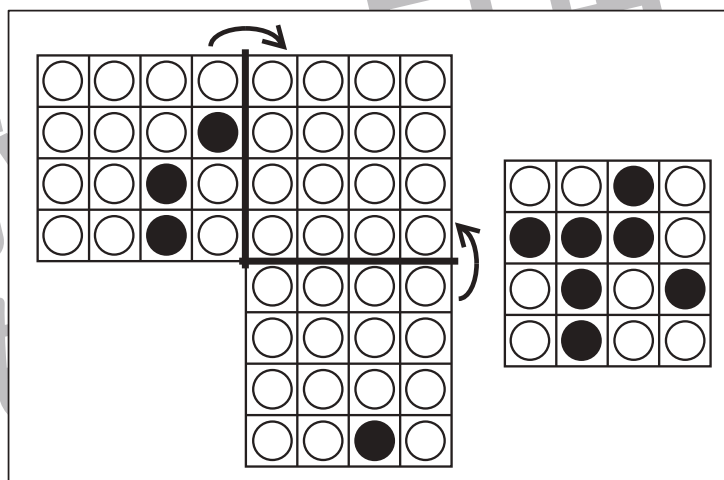
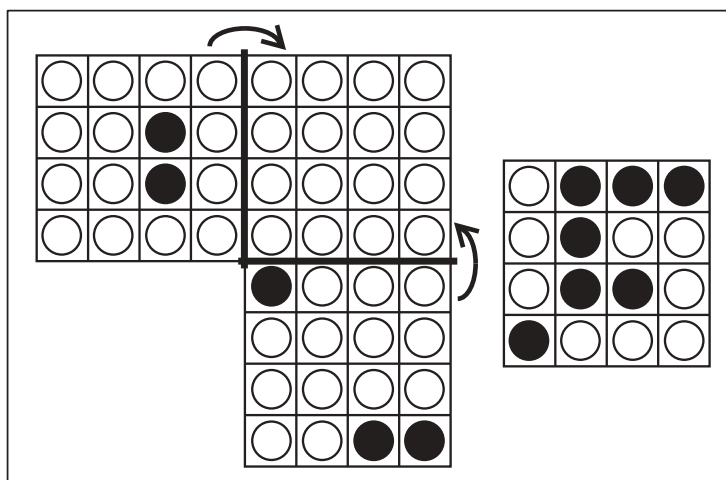


おうちで、やろう。

Study at home. 小学校受験の家庭学習教材

図形：折り重ね61

左の形を太い線で矢印の方向へ折り重ねた時の見え方が、右の四角です。このとき、足りない黒丸があります。足りない○を折り重なった四角（黒丸がない四角）に塗ります。



※1. このプリントは、しながわ・目黒こどもスクールのウェブサイトダウンロードができます。無断複写・引用はご遠慮ください。

※2. このプリントを活用したオンライン授業のスケジュールは、しながわ・目黒こどもスクールのウェブサイトでご確認ください。

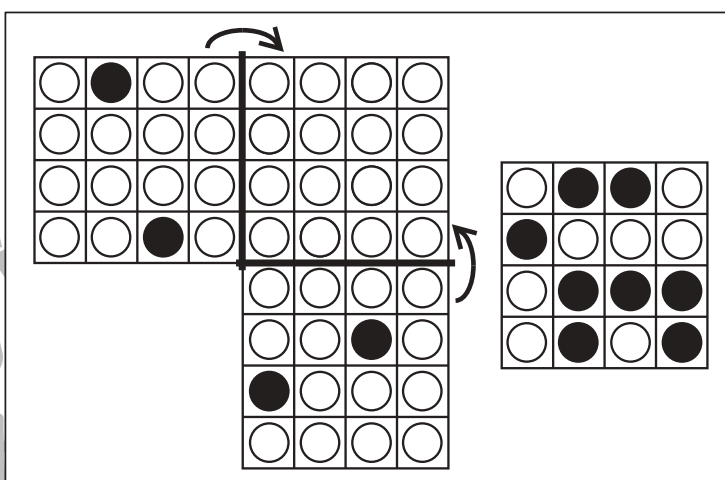
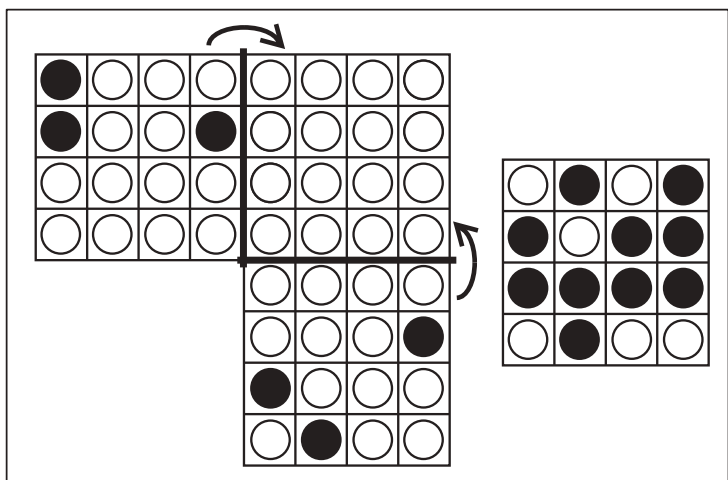
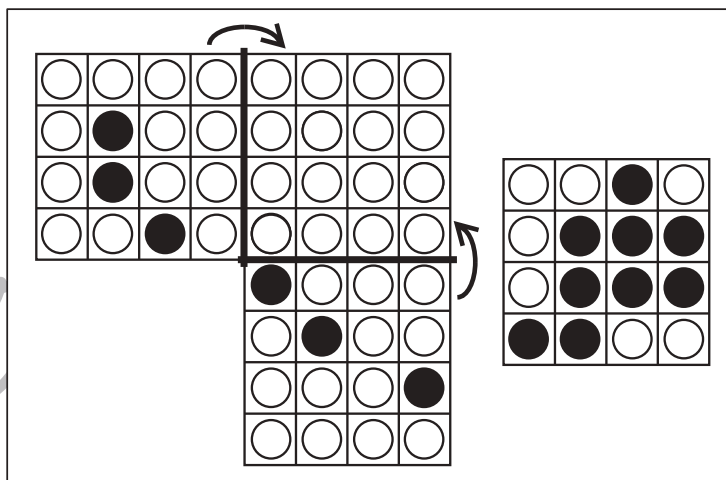
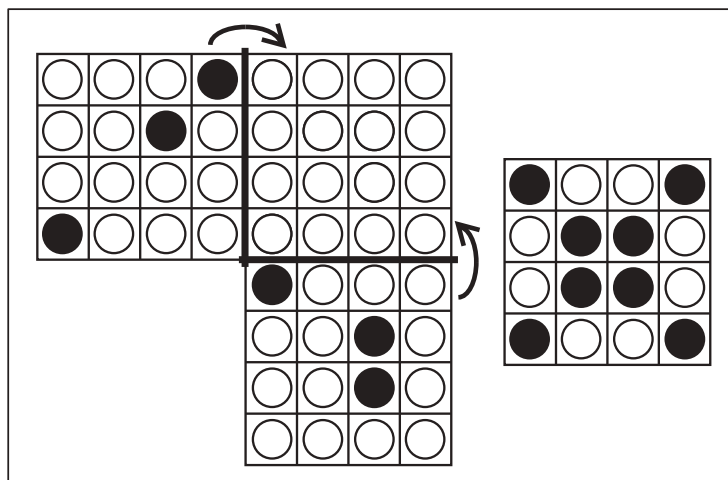
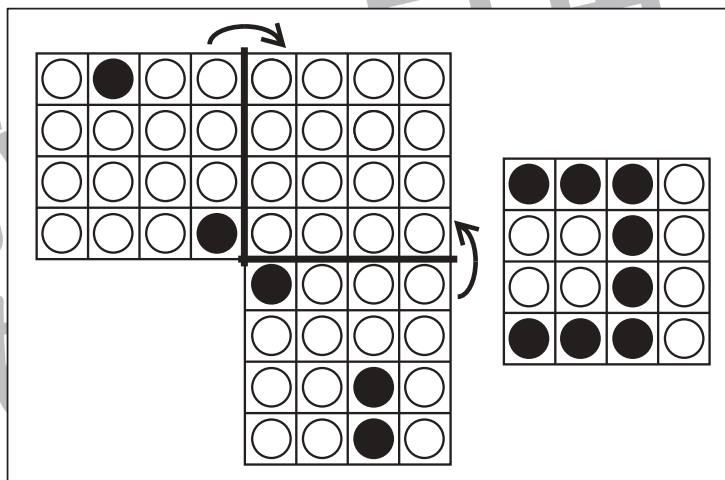
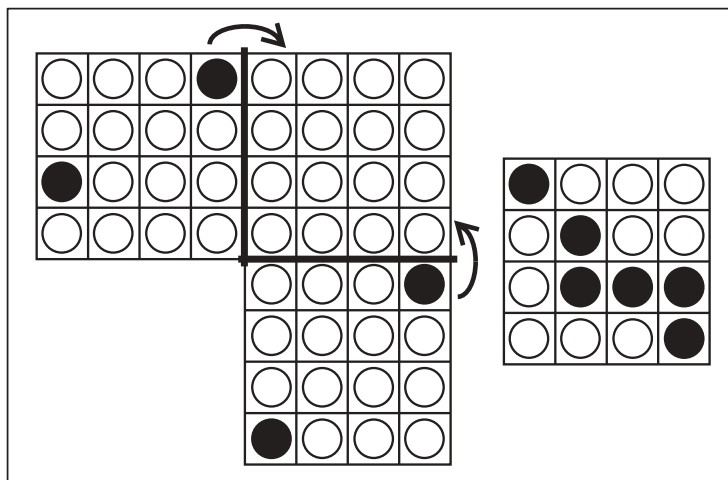


おうちで、やろう。

Study at home. 小学校受験の家庭学習教材

図形：折り重ね 62

左の形を太い線で矢印の方向へ折り重ねた時の見え方が、右の四角です。このとき、足りない黒丸があります。足りない○を折り重なった四角（黒丸がない四角）に塗ります。



※1. このプリントは、しながわ・目黒こどもスクールのウェブサイトでダウンロードができます。無断複写・引用はご遠慮ください。

※2. このプリントを活用したオンライン授業のスケジュールは、しながわ・目黒こどもスクールのウェブサイトでご確認ください。

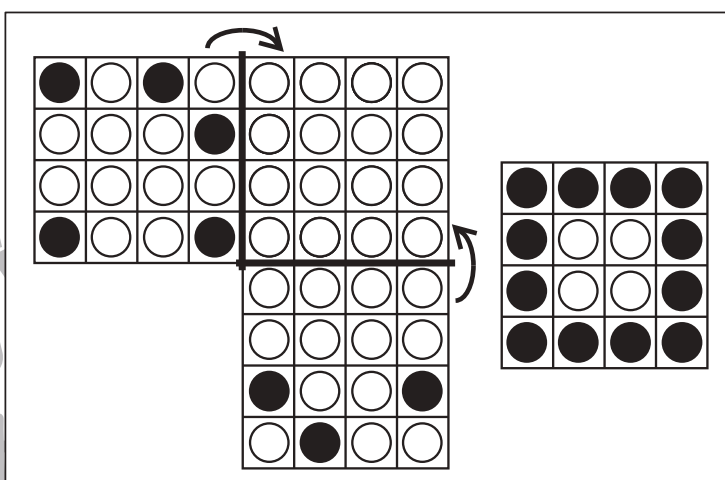
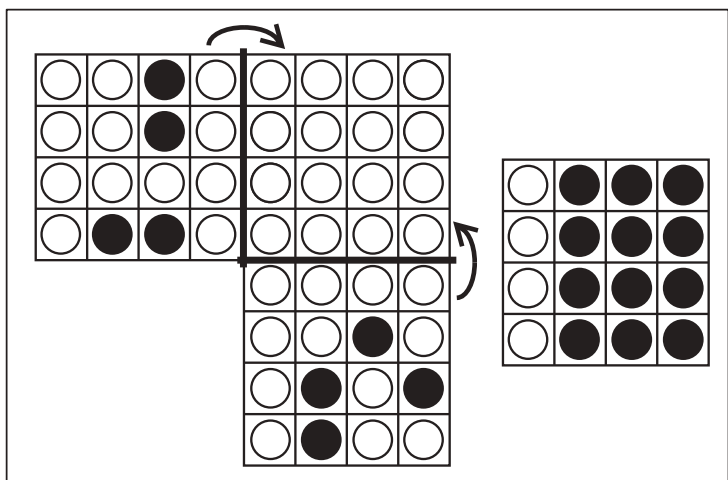
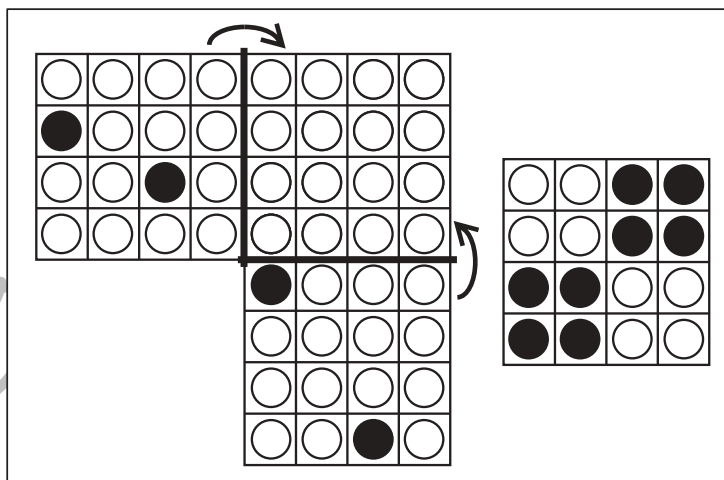
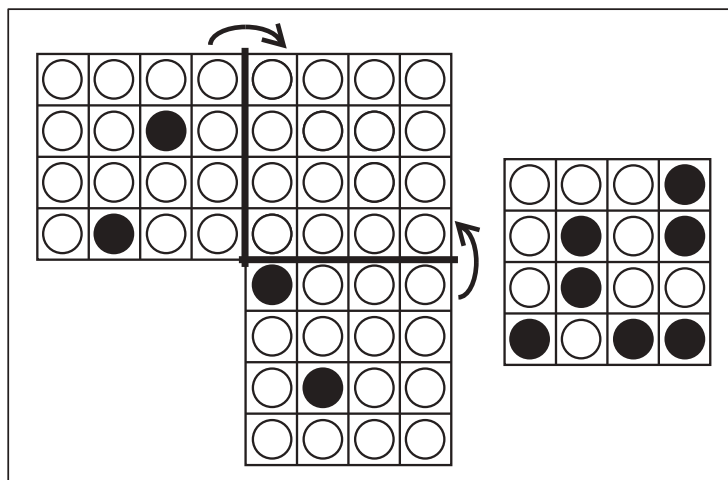
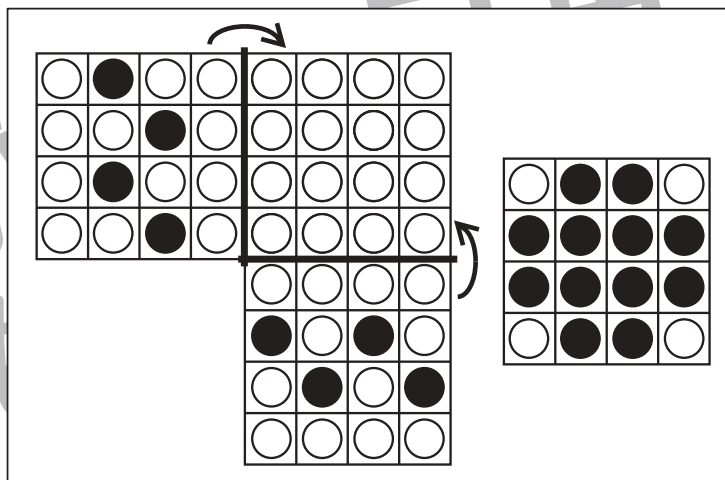
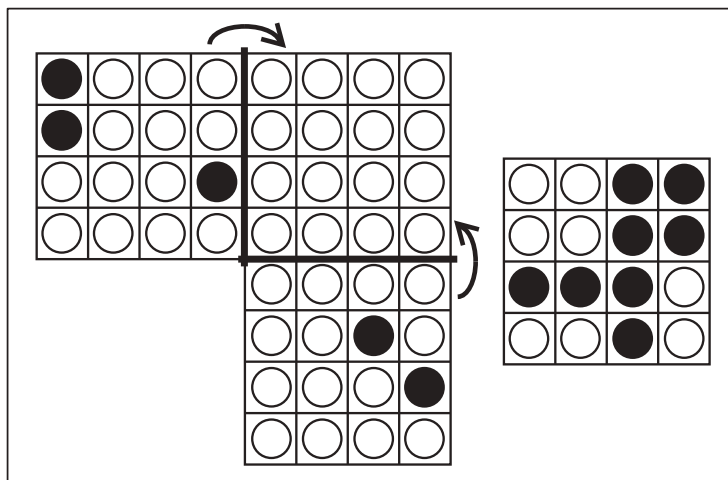


おうちで、やろう。

Study at home. 小学校受験の家庭学習教材

図形：折り重ね 63

左の形を太い線で矢印の方向へ折り重ねた時の見え方が、右の四角です。このとき、足りない黒丸があります。足りない○を折り重なった四角（黒丸がない四角）に塗ります。



※1. このプリントは、しながわ・目黒こどもスクールのウェブサイトでダウンロードができます。無断複写・引用はご遠慮ください。

※2. このプリントを活用したオンライン授業のスケジュールは、しながわ・目黒こどもスクールのウェブサイトでご確認ください。






おうちで、やろう。

Study at home. 小学校受験の家庭学習教材

推理：歯車 8

歯車に重りをつるしました。このとき矢印のついている灰色の歯車は左右どちらに回りますか。回る方向の矢印に○をつけます。



※1. このプリントは、しながわ・目黒こどもスクールのウェブサイトダウンロードできます。無断複写・引用はご遠慮ください。
※2. このプリントを活用したオンライン授業のスケジュールは、しながわ・目黒こどもスクールのウェブサイトでご確認ください。






おうちで、やろう。

Study at home. 小学校受験の家庭学習教材

推理：歯車 9

歯車に重りをつるしました。このとき矢印のついている灰色の歯車は左右どちらに回りますか。回る方向の矢印に○をつけます。



※1. このプリントは、しながわ・目黒こどもスクールのウェブサイトからダウンロードできます。無断複写・引用はご遠慮ください。
 ※2. このプリントを活用したオンライン授業のスケジュールは、しながわ・目黒こどもスクールのウェブサイトでご確認ください。






おうちで、やろう。

Study at home. 小学校受験の家庭学習教材

推理：歯車 10

歯車に重りをつるしました。このとき矢印のついている灰色の歯車は左右どちらに回りますか。回る方向の矢印に○をつけます。



※1. このプリントは、しながわ・目黒こどもスクールのウェブサイトでダウンロードができます。無断複写・引用はご遠慮ください。
※2. このプリントを活用したオンライン授業のスケジュールは、しながわ・目黒こどもスクールのウェブサイトでご確認ください。

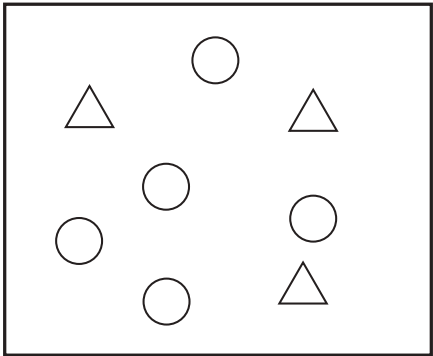
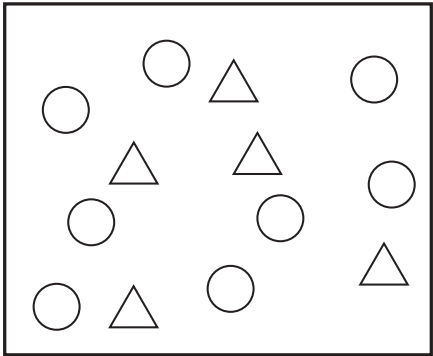
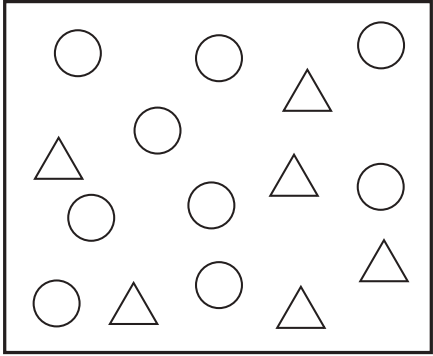


おうちで、やろう。

Study at home. 小学校受験の家庭学習教材

数量：分割 23

一番左の箱の中に入っている○と△を点線でつながれているマスに分けていきます。このとき、太いマスに分ける○と△はいくつですか。その数だけマスの中に○と△をかきます。

	<table border="1" style="margin: 0 auto;"> <tr><td> </td><td> </td><td> </td><td> </td></tr> <tr><td> </td><td> </td><td> </td><td> </td></tr> </table> <table border="1" style="margin: 0 auto;"> <tr><td>○</td><td>○</td><td>○</td><td> </td></tr> <tr><td>△</td><td>△</td><td> </td><td> </td></tr> </table>									○	○	○		△	△			<table border="1" style="margin: 0 auto;"> <tr><td> </td><td> </td><td> </td></tr> <tr><td>○</td><td>△</td><td> </td></tr> <tr><td> </td><td> </td><td> </td></tr> <tr><td>○</td><td>△</td><td> </td></tr> <tr><td> </td><td> </td><td> </td></tr> <tr><td> </td><td> </td><td> </td></tr> </table>				○	△					○	△							
○	○	○																																		
△	△																																			
○	△																																			
○	△																																			
	<table border="1" style="margin: 0 auto;"> <tr><td> </td><td> </td><td> </td><td> </td></tr> <tr><td> </td><td> </td><td> </td><td> </td></tr> </table> <table border="1" style="margin: 0 auto;"> <tr><td>○</td><td>○</td><td>○</td><td>○</td></tr> <tr><td>○</td><td>△</td><td>△</td><td>△</td></tr> </table>									○	○	○	○	○	△	△	△	<table border="1" style="margin: 0 auto;"> <tr><td> </td><td> </td><td> </td></tr> <tr><td>○</td><td>△</td><td> </td></tr> <tr><td> </td><td> </td><td> </td></tr> <tr><td>○</td><td>○</td><td>○</td></tr> <tr><td>△</td><td>△</td><td> </td></tr> <tr><td> </td><td> </td><td> </td></tr> </table>				○	△					○	○	○	△	△				
○	○	○	○																																	
○	△	△	△																																	
○	△																																			
○	○	○																																		
△	△																																			
	<table border="1" style="margin: 0 auto;"> <tr><td> </td><td> </td><td> </td><td> </td></tr> <tr><td> </td><td> </td><td> </td><td> </td></tr> </table> <table border="1" style="margin: 0 auto;"> <tr><td>○</td><td>○</td><td>○</td><td>○</td></tr> <tr><td>○</td><td>△</td><td>△</td><td>△</td></tr> </table>									○	○	○	○	○	△	△	△	<table border="1" style="margin: 0 auto;"> <tr><td> </td><td> </td><td> </td></tr> <tr><td>○</td><td> </td><td> </td></tr> <tr><td> </td><td> </td><td> </td></tr> <tr><td>○</td><td>○</td><td>△</td></tr> <tr><td>△</td><td>△</td><td> </td></tr> <tr><td> </td><td> </td><td> </td></tr> </table>				○						○	○	△	△	△				
○	○	○	○																																	
○	△	△	△																																	
○																																				
○	○	△																																		
△	△																																			

※1. このプリントは、しながわ・目黒こどもスクールのウェブサイトでダウンロードができます。無断複写・引用はご遠慮ください。
 ※2. このプリントを活用したオンライン授業のスケジュールは、しながわ・目黒こどもスクールのウェブサイトでご確認ください。

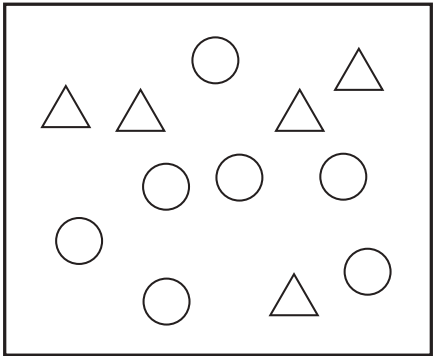
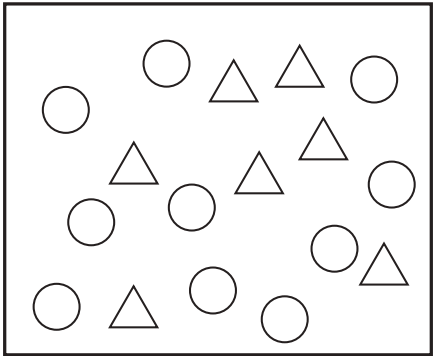
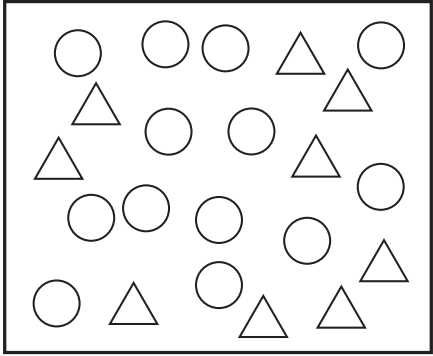


おうちで、やろう。

Study at home. 小学校受験の家庭学習教材

数量：分割 24

一番左の箱の中に入っている○と△を点線でつながれているマスに分けていきます。このとき、太いマスに分ける○と△はいくつですか。その数だけマスの中に○と△をかきます。

	<table border="1" style="width: 100%; border-collapse: collapse;"> <tr><td> </td><td> </td><td> </td><td> </td></tr> <tr><td> </td><td> </td><td> </td><td> </td></tr> </table> <table border="1" style="width: 100%; border-collapse: collapse;"> <tr><td>○</td><td>○</td><td>○</td><td>○</td></tr> <tr><td>△</td><td>△</td><td> </td><td> </td></tr> </table>									○	○	○	○	△	△			<table border="1" style="width: 100%; border-collapse: collapse;"> <tr><td> </td><td> </td><td> </td></tr> <tr><td>○</td><td>△</td><td>△</td></tr> <tr><td> </td><td> </td><td> </td></tr> <tr><td>○</td><td> </td><td> </td></tr> <tr><td> </td><td> </td><td> </td></tr> <tr><td> </td><td> </td><td> </td></tr> </table>				○	△	△				○																
○	○	○	○																																									
△	△																																											
○	△	△																																										
○																																												
	<table border="1" style="width: 100%; border-collapse: collapse;"> <tr><td> </td><td> </td><td> </td><td> </td></tr> <tr><td> </td><td> </td><td> </td><td> </td></tr> <tr><td> </td><td> </td><td> </td><td> </td></tr> </table> <table border="1" style="width: 100%; border-collapse: collapse;"> <tr><td>○</td><td>○</td><td>○</td><td>○</td></tr> <tr><td>○</td><td>△</td><td>△</td><td>△</td></tr> <tr><td> </td><td> </td><td> </td><td> </td></tr> </table>													○	○	○	○	○	△	△	△					<table border="1" style="width: 100%; border-collapse: collapse;"> <tr><td> </td><td> </td><td> </td></tr> <tr><td>○</td><td>○</td><td>△</td></tr> <tr><td> </td><td> </td><td> </td></tr> <tr><td>○</td><td>○</td><td>○</td></tr> <tr><td>△</td><td>△</td><td> </td></tr> <tr><td> </td><td> </td><td> </td></tr> </table>				○	○	△				○	○	○	△	△				
○	○	○	○																																									
○	△	△	△																																									
○	○	△																																										
○	○	○																																										
△	△																																											
	<table border="1" style="width: 100%; border-collapse: collapse;"> <tr><td> </td><td> </td><td> </td><td> </td></tr> <tr><td> </td><td> </td><td> </td><td> </td></tr> <tr><td> </td><td> </td><td> </td><td> </td></tr> </table> <table border="1" style="width: 100%; border-collapse: collapse;"> <tr><td>○</td><td>○</td><td>○</td><td>○</td></tr> <tr><td>○</td><td>○</td><td>△</td><td>△</td></tr> <tr><td>△</td><td>△</td><td>△</td><td> </td></tr> </table>													○	○	○	○	○	○	△	△	△	△	△		<table border="1" style="width: 100%; border-collapse: collapse;"> <tr><td> </td><td> </td><td> </td></tr> <tr><td>○</td><td>○</td><td>○</td></tr> <tr><td>○</td><td>△</td><td>△</td></tr> <tr><td>○</td><td>○</td><td>△</td></tr> <tr><td>△</td><td>△</td><td> </td></tr> <tr><td> </td><td> </td><td> </td></tr> </table>				○	○	○	○	△	△	○	○	△	△	△				
○	○	○	○																																									
○	○	△	△																																									
△	△	△																																										
○	○	○																																										
○	△	△																																										
○	○	△																																										
△	△																																											

※1. このプリントは、しながわ・目黒こどもスクールのウェブサイトでダウンロードができます。無断複写・引用はご遠慮ください。
※2. このプリントを活用したオンライン授業のスケジュールは、しながわ・目黒こどもスクールのウェブサイトでご確認ください。






おうちで、やろう。

Study at home. 小学校受験の家庭学習教材

運筆：模写 17

左のお手本と同じ顔を右の四角に描きます。大きさや形に気を付けて描きましょう
※クーピー、鉛筆、ラッシュンペンなどいろいろな筆記具で描いてみましょう。
※この問題に解答はありません。



※1. このプリントは、しながわ・目黒こどもスクールのウェブサイトからダウンロードができます。無断複写・引用はご遠慮ください。
※2. このプリントを活用したオンライン授業のスケジュールは、しながわ・目黒こどもスクールのウェブサイトでご確認ください。


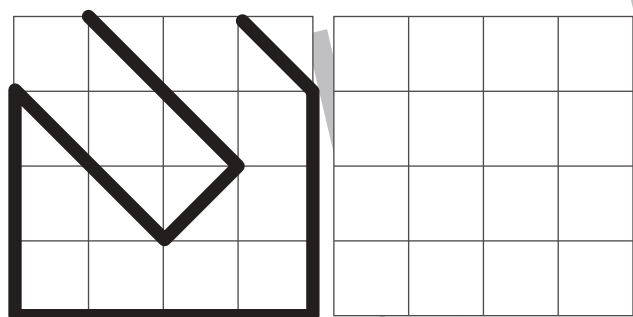
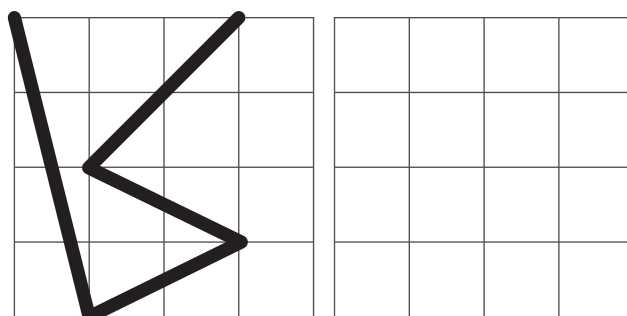
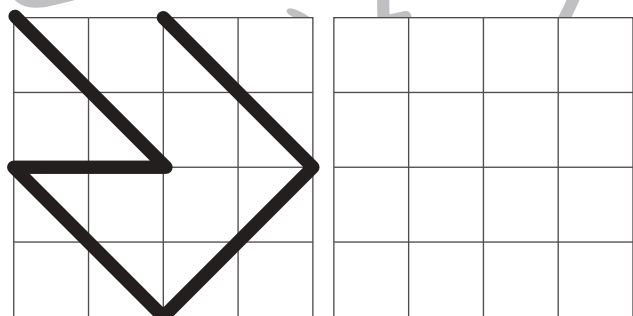
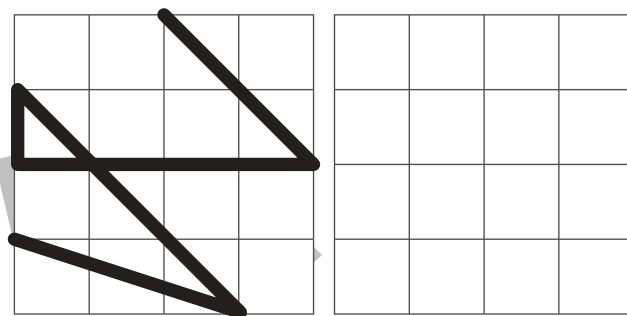

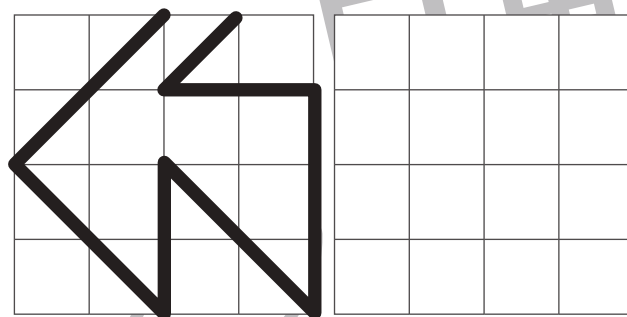



おうちで、やろう。

Study at home. 小学校受験の家庭学習教材

運筆：模写 18

左がお手本です。お手本と同じになるように右に四角にかきます。



※1. このプリントは、しながわ・目黒こどもスクールのウェブサイトでダウンロードができます。無断複写・引用はご遠慮ください。
※2. このプリントを活用したオンライン授業のスケジュールは、しながわ・目黒こどもスクールのウェブサイトでご確認ください。

