

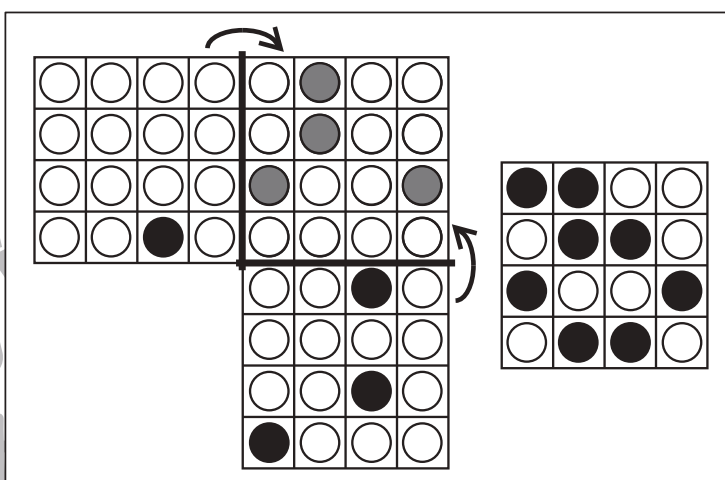
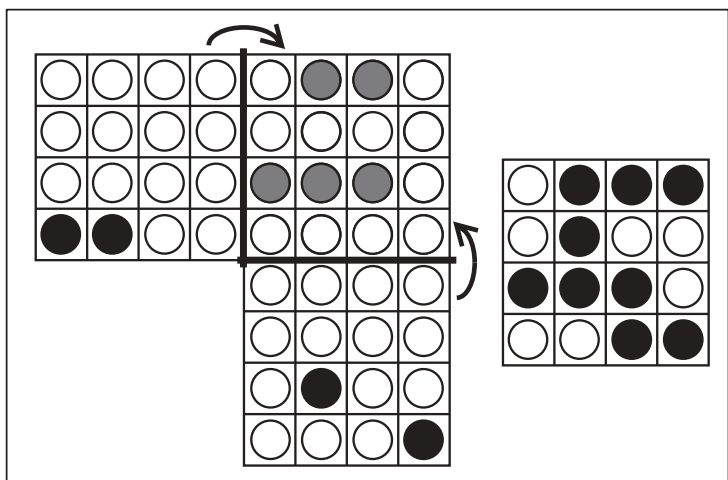
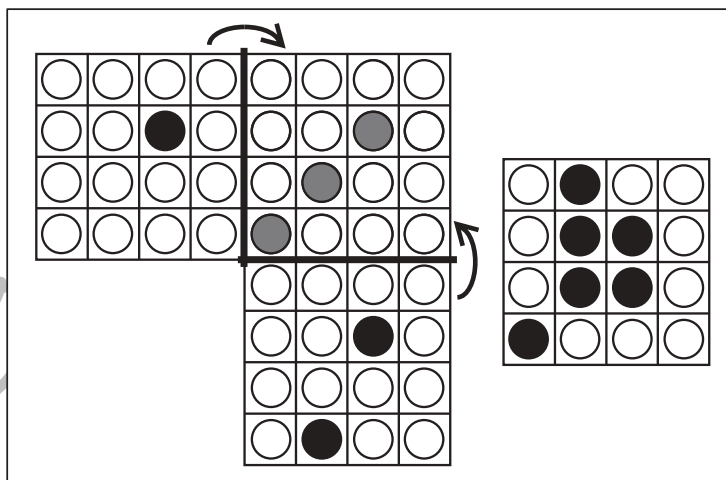
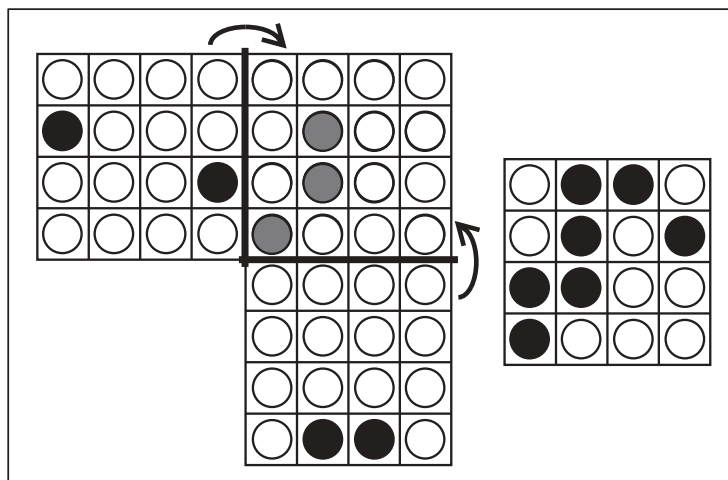
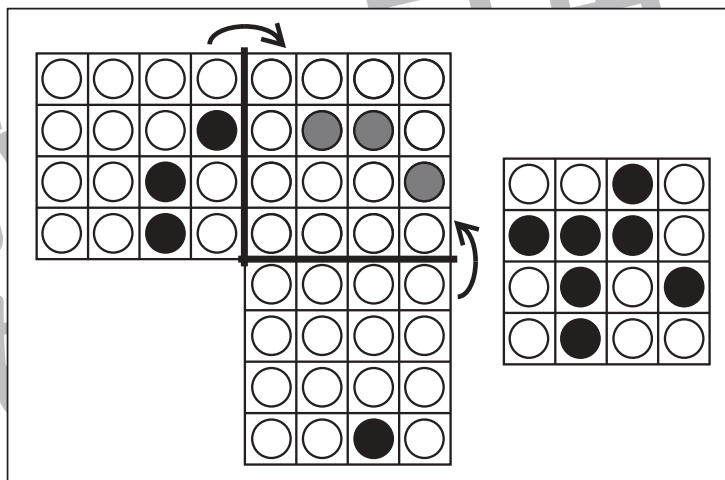
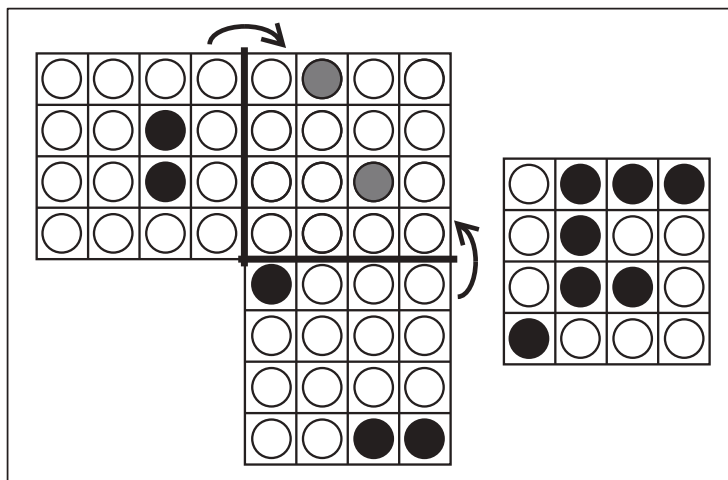


おうちで、やろう。

Study at home. 小学校受験の家庭学習教材

図形：折り重ね61

左の形を太い線で矢印の方向へ折り重ねた時の見え方が、右の四角です。このとき、足りない黒丸があります。足りない○を折り重なった四角（黒丸がない四角）に塗ります。



※1. このプリントは、しながわ・目黒こどもスクールのウェブサイトダウンロードができます。無断複写・引用はご遠慮ください。

※2. このプリントを活用したオンライン授業のスケジュールは、しながわ・目黒こどもスクールのウェブサイトでご確認ください。

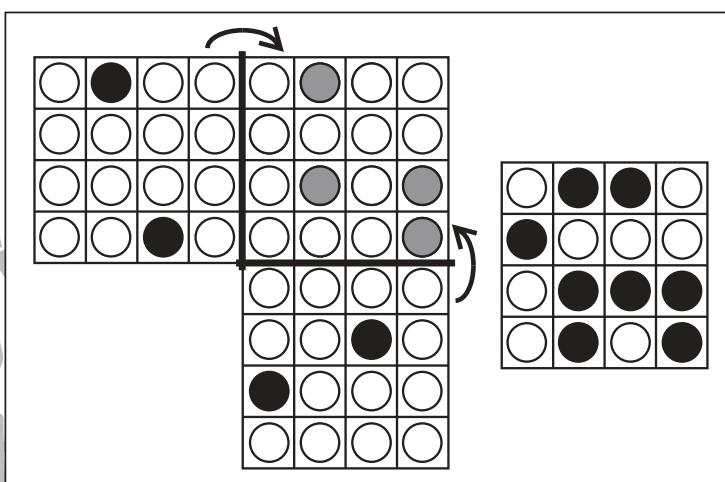
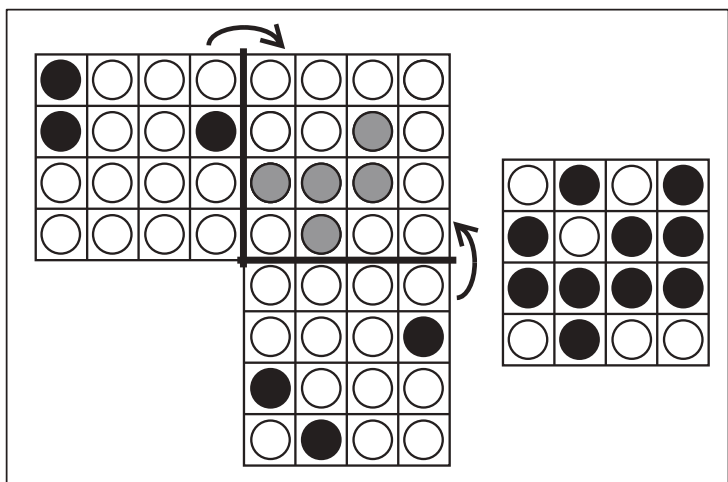
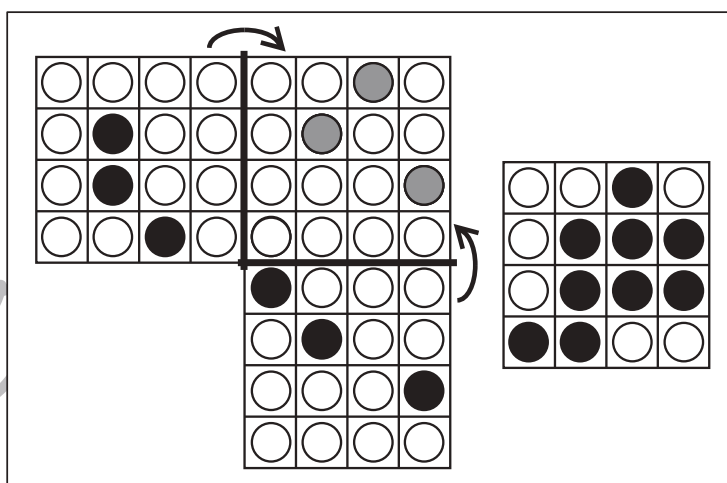
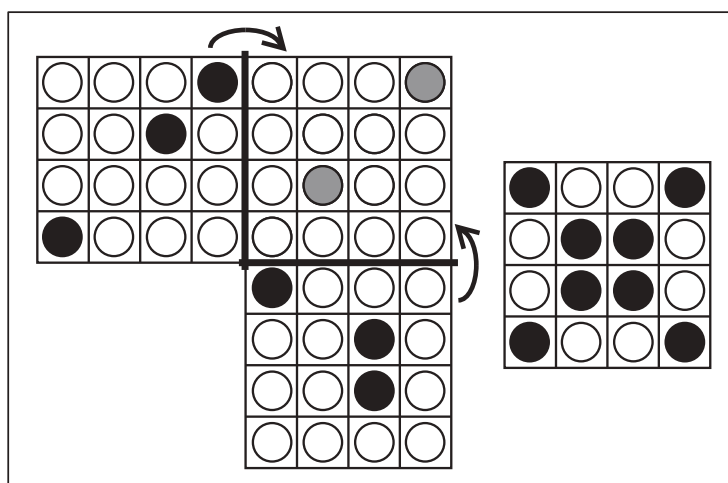
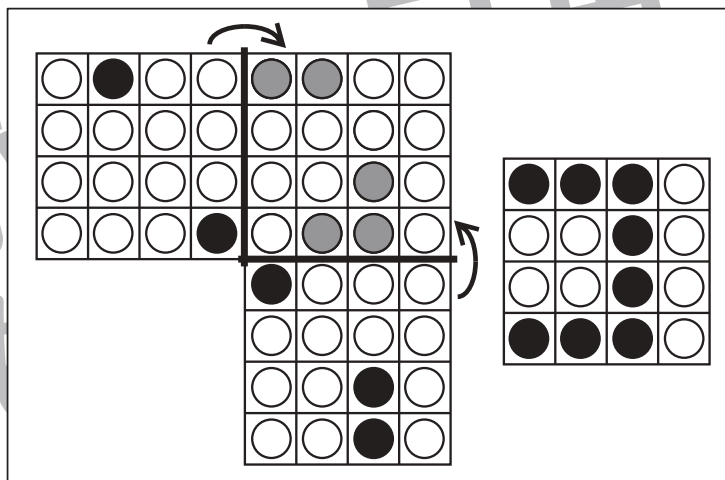
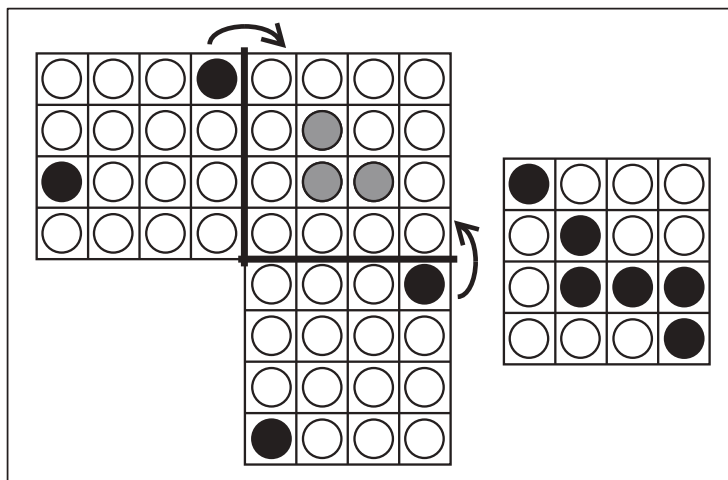


おうちで、やろう。

Study at home. 小学校受験の家庭学習教材

図形：折り重ね 62

左の形を太い線で矢印の方向へ折り重ねた時の見え方が、右の四角です。このとき、足りない黒丸があります。足りない○を折り重なった四角（黒丸がない四角）に塗ります。



※1. このプリントは、しながわ・目黒こどもスクールのウェブサイトからダウンロードできます。無断複写・引用はご遠慮ください。

※2. このプリントを活用したオンライン授業のスケジュールは、しながわ・目黒こどもスクールのウェブサイトでご確認ください。



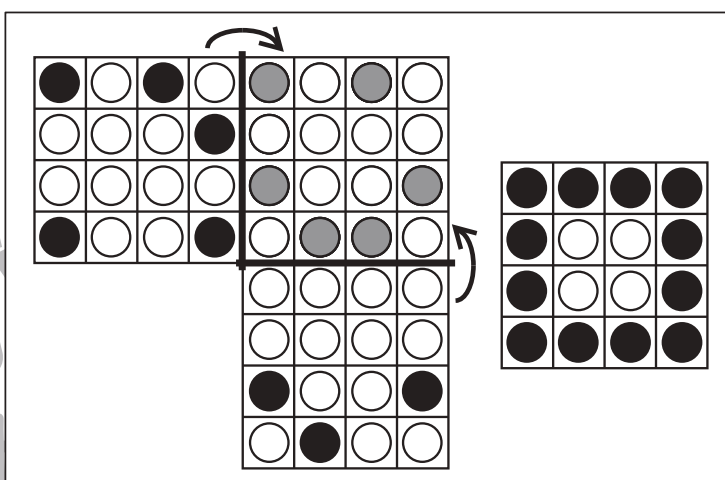
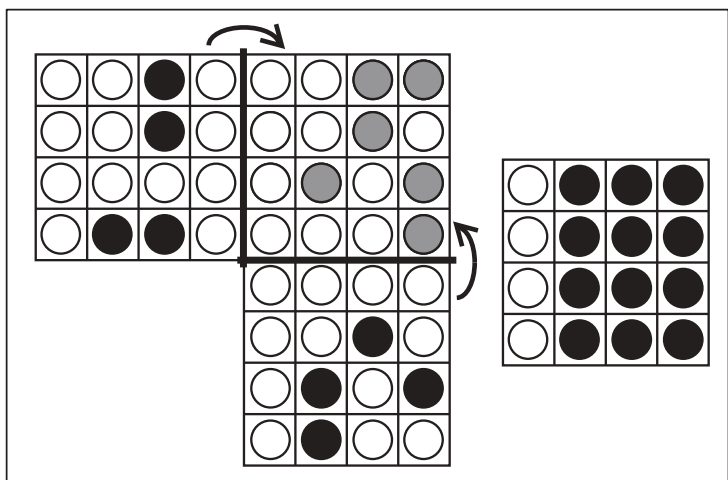
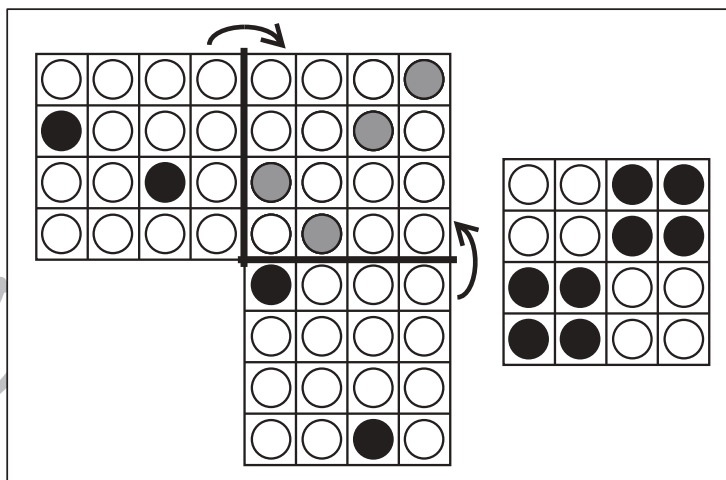
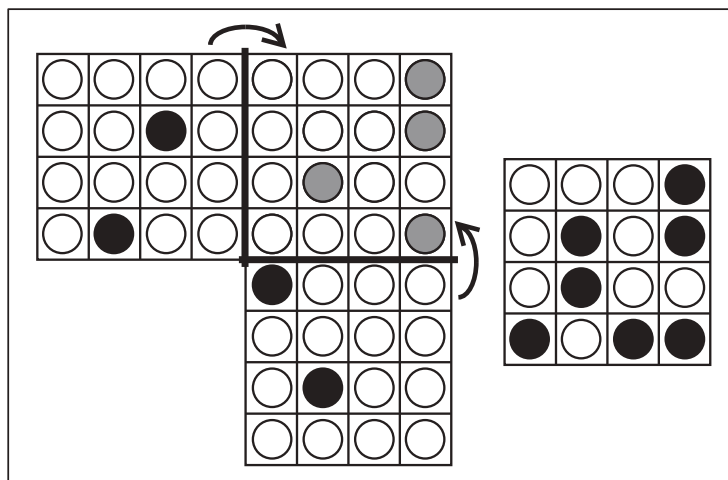
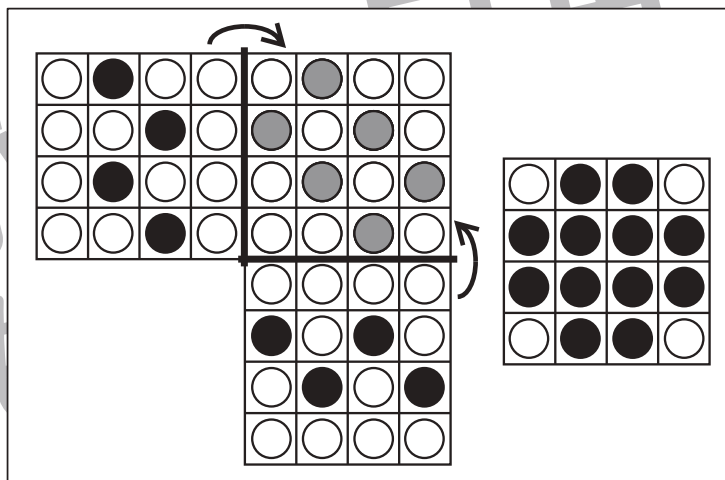
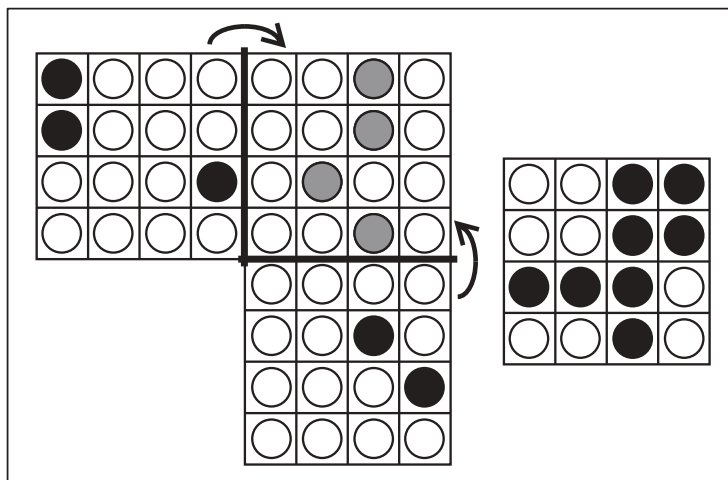


おうちで、やろう。

Study at home. 小学校受験の家庭学習教材

図形：折り重ね 63

左の形を太い線で矢印の方向へ折り重ねた時の見え方が、右の四角です。このとき、足りない黒丸があります。足りない○を折り重なった四角（黒丸がない四角）に塗ります。



※1. このプリントは、しながわ・目黒こどもスクールのウェブサイトでダウンロードができます。無断複写・引用はご遠慮ください。

※2. このプリントを活用したオンライン授業のスケジュールは、しながわ・目黒こどもスクールのウェブサイトでご確認ください。






おうちで、やろう。

Study at home. 小学校受験の家庭学習教材

推理：歯車 8

歯車に重りをつるしました。このとき矢印のついている灰色の歯車は左右どちらに回りますか。回る方向の矢印に○をつけます。



※1. このプリントは、しながわ・目黒こどもスクールのウェブサイトダウンロードできます。無断複写・引用はご遠慮ください。
※2. このプリントを活用したオンライン授業のスケジュールは、しながわ・目黒こどもスクールのウェブサイトでご確認ください。






おうちで、やろう。

Study at home. 小学校受験の家庭学習教材

推理：歯車 9

歯車に重りをつるしました。このとき矢印のついている灰色の歯車は左右どちらに回りますか。回る方向の矢印に○をつけます。



※1. このプリントは、しながわ・目黒こどもスクールのウェブサイトでダウンロードができます。無断複写・引用はご遠慮ください。
 ※2. このプリントを活用したオンライン授業のスケジュールは、しながわ・目黒こどもスクールのウェブサイトでご確認ください。






おうちで、やろう。

Study at home. 小学校受験の家庭学習教材

推理：歯車 10

歯車に重りをつるしました。このとき矢印のついている灰色の歯車は左右どちらに回りますか。回る方向の矢印に○をつけます。



※1. このプリントは、しながわ・目黒こどもスクールのウェブサイトでダウンロードができます。無断複写・引用はご遠慮ください。
※2. このプリントを活用したオンライン授業のスケジュールは、しながわ・目黒こどもスクールのウェブサイトでご確認ください。



おうちで、やろう。

Study at home. 小学校受験の家庭学習教材

数量：分割 23

一番左の箱の中に入っている○と△を点線でつながれているマスに分けていきます。このとき、太いマスに分ける○と△はいくつですか。その数だけマスの中に○と△をかきます。

	<table border="1"> <tr><td>○</td><td>○</td><td>△</td><td></td></tr> <tr><td></td><td></td><td></td><td></td></tr> </table>	○	○	△						<table border="1"> <tr><td>○</td><td></td><td></td></tr> <tr><td></td><td></td><td></td></tr> <tr><td>○</td><td>△</td><td></td></tr> <tr><td></td><td></td><td></td></tr> <tr><td>○</td><td>△</td><td></td></tr> <tr><td>○</td><td>○</td><td>△</td></tr> <tr><td></td><td></td><td></td></tr> </table>	○						○	△					○	△		○	○	△						
○	○	△																																
○																																		
○	△																																	
○	△																																	
○	○	△																																
	<table border="1"> <tr><td>○</td><td>○</td><td>○</td><td></td></tr> <tr><td>△</td><td>△</td><td></td><td></td></tr> </table>	○	○	○		△	△			<table border="1"> <tr><td>○</td><td>○</td><td></td></tr> <tr><td>△</td><td></td><td></td></tr> <tr><td>○</td><td>△</td><td></td></tr> <tr><td></td><td></td><td></td></tr> <tr><td>○</td><td>○</td><td>○</td></tr> <tr><td>△</td><td>△</td><td></td></tr> <tr><td>○</td><td>○</td><td>△</td></tr> <tr><td></td><td></td><td></td></tr> </table>	○	○		△			○	△					○	○	○	△	△		○	○	△			
○	○	○																																
△	△																																	
○	○																																	
△																																		
○	△																																	
○	○	○																																
△	△																																	
○	○	△																																
	<table border="1"> <tr><td>○</td><td>○</td><td>○</td><td>○</td></tr> <tr><td>△</td><td>△</td><td>△</td><td></td></tr> </table>	○	○	○	○	△	△	△		<table border="1"> <tr><td>○</td><td>○</td><td>○</td></tr> <tr><td>△</td><td>△</td><td>△</td></tr> <tr><td>○</td><td></td><td></td></tr> <tr><td></td><td></td><td></td></tr> <tr><td>○</td><td>○</td><td>△</td></tr> <tr><td>△</td><td>△</td><td></td></tr> <tr><td>○</td><td>○</td><td>○</td></tr> <tr><td></td><td></td><td></td></tr> </table>	○	○	○	△	△	△	○						○	○	△	△	△		○	○	○			
○	○	○	○																															
△	△	△																																
○	○	○																																
△	△	△																																
○																																		
○	○	△																																
△	△																																	
○	○	○																																

※1. このプリントは、しながわ・目黒こどもスクールのウェブサイトでダウンロードができます。無断複写・引用はご遠慮ください。
※2. このプリントを活用したオンライン授業のスケジュールは、しながわ・目黒こどもスクールのウェブサイトでご確認ください。



おうちで、やろう。

Study at home. 小学校受験の家庭学習教材

数量：分割 24

一番左の箱の中に入っている○と△を点線でつながれているマスに分けていきます。このとき、太いマスに分ける○と△はいくつですか。その数だけマスの中に○と△をかきます。

	<table border="1"> <tr><td>○</td><td>○</td><td>○</td><td>△</td></tr> <tr><td>△</td><td>△</td><td></td><td></td></tr> </table>	○	○	○	△	△	△			<table border="1"> <tr><td>○</td><td>○</td><td></td></tr> <tr><td>△</td><td></td><td></td></tr> <tr><td>○</td><td>△</td><td>△</td></tr> <tr><td></td><td></td><td></td></tr> <tr><td>○</td><td></td><td></td></tr> <tr><td></td><td></td><td></td></tr> <tr><td>○</td><td>○</td><td>○</td></tr> <tr><td>△</td><td>△</td><td></td></tr> </table>	○	○		△			○	△	△				○						○	○	○	△	△								
○	○	○	△																																						
△	△																																								
○	○																																								
△																																									
○	△	△																																							
○																																									
○	○	○																																							
△	△																																								
	<table border="1"> <tr><td>○</td><td>○</td><td>○</td><td>○</td></tr> <tr><td>○</td><td>△</td><td>△</td><td>△</td></tr> <tr><td>△</td><td></td><td></td><td></td></tr> </table>	○	○	○	○	○	△	△	△	△				<table border="1"> <tr><td>○</td><td>○</td><td>○</td></tr> <tr><td>△</td><td>△</td><td>△</td></tr> <tr><td>○</td><td>○</td><td>△</td></tr> <tr><td></td><td></td><td></td></tr> <tr><td>○</td><td>○</td><td>○</td></tr> <tr><td>△</td><td>△</td><td></td></tr> <tr><td>○</td><td>○</td><td>△</td></tr> <tr><td></td><td></td><td></td></tr> </table>	○	○	○	△	△	△	○	○	△				○	○	○	△	△		○	○	△						
○	○	○	○																																						
○	△	△	△																																						
△																																									
○	○	○																																							
△	△	△																																							
○	○	△																																							
○	○	○																																							
△	△																																								
○	○	△																																							
	<table border="1"> <tr><td>○</td><td>○</td><td>○</td><td>○</td></tr> <tr><td>○</td><td>○</td><td>○</td><td>△</td></tr> <tr><td>△</td><td>△</td><td>△</td><td></td></tr> </table>	○	○	○	○	○	○	○	△	△	△	△		<table border="1"> <tr><td>○</td><td>○</td><td>○</td></tr> <tr><td>△</td><td>△</td><td></td></tr> <tr><td>○</td><td>○</td><td>○</td></tr> <tr><td>○</td><td>△</td><td>△</td></tr> <tr><td></td><td></td><td></td></tr> <tr><td>○</td><td>○</td><td>△</td></tr> <tr><td>△</td><td>△</td><td></td></tr> <tr><td>○</td><td>○</td><td>○</td></tr> <tr><td>○</td><td>△</td><td>△</td></tr> </table>	○	○	○	△	△		○	○	○	○	△	△				○	○	△	△	△		○	○	○	○	△	△
○	○	○	○																																						
○	○	○	△																																						
△	△	△																																							
○	○	○																																							
△	△																																								
○	○	○																																							
○	△	△																																							
○	○	△																																							
△	△																																								
○	○	○																																							
○	△	△																																							

※1. このプリントは、しながわ・目黒こどもスクールのウェブサイトでダウンロードができます。無断複写・引用はご遠慮ください。
※2. このプリントを活用したオンライン授業のスケジュールは、しながわ・目黒こどもスクールのウェブサイトでご確認ください。