

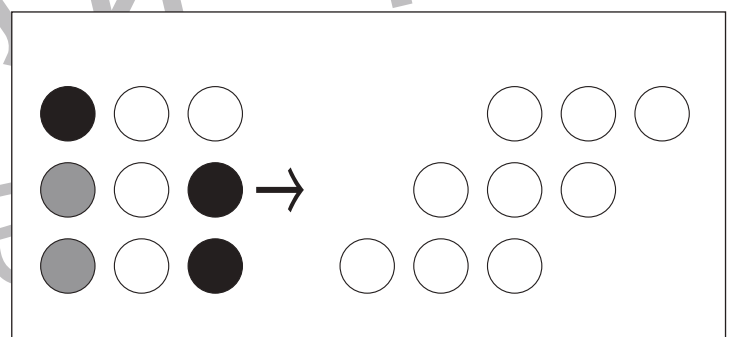
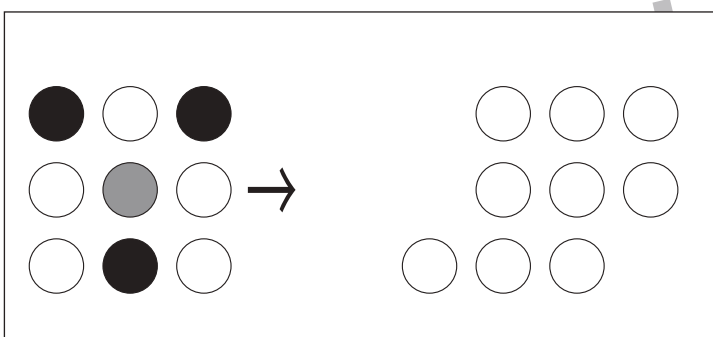
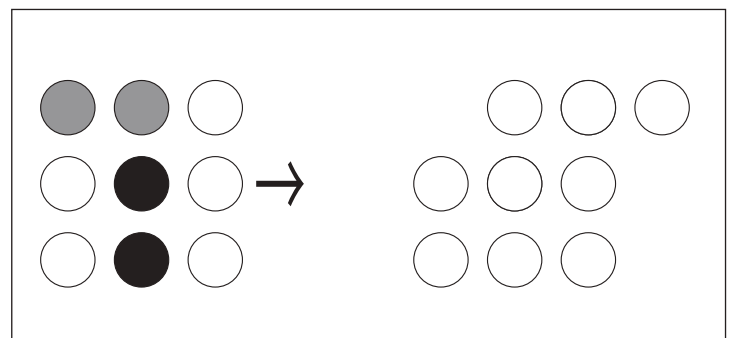
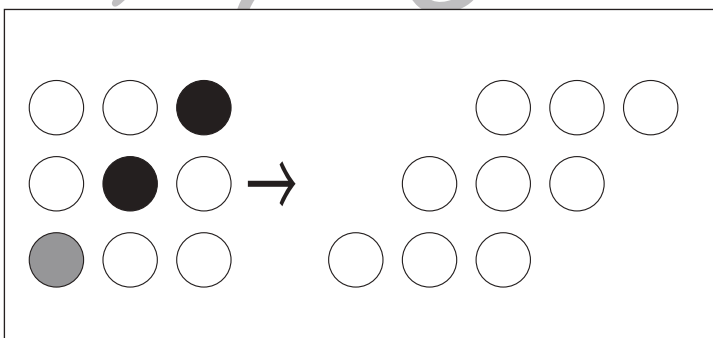
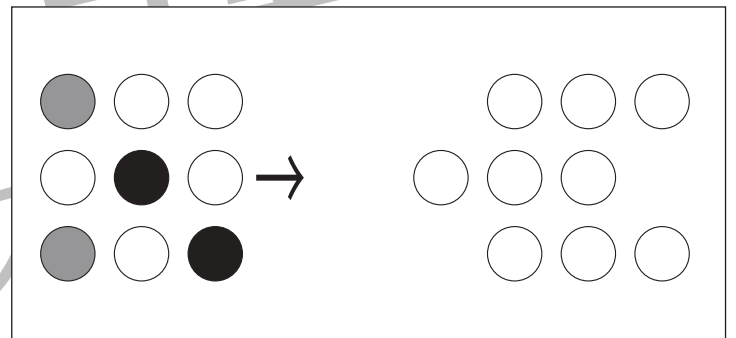
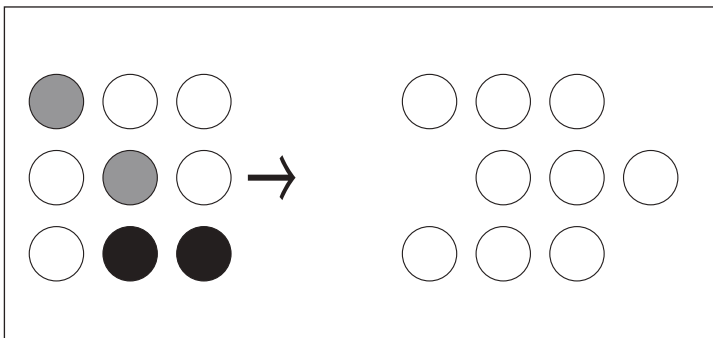
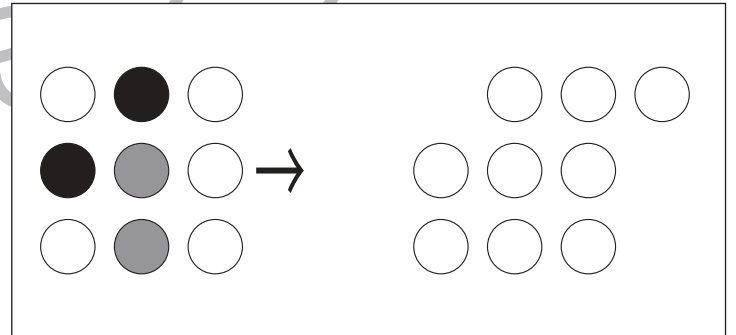
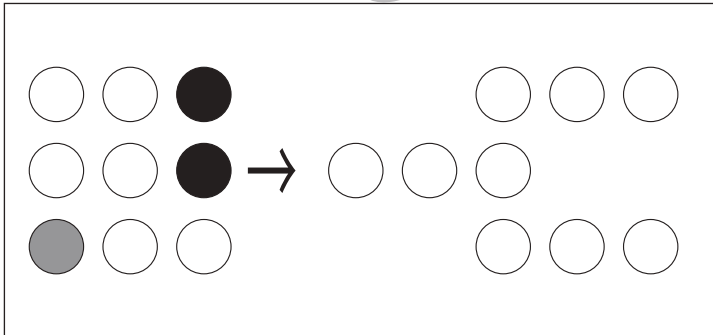
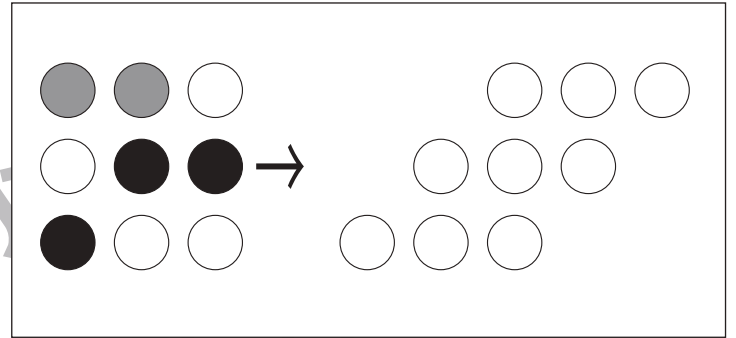
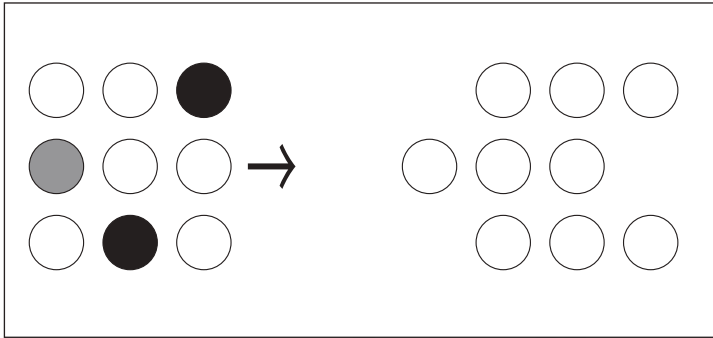


おうちで、やろう。

Study at home. 小学校受験の家庭学習教材

図形：移動57

左がお手本です。このお手本の黒丸と同じ場所を考えて矢印の右の同じ場所の丸を塗り、灰色の丸と同じ場所を考えてその場所の1つ右の丸を塗ります。ただし、矢印の右の○はずれています。どの場所を塗ればよいのか考えましょう。



※1. このプリントは、しながわ・目黒こどもスクールのウェブサイトでダウンロードができます。無断複写・引用はご遠慮ください。
※2. このプリントを活用したオンライン授業のスケジュールは、しながわ・目黒こどもスクールのウェブサイトでご確認ください。

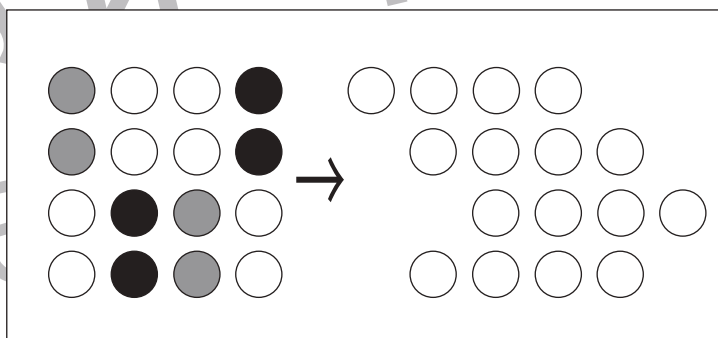
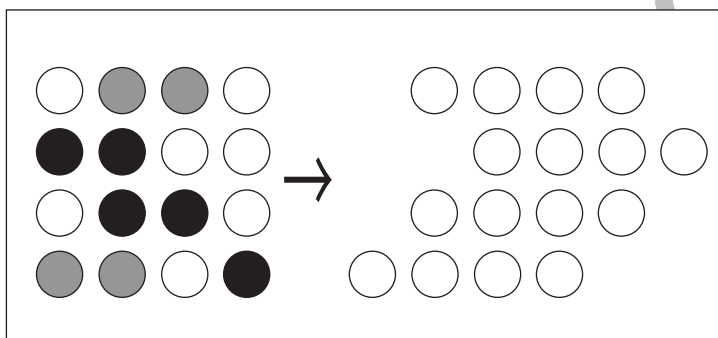
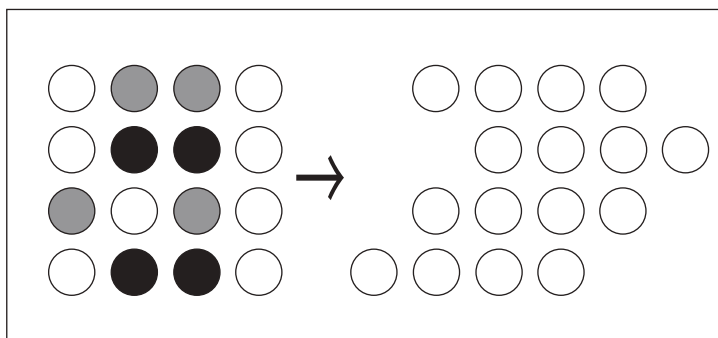
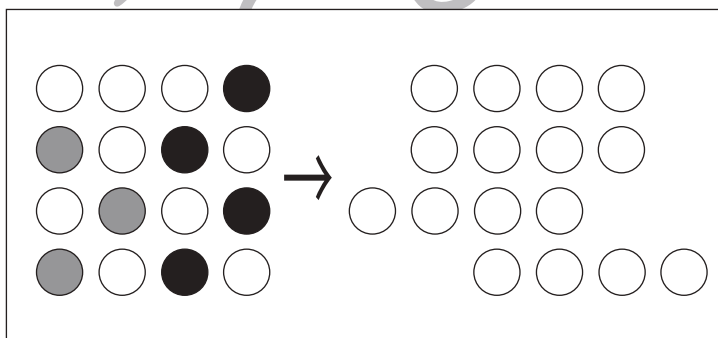
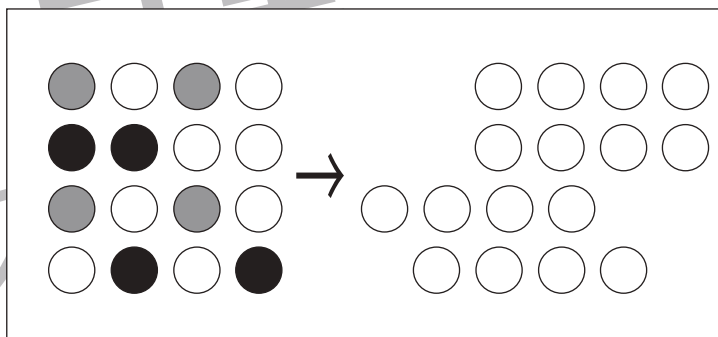
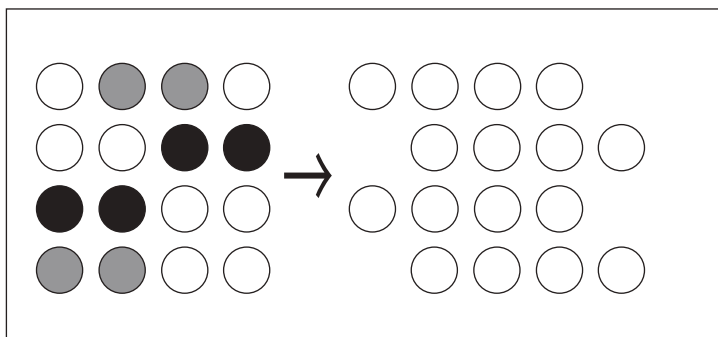
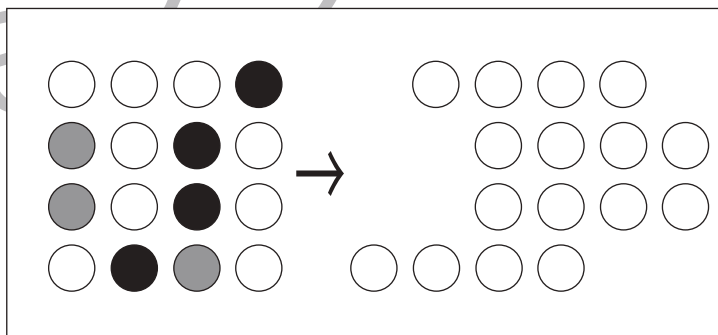
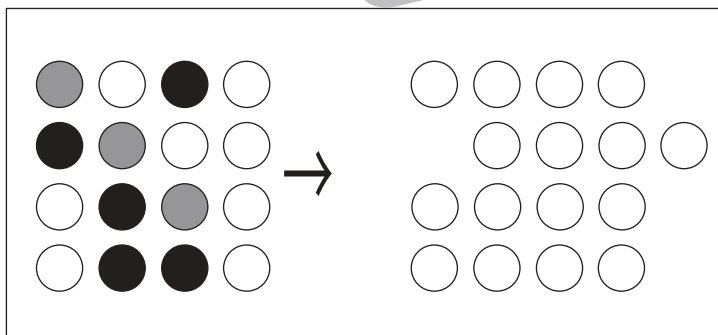
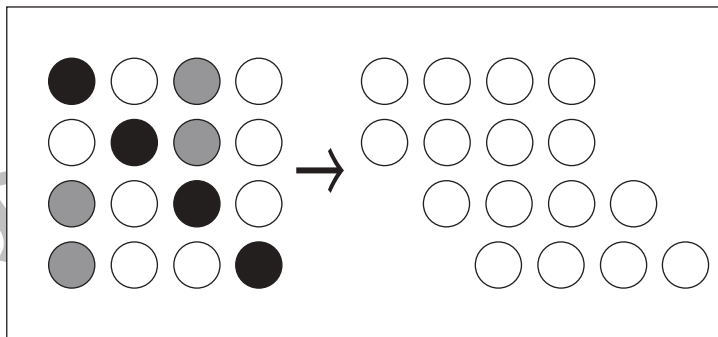
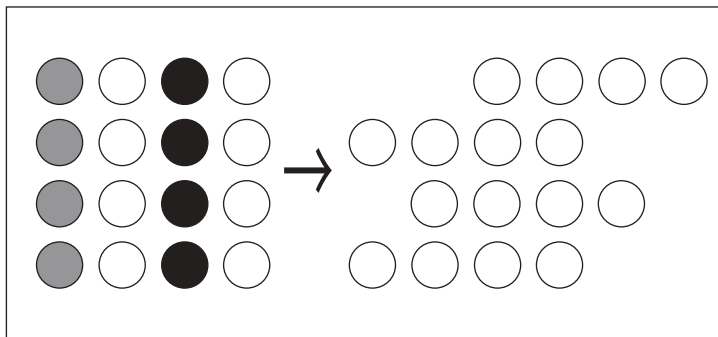


おうちで、やろう。

Study at home. 小学校受験の家庭学習教材

図形：移動 58

左がお手本です。このお手本の黒丸と同じ場所を考えて矢印の右の同じ場所の丸を塗り、灰色の丸と同じ場所を考えてその場所の1つ右の丸を塗ります。ただし、矢印の右の○はずれています。どの場所を塗ればよいのか考えましょう。



※1. このプリントは、しながわ・目黒こどもスクールのウェブサイトでダウンロードができます。無断複写・引用はご遠慮ください。
※2. このプリントを活用したオンライン授業のスケジュールは、しながわ・目黒こどもスクールのウェブサイトでご確認ください。

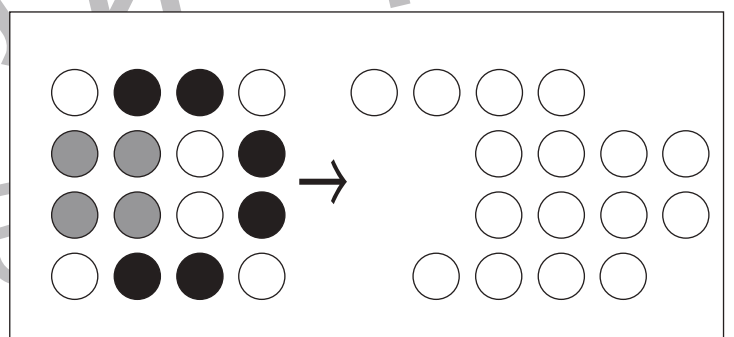
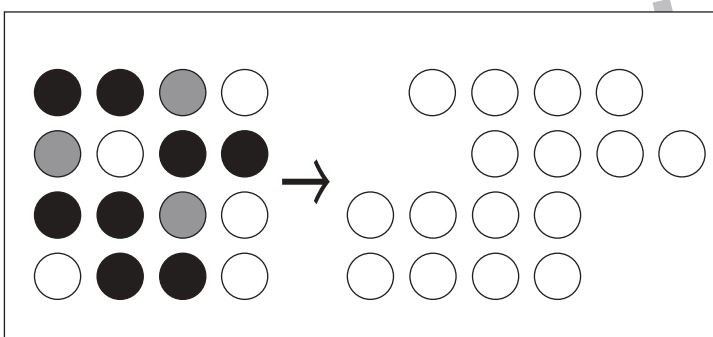
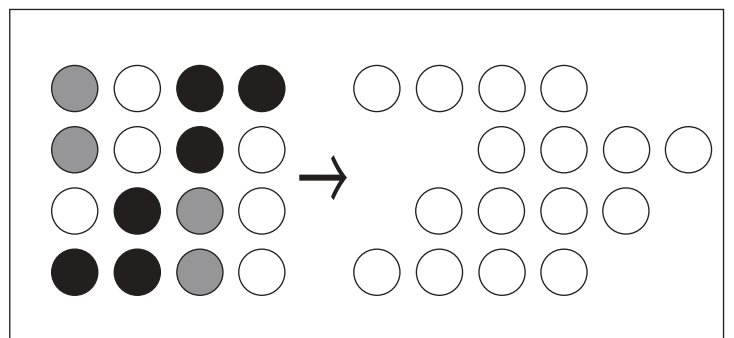
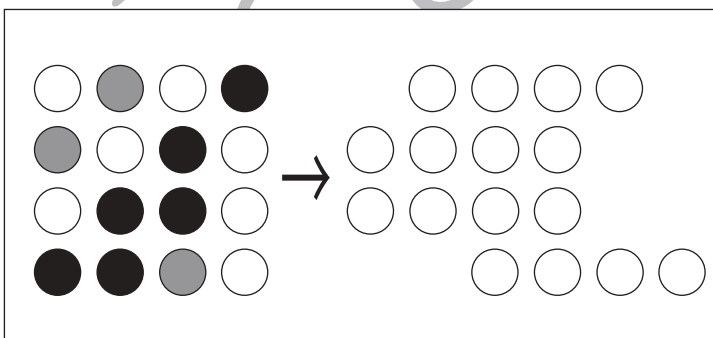
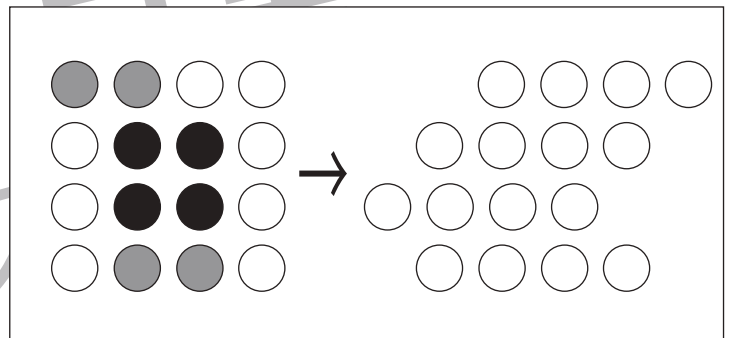
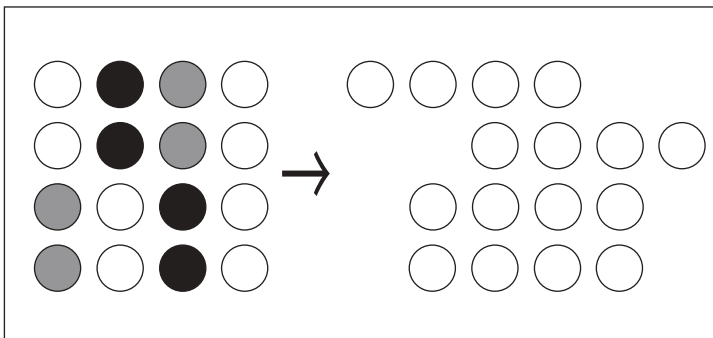
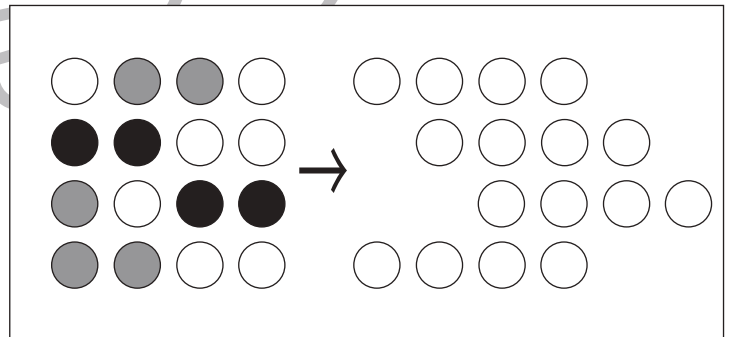
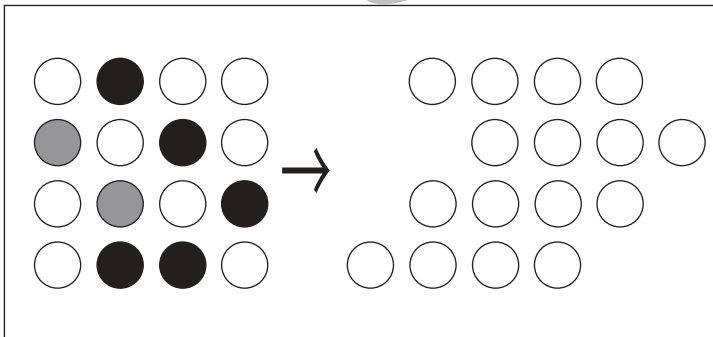
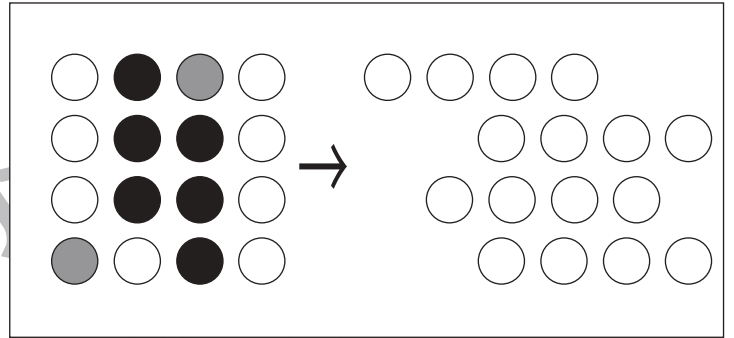
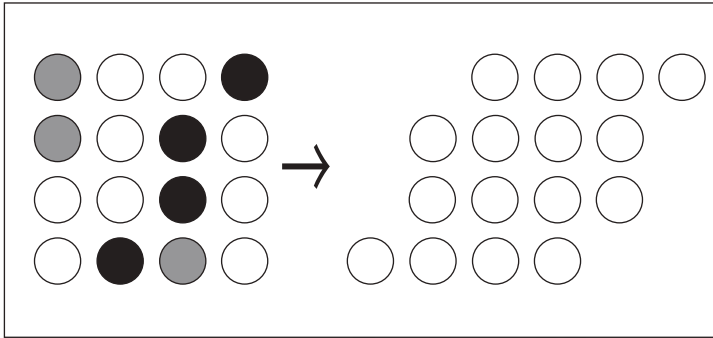


おうちで、やろう。

Study at home. 小学校受験の家庭学習教材

図形：移動 59

左がお手本です。このお手本の黒丸と同じ場所を考えて矢印の右の同じ場所の丸を塗り、灰色の丸と同じ場所を考えてその場所の1つ右の丸を塗ります。ただし、矢印の右の○はずれています。どの場所を塗ればよいのか考えましょう。



※1. このプリントは、しながわ・目黒こどもスクールのウェブサイトでダウンロードができます。無断複写・引用はご遠慮ください。
※2. このプリントを活用したオンライン授業のスケジュールは、しながわ・目黒こどもスクールのウェブサイトでご確認ください。



おうちで、やろう。

Study at home. 小学校受験の家庭学習教材

推理：積み木 26

上の積み木がお手本です。お手本の積み木を1つ動かして矢印の下の形を作りました。お手本のどの積み木を動かしたのかを考えて、動かした積み木に○をつけます。印はお手本の積み木につけましょう。

↓	↓	↓
↓	↓	↓

※1. このプリントは、しながわ・目黒こどもスクールのウェブサイトでダウンロードができます。無断複写・引用はご遠慮ください。
 ※2. このプリントを活用したオンライン授業のスケジュールは、しながわ・目黒こどもスクールのウェブサイトでご確認ください。



おうちで、やろう。

Study at home. 小学校受験の家庭学習教材

推理：積み木 27

上の積み木がお手本です。お手本の積み木を1つ動かして矢印の下の形を作りました。お手本のどの積み木を動かしたのかを考えて、動かした積み木に○をつけます。印はお手本の積み木につけましょう。

↓	↓	↓
↓	↓	↓

※1. このプリントは、しながわ・目黒こどもスクールのウェブサイトでダウンロードができます。無断複写・引用はご遠慮ください。

※2. このプリントを活用したオンライン授業のスケジュールは、しながわ・目黒こどもスクールのウェブサイトでご確認ください。



おうちで、やろう。

Study at home. 小学校受験の家庭学習教材

推理：積み木 28

上の積み木がお手本です。お手本の積み木を2つ動かして矢印の下の形を作りました。お手本のどの積み木を動かしたのかを考えて、動かした積み木に○をつけます。印はお手本の積み木につけましょう。

↓	↓	↓
↓	↓	↓

※1. このプリントは、しながわ・目黒こどもスクールのウェブサイトでダウンロードができます。無断複写・引用はご遠慮ください。

※2. このプリントを活用したオンライン授業のスケジュールは、しながわ・目黒こどもスクールのウェブサイトでご確認ください。




おうちで、やろう。

Study at home. 小学校受験の家庭学習教材


数量：分割 25

太い四角の中のお友だちで果物を分けます。


仲良く同じ数にぴったり分けられる果物には○、ぴったり分けられない果物には×をつけます。



--	--	--	--	--



--	--	--	--	--



--	--	--	--	--

※1. このプリントは、しながわ・目黒こどもスクールのウェブサイトでダウンロードができます。無断複写・引用はご遠慮ください。

※2. このプリントを活用したオンライン授業のスケジュールは、しながわ・目黒こどもスクールのウェブサイトでご確認ください。



おうちで、やろう。

Study at home. 小学校受験の家庭学習教材


数量：等分 26

太い四角の中のお友だちで野菜を分けます。


仲良く同じ数にぴったり分けられる野菜には○、ぴったり分けられない野菜には×をつけます。



--	--	--	--	--



--	--	--	--	--



--	--	--	--	--

※1. このプリントは、しながわ・目黒こどもスクールのウェブサイトでダウンロードができます。無断複写・引用はご遠慮ください。

※2. このプリントを活用したオンライン授業のスケジュールは、しながわ・目黒こどもスクールのウェブサイトでご確認ください。

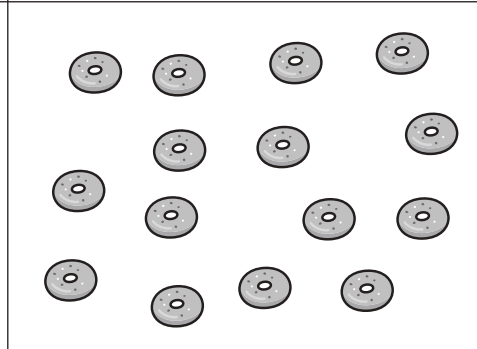

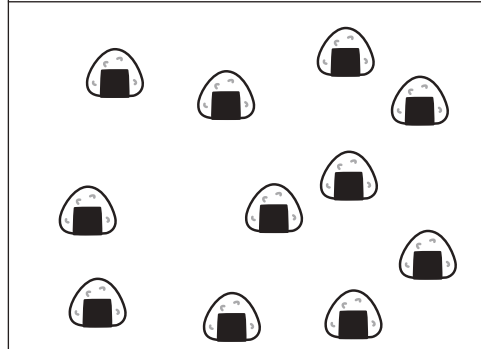

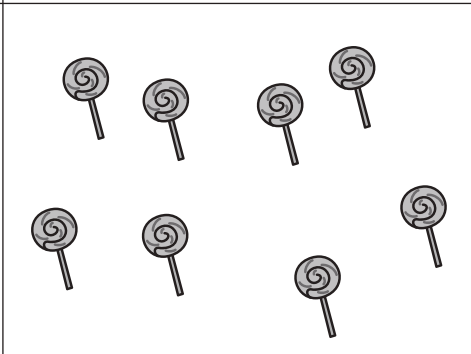

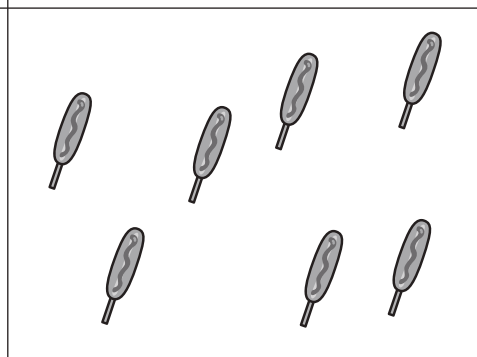


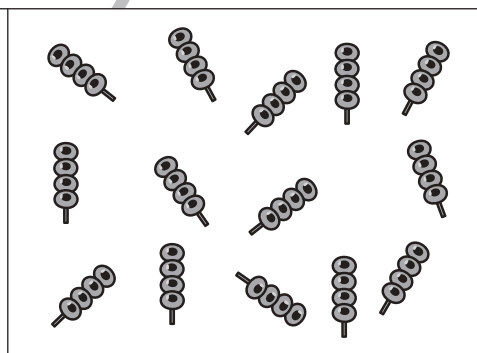

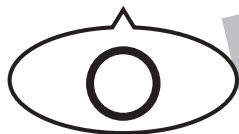




おうちで、やろう。

Study at home. 小学校受験の家庭学習教材

数量：分割 27

下の四角の中のおやつをお友だちで仲良くぴったりになるように分けます。2人で分けられるおやつには○、3人で分けられるおやつには×、4人で分けられるおやつには△をつけます。同じおやつでも違う人数で分けられることもあります。その場合は分けられる人数の記号を全てつけます。



※1. このプリントは、しながわ・目黒こどもスクールのウェブサイトからダウンロードできます。無断複写・引用はご遠慮ください。

※2. このプリントを活用したオンライン授業のスケジュールは、しながわ・目黒こどもスクールのウェブサイトでご確認ください。




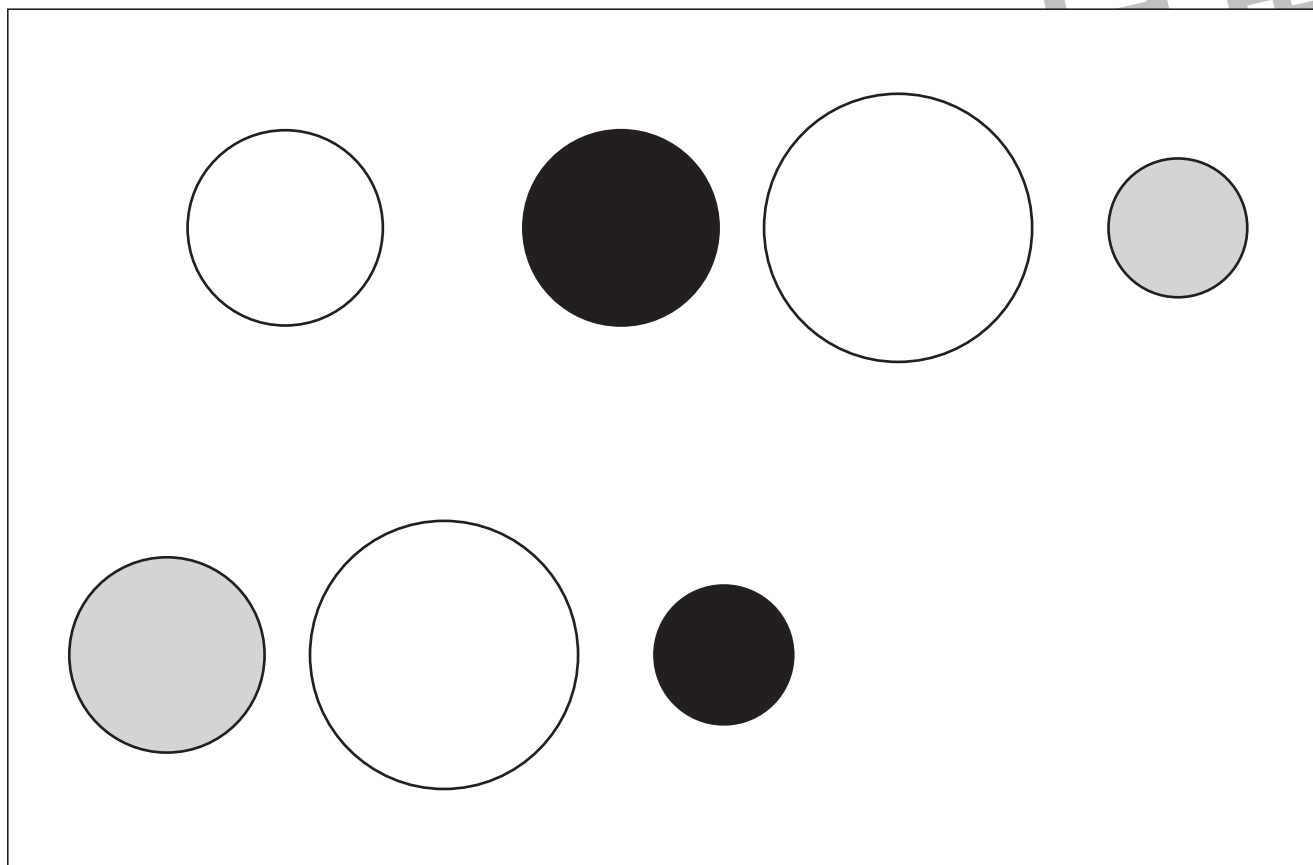


おうちで、やろう。

Study at home. 小学校受験の家庭学習教材

運筆：模写 19

上のお手本と同じになるように足りない形や線、色を塗りましょう。
※この問題に解答はありません。



※1. このプリントは、しながわ・目黒こどもスクールのウェブサイトからダウンロードできます。無断複写・引用はご遠慮ください。
※2. このプリントを活用したオンライン授業のスケジュールは、しながわ・目黒こどもスクールのウェブサイトでご確認ください。