



おうちで、やろう。

Study at home. 小学校受験の家庭学習教材

記憶：絵の記憶 14

別紙『記憶 - 絵の記憶⑩記憶用紙』を使用し、20秒間記憶してから問題に取り組みます。
覚えた形と同じものだけをなぞります。回転していたり、裏返しになっているものはなぞりません。
※10月8日(金)のオンライン授業では実施中に記憶する絵を画面で表示します。

※1. このプリントは、しながわ・目黒こどもスクールのウェブサイトでダウンロードができます。無断複写・引用はご遠慮ください。
※2. このプリントを活用したオンライン授業のスケジュールは、しながわ・目黒こどもスクールのウェブサイトでご確認ください。




おうちで、やろう。

Study at home. 小学校受験の家庭学習教材

常識：なぞなぞ 9

①～⑤の問題を聞いて、下の四角の中から正しいものを選びます。

- ①私は春になるときれいに咲きます。赤、白、黄色などいろいろな色があります。私に○をつけてください。
- ②私は冬の行事です。「恵方巻き」を食べたりします。私に△をつけてください。
- ③私は暑い季節に空に向かって咲き、背が高いお花です。私に□をつけてください。
- ④私は赤ちゃんの時は水の中にいますが、大人になると水の中から外に出てきます。私に◎をつけてください。
- ⑤私は夏の朝にきれいに咲きます。またツルが伸びてぐるぐる巻きになります。私に×をつけてください。



※1. このプリントは、しながわ・目黒こどもスクールのウェブサイトダウンロードができます。無断複写・引用はご遠慮ください。
 ※2. このプリントを活用したオンライン授業のスケジュールは、しながわ・目黒こどもスクールのウェブサイトでご確認ください。

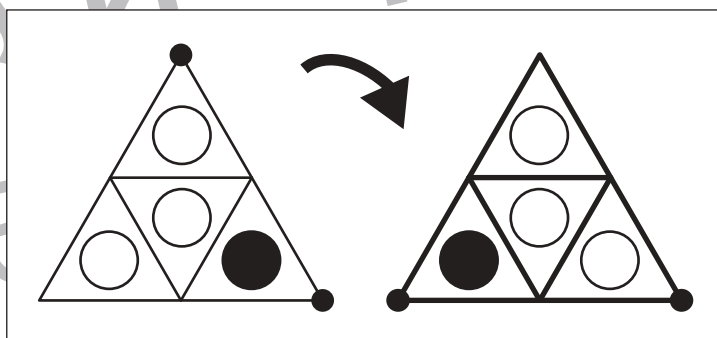
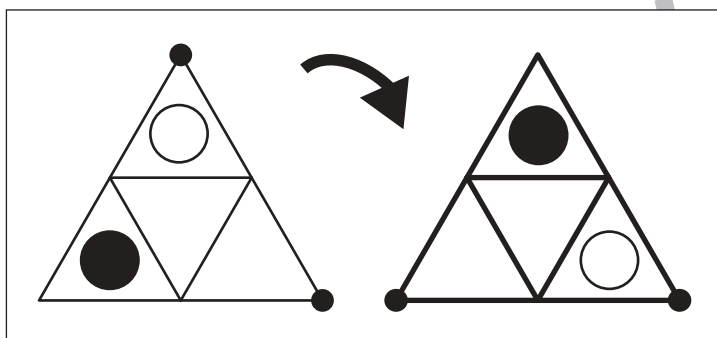
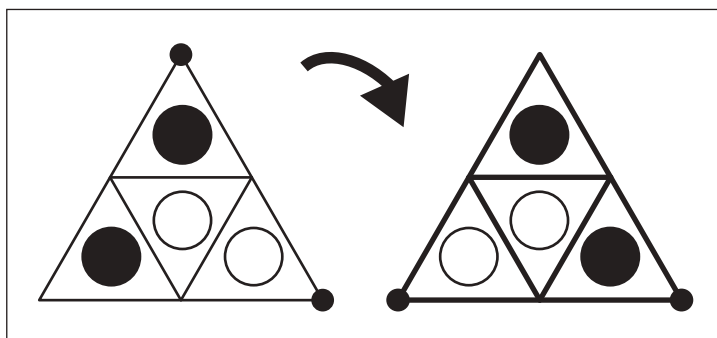
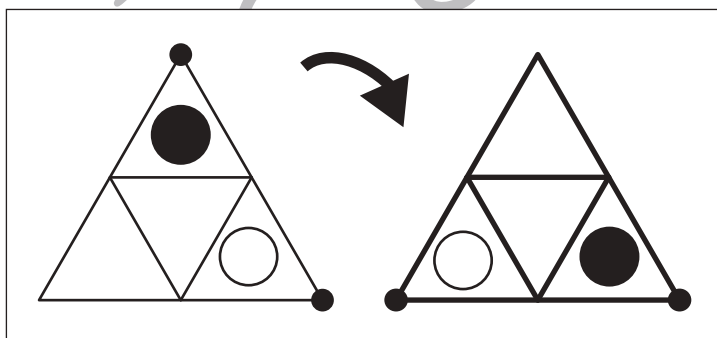
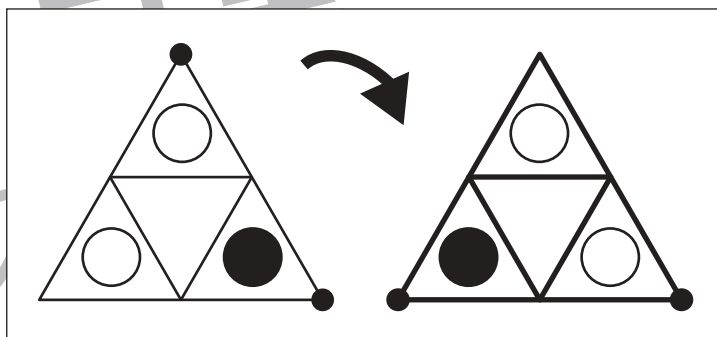
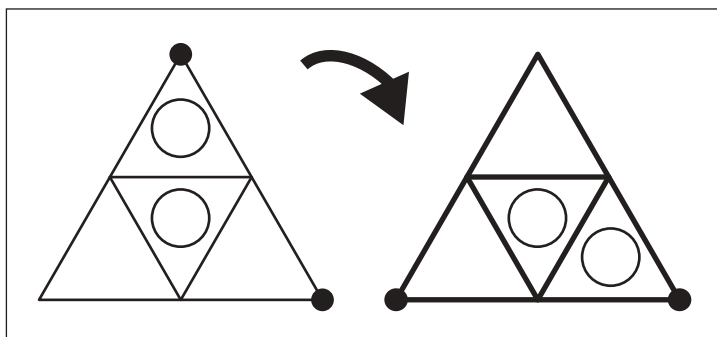
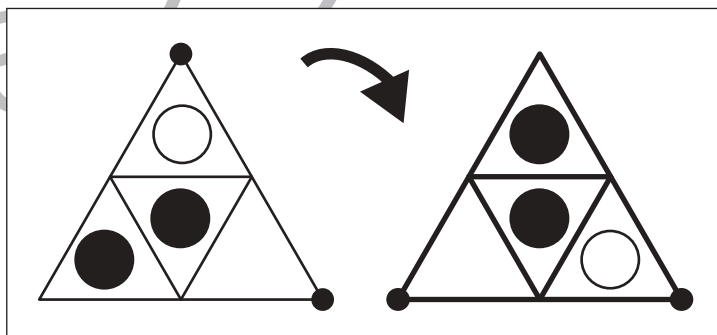
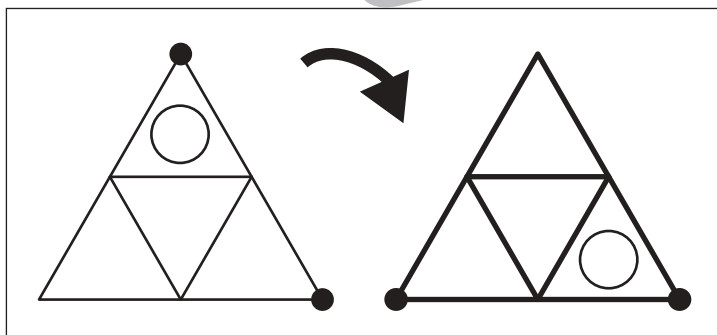
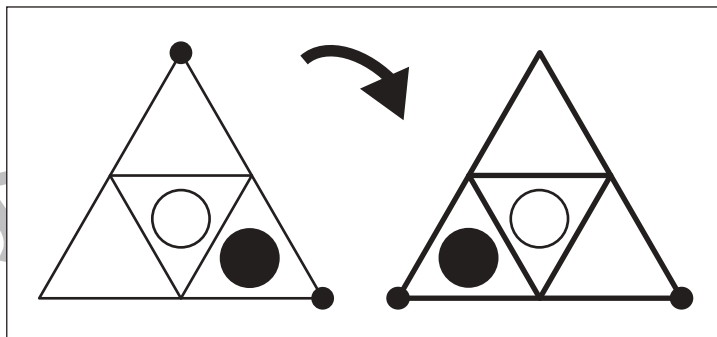
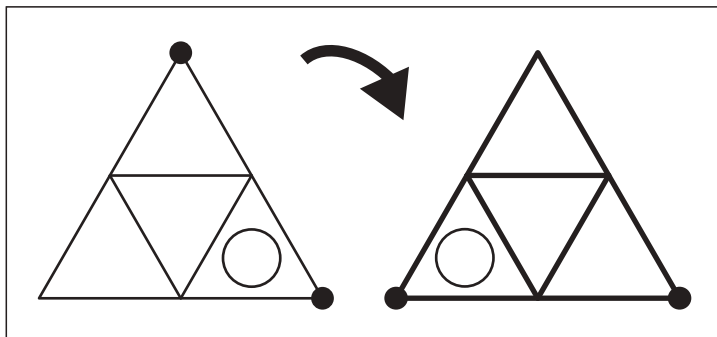


おうちで、やろう。

Study at home. 小学校受験の家庭学習教材

図形：回転 85

左のお手本を矢印の方向へ倒した時の見え方を考えて右の三角にかきます。



※1. このプリントは、しながわ・目黒こどもスクールのウェブサイトからダウンロードできます。無断複写・引用はご遠慮ください。
※2. このプリントを活用したオンライン授業のスケジュールは、しながわ・目黒こどもスクールのウェブサイトでご確認ください。



おうちで、やろう。

Study at home. 小学校受験の家庭学習教材

図形：回転 86

左のお手本を矢印の方向へ倒した時の見え方を考えて右の三角にかきます。

※1. このプリントは、しながわ・目黒こどもスクールのウェブサイトからダウンロードできます。無断複写・引用はご遠慮ください。

※2. このプリントを活用したオンライン授業のスケジュールは、しながわ・目黒こどもスクールのウェブサイトでご確認ください。



おうちで、やろう。

Study at home. 小学校受験の家庭学習教材

図形：回転 87

左のお手本を矢印の方向へ回転した時の見え方を考えて右の三角にかきます。

※1. このプリントは、しながわ・目黒こどもスクールのウェブサイトからダウンロードできます。無断複写・引用はご遠慮ください。

※2. このプリントを活用したオンライン授業のスケジュールは、しながわ・目黒こどもスクールのウェブサイトでご確認ください。



おうちで、やろう。

Study at home. 小学校受験の家庭学習教材

推理：じゃんけん 27

ゾウとネコとリスがじゃんけんゲームをします。上の太い四角が約束です。じゃんけんで勝った時だけ勝った手の右にある○の数だけマスを進めます。3匹でじゃんけんをした時、ゾウがいるマスに○を、ネコがいるマスに△を、リスがいるマスに×をつけます。一度も進むことができなかった場合は、左端のゾウ、ネコ、リスに印をつけます。

○ ○ ○ ○	○ ○	○ ○ ○
---------	-----	-------

						○							
												△	

						○							
						△							

						○							
												△	
										×			

							○						
							△						

※1. このプリントは、しながわ・目黒こどもスクールのウェブサイトでダウンロードができます。無断複写・引用はご遠慮ください。
※2. このプリントを活用したオンライン授業のスケジュールは、しながわ・目黒こどもスクールのウェブサイトでご確認ください。

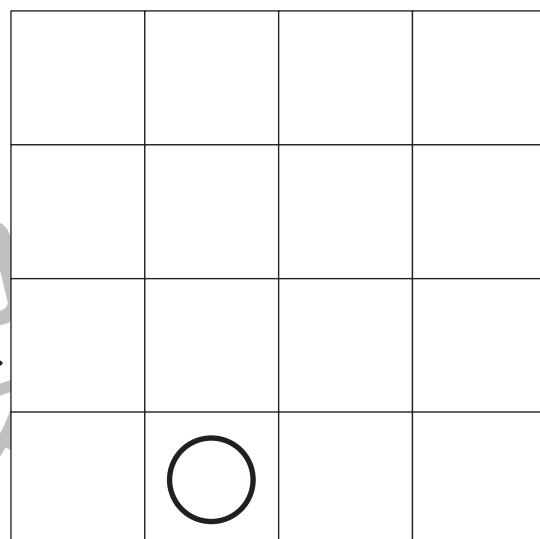
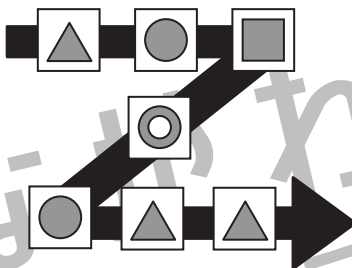

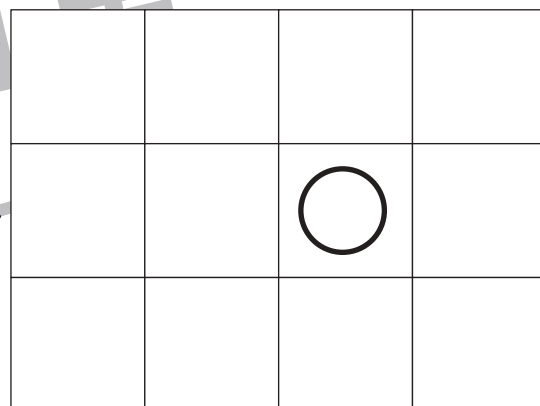

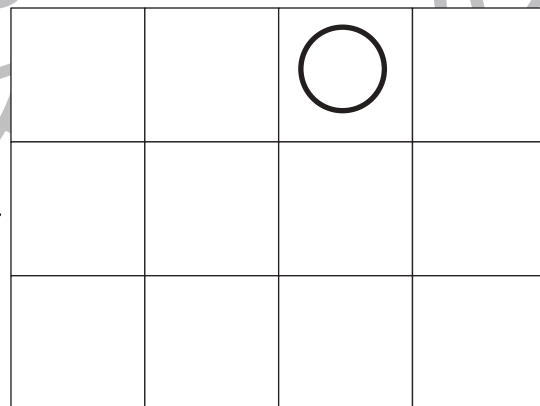

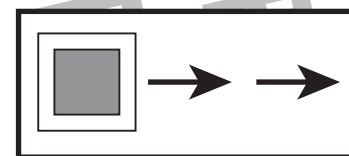
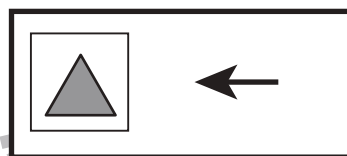
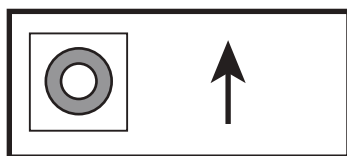
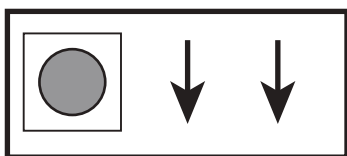


おうちで、やろう。

Study at home. 小学校受験の家庭学習教材

推理：ブラックボックス 21

上の太い四角の中にはマークと矢印がかいてあり、その箱を通ると矢印の向きにその数だけ進む約束です。
左の四角がマークを通った後の星の場所を考えて右に四角に○をかきます。



※1. このプリントは、しながわ・目黒こどもスクールのウェブサイトでダウンロードができます。無断複写・引用はご遠慮ください。
※2. このプリントを活用したオンライン授業のスケジュールは、しながわ・目黒こどもスクールのウェブサイトでご確認ください。



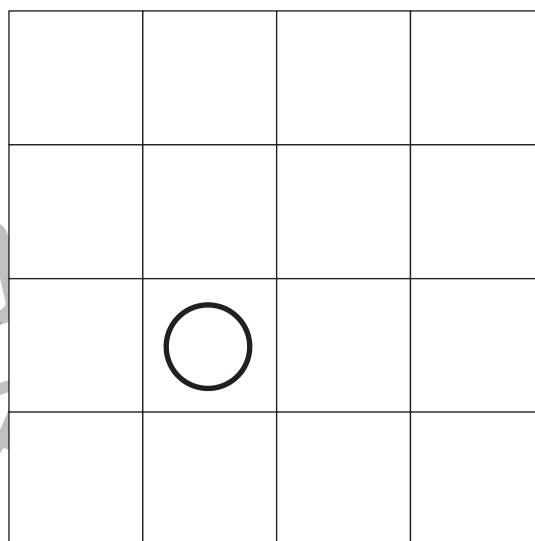



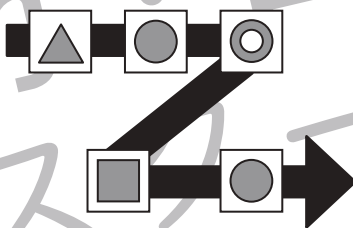

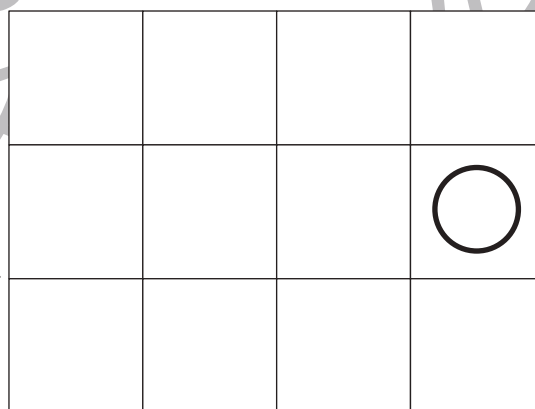
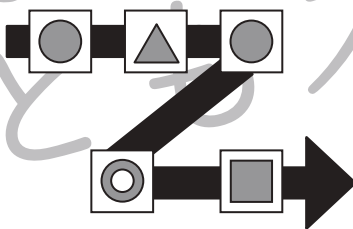



おうちで、やろう。

Study at home. 小学校受験の家庭学習教材

推理：ブラックボックス 22

上の太い四角の中にはマークと矢印がかいてあり、その箱を通ると矢印の向きにその数だけ進む約束です。
左の四角がマークを通った後の星の場所を考えて右に四角に○をかきます。



※1. このプリントは、しながわ・目黒こどもスクールのウェブサイトでダウンロードができます。無断複写・引用はご遠慮ください。
 ※2. このプリントを活用したオンライン授業のスケジュールは、しながわ・目黒こどもスクールのウェブサイトでご確認ください。