



# おうちで、やろう。

Study at home. 小学校受験の家庭学習教材

## 図形：切り抜き 12

左の形は丸い折り紙を2回折ったものです。

この折り紙の黒い部分を切り抜いて広げたときの見え方を右の四角の中から選んで○をつけます。

--	--	--	--

--	--	--	--

--	--	--	--

--	--	--	--

--	--	--	--

※1. このプリントは、しながわ・目黒こどもスクールのウェブサイトでダウンロードができます。無断複写・引用はご遠慮ください。

※2. このプリントを活用したオンライン授業のスケジュールは、しながわ・目黒こどもスクールのウェブサイトでご確認ください。



# おうちで、やろう。

Study at home. 小学校受験の家庭学習教材

## 推理：あみだくじ⑨

あみだくじに一本だけ横の線を足して、飴をかぼちゃのバケツに入れましょう。

あみだくじは途中で横線のところへ来たら必ず曲がり、次の縦線にぶつかったらまた下へ進む約束です。

※1. このプリントは、しながわ・目黒こどもスクールのウェブサイトからダウンロードできます。無断複写・引用はご遠慮ください。

※2. このプリントを活用したオンライン授業のスケジュールは、しながわ・目黒こどもスクールのウェブサイトでご確認ください。



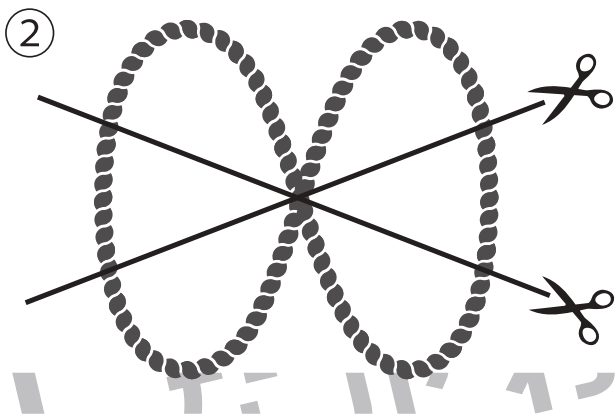



# おうちで、やろう。

Study at home. 小学校受験の家庭学習教材

## 推理：紐の数5

1本のロープを線の場所で切った時、何本に分けることができますか。その数だけ四角の中に○をかきます。



※1. このプリントは、しながわ・目黒こどもスクールのウェブサイトでダウンロードができます。無断複写・引用はご遠慮ください。  
 ※2. このプリントを活用したオンライン授業のスケジュールは、しながわ・目黒こどもスクールのウェブサイトでご確認ください。



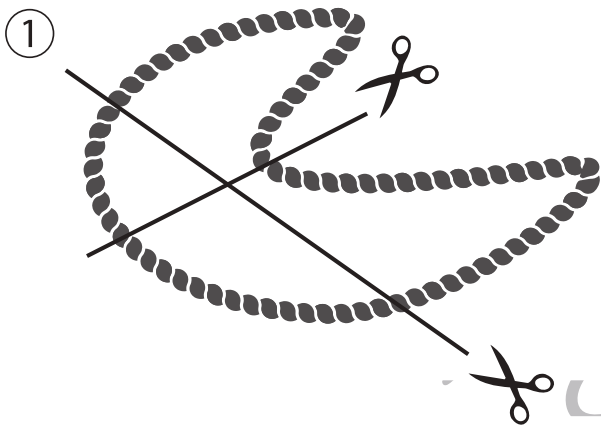


# おうちで、やろう。

Study at home. 小学校受験の家庭学習教材

## 推理：紐の数6

1本のロープを線の場所で切った時、何本に分けることができますか。その数だけ四角の中に○をかきます。



※1. このプリントは、しながわ・目黒こどもスクールのウェブサイトでダウンロードができます。無断複写・引用はご遠慮ください。  
 ※2. このプリントを活用したオンライン授業のスケジュールは、しながわ・目黒こどもスクールのウェブサイトでご確認ください。



# おうちで、やろう。

Study at home. 小学校受験の家庭学習教材

数量：セットの数5

左の四角の中から右の太い四角のセットはいくつできますか。その数だけ右のマスの○をかきます。

		<table border="1"> <tr> <td colspan="5" data-bbox="1018 326 1544 443"> </td> </tr> <tr> <td data-bbox="1018 443 1120 737"> </td> <td data-bbox="1120 443 1222 737"> </td> <td data-bbox="1222 443 1325 737"> </td> <td data-bbox="1325 443 1427 737"> </td> <td data-bbox="1427 443 1544 737"> </td> </tr> <tr> <td colspan="5" data-bbox="1018 737 1544 741">-----</td> </tr> <tr> <td colspan="5" data-bbox="1018 741 1544 746">-----</td> </tr> </table>											-----					-----				
-----																						
-----																						

		<table border="1"> <tr> <td colspan="5" data-bbox="1018 785 1544 902"> </td> </tr> <tr> <td data-bbox="1018 902 1120 1196"> </td> <td data-bbox="1120 902 1222 1196"> </td> <td data-bbox="1222 902 1325 1196"> </td> <td data-bbox="1325 902 1427 1196"> </td> <td data-bbox="1427 902 1544 1196"> </td> </tr> <tr> <td colspan="5" data-bbox="1018 1196 1544 1200">-----</td> </tr> <tr> <td colspan="5" data-bbox="1018 1200 1544 1205">-----</td> </tr> </table>											-----					-----				
-----																						
-----																						

		<table border="1"> <tr> <td colspan="5" data-bbox="1018 1246 1544 1363"> </td> </tr> <tr> <td data-bbox="1018 1363 1120 1657"> </td> <td data-bbox="1120 1363 1222 1657"> </td> <td data-bbox="1222 1363 1325 1657"> </td> <td data-bbox="1325 1363 1427 1657"> </td> <td data-bbox="1427 1363 1544 1657"> </td> </tr> <tr> <td colspan="5" data-bbox="1018 1657 1544 1662">-----</td> </tr> <tr> <td colspan="5" data-bbox="1018 1662 1544 1666">-----</td> </tr> </table>											-----					-----				
-----																						
-----																						

		<table border="1"> <tr> <td colspan="5" data-bbox="1018 1705 1544 1823"> </td> </tr> <tr> <td data-bbox="1018 1823 1120 2116"> </td> <td data-bbox="1120 1823 1222 2116"> </td> <td data-bbox="1222 1823 1325 2116"> </td> <td data-bbox="1325 1823 1427 2116"> </td> <td data-bbox="1427 1823 1544 2116"> </td> </tr> <tr> <td colspan="5" data-bbox="1018 2116 1544 2121">-----</td> </tr> <tr> <td colspan="5" data-bbox="1018 2121 1544 2126">-----</td> </tr> </table>											-----					-----				
-----																						
-----																						

※1. このプリントは、しながわ・目黒こどもスクールのウェブサイトからダウンロードできます。無断複写・引用はご遠慮ください。

※2. このプリントを活用したオンライン授業のスケジュールは、しながわ・目黒こどもスクールのウェブサイトでご確認ください。



# おうちで、やろう。

Study at home. 小学校受験の家庭学習教材

数量：セットの数6

左の四角の中から右の太い四角のセットはいくつできますか。その数だけ右のマスの○をかきます。

		<table border="1"> <tr> <td colspan="4" data-bbox="1016 326 1546 440"> </td> </tr> <tr> <td data-bbox="1016 440 1117 741"> </td> <td data-bbox="1117 440 1218 741"> </td> <td data-bbox="1218 440 1318 741"> </td> <td data-bbox="1318 440 1546 741"> </td> </tr> <tr> <td colspan="4" style="text-align: center;">-----</td> </tr> <tr> <td colspan="4" style="text-align: center;">-----</td> </tr> <tr> <td colspan="4" style="text-align: center;">-----</td> </tr> </table>									-----				-----				-----			
-----																						
-----																						
-----																						

		<table border="1"> <tr> <td colspan="4" data-bbox="1016 785 1546 900"> </td> </tr> <tr> <td data-bbox="1016 900 1117 1200"> </td> <td data-bbox="1117 900 1218 1200"> </td> <td data-bbox="1218 900 1318 1200"> </td> <td data-bbox="1318 900 1546 1200"> </td> </tr> <tr> <td colspan="4" style="text-align: center;">-----</td> </tr> <tr> <td colspan="4" style="text-align: center;">-----</td> </tr> <tr> <td colspan="4" style="text-align: center;">-----</td> </tr> </table>									-----				-----				-----			
-----																						
-----																						
-----																						

		<table border="1"> <tr> <td colspan="4" data-bbox="1016 1246 1546 1361"> </td> </tr> <tr> <td data-bbox="1016 1361 1117 1662"> </td> <td data-bbox="1117 1361 1218 1662"> </td> <td data-bbox="1218 1361 1318 1662"> </td> <td data-bbox="1318 1361 1546 1662"> </td> </tr> <tr> <td colspan="4" style="text-align: center;">-----</td> </tr> <tr> <td colspan="4" style="text-align: center;">-----</td> </tr> <tr> <td colspan="4" style="text-align: center;">-----</td> </tr> </table>									-----				-----				-----			
-----																						
-----																						
-----																						

		<table border="1"> <tr> <td colspan="4" data-bbox="1016 1708 1546 1823"> </td> </tr> <tr> <td data-bbox="1016 1823 1117 2123"> </td> <td data-bbox="1117 1823 1218 2123"> </td> <td data-bbox="1218 1823 1318 2123"> </td> <td data-bbox="1318 1823 1546 2123"> </td> </tr> <tr> <td colspan="4" style="text-align: center;">-----</td> </tr> <tr> <td colspan="4" style="text-align: center;">-----</td> </tr> <tr> <td colspan="4" style="text-align: center;">-----</td> </tr> </table>									-----				-----				-----			
-----																						
-----																						
-----																						

※1. このプリントは、しながわ・目黒こどもスクールのウェブサイトでダウンロードができます。無断複写・引用はご遠慮ください。

※2. このプリントを活用したオンライン授業のスケジュールは、しながわ・目黒こどもスクールのウェブサイトでご確認ください。





# おうちで、やろう。

Study at home. 小学校受験の家庭学習教材

数量：広さ 25

8つの四角の中で黒い部分が一番広いものを見つけて○をつけます。



※1. このプリントは、しながわ・目黒こどもスクールのウェブサイトからダウンロードできます。無断複写・引用はご遠慮ください。  
 ※2. このプリントを活用したオンライン授業のスケジュールは、しながわ・目黒こどもスクールのウェブサイトでご確認ください。

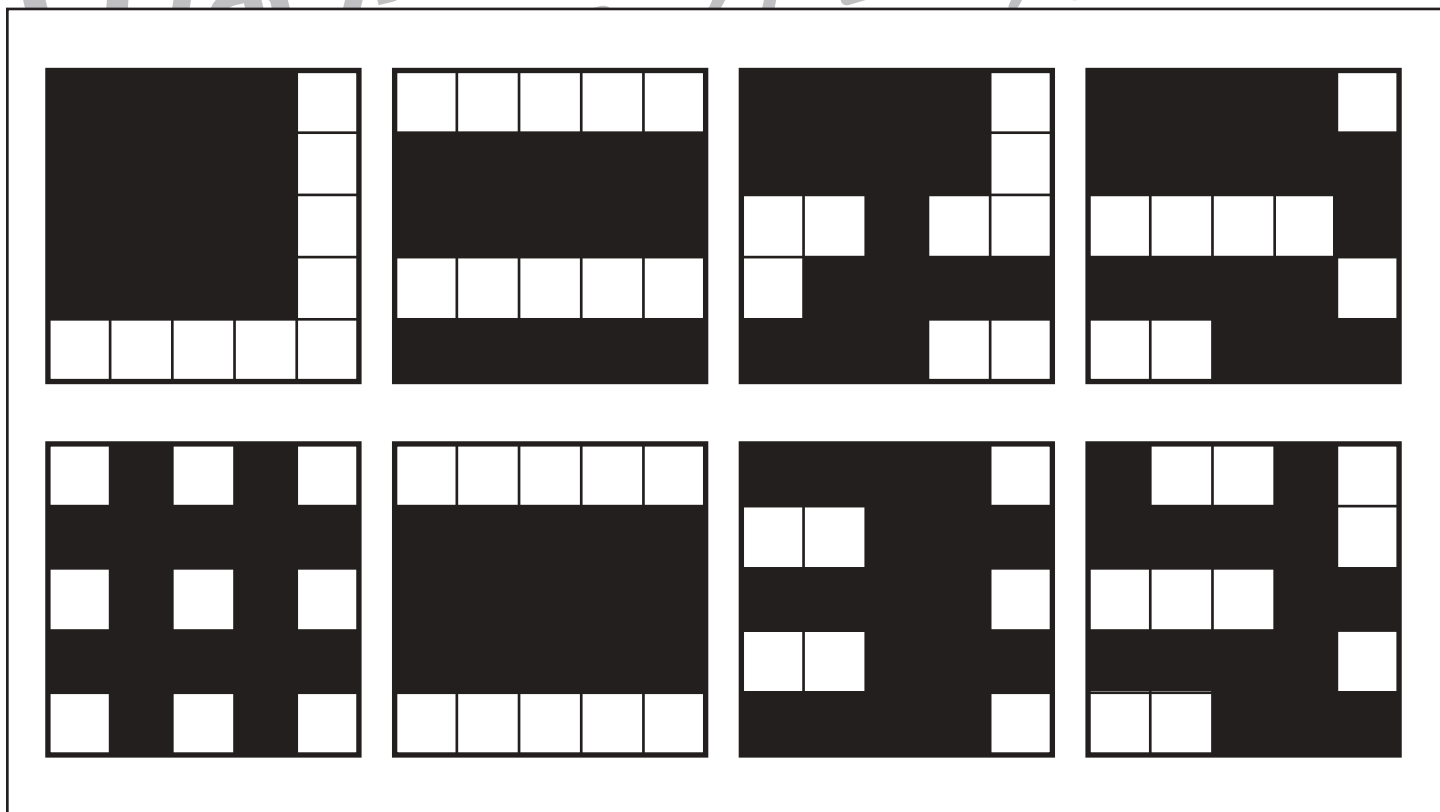



# おうちで、やろう。

Study at home. 小学校受験の家庭学習教材

数量：広さ 26

8つの四角の中で黒い部分が一番広いものを見つけて○をつけます。



※1. このプリントは、しながわ・目黒こどもスクールのウェブサイトでダウンロードができます。無断複写・引用はご遠慮ください。  
 ※2. このプリントを活用したオンライン授業のスケジュールは、しながわ・目黒こどもスクールのウェブサイトでご確認ください。







# おうちで、やろう。

Study at home. 小学校受験の家庭学習教材

数量：計数 29

橋を渡っている人たちの中で、橋の下の矢印の向きに進んでいる人の数だけ○、矢印と反対の向きに進んでいる人の数だけ×をかきます。

○		×	
---	--	---	--

○		×	
---	--	---	--

○		×	
---	--	---	--

※1. このプリントは、しながわ・目黒こどもスクールのウェブサイトでダウンロードができます。無断複写・引用はご遠慮ください。  
 ※2. このプリントを活用したオンライン授業のスケジュールは、しながわ・目黒こどもスクールのウェブサイトでご確認ください。