

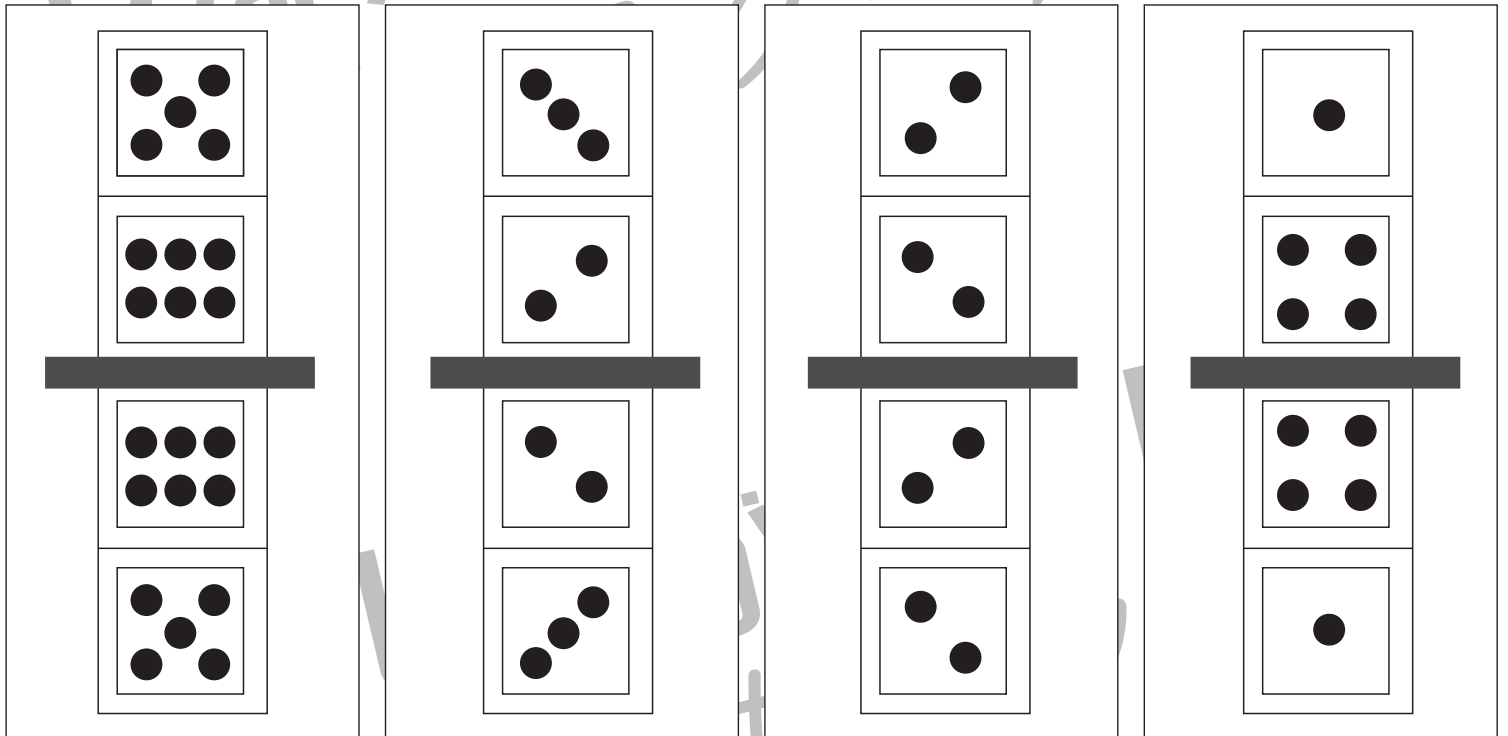
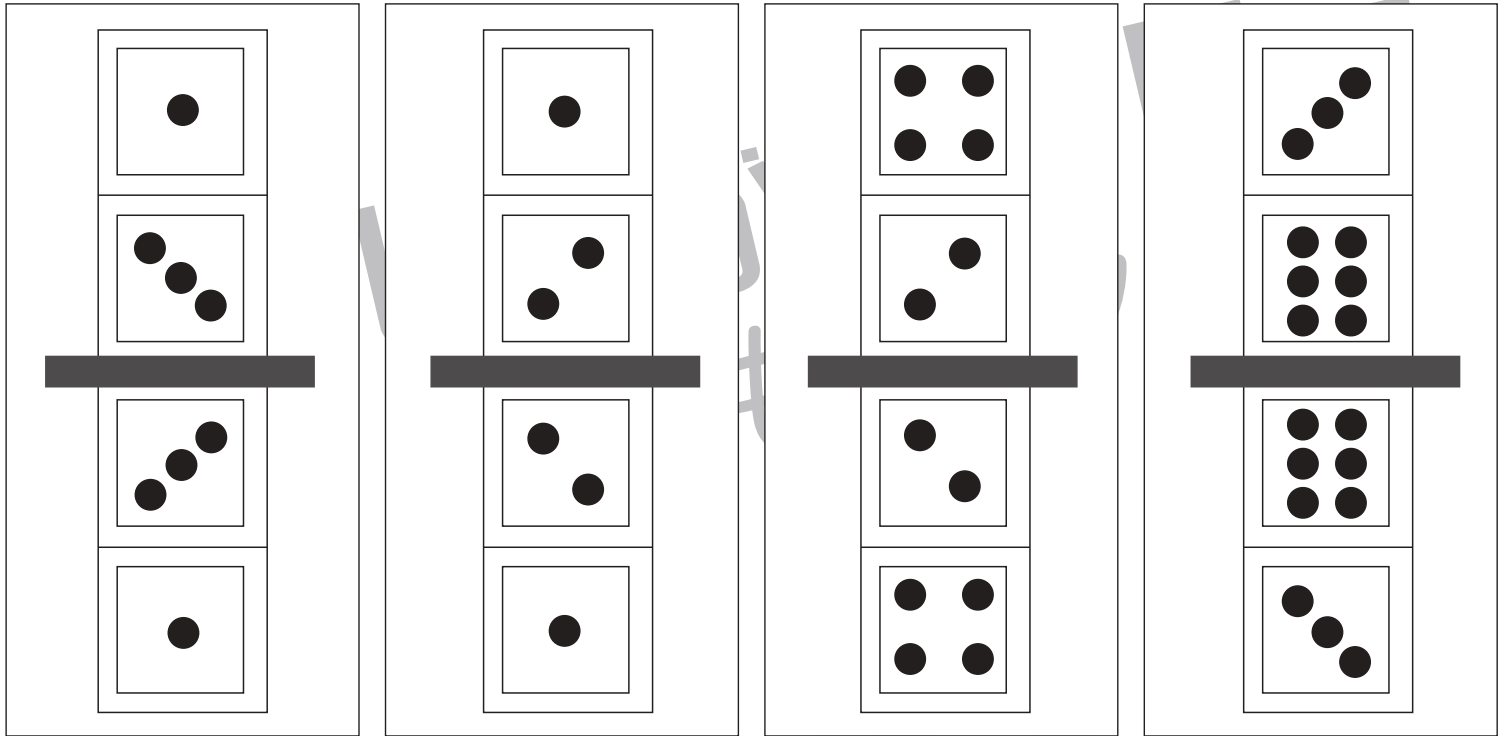


おうちで、やろう。

Study at home. 小学校受験の家庭学習教材

図形：鏡 34

上の四角の中にはサイコロの目が描いてあります。紙の真ん中の灰色の部分に鏡を立てて鏡を見たときの見え方を考えます。鏡を見たときにサイコロがどのような模様になっているか考えて下にかきます。



※1. このプリントは、しながわ・目黒こどもスクールのウェブサイトでダウンロードができます。無断複写・引用はご遠慮ください。
 ※2. このプリントを活用したオンライン授業のスケジュールは、しながわ・目黒こどもスクールのウェブサイトでご確認ください。

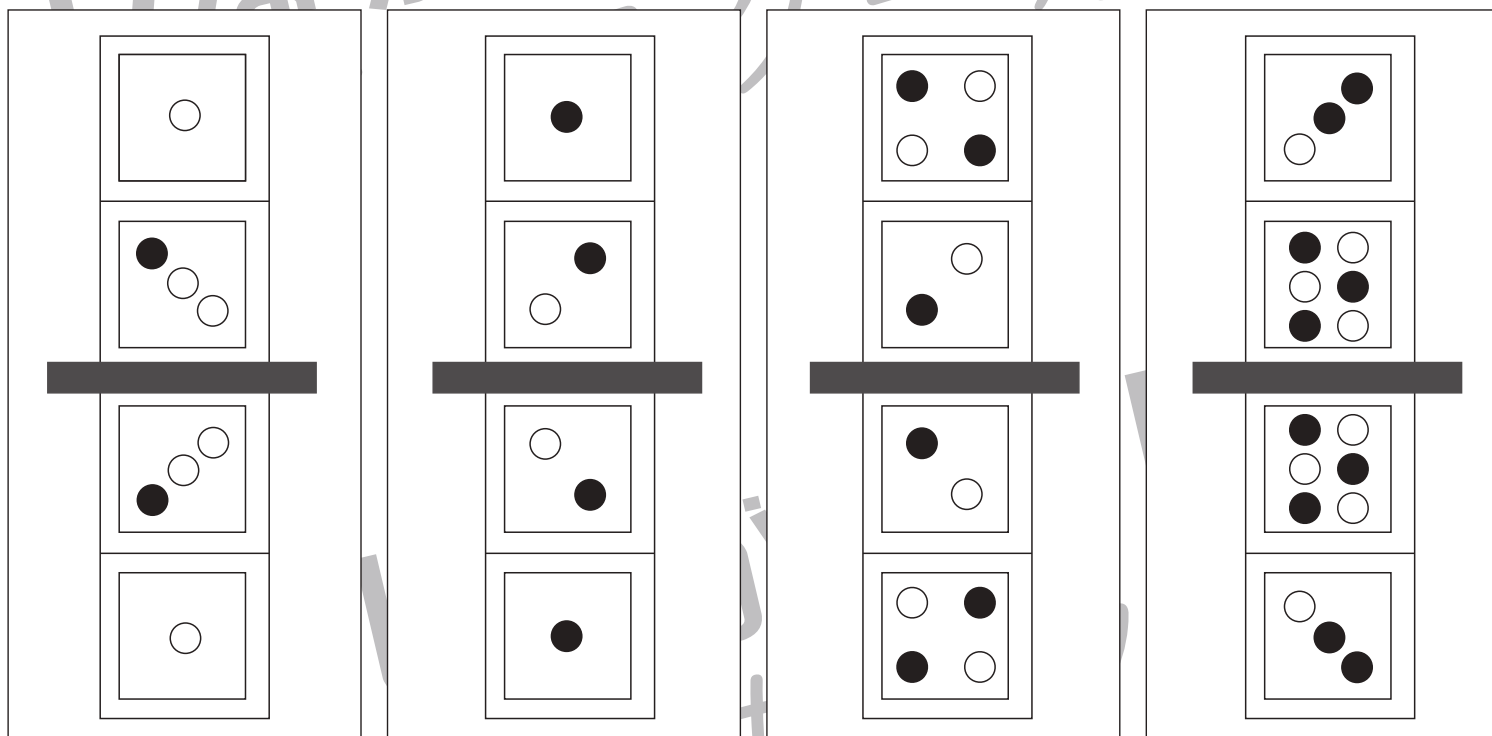
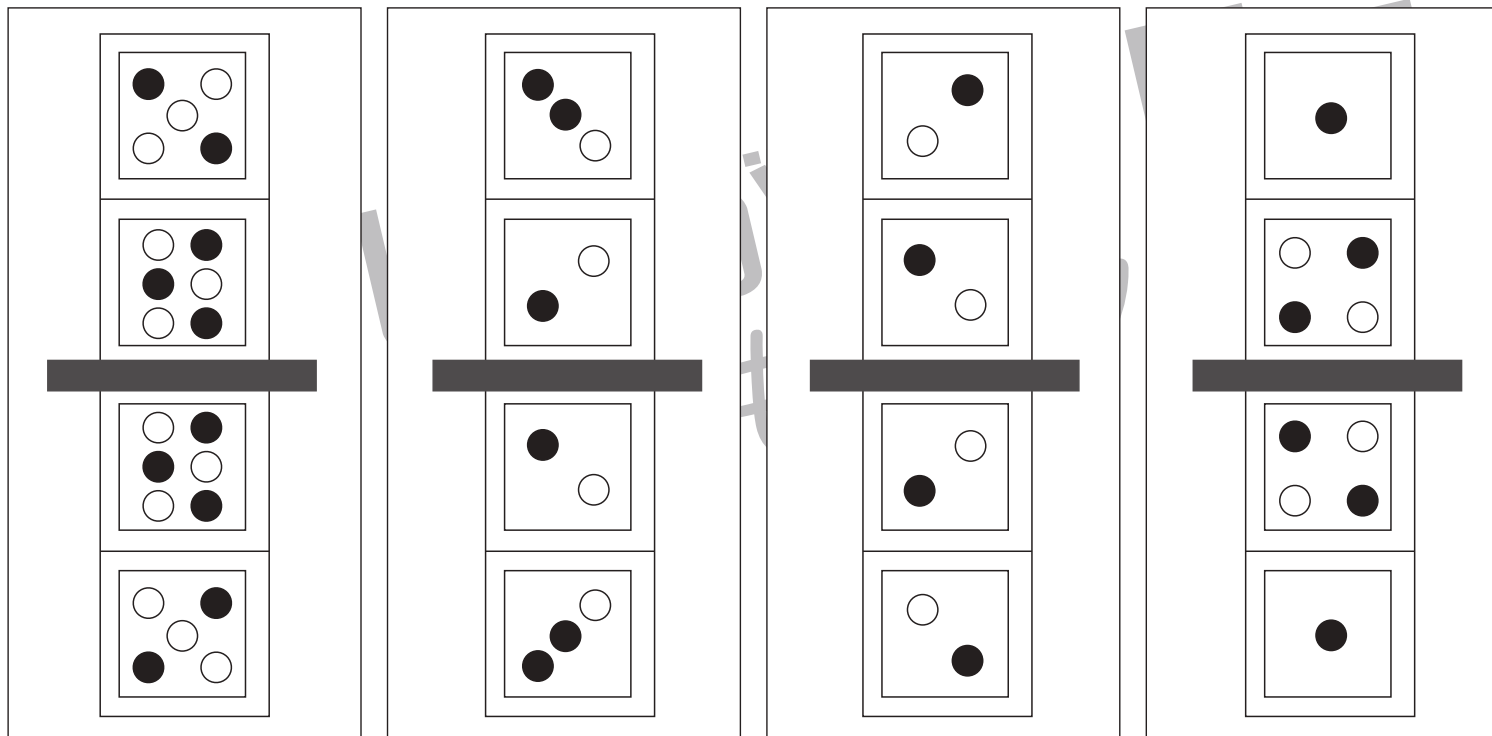


おうちで、やろう。

Study at home. 小学校受験の家庭学習教材

図形：鏡 35

上の四角の中にはサイコロの目が描いてあります。紙の真ん中の灰色の部分に鏡を立てて鏡を見た時と時の見え方を考えます。鏡を見たときにサイコロがどのような模様になっているか考えて下にかきます。



※1. このプリントは、しながわ・目黒こどもスクールのウェブサイトでダウンロードができます。無断複写・引用はご遠慮ください。
 ※2. このプリントを活用したオンライン授業のスケジュールは、しながわ・目黒こどもスクールのウェブサイトでご確認ください。

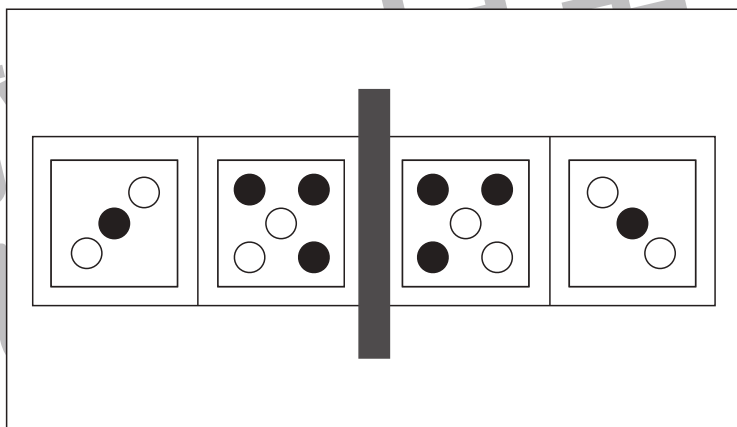
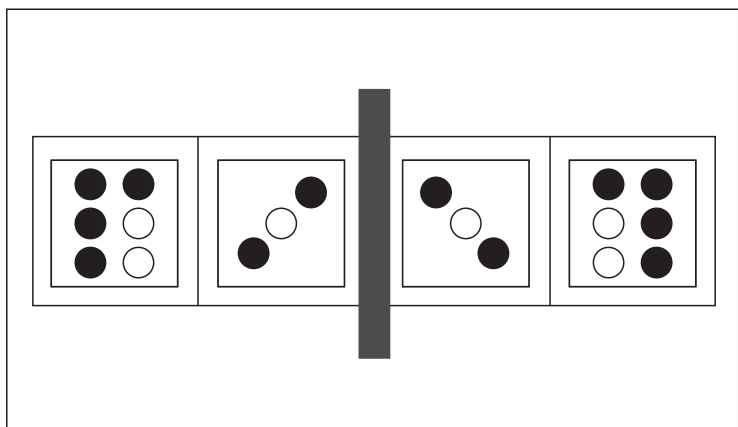
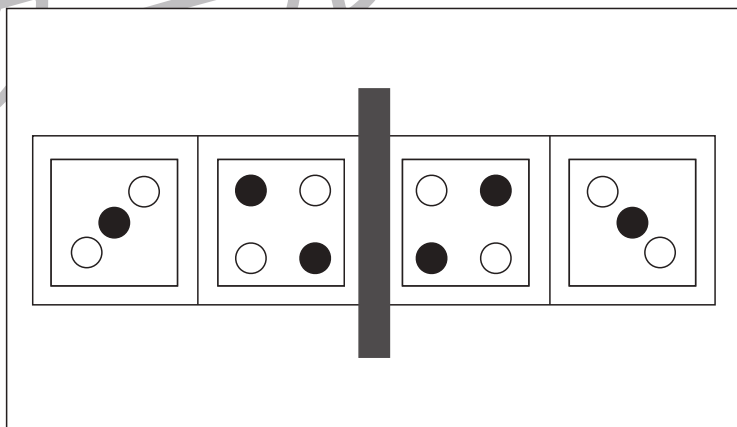
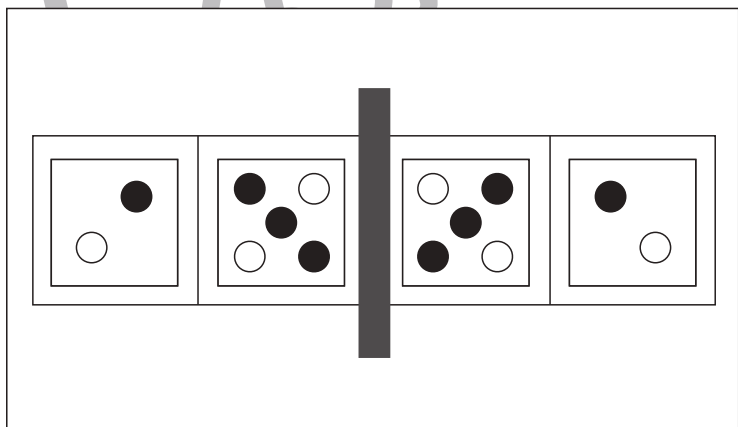
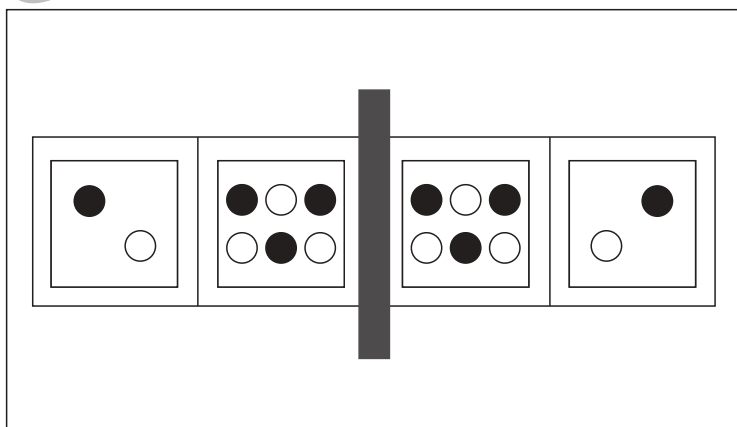
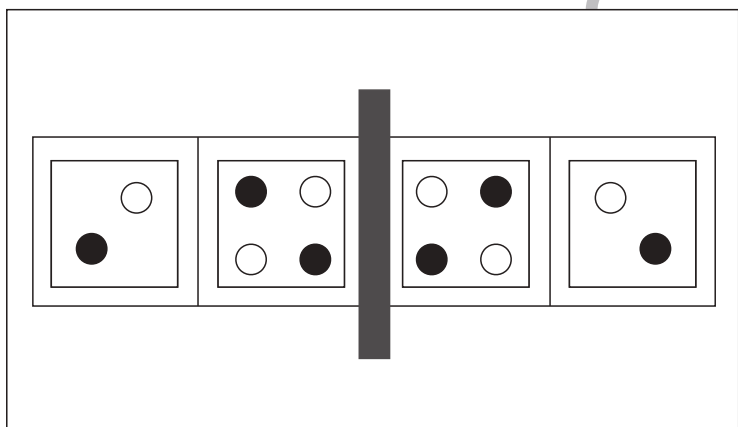
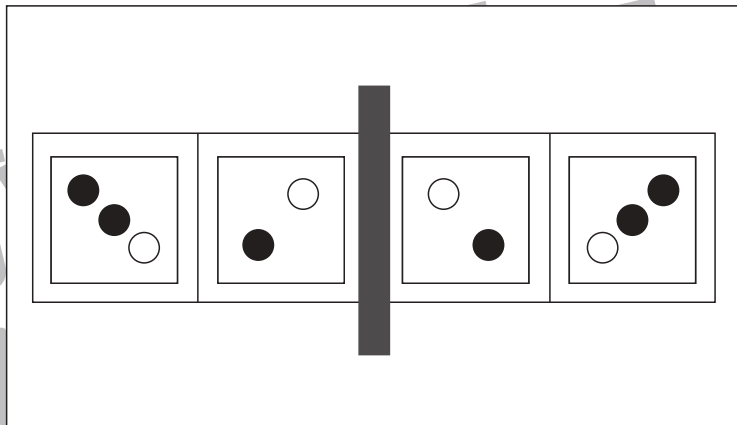
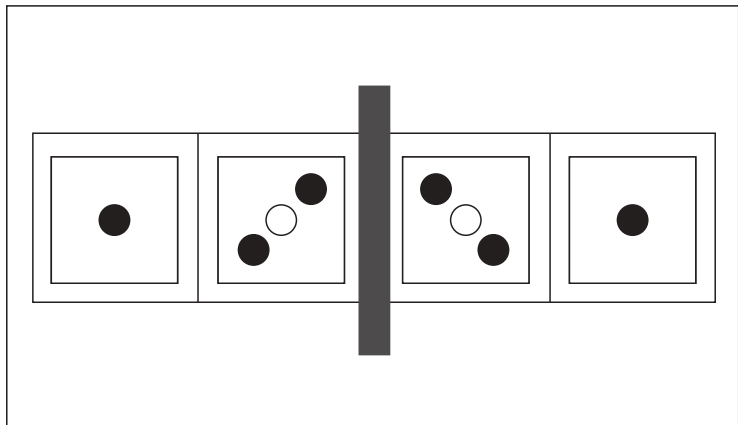


おうちで、やろう。

Study at home. 小学校受験の家庭学習教材

図形：鏡 36

左の四角の中にはサイコロの目が描いてあります。紙の真ん中の灰色の部分に鏡を立てて鏡を見た時と時の見え方を考えます。鏡を見たときにサイコロがどのような模様になっているか考えて右側にかきます。



※1. このプリントは、しながわ・目黒こどもスクールのウェブサイトでダウンロードができます。無断複写・引用はご遠慮ください。
※2. このプリントを活用したオンライン授業のスケジュールは、しながわ・目黒こどもスクールのウェブサイトでご確認ください。

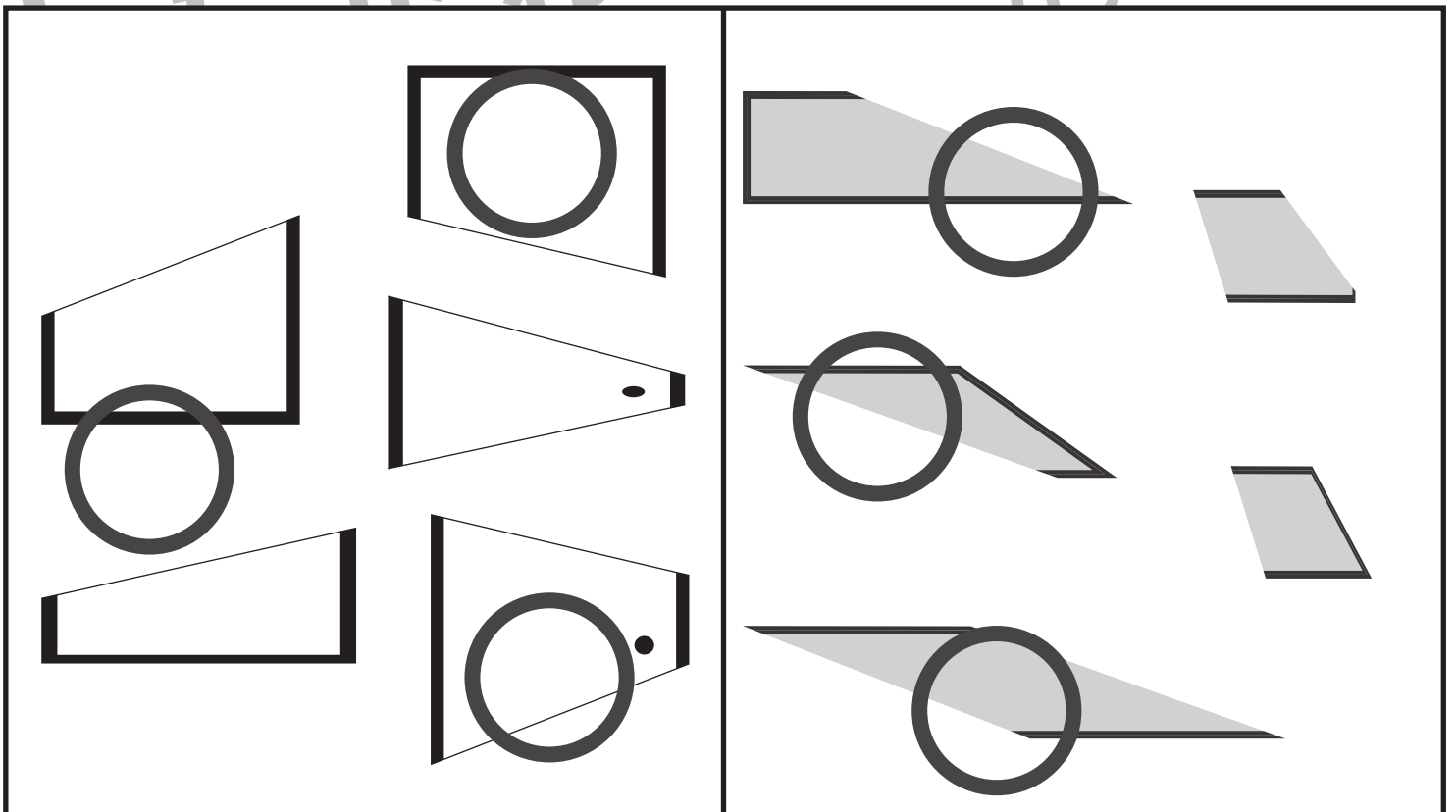
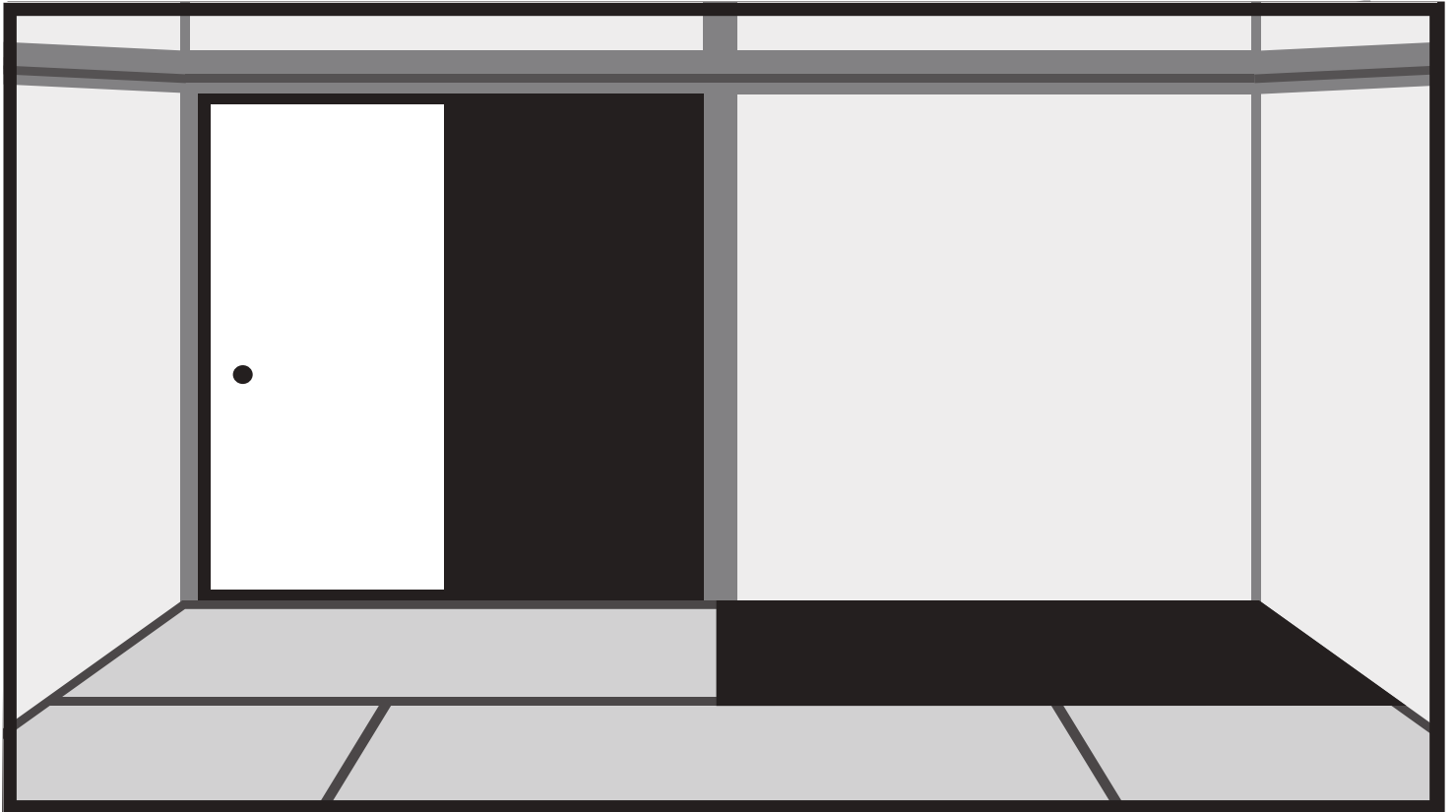


おうちで、やろう。

Study at home. 小学校受験の家庭学習教材

図形：構成 45

この部屋の扉（ふすま）と床（たたみ）がいつのまにかどこかへ行ってしまいました。
下の図の中から三枚選んで、扉と床をなおします。選んだ三枚に○をつけます。



※1. このプリントは、しながわ・目黒こどもスクールのウェブサイトでダウンロードができます。無断複写・引用はご遠慮ください。
※2. このプリントを活用したオンライン授業のスケジュールは、しながわ・目黒こどもスクールのウェブサイトでご確認ください。




おうちで、やろう。

Study at home. 小学校受験の家庭学習教材

推理：左右8

右手をあげているに○を、左手をあげている人に×をつけます。
両手をあげている人には何もつけません。



※1. このプリントは、しながわ・目黒こどもスクールのウェブサイトでダウンロードができます。無断複写・引用はご遠慮ください。
 ※2. このプリントを活用したオンライン授業のスケジュールは、しながわ・目黒こどもスクールのウェブサイトでご確認ください。



おうちで、やろう。

Study at home. 小学校受験の家庭学習教材

推理：左右9

右足をあげている人に○を、左足をあげている人に×をつけます。



※1. このプリントは、しながわ・目黒こどもスクールのウェブサイトでダウンロードができます。無断複写・引用はご遠慮ください。
※2. このプリントを活用したオンライン授業のスケジュールは、しながわ・目黒こどもスクールのウェブサイトでご確認ください。



おうちで、やろう。

Study at home. 小学校受験の家庭学習教材

数量：同数 26

りんご、積み木、折り紙の3つを、それぞれ同じ数同士で線を結びます。

10 apples	10 blocks	10 squares
10 apples	8 blocks	8 squares
8 apples	8 blocks	8 squares
5 apples	5 blocks	5 squares
5 apples	5 blocks	5 squares

※1. このプリントは、しながわ・目黒こどもスクールのウェブサイトでダウンロードができます。無断複写・引用はご遠慮ください。
 ※2. このプリントを活用したオンライン授業のスケジュールは、しながわ・目黒こどもスクールのウェブサイトでご確認ください。



おうちで、やろう。

Study at home. 小学校受験の家庭学習教材

数量：同数 27

りんご、積み木、折り紙の3つを、それぞれ同じ数同士で線を結びます。

The matching exercise consists of three columns of boxes, each containing a different quantity of items. Lines connect boxes with the same quantity across the columns.

- Column 1 (Apples):**
 - Box 1: 15 apples (3 rows of 5)
 - Box 2: 18 apples (3 rows of 6)
 - Box 3: 20 apples (3 rows of 7)
 - Box 4: 22 apples (3 rows of 8)
 - Box 5: 24 apples (3 rows of 8)
- Column 2 (Blocks):**
 - Box 1: 15 blocks (3 columns of 5)
 - Box 2: 18 blocks (3 columns of 6)
 - Box 3: 20 blocks (3 columns of 7)
 - Box 4: 22 blocks (3 columns of 8)
 - Box 5: 24 blocks (3 columns of 8)
- Column 3 (Paper Squares):**
 - Box 1: 15 squares (3 rows of 5)
 - Box 2: 18 squares (3 rows of 6)
 - Box 3: 20 squares (3 rows of 7)
 - Box 4: 22 squares (3 rows of 8)
 - Box 5: 24 squares (3 rows of 8)

Connections shown in the image:

- Box 1 (15 apples) connects to Box 1 (15 blocks) and Box 1 (15 squares).
- Box 2 (18 apples) connects to Box 2 (18 blocks) and Box 2 (18 squares).
- Box 3 (20 apples) connects to Box 3 (20 blocks) and Box 3 (20 squares).
- Box 4 (22 apples) connects to Box 4 (22 blocks) and Box 4 (22 squares).
- Box 5 (24 apples) connects to Box 5 (24 blocks) and Box 5 (24 squares).

※1. このプリントは、しながわ・目黒こどもスクールのウェブサイトからダウンロードできます。無断複写・引用はご遠慮ください。
 ※2. このプリントを活用したオンライン授業のスケジュールは、しながわ・目黒こどもスクールのウェブサイトでご確認ください。