



おうちで、やろう。

Study at home. 小学校受験の家庭学習教材

図形：重ね回転 1

左の2枚の四角は透明な板です。一番左の太い四角の板を右へ1回倒してとなりの点線の四角に重ねたときの見え方を考えて一番右の四角に○をかきます。

※1. このプリントは、しながわ・目黒こどもスクールのウェブサイトでダウンロードができます。無断複写・引用はご遠慮ください。
※2. このプリントを活用したオンライン授業のスケジュールは、しながわ・目黒こどもスクールのウェブサイトでご確認ください。



おうちで、やろう。

Study at home. 小学校受験の家庭学習教材

図形：重ね回転2

左の2枚の四角は透明な板です。一番左の太い四角の板を右へ1回倒してとなりの点線の四角に重ねたときの見え方を考えて一番右の四角に○をかきます。

※1. このプリントは、しながわ・目黒こどもスクールのウェブサイトでダウンロードができます。無断複写・引用はご遠慮ください。

※2. このプリントを活用したオンライン授業のスケジュールは、しながわ・目黒こどもスクールのウェブサイトでご確認ください。



おうちで、やろう。

Study at home. 小学校受験の家庭学習教材

図形：重ね回転3

左の2枚の四角は透明な板です。一番左の太い四角の板を右へ1回倒してとなりの点線の四角に重ねたときの見え方を考えて一番右の四角に○をかきます。

※1. このプリントは、しながわ・目黒こどもスクールのウェブサイトでダウンロードができます。無断複写・引用はご遠慮ください。

※2. このプリントを活用したオンライン授業のスケジュールは、しながわ・目黒こどもスクールのウェブサイトでご確認ください。



おうちで、やろう。

Study at home. 小学校受験の家庭学習教材

推理：四方観察 22

四角の中の積み木は白い積み木と黒い積み木で作った形です。隠れて見えない積み木はすべて黒い積み木です。この時、女の子が見ている黒い積み木はいくつですか。その数だけ下の四角に○をかきます。

※1. このプリントは、しながわ・目黒こどもスクールのウェブサイトでダウンロードができます。無断複写・引用はご遠慮ください。
 ※2. このプリントを活用したオンライン授業のスケジュールは、しながわ・目黒こどもスクールのウェブサイトでご確認ください。



おうちで、やろう。

Study at home. 小学校受験の家庭学習教材

推理：四方観察 23

四角の中の積み木は白い積み木と黒い積み木で作った形です。隠れて見えない積み木はすべて黒い積み木です。この時、女の子が見ている黒い積み木はいくつですか。その数だけ下の四角に○をかきます。

※1. このプリントは、しながわ・目黒こどもスクールのウェブサイトでダウンロードができます。無断複写・引用はご遠慮ください。
 ※2. このプリントを活用したオンライン授業のスケジュールは、しながわ・目黒こどもスクールのウェブサイトでご確認ください。



おうちで、やろう。

Study at home. 小学校受験の家庭学習教材

推理：四方観察 24

四角の中の積み木は白い積み木と黒い積み木で作った形です。隠れて見えない積み木はすべて黒い積み木です。この時、女の子が見ている黒い積み木はいくつですか。その数だけ下の四角に○をかきます。

※1. このプリントは、しながわ・目黒こどもスクールのウェブサイトでダウンロードができます。無断複写・引用はご遠慮ください。
 ※2. このプリントを活用したオンライン授業のスケジュールは、しながわ・目黒こどもスクールのウェブサイトでご確認ください。



おうちで、やろう。

Study at home. 小学校受験の家庭学習教材

数量：サイコロ 22

上のサイコロの目と下のサイコロの目を合わせて8にします。下のサイコロの目がいくつになれば8になるのか考えて○をつけます。下のサイコロは1つでできない場合はサイコロ2つ使います。

Top die: 4

Bottom dice options:

- 1 and 2
- 2 and 3
- 3 and 4
- 4 and 5
- 5 and 6

Top die: 6

Bottom dice options:

- 1 and 2
- 2 and 3
- 3 and 4
- 4 and 5
- 5 and 6

Top die: 5

Bottom dice options:

- 1 and 2
- 2 and 3
- 3 and 4
- 4 and 5
- 5 and 6

Top die: 2

Bottom dice options:

- 1 and 2
- 2 and 3
- 3 and 4
- 4 and 5
- 5 and 6

Top die: 3

Bottom dice options:

- 1 and 2
- 2 and 3
- 3 and 4
- 4 and 5
- 5 and 6

Top die: 1

Bottom dice options:

- 1 and 2
- 2 and 3
- 3 and 4
- 4 and 5
- 5 and 6

※1. このプリントは、しながわ・目黒こどもスクールのウェブサイトでダウンロードができます。無断複写・引用はご遠慮ください。
 ※2. このプリントを活用したオンライン授業のスケジュールは、しながわ・目黒こどもスクールのウェブサイトでご確認ください。



おうちで、やろう。

Study at home. 小学校受験の家庭学習教材

数量：サイコロ 23

上のサイコロの目と下のサイコロの目を合わせて9にします。下のサイコロの目がいくつになれば9になるのか考えて○をつけます。下のサイコロは1つでできない場合はサイコロ2つ使います。

Top die: 6

Bottom dice options:

- 1 and 2
- 2 and 3
- 3 and 4
- 4 and 5
- 5 and 6

Top die: 3

Bottom dice options:

- 1 and 2
- 2 and 3
- 3 and 4
- 4 and 5
- 5 and 6

Top die: 3

Bottom dice options:

- 1 and 2
- 2 and 3
- 3 and 4
- 4 and 5
- 5 and 6

Top die: 5

Bottom dice options:

- 1 and 2
- 2 and 3
- 3 and 4
- 4 and 5
- 5 and 6

Top die: 1

Bottom dice options:

- 1 and 2
- 2 and 3
- 3 and 4
- 4 and 5
- 5 and 6

Top die: 4

Bottom dice options:

- 1 and 2
- 2 and 3
- 3 and 4
- 4 and 5
- 5 and 6

※1. このプリントは、しながわ・目黒こどもスクールのウェブサイトでダウンロードができます。無断複写・引用はご遠慮ください。
 ※2. このプリントを活用したオンライン授業のスケジュールは、しながわ・目黒こどもスクールのウェブサイトでご確認ください。



おうちで、やろう。

Study at home. 小学校受験の家庭学習教材

数量：サイコロ 24

上のサイコロの目と下のサイコロの目を合わせて 12 にします。下のサイコロの目がいくつになれば 12 になるのか考えて○をつけます。下のサイコロは1つでできない場合はサイコロ2つ使います。

Top die: 6

Bottom dice options:

- 1 and 1
- 1 and 2
- 2 and 2
- 2 and 3
- 3 and 3
- 3 and 4
- 4 and 4
- 4 and 5
- 5 and 5
- 5 and 6
- 6 and 6

Top die: 5

Bottom dice options:

- 1 and 1
- 1 and 2
- 2 and 2
- 2 and 3
- 3 and 3
- 3 and 4
- 4 and 4
- 4 and 5
- 5 and 5
- 5 and 6
- 6 and 6

Top die: 3

Bottom dice options:

- 1 and 1
- 1 and 2
- 2 and 2
- 2 and 3
- 3 and 3
- 3 and 4
- 4 and 4
- 4 and 5
- 5 and 5
- 5 and 6
- 6 and 6

Top die: 1

Bottom dice options:

- 1 and 1
- 1 and 2
- 2 and 2
- 2 and 3
- 3 and 3
- 3 and 4
- 4 and 4
- 4 and 5
- 5 and 5
- 5 and 6
- 6 and 6

Top die: 4

Bottom dice options:

- 1 and 1
- 1 and 2
- 2 and 2
- 2 and 3
- 3 and 3
- 3 and 4
- 4 and 4
- 4 and 5
- 5 and 5
- 5 and 6
- 6 and 6

Top die: 2

Bottom dice options:

- 1 and 1
- 1 and 2
- 2 and 2
- 2 and 3
- 3 and 3
- 3 and 4
- 4 and 4
- 4 and 5
- 5 and 5
- 5 and 6
- 6 and 6

※1. このプリントは、しながわ・目黒こどもスクールのウェブサイトでダウンロードができます。無断複写・引用はご遠慮ください。
 ※2. このプリントを活用したオンライン授業のスケジュールは、しながわ・目黒こどもスクールのウェブサイトでご確認ください。


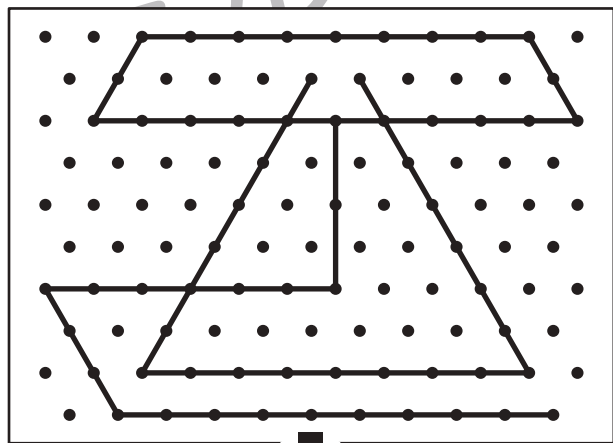

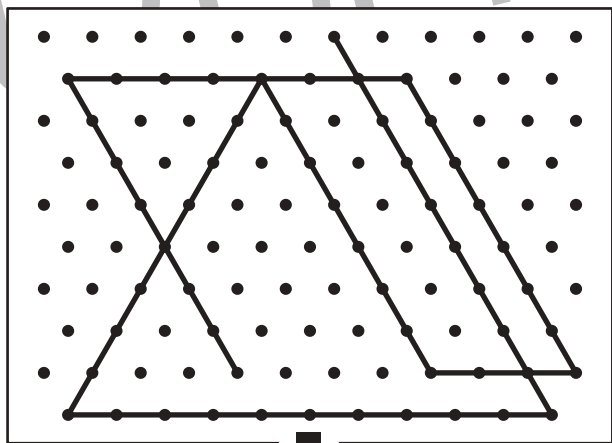

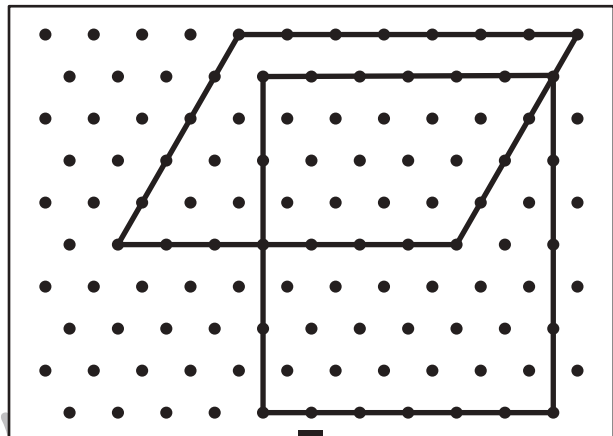

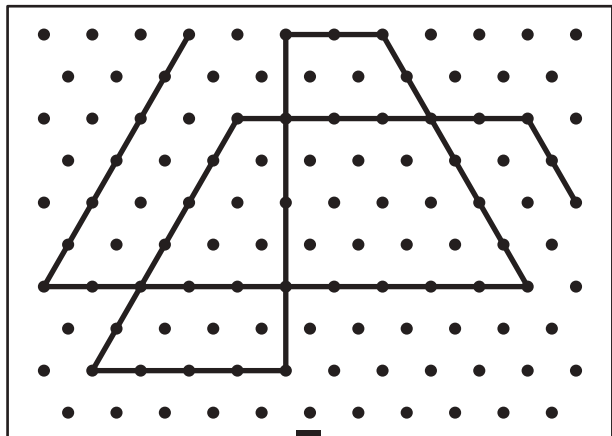


おうちで、よろう。

Study at home. 小学校受験の家庭学習教材

図形：点図形 64

上のお手本と同じになるように下の四角の点と点を結びます。※このプリントに解答はありません。



※1. このプリントは、しながわ・目黒こどもスクールのウェブサイトでダウンロードができます。無断複写・引用はご遠慮ください。

※2. このプリントを活用したオンライン授業のスケジュールは、しながわ・目黒こどもスクールのウェブサイトでご確認ください。

