



おうちで、やろう。

Study at home. 小学校受験の家庭学習教材

指示の聞き取り 25

下の四角の中に点線があります。①～⑤の指示通りにすばやくきれいになぞります。

①一番上の点線を青のクーピー、一番下の点線を緑のクーピーで、真ん中の線を黒のクーピーでなぞります。

②上から2番目と3番目の点線の間鉛筆で丸を5つかきます。

③下から3番目と4番目の点線の間鉛筆で左から××○○とかきます。

④真ん中の点線とその上の点線の間鉛筆で同じ大きさの丸を10個かきます。

目黒

青

○ ○ ○ ○ ○

○ ○ ○ ○ ○ ○ ○ ○ ○ ○ ○ ○

黒

× × ○ ○ ○

緑

※1. このプリントは、しながわ・目黒こどもスクールのウェブサイトでダウンロードができます。無断複写・引用はご遠慮ください。

※2. このプリントを活用したオンライン授業のスケジュールは、しながわ・目黒こどもスクールのウェブサイトでご確認ください。




おうちで、やろう。

Study at home. 小学校受験の家庭学習教材

言語：言葉 13

それぞれの言葉にぴったり合う絵をみつけてそれぞれの記号をつけます。

- ①「カーカー」に合う絵を見つけて○をつけます。
- ②「パウオン」に合う絵を見つけて△をつけます。
- ③「ニャーニャー」に合う絵を見つけて◎をつけます。
- ④「モーモー」に合う絵を見つけて×をつけます。
- ⑤「プープー」に合う絵を見つけて□をつけます。
- ⑥「ガウオー」に合う絵を見つけて/をつけます。



※1. このプリントは、しながわ・目黒こどもスクールのウェブサイトでダウンロードができます。無断複写・引用はご遠慮ください。

※2. このプリントを活用したオンライン授業のスケジュールは、しながわ・目黒こどもスクールのウェブサイトでご確認ください。



おうちで、やろう。

Study at home. 小学校受験の家庭学習教材

図形：回転重ね7

四角はそれぞれ透明な板にかいてあります。矢印の方向に1回倒した後、隣にあるマスにぴったり重ねます。この時、隠れないで見えているものを一番右の四角の中から選んで○をつけます。

※1. このプリントは、しながわ・目黒こどもスクールのウェブサイトでダウンロードができます。無断複写・引用はご遠慮ください。

※2. このプリントを活用したオンライン授業のスケジュールは、しながわ・目黒こどもスクールのウェブサイトでご確認ください。



おうちで、やろう。

Study at home. 小学校受験の家庭学習教材

図形：回転重ね8

四角はそれぞれ透明な板にかいてあります。矢印の方向に1回倒した後、隣にあるマスにぴったり重ねます。この時、隠れないで見えているものを一番右の四角の中から選んで○をつけます。

※1. このプリントは、しながわ・目黒こどもスクールのウェブサイトからダウンロードできます。無断複写・引用はご遠慮ください。
※2. このプリントを活用したオンライン授業のスケジュールは、しながわ・目黒こどもスクールのウェブサイトでご確認ください。












おうちで、やろう。

Study at home. 小学校受験の家庭学習教材

図形：回転重ね9

四角はそれぞれ透明な板にかいてあります。矢印の方向に1回倒した後、隣にあるマスにぴったり重ねます。この時、隠れないで見えているものを一番右の四角の中から選んで○をつけます。



※1. このプリントは、しながわ・目黒こどもスクールのウェブサイトからダウンロードができます。無断複写・引用はご遠慮ください。

※2. このプリントを活用したオンライン授業のスケジュールは、しながわ・目黒こどもスクールのウェブサイトでご確認ください。






おうちで、やろう。

Study at home. 小学校受験の家庭学習教材

推理：シルエット 15

左の絵は動物たちがシルエットになっています。左と右の四角をよく見て、右の四角の中からシルエットになっていない動物を見つけて×をつけます。



※1. このプリントは、しながわ・目黒こどもスクールのウェブサイトでダウンロードができます。無断複写・引用はご遠慮ください。
※2. このプリントを活用したオンライン授業のスケジュールは、しながわ・目黒こどもスクールのウェブサイトでご確認ください。




おうちで、やろう。

Study at home. 小学校受験の家庭学習教材

推理：シルエット 16

左の絵は妖怪たちがシルエットになっています。左と右の四角をよく見て、右の四角の中からシルエットになっていない妖怪を見つけて×をつけます。



※1. このプリントは、しながわ・目黒こどもスクールのウェブサイトでダウンロードができます。無断複写・引用はご遠慮ください。
※2. このプリントを活用したオンライン授業のスケジュールは、しながわ・目黒こどもスクールのウェブサイトでご確認ください。




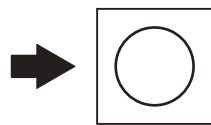
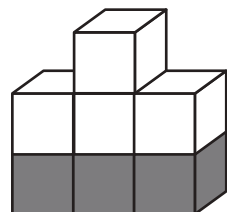
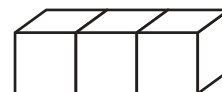
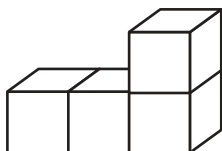
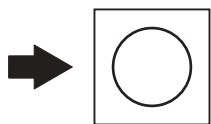
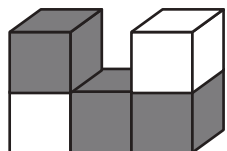
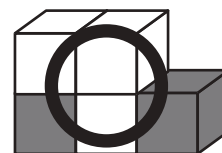
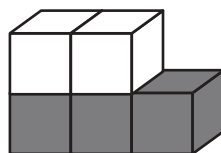
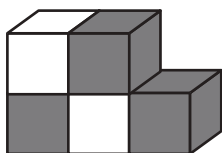
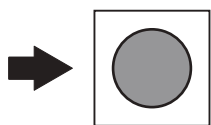
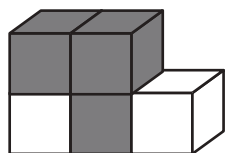
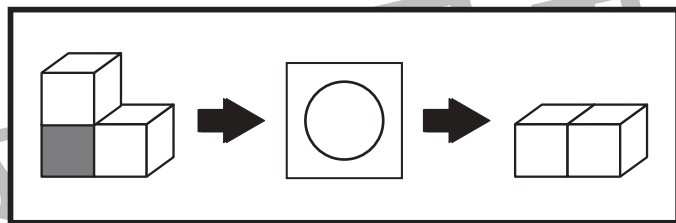
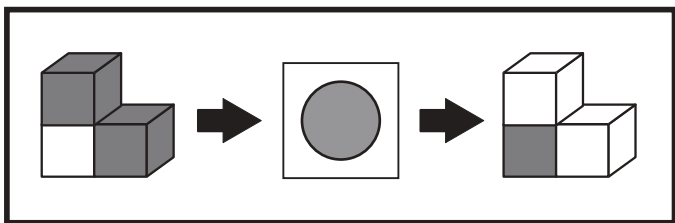


おうちで、やろう。

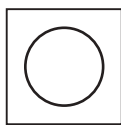
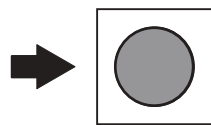
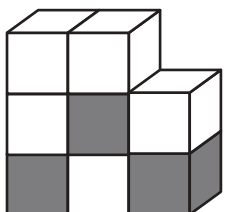
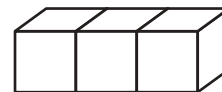
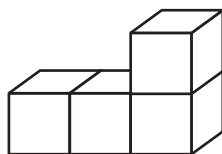
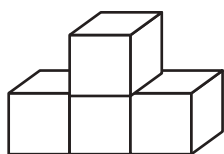
Study at home. 小学校受験の家庭学習教材

推理：ブラックボックス 23

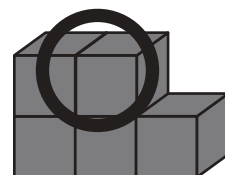
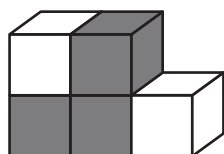
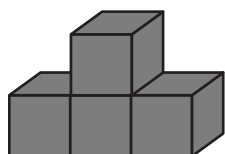
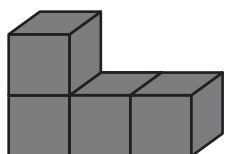
上の太い四角の中が約束です。灰色の丸の四角の中に入ると、色が反対に変わります。白色の丸の四角の中に入ると、灰色の積み木がなくなり上にある積み木が下に降りてきます。この約束の時、左の積み木が箱に入って出てきた時の形を考えて正しいものを選んで○をつけます。



?



?



※1. このプリントは、しながわ・目黒こどもスクールのウェブサイトでダウンロードができます。無断複写・引用はご遠慮ください。
※2. このプリントを活用したオンライン授業のスケジュールは、しながわ・目黒こどもスクールのウェブサイトでご確認ください。



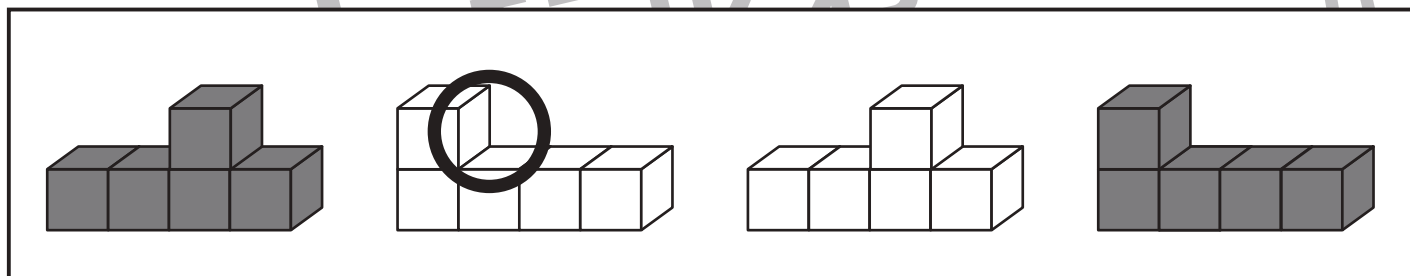
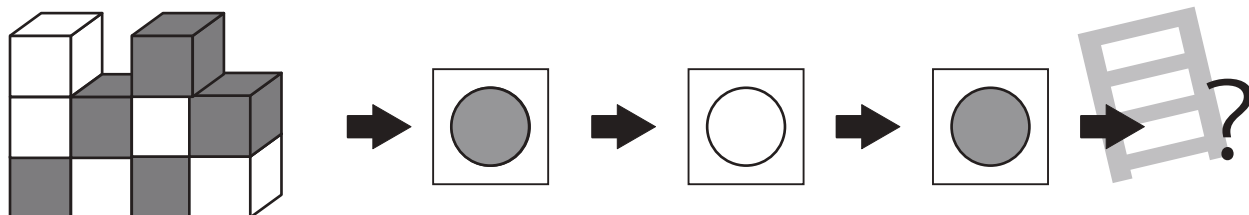
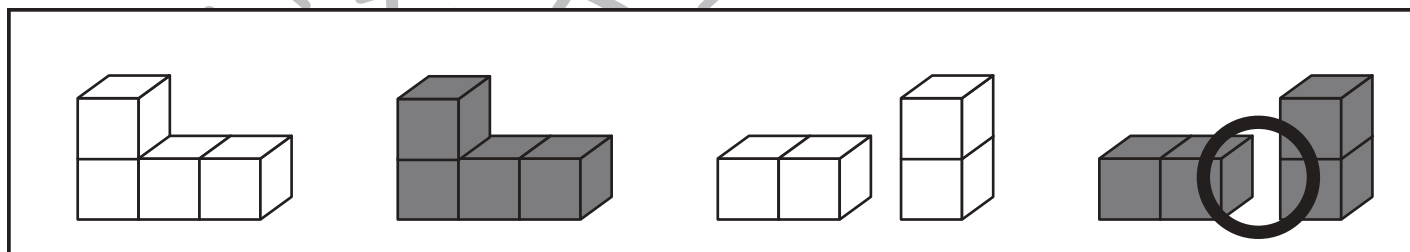
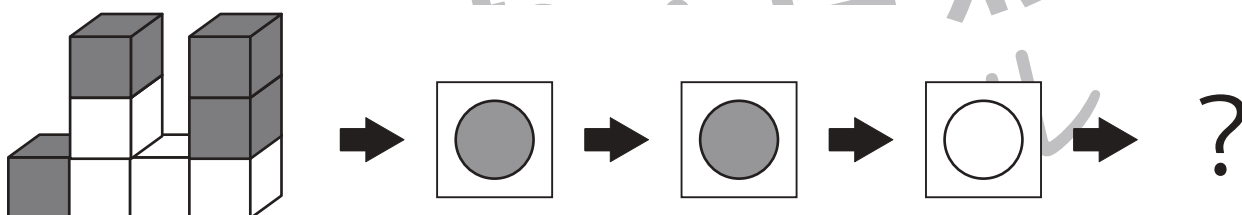
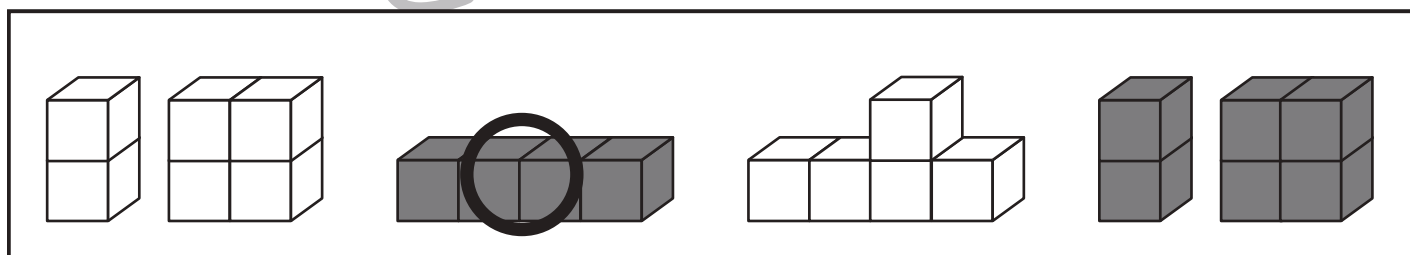
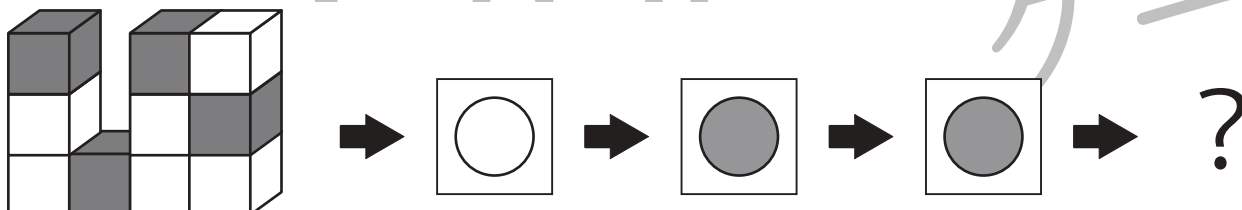
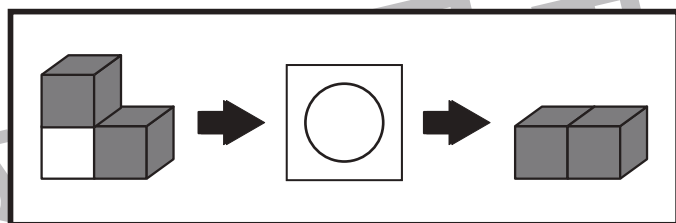
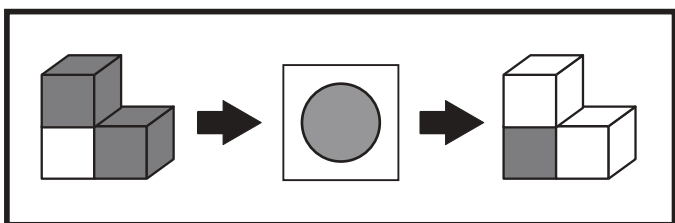


おうちで、やろう。

Study at home. 小学校受験の家庭学習教材

推理：ブラックボックス 24

上の太い四角の中が約束です。灰色の丸の四角の中に入ると、色が反対に変わります。白色の丸の四角の中に入ると、白色の積み木がなくなり上にある積み木が下に降りてきます。この約束の時、左の積み木が箱に入って出てきた時の形を考えて正しいものを選んで○をつけます。



※1. このプリントは、しながわ・目黒こどもスクールのウェブサイトでダウンロードができます。無断複写・引用はご遠慮ください。
※2. このプリントを活用したオンライン授業のスケジュールは、しながわ・目黒こどもスクールのウェブサイトでご確認ください。





おうちで、やろう。

Study at home. 小学校受験の家庭学習教材

処理：模写 21

左のお手本の点線だけを右の四角の同じ場所にかきます。線は点と点をしっかり結びきれいな線をかきましょう。
この問題はスピードを意識して取り組む練習をしてみましょう。(2分～2分30秒)

※1. このプリントは、しながわ・目黒こどもスクールのウェブサイトでダウンロードができます。無断複写・引用はご遠慮ください。
 ※2. このプリントを活用したオンライン授業のスケジュールは、しながわ・目黒こどもスクールのウェブサイトでご確認ください。