

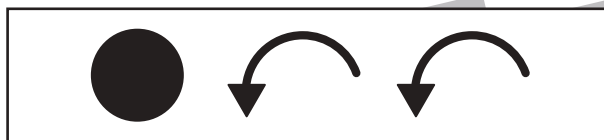
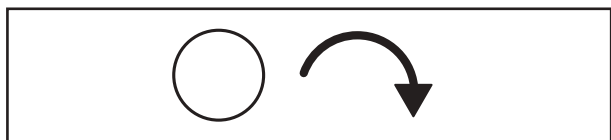


おうちで、やろう。

Study at home. 小学校受験の家庭学習教材

図形：移動 60

左の四角のマスの中に白丸と黒丸があり、2つの丸は星の数だけ約束通りにマスを進みます。進み方の約束は上の四角で、☆1つで白丸は右回りに1マス、黒丸は左回りに2マス進むというものです。この約束で白丸と黒丸を約束通りに移動させたとき、正しいものを右の四角の中から見つけて○をつけます。



| | | | | |
|--------|--|--|--|--|
| ☆ ☆ | | | | |
|--------|--|--|--|--|

| | | | |
|--------|--|--|--|
| ☆ ☆ | | | |
|--------|--|--|--|

| | | | | |
|-------------|--|--|--|--|
| ☆ ☆ ☆ | | | | |
|-------------|--|--|--|--|

| | | | |
|------------------|--|--|--|
| ☆ ☆ ☆ ☆ | | | |
|------------------|--|--|--|

※1. このプリントは、しながわ・目黒こどもスクールのウェブサイトからダウンロードできます。無断複写・引用はご遠慮ください。
※2. このプリントを活用したオンライン授業のスケジュールは、しながわ・目黒こどもスクールのウェブサイトでご確認ください。



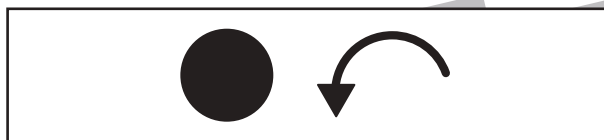
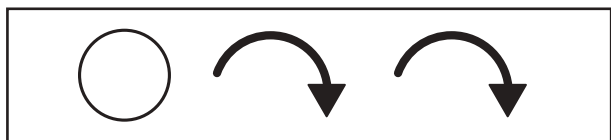


おうちで、やろう。

Study at home. 小学校受験の家庭学習教材

図形：移動 61

左の四角のマスの中に白丸と黒丸があり、2つの丸は星の数だけ約束通りにマスを進みます。進み方の約束は上の四角で、☆1つで白丸は右回りに2マス、黒丸は左回りに1マス進むというものです。この約束で白丸と黒丸を約束通りに移動させたとき、正しいものを右の四角の中から見つけて○をつけます。



| | | | | |
|--------|--|--|--|--|
| ☆ ☆ | | | | |
|--------|--|--|--|--|

| | | | | |
|--------|--|--|--|--|
| ☆ ☆ | | | | |
|--------|--|--|--|--|

| | | | | |
|-------------|--|--|--|--|
| ☆ ☆ ☆ | | | | |
|-------------|--|--|--|--|

| | | | | |
|------------------|--|--|--|--|
| ☆ ☆ ☆ ☆ | | | | |
|------------------|--|--|--|--|

※1. このプリントは、しながわ・目黒こどもスクールのウェブサイトでダウンロードができます。無断複写・引用はご遠慮ください。
※2. このプリントを活用したオンライン授業のスケジュールは、しながわ・目黒こどもスクールのウェブサイトでご確認ください。



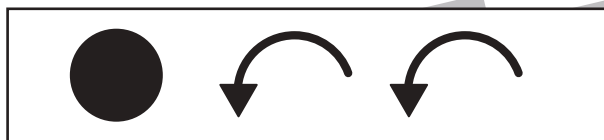
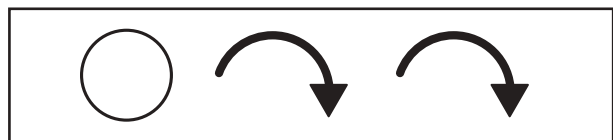


おうちで、やろう。

Study at home. 小学校受験の家庭学習教材

図形：移動 62

左の四角のマスの中に白丸と黒丸があり、2つの丸は星の数だけ約束通りにマスを進みます。進み方の約束は上の四角で、☆2つで白丸は右回りに2マス、黒丸は左回りに1マス進むというものです。この約束で白丸と黒丸を約束通りに移動させたとき、正しいものを右の四角の中から見つけて○をつけます。



| | | | | |
|--------|--|--|--|--|
| ☆ ☆ | | | | |
|--------|--|--|--|--|

| | | | | |
|--------|--|--|--|--|
| ☆ ☆ | | | | |
|--------|--|--|--|--|

| | | | | |
|-------------|--|--|--|--|
| ☆ ☆ ☆ | | | | |
|-------------|--|--|--|--|

| | | | | |
|------------------|--|--|--|--|
| ☆ ☆ ☆ ☆ | | | | |
|------------------|--|--|--|--|

※1. このプリントは、しながわ・目黒こどもスクールのウェブサイトでダウンロードができます。無断複写・引用はご遠慮ください。
※2. このプリントを活用したオンライン授業のスケジュールは、しながわ・目黒こどもスクールのウェブサイトでご確認ください。





おうちで、やろう。

Study at home. 小学校受験の家庭学習教材

推理：回転 15

動物たちは回転するテーブルの前にはいます。テーブルを回してパンダの前にサクランボがきました。他の動物の前にくる果物は何ですか。それぞれ右の四角から選んで○をつけます。



※1. このプリントは、しながわ・目黒こどもスクールのウェブサイトでダウンロードができます。無断複写・引用はご遠慮ください。
※2. このプリントを活用したオンライン授業のスケジュールは、しながわ・目黒こどもスクールのウェブサイトでご確認ください。










おうちで、やろう。

Study at home. 小学校受験の家庭学習教材

推理：回転 16

動物たちは回転するテーブルの前にいます。

- ① テーブルを回してウシの前にホットケーキがきた時、ブタとライオンの前にくる食べ物を右の四角の中から選んで○をつけます。
- ② テーブルを回してウサギの前に飴がきた時、タヌキとリスの前にくる食べ物を右の四角の中から選んで○をつけます。



※1. このプリントは、しながわ・目黒こどもスクールのウェブサイトでダウンロードができます。無断複写・引用はご遠慮ください。
 ※2. このプリントを活用したオンライン授業のスケジュールは、しながわ・目黒こどもスクールのウェブサイトでご確認ください。



おうちで、やろう。



Study at home. 小学校受験の家庭学習教材

推理：回転 17

動物たちは回転するテーブルの前にいます。テーブルを回してリスの前にスイカがきました。①、②の問題に答えます。

①クマ、タヌキ、パンダの前にくる果物を右の四角の中から選んで○をつけます。

②ミカン、パイナップルの前にいる動物を右の四角の中から選んで○をつけます。



①

| | | | | | | | |
|--|--|--|--|--|--|--|--|
| | | | | | | | |
|--|--|--|--|--|--|--|--|

| | | | | | | | |
|--|--|--|--|--|--|--|--|
| | | | | | | | |
|--|--|--|--|--|--|--|--|

| | | | | | | | |
|--|--|--|--|--|--|--|--|
| | | | | | | | |
|--|--|--|--|--|--|--|--|

②

| | | | | | | | |
|--|--|--|--|--|--|--|--|
| | | | | | | | |
|--|--|--|--|--|--|--|--|

| | | | | | | | |
|--|--|--|--|--|--|--|--|
| | | | | | | | |
|--|--|--|--|--|--|--|--|

※1. このプリントは、しながわ・目黒こどもスクールのウェブサイトでダウンロードができます。無断複写・引用はご遠慮ください。
 ※2. このプリントを活用したオンライン授業のスケジュールは、しながわ・目黒こどもスクールのウェブサイトでご確認ください。



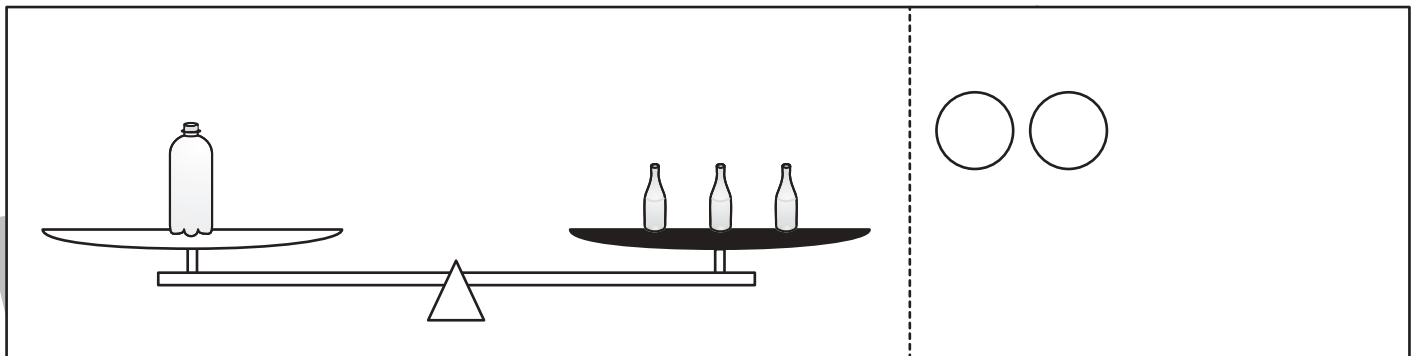





おうちで、やろう。

Study at home. 小学校受験の家庭学習教材

推理：重さ 20

上の太枠の中を見てください。大きなボトルは小瓶 10 杯分の重さ、少し大きめのボトルは小瓶 5 杯分の重さです。
シーソーが釣り合うようにするのには右側の黒い皿にあといくつ小瓶が必要かを考えます。その数だけ点線の右に○を描きましょう。



※1. このプリントは、しながわ・目黒こどもスクールのウェブサイトでダウンロードができます。無断複写・引用はご遠慮ください。
※2. このプリントを活用したオンライン授業のスケジュールは、しながわ・目黒こどもスクールのウェブサイトでご確認ください。




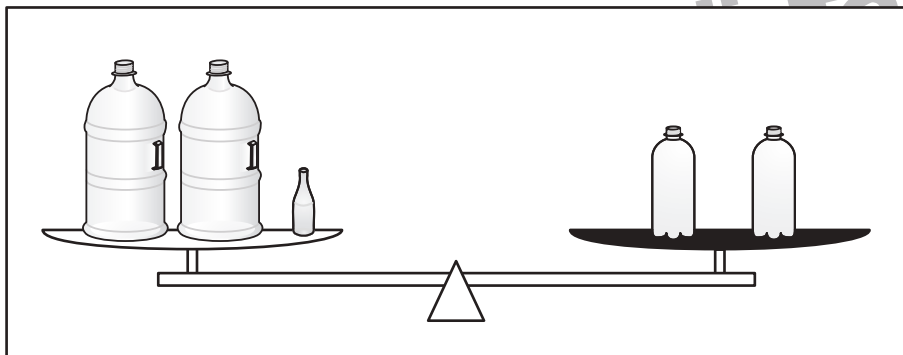

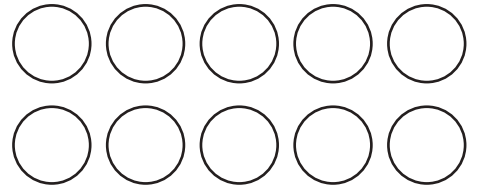
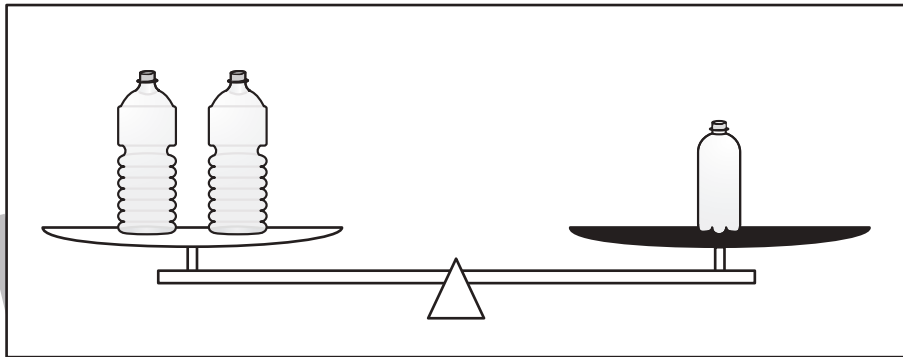
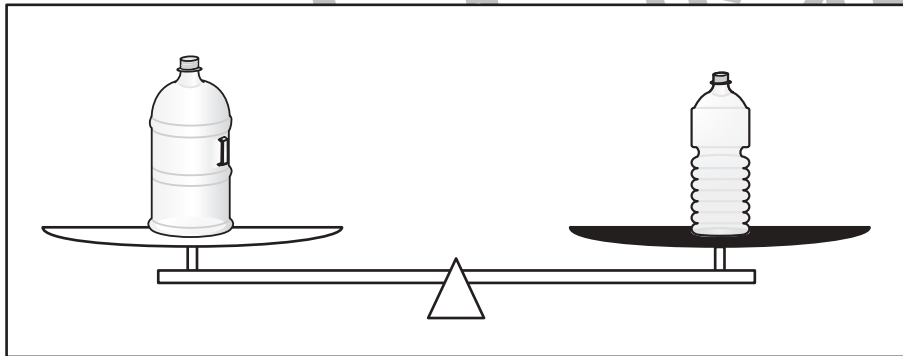





おうちで、やろう。

Study at home. 小学校受験の家庭学習教材

推理：重さ 21

上の太枠の中を見てください。左のボトルは小瓶 10 杯分の重さ、真ん中のボトルは小瓶 8 杯分の重さ、右のボトルは小瓶 6 杯分の重さです。シーソーが釣り合うようにするの右側の黒い皿にあといくつ小瓶が必要かを考えます。その数だけ点線の右に○を描きましょう。



※1. このプリントは、しながわ・目黒こどもスクールのウェブサイトでダウンロードができます。無断複写・引用はご遠慮ください。
※2. このプリントを活用したオンライン授業のスケジュールは、しながわ・目黒こどもスクールのウェブサイトでご確認ください。



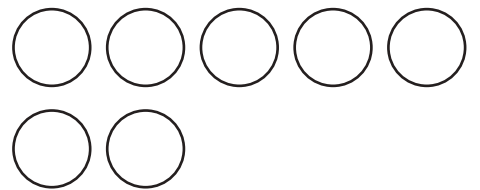



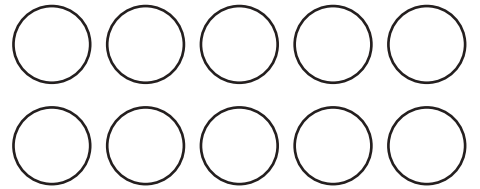
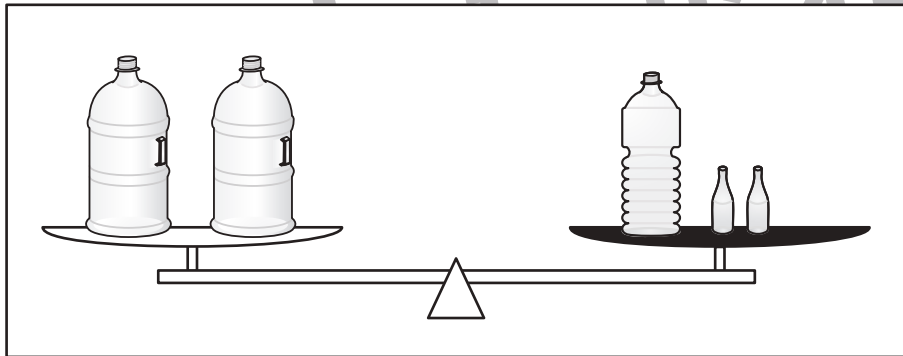





おうちで、やろう。

Study at home. 小学校受験の家庭学習教材

推理：重さ 22

上の太枠の中を見てください。左のボトルは小瓶 10 杯分の重さ、真ん中のボトルは小瓶 8 杯分の重さ、右のボトルは小瓶 6 杯分の重さです。シーソーが釣り合うようにするの右側の黒い皿にあといくつ小瓶が必要かを考えます。その数だけ点線の右に○を描きましょう。



※ 1. このプリントは、しながわ・目黒こどもスクールのウェブサイトでダウンロードができます。無断複写・引用はご遠慮ください。
※ 2. このプリントを活用したオンライン授業のスケジュールは、しながわ・目黒こどもスクールのウェブサイトでご確認ください。





おうちで、やろう。

Study at home. 小学校受験の家庭学習教材

処理：模写 22

左のお手本の点線だけを右の四角の同じ場所にかきます。線は点と点をしっかり結びきれいな線をかきましょう。
この問題はスピードを意識して取り組む練習をしてみましょう。(2分～2分30秒)

| | | | |
|--|--|--|--|
| | | | |
| | | | |
| | | | |
| | | | |
| | | | |

※1. このプリントは、しながわ・目黒こどもスクールのウェブサイトでダウンロードができます。無断複写・引用はご遠慮ください。
 ※2. このプリントを活用したオンライン授業のスケジュールは、しながわ・目黒こどもスクールのウェブサイトでご確認ください。