



おうちで、やろう。

Study at home. 小学校受験の家庭学習教材

指示の聞き取り 26

上の絵を見て、下の問題に答えましょう。

①リボンをつけた生き物の数だけ〇をかきます。

②植木鉢の数だけ〇をかきます。

③右下の乗り物についているタイヤが3つなら×、2つなら口、1つなら〇、タイヤがないなら@をかきます。



①

②

③

※1. このプリントは、しながわ・目黒こどもスクールのウェブサイトからダウンロードできます。無断複写・引用はご遠慮ください。

※2. このプリントを活用したオンライン授業のスケジュールは、しながわ・目黒こどもスクールのウェブサイトでご確認ください。



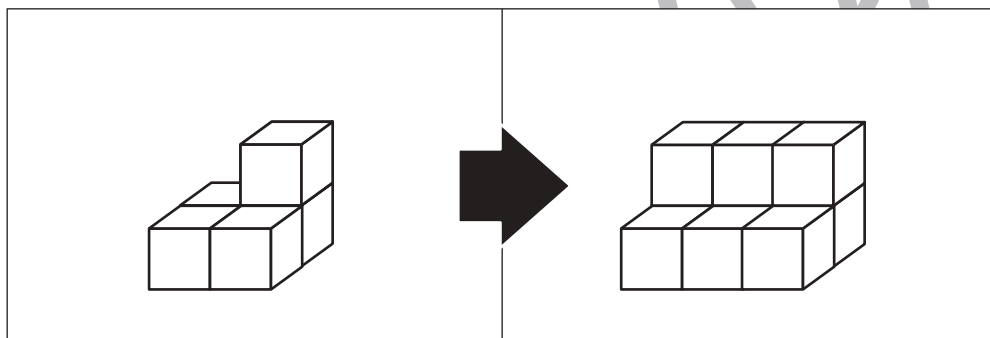
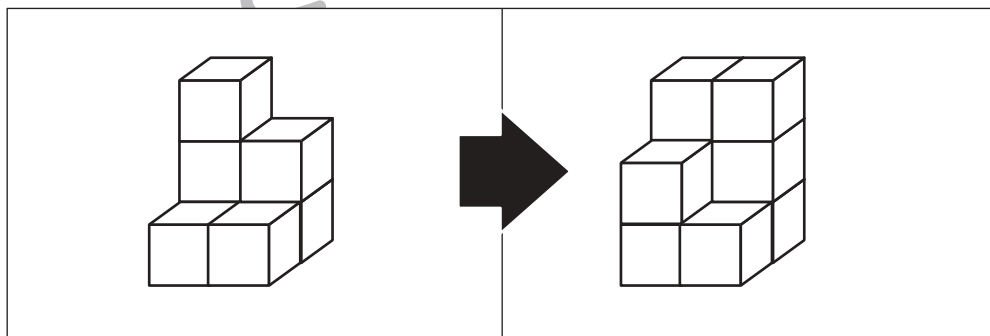

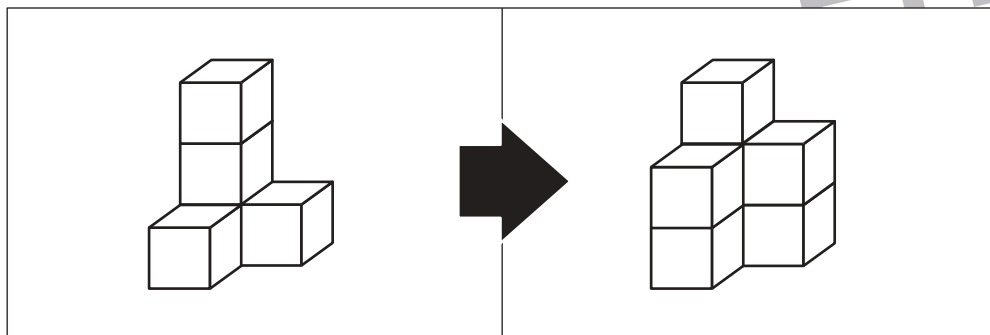
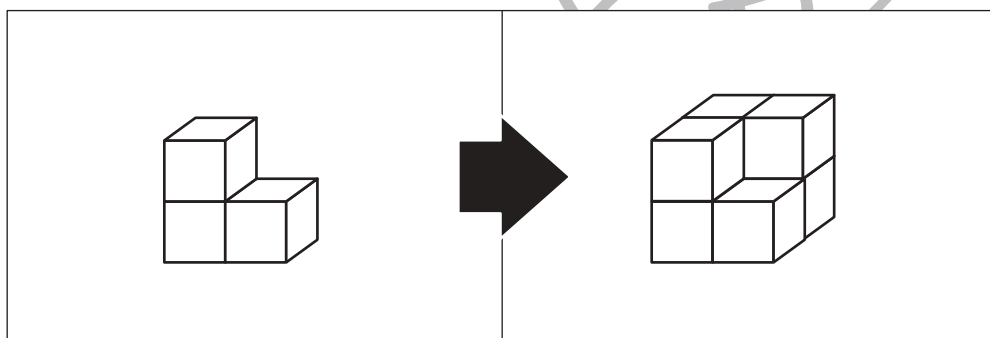
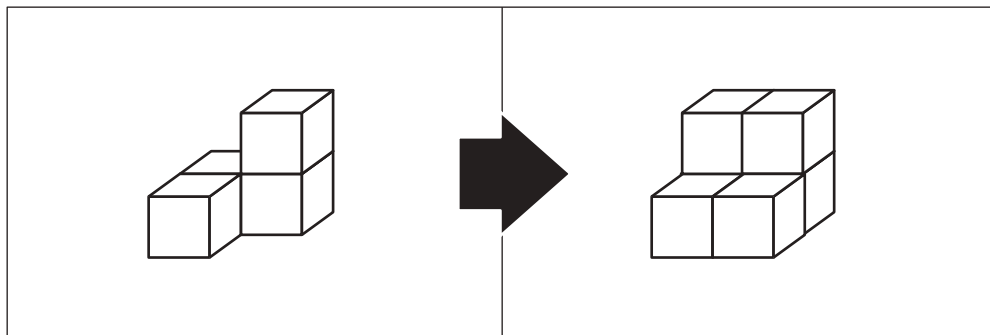


おうちで、やろう。

Study at home. 小学校受験の家庭学習教材

推理：積み木 26

左の四角の中の積み木を使って右の積み木に作り変えます。足りない積み木はいくつですか。その数だけ一番右の太い四角の中に○をかきます。



※1. このプリントは、しながわ・目黒こどもスクールのウェブサイトでダウンロードができます。無断複写・引用はご遠慮ください。

※2. このプリントを活用したオンライン授業のスケジュールは、しながわ・目黒こどもスクールのウェブサイトでご確認ください。

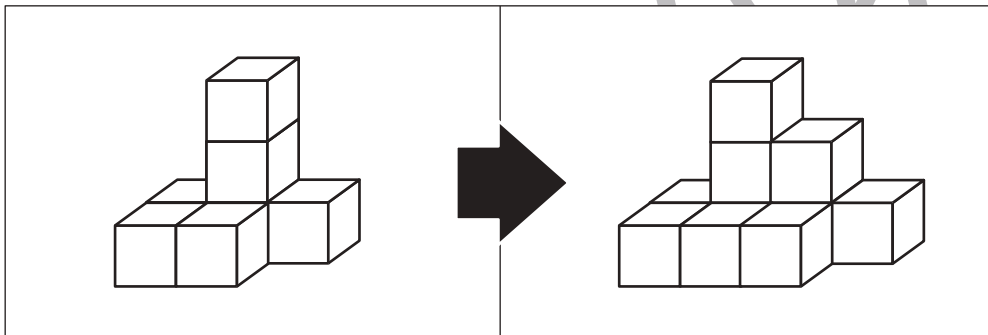
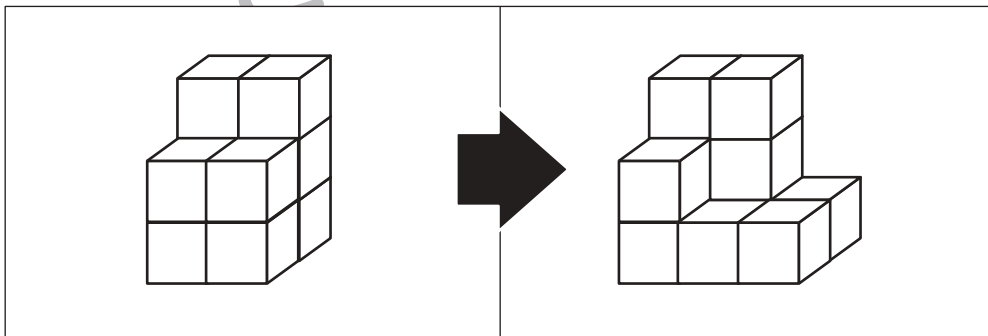
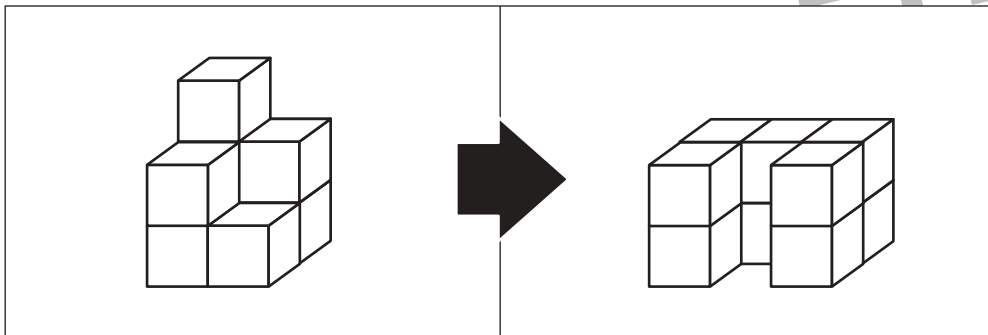
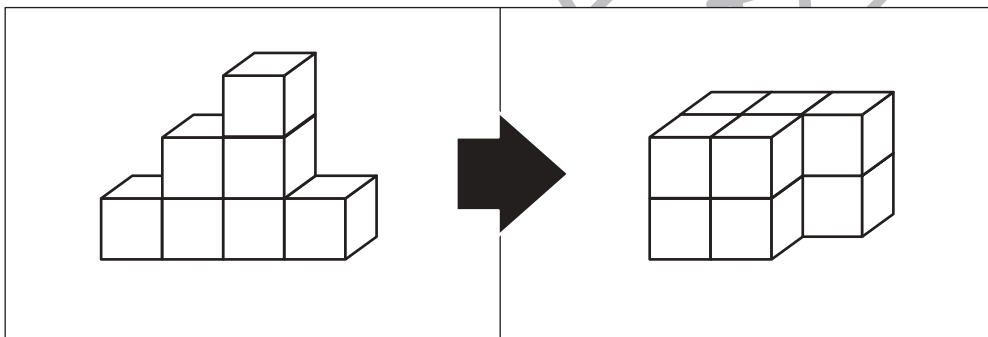
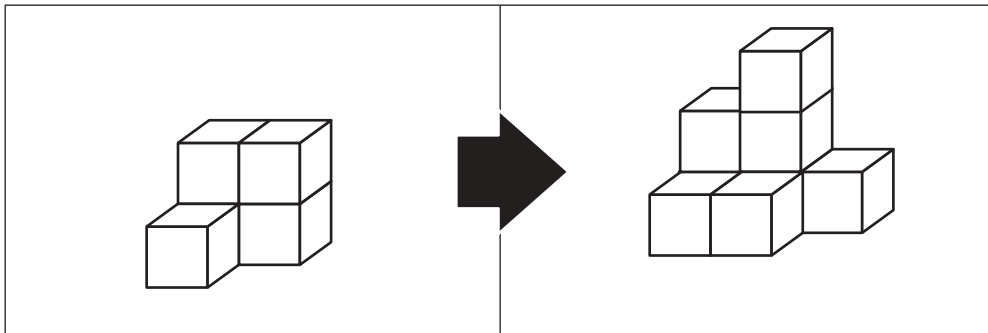


おうちで、やろう。

Study at home. 小学校受験の家庭学習教材

推理：積み木 27

左の四角の中の積み木を使って右の積み木に作り変えます。足りない積み木はいくつですか。その数だけ一番右の太い四角の中に○をかきます。



※1. このプリントは、しながわ・目黒こどもスクールのウェブサイトからダウンロードできます。無断複写・引用はご遠慮ください。

※2. このプリントを活用したオンライン授業のスケジュールは、しながわ・目黒こどもスクールのウェブサイトでご確認ください。



おうちで、やろう。

Study at home. 小学校受験の家庭学習教材

推理：積み木 28

左の四角の中の積み木はお手本で黒と白の積み木でできています。お手本の積み木のうち黒い積み木だけをとります。黒い積み木をとったあと、上にあった白い積み木はそのまま下へ落ちます。この時、残った白い積み木の形を右の四角の中から選んで○をつけます。

※1. このプリントは、しながわ・目黒こどもスクールのウェブサイトでダウンロードができます。無断複写・引用はご遠慮ください。

※2. このプリントを活用したオンライン授業のスケジュールは、しながわ・目黒こどもスクールのウェブサイトでご確認ください。

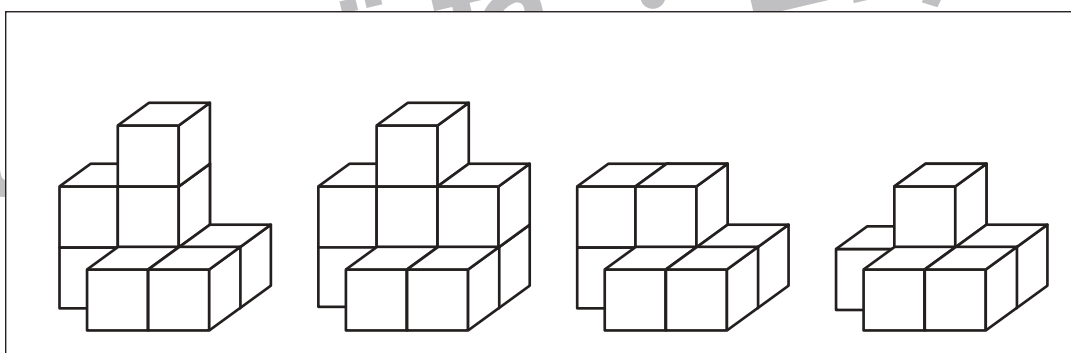
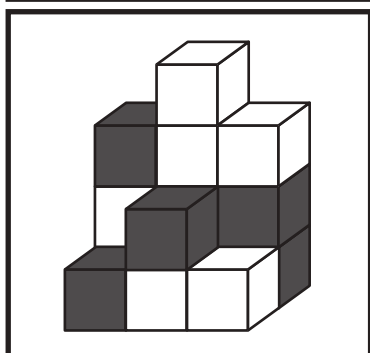
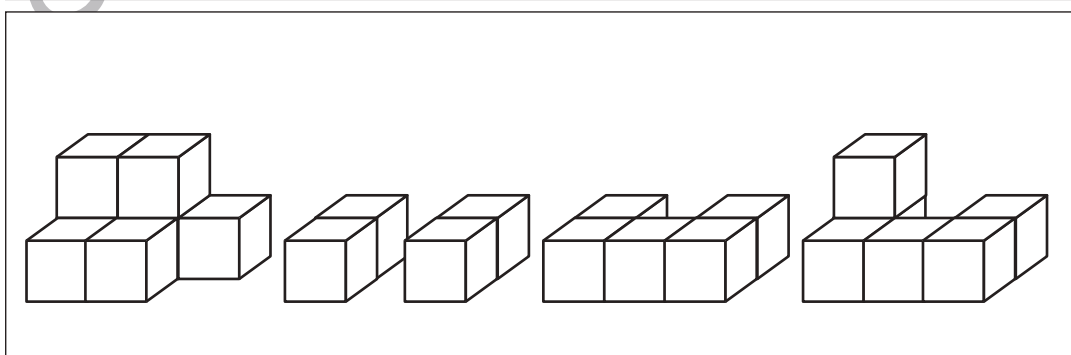
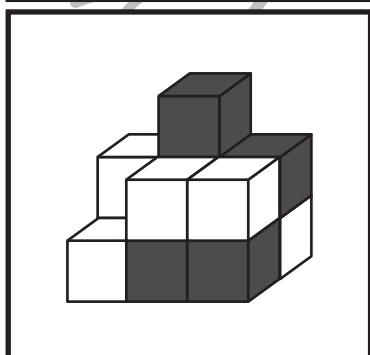
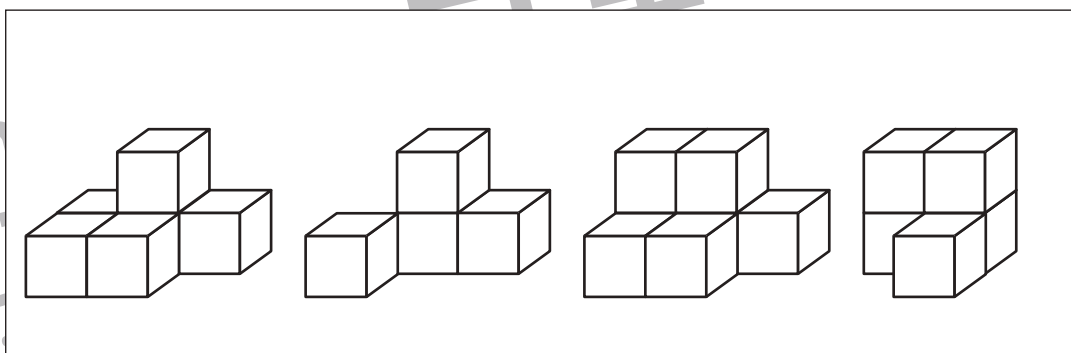
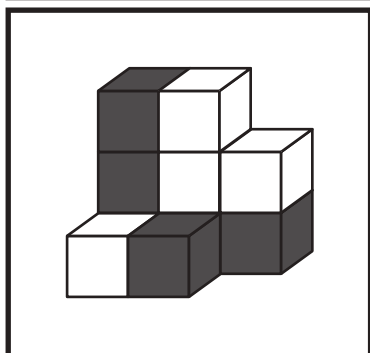
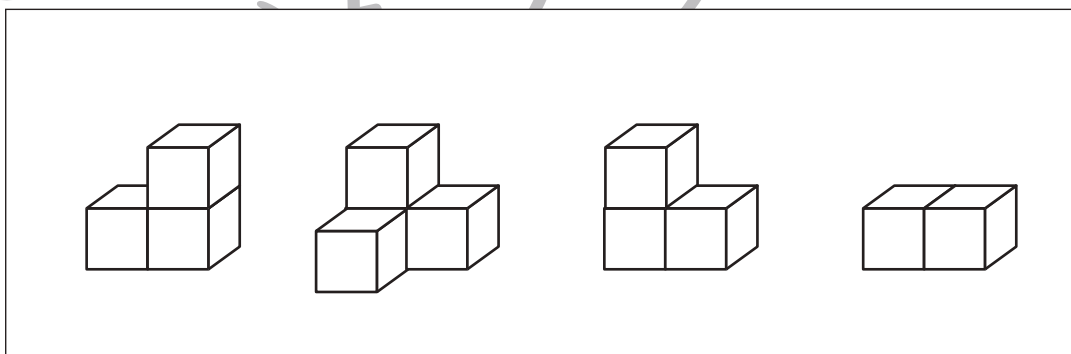
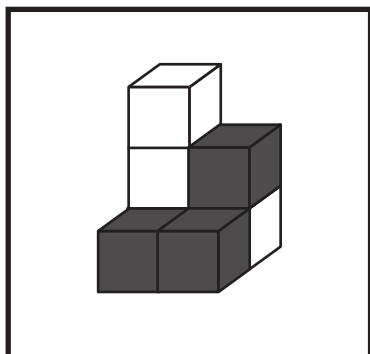
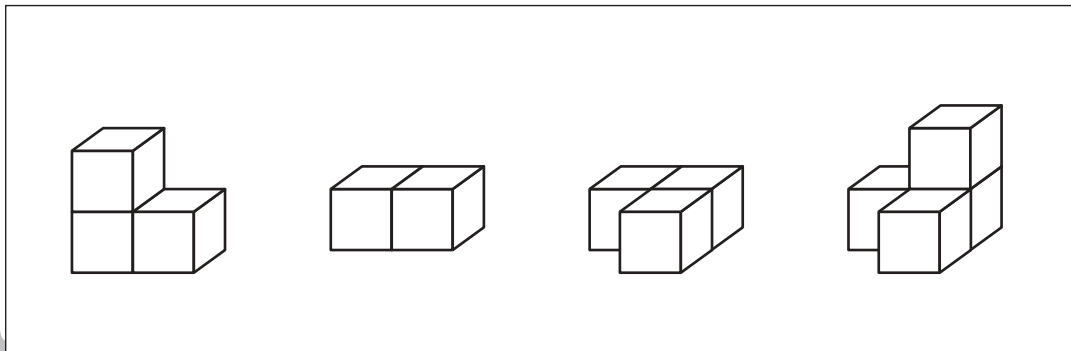
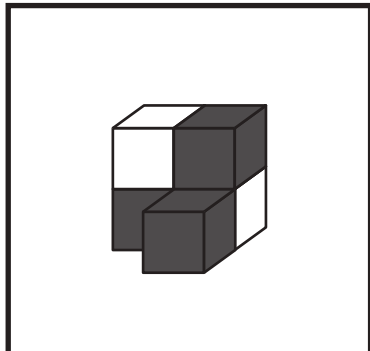


おうちで、やろう。

Study at home. 小学校受験の家庭学習教材

推理：積み木 29

左の四角の中の積み木はお手本で黒と白の積み木でできています。隠れて見えない積み木はすべて黒い積み木です。このとき、お手本の積み木のうち黒い積み木だけをとりず。黒い積み木をとったあと、上にあった白い積み木はそのまま下へ落ちます。この時、残った白い積み木の形を右の四角の中から選んで○をつけます。



※1. このプリントは、しながわ・目黒こどもスクールのウェブサイトでダウンロードができます。無断複写・引用はご遠慮ください。

※2. このプリントを活用したオンライン授業のスケジュールは、しながわ・目黒こどもスクールのウェブサイトでご確認ください。



おうちで、やろう。

Study at home. 小学校受験の家庭学習教材

推理：重さ 23

左の四角の中が約束で2つのものをシーソーで重さ比べをした様子です。真ん中の四角の中のシーソーは2つのものの数を変えて重さ比べをした様子です。空いているところに入る野菜の数が正しい四角に○をつけます。

※1. このプリントは、しながわ・目黒こどもスクールのウェブサイトからダウンロードできます。無断複写・引用はご遠慮ください。

※2. このプリントを活用したオンライン授業のスケジュールは、しながわ・目黒こどもスクールのウェブサイトでご確認ください。



おうちで、やろう。

Study at home. 小学校受験の家庭学習教材

推理：重さ 24

左の四角の中が約束で2つのものをシーソーで重さ比べをした様子です。真ん中の四角の中のシーソーは2つのものの数を変えて重さ比べをした様子です。空いているところに入る果物の数が正しい四角を全て選んで○をつけます。

※1. このプリントは、しながわ・目黒こどもスクールのウェブサイトでダウンロードができます。無断複写・引用はご遠慮ください。

※2. このプリントを活用したオンライン授業のスケジュールは、しながわ・目黒こどもスクールのウェブサイトでご確認ください。



おうちで、やろう。

Study at home. 小学校受験の家庭学習教材

推理：重さ 25

左の四角の中は4つの野菜をシーソーで重さ比べをした様子です。2番目に重いものに○、2番目に軽いものに△をつけます。

※1. このプリントは、しながわ・目黒こどもスクールのウェブサイトからダウンロードできます。無断複写・引用はご遠慮ください。

※2. このプリントを活用したオンライン授業のスケジュールは、しながわ・目黒こどもスクールのウェブサイトでご確認ください。



おうちで、やろう。

Study at home. 小学校受験の家庭学習教材




数量：複合 14

下の絵を見て、①～③の問題に答えましょう。

①四角の中の生き物のうち3つの生き物の足を合わせて10本にします。正しい組み合わせになるように3つの生き物に○をつけます。

②四角の中の生き物のうち足の数が一番多いものは何ですか。その生き物の足の数だけ○をかきます。

③四角の中を3つの種類で分けました。この仲間の足の数を合わせたとき、数が一番少ない仲間はどれですか。その数だけ○をかきます。



※1. このプリントは、しながわ・目黒こどもスクールのウェブサイトからダウンロードできます。無断複写・引用はご遠慮ください。

※2. このプリントを活用したオンライン授業のスケジュールは、しながわ・目黒こどもスクールのウェブサイトでご確認ください。

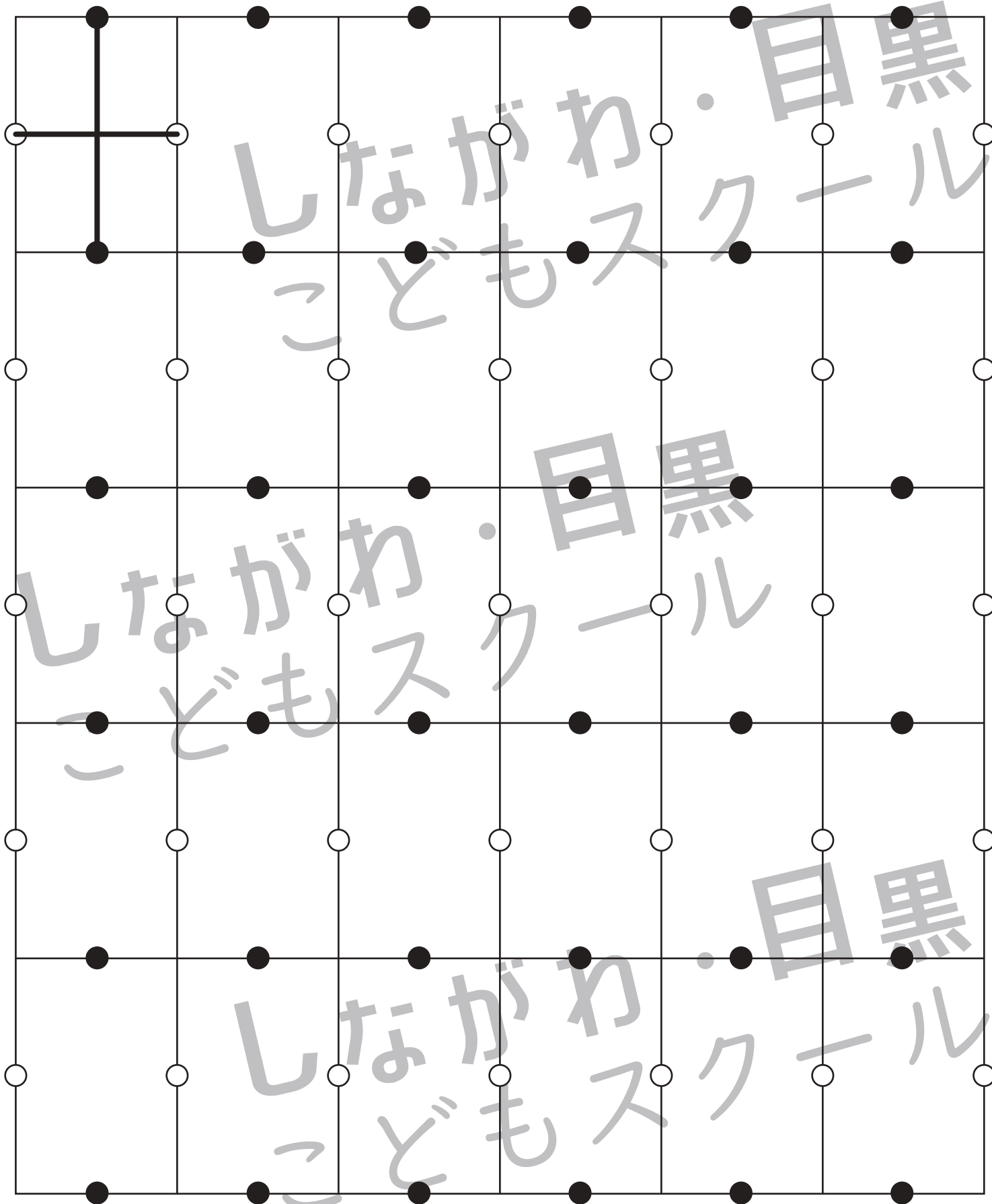


おうちで、やろう。

Study at home. 小学校受験の家庭学習教材

処理：運筆 25

左上のお手本のように四角の中の黒丸と黒丸、白丸と白丸を線で結びます。左上から始めて右へ進み、2段目の左から右、3段目と順番にかきます。この問題はスピードを意識して取り組みましょう。(目安2分～3分) ※このプリントに解答はありません。



※1. このプリントは、しながわ・目黒こどもスクールのウェブサイトでダウンロードができます。無断複写・引用はご遠慮ください。

※2. このプリントを活用したオンライン授業のスケジュールは、しながわ・目黒こどもスクールのウェブサイトでご確認ください。