

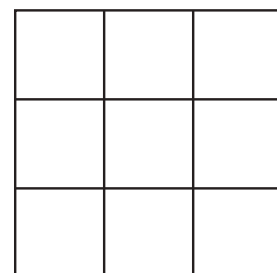
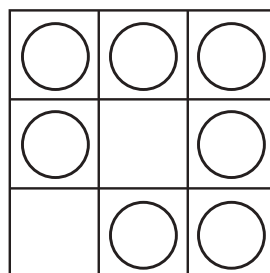
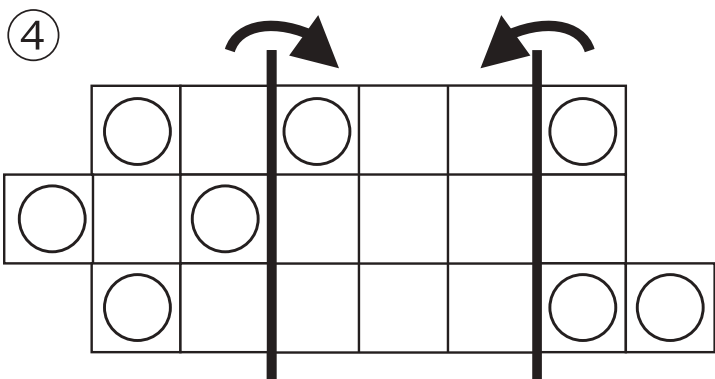
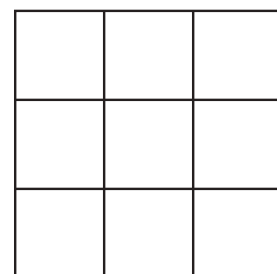
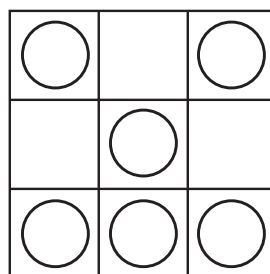
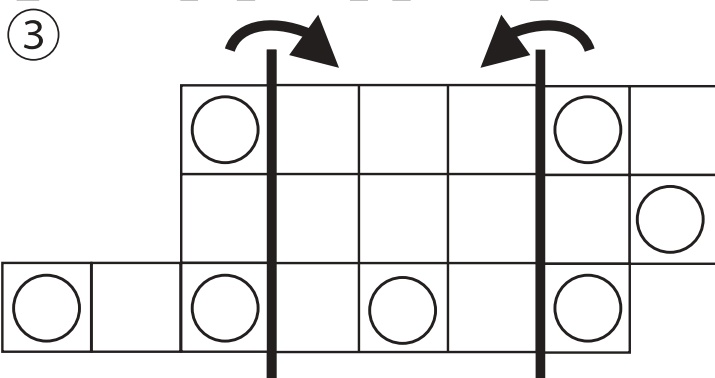
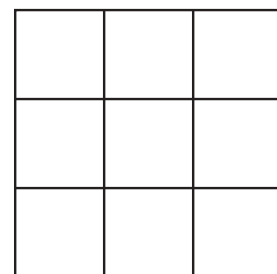
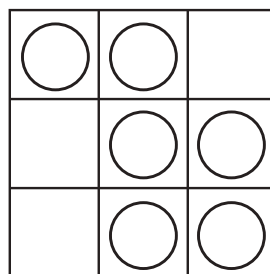
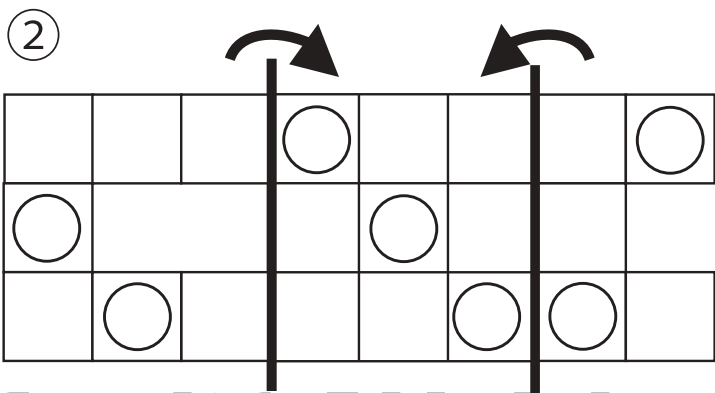
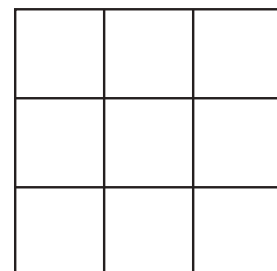
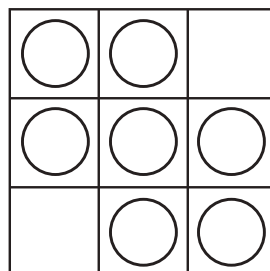
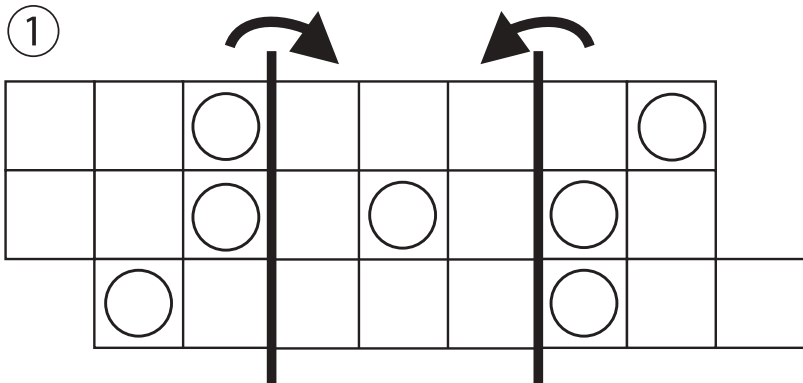


おうちで、やろう。

Study at home. 小学校受験の家庭学習教材

図形：折り重ね 58

太い線で矢印の方向へ折り重ねた時の見え方を考えます。答えはすぐ右の空いている四角にかきます。もし間違えてしまったら、一番右の四角にかきなおしましょう。



※1. このプリントは、しながわ・目黒こどもスクールのウェブサイトでダウンロードができます。無断複写・引用はご遠慮ください。
 ※2. このプリントを活用したオンライン授業のスケジュールは、しながわ・目黒こどもスクールのウェブサイトでご確認ください。



おうちで、やろう。

Study at home. 小学校受験の家庭学習教材

図形：折り重ね 59

太い線で矢印の方向へ折り重ねた時の見え方を考えます。答えはすぐ右の空いている四角にかきます。もし間違えてしまったら、一番右の四角にかきなおしましょう。

①

②

③

④

※1. このプリントは、しながわ・目黒こどもスクールのウェブサイトでダウンロードができます。無断複写・引用はご遠慮ください。
 ※2. このプリントを活用したオンライン授業のスケジュールは、しながわ・目黒こどもスクールのウェブサイトでご確認ください。



おうちで、やろう。

Study at home. 小学校受験の家庭学習教材

図形：折り重ね 60

太い線で矢印の方向へ折り重ねた時の見え方を考えます。答えはすぐ右の空いている四角にかきます。もし間違えてしまったら、一番右の四角にかきなおしましょう。

①

②

③

④

※1. このプリントは、しながわ・目黒こどもスクールのウェブサイトでダウンロードができます。無断複写・引用はご遠慮ください。
 ※2. このプリントを活用したオンライン授業のスケジュールは、しながわ・目黒こどもスクールのウェブサイトでご確認ください。



おうちで、やろう。

Study at home. 小学校受験の家庭学習教材

図形：折り線 7

左の四角は折り紙を折った形です。この折り紙を開いたときの折り線を考えて右の中から選んで○をつけます。

※1. このプリントは、しながわ・目黒こどもスクールのウェブサイトからダウンロードできます。無断複写・引用はご遠慮ください。

※2. このプリントを活用したオンライン授業のスケジュールは、しながわ・目黒こどもスクールのウェブサイトでご確認ください。



おうちで、やろう。

Study at home. 小学校受験の家庭学習教材

図形：折り線 8

左の四角は折り紙を折った形です。この折り紙を開いたときの折り線を考えて右の中から選んで○をつけます。

※1. このプリントは、しながわ・目黒こどもスクールのウェブサイトからダウンロードができます。無断複写・引用はご遠慮ください。

※2. このプリントを活用したオンライン授業のスケジュールは、しながわ・目黒こどもスクールのウェブサイトでご確認ください。



おうちで、やろう。

Study at home. 小学校受験の家庭学習教材

図形：折り線 9

裏が灰色の折り紙を順番に折って開いた時の線のつき方を考えます。正しいものを右の3つの中から選び○をつけます。

※1. このプリントは、しながわ・目黒こどもスクールのウェブサイトでダウンロードができます。無断複写・引用はご遠慮ください。

※2. このプリントを活用したオンライン授業のスケジュールは、しながわ・目黒こどもスクールのウェブサイトでご確認ください。

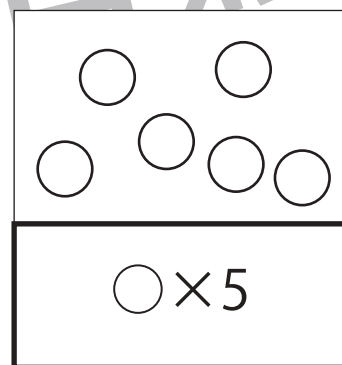
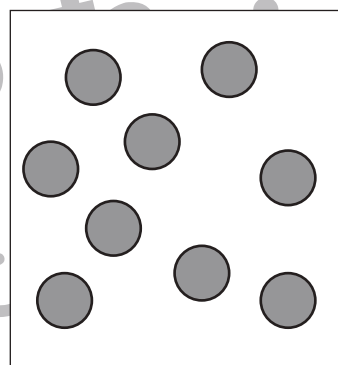
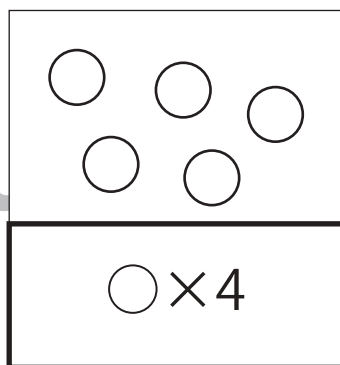
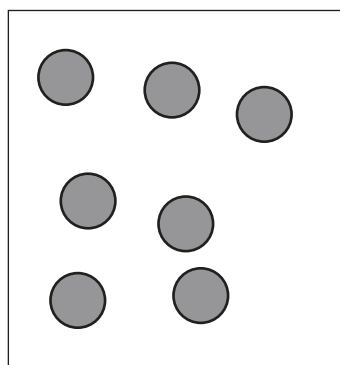
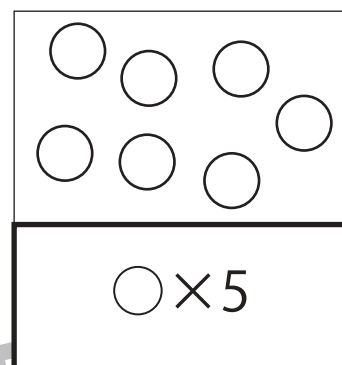
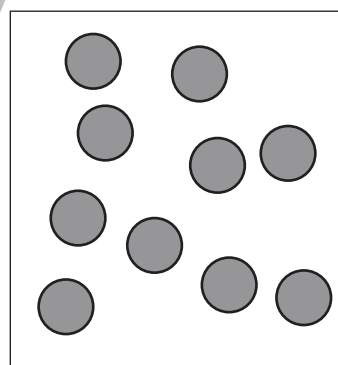
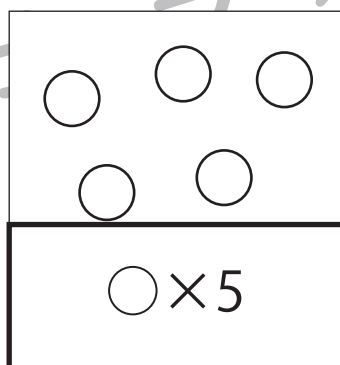
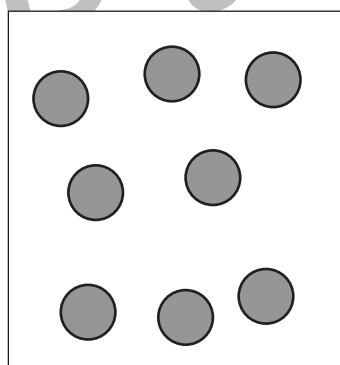
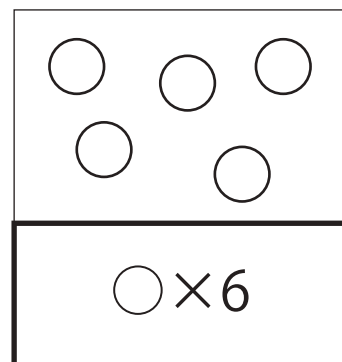
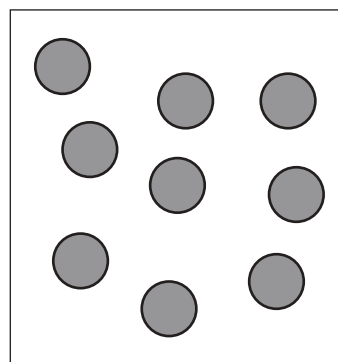
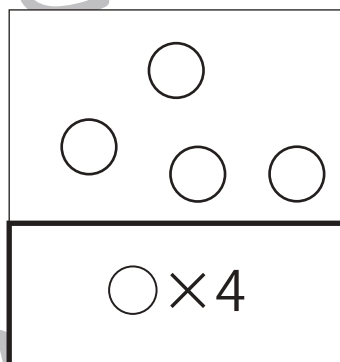
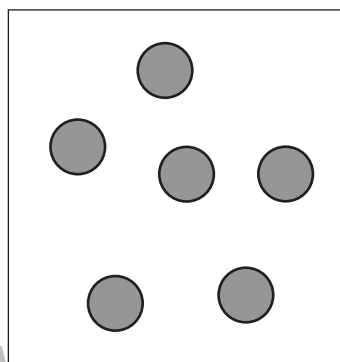
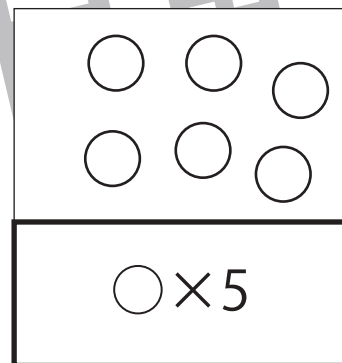
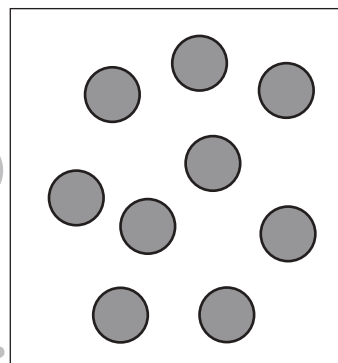
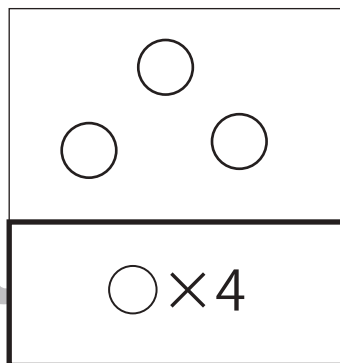
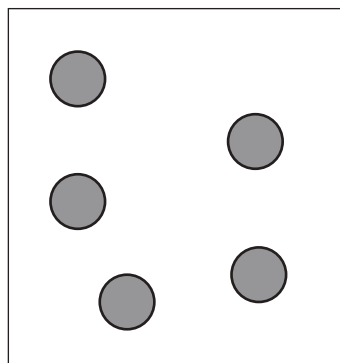


おうちで、やろう。

Study at home. 小学校受験の家庭学習教材

数量：加減 50

左の四角には灰色の丸、右の四角には白い丸があります。この2つの数を比べてたとき、白い丸が2つ多くなるとき、足りない数だけ下の太い四角に〇をかきます。



※1. このプリントは、しながわ・目黒こどもスクールのウェブサイトでダウンロードができます。無断複写・引用はご遠慮ください。
※2. このプリントを活用したオンライン授業のスケジュールは、しながわ・目黒こどもスクールのウェブサイトでご確認ください。


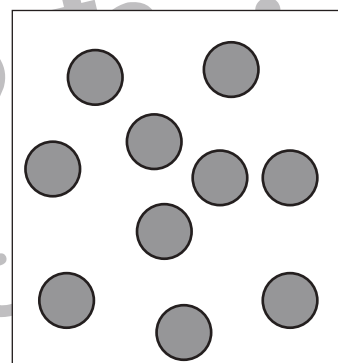
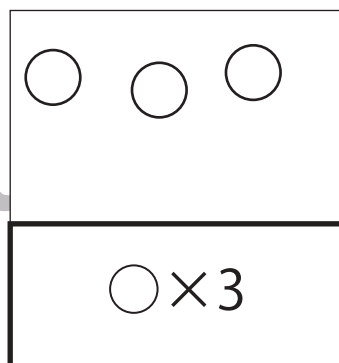
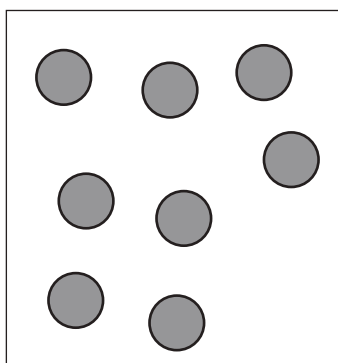

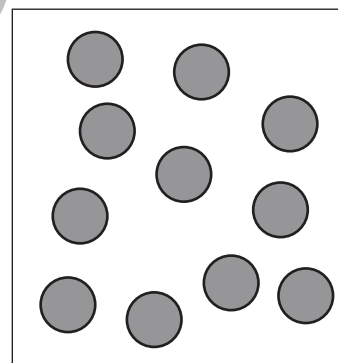
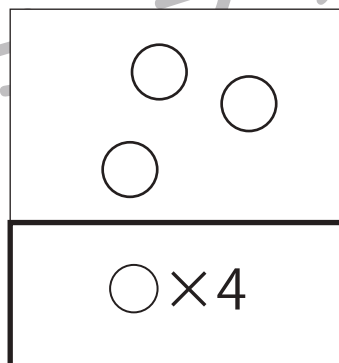
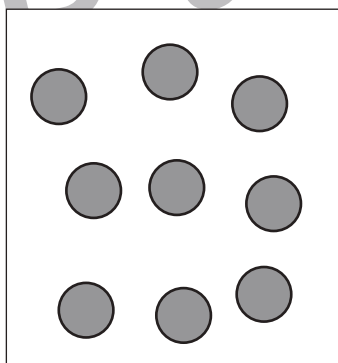
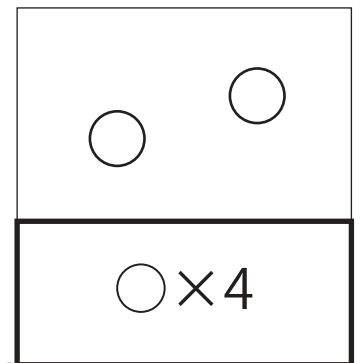
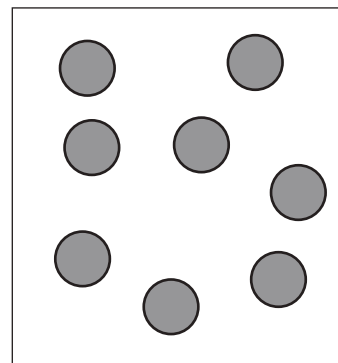
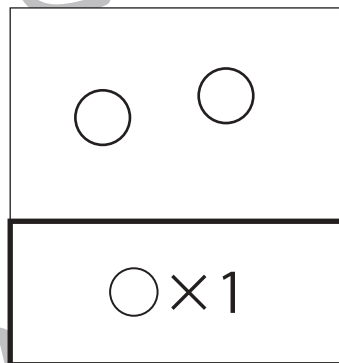
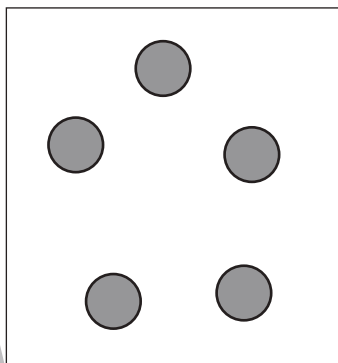
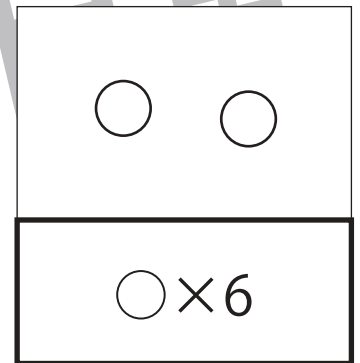
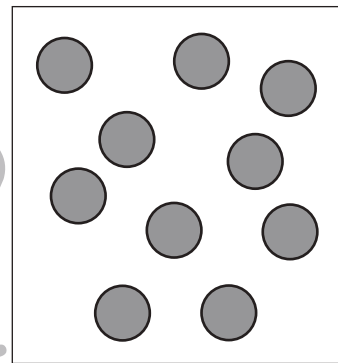
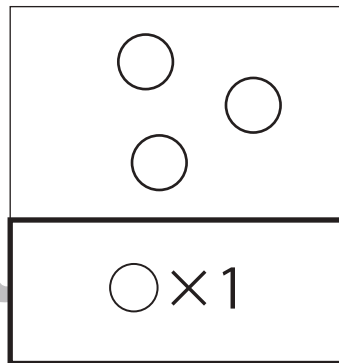
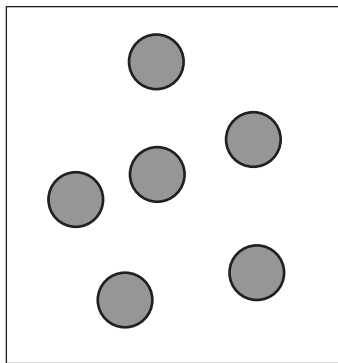


おうちで、やろう。

Study at home. 小学校受験の家庭学習教材

数量：加減 51

左の四角には灰色の丸、右の四角には白い丸があります。この2つの数を比べてたとき、白い丸が2つ少なくなるとき、足りない数だけ下の太い四角に○をかきます。



※1. このプリントは、しながわ・目黒こどもスクールのウェブサイトでダウンロードができます。無断複写・引用はご遠慮ください。
※2. このプリントを活用したオンライン授業のスケジュールは、しながわ・目黒こどもスクールのウェブサイトでご確認ください。