

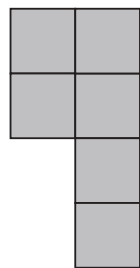


おうちで、やろう。

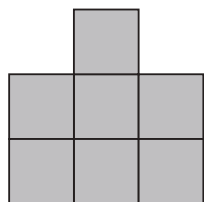

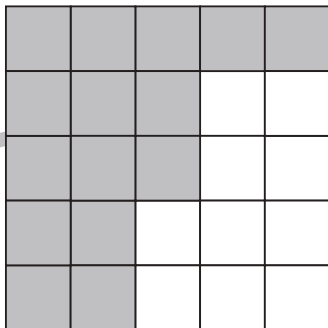
Study at home. 小学校受験の家庭学習教材

図形：構成51

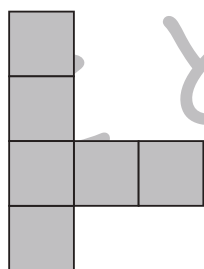

一番左のパズルの形を真ん中の白い部分にぴったりはまるように入れても足りない部分があります。その足りない部分の場所と形を考え、一番右のマスの中を塗りましょう。



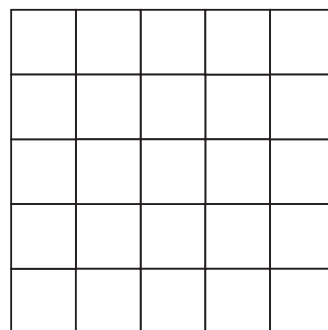

+





+



+



+



※1. このプリントは、しながわ・目黒こどもスクールのウェブサイトでダウンロードができます。無断複写・引用はご遠慮ください。
※2. このプリントを活用したオンライン授業のスケジュールは、しながわ・目黒こどもスクールのウェブサイトでご確認ください。





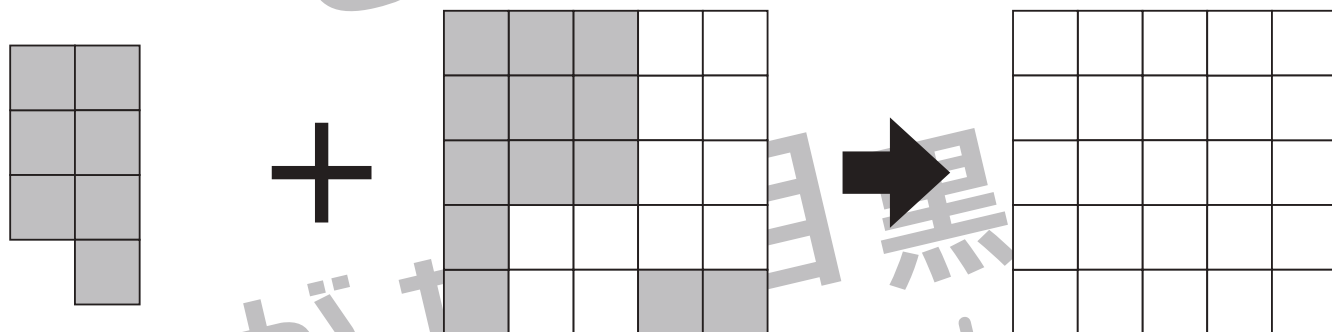



おうちで、やろう。

Study at home. 小学校受験の家庭学習教材

図形：構成 52

一番左のパズルの形を真ん中の白い部分にぴったりはまるように入れても足りない部分があります。その足りない部分の場所と形を考え、一番右のマスの中を塗りましょう。



※1. このプリントは、しながわ・目黒こどもスクールのウェブサイトでダウンロードができます。無断複写・引用はご遠慮ください。

※2. このプリントを活用したオンライン授業のスケジュールは、しながわ・目黒こどもスクールのウェブサイトでご確認ください。



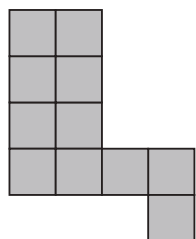

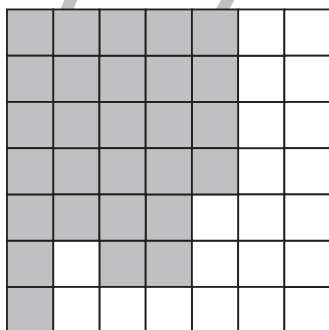
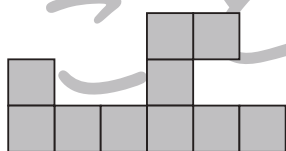

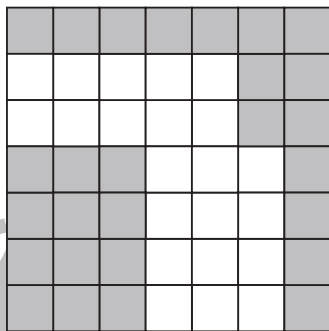
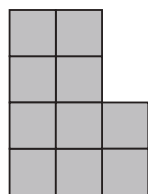

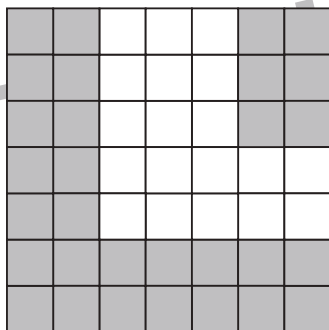



おうちで、やろう。

Study at home. 小学校受験の家庭学習教材

図形：構成 53

一番左のパズルの形を真ん中の白い部分にぴったりはまるように入れても足りない部分があります。その足りない部分の場所と形を考え、一番右のマスの中を塗りましょう。



※1. このプリントは、しながわ・目黒こどもスクールのウェブサイトでダウンロードができます。無断複写・引用はご遠慮ください。
※2. このプリントを活用したオンライン授業のスケジュールは、しながわ・目黒こどもスクールのウェブサイトでご確認ください。




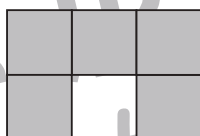

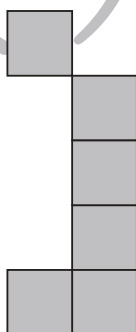


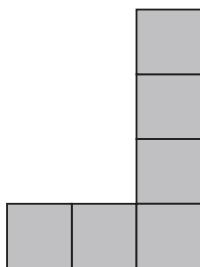


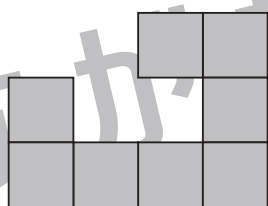



おうちで、やろう。

Study at home. 小学校受験の家庭学習教材

図形：構成 54

一番左のマスに空いている部分に矢印の右にある形をこのままの向きで入れますが、まだ完成しません。灰色のマスのパズルがあと何枚あれば完成しますか。その数だけ右の四角の中に○をかきます。



※1. このプリントは、しながわ・目黒こどもスクールのウェブサイトでダウンロードができます。無断複写・引用はご遠慮ください。
※2. このプリントを活用したオンライン授業のスケジュールは、しながわ・目黒こどもスクールのウェブサイトでご確認ください。




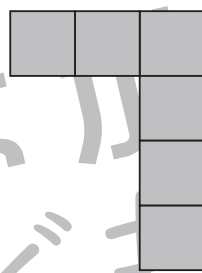

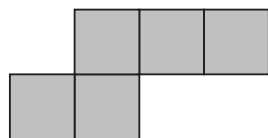

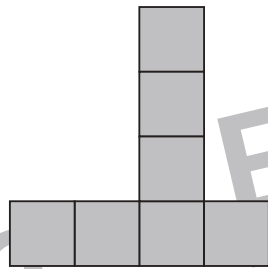
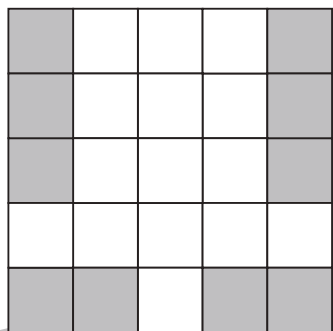
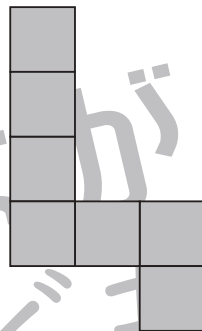



おうちで、やろう。

Study at home. 小学校受験の家庭学習教材

図形：構成 55

一番左のマスに空いている部分に矢印の右にある形をこのままの向きで入れますが、まだ完成しません。灰色のマスのパズルがあと何枚あれば完成しますか。その数だけ右の四角の中に○をかきます。



※1. このプリントは、しながわ・目黒こどもスクールのウェブサイトでダウンロードができます。無断複写・引用はご遠慮ください。
※2. このプリントを活用したオンライン授業のスケジュールは、しながわ・目黒こどもスクールのウェブサイトでご確認ください。




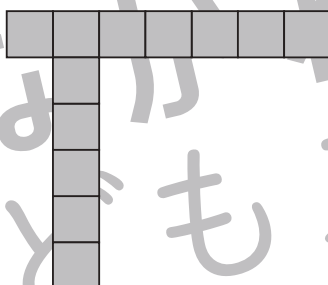
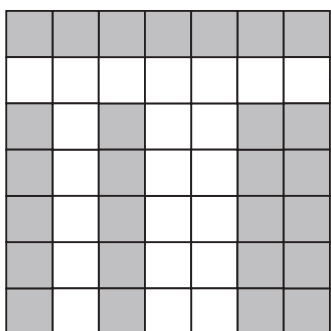
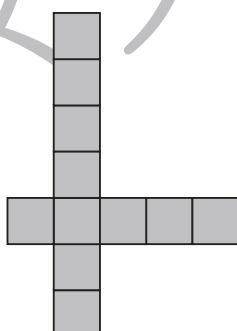
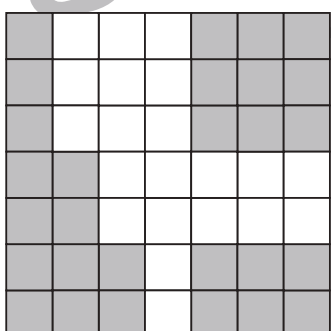
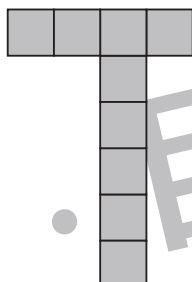
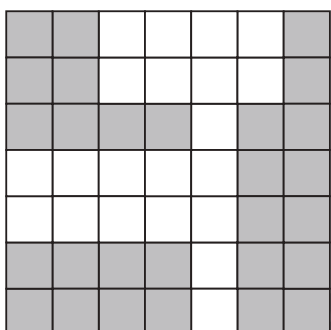

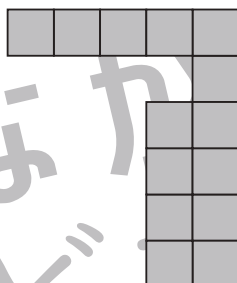
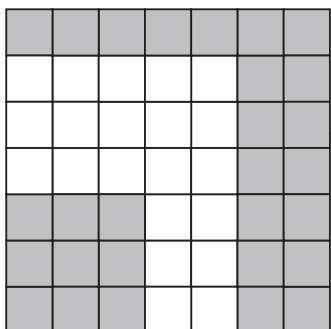


おうちで、やろう。

Study at home. 小学校受験の家庭学習教材

図形：構成 56

一番左のマスに空いている部分に矢印の右にある形をこのままの向きで入れますが、まだ完成しません。灰色のマスのパズルがあと何枚あれば完成しますか。その数だけ右の四角の中に○をかきます。



※1. このプリントは、しながわ・目黒こどもスクールのウェブサイトでダウンロードができます。無断複写・引用はご遠慮ください。
※2. このプリントを活用したオンライン授業のスケジュールは、しながわ・目黒こどもスクールのウェブサイトでご確認ください。




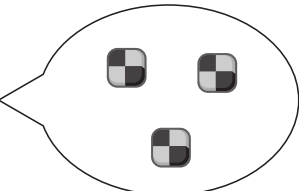







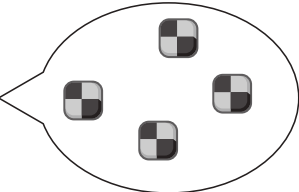









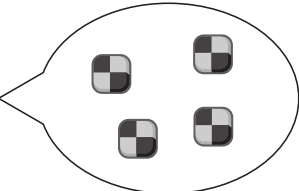







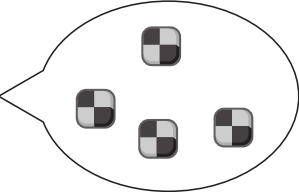






おうちで、やろう。


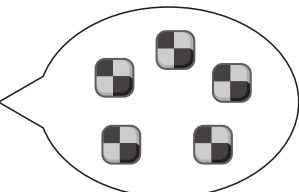







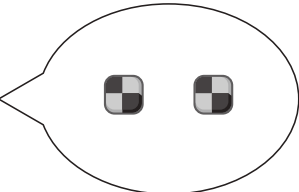






Study at home. 小学校受験の家庭学習教材


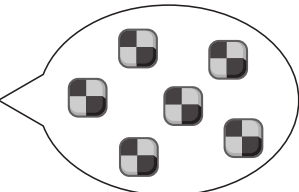







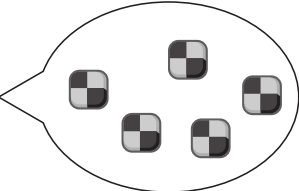






推理：じゃんけん 28

女の子と男の子が吹き出しの中の数だけクッキーを持ってじゃんけんをしました。じゃんけんで勝つと相手からクッキーを1枚もらえます。あいこのときはなにもありません。この約束のとき、上が女の子が出す手、下が男の子が出す手で5回じゃんけんをしました。最後に持っていたクッキーの数が多いのどちらですか。女の子が多いときは☆に、男の子が多いときは★に○をつけます。

		①	②	③	④	⑤	
							
		①	②	③	④	⑤	
							

		①	②	③	④	⑤	
							
		①	②	③	④	⑤	
							

		①	②	③	④	⑤	
							
		①	②	③	④	⑤	
							

		①	②	③	④	⑤	
							
		①	②	③	④	⑤	
							

※1. このプリントは、しながわ・目黒こどもスクールのウェブサイトダウンロードできます。無断複写・引用はご遠慮ください。

※2. このプリントを活用したオンライン授業のスケジュールは、しながわ・目黒こどもスクールのウェブサイトでご確認ください。


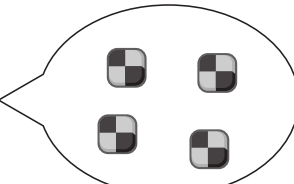







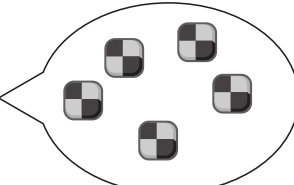









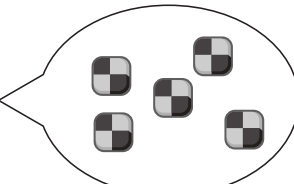







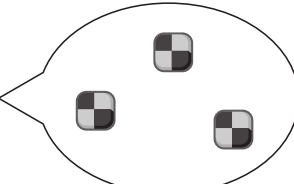






おうちで、やろう。


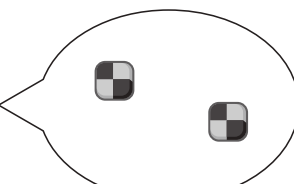







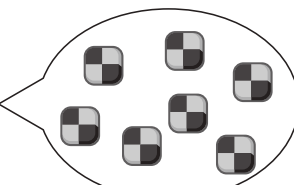






Study at home. 小学校受験の家庭学習教材


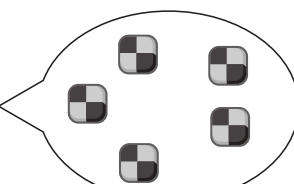







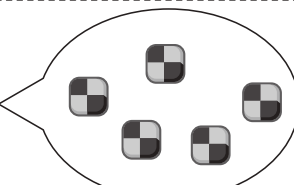






推理：じゃんけん 29

女の子と男の子が吹き出しの中の数だけクッキーを持ってじゃんけんをしました。じゃんけんで勝つと相手からクッキーを2枚もらえます。あいこのときはなにもありません。この約束のとき、上が女の子が出す手、下が男の子が出す手で5回じゃんけんをしました。最後に持っていたクッキーの数が多いのどちらですか。女の子が多いときは☆に、男の子が多いときは★に○をつけます。

		①	②	③	④	⑤	
							
		①	②	③	④	⑤	
							

		①	②	③	④	⑤	
							
		①	②	③	④	⑤	
							

		①	②	③	④	⑤	
							
		①	②	③	④	⑤	
							

		①	②	③	④	⑤	
							
		①	②	③	④	⑤	
							

※1. このプリントは、しながわ・目黒こどもスクールのウェブサイトでダウンロードができます。無断複写・引用はご遠慮ください。

※2. このプリントを活用したオンライン授業のスケジュールは、しながわ・目黒こどもスクールのウェブサイトでご確認ください。



おうちで、やろう。

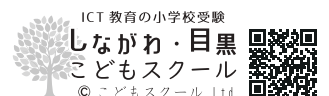
Study at home. 小学校受験の家庭学習教材

処理：運筆 29

壁にぶつからないように一周線をかきます。素早く綺麗に線をかきましょう。どこからはじめてもよいです。
この問題はスピードを意識して取り組む練習をしてみましょう。(1分～1分30秒)
※この問題に解答はありません。



※1. このプリントは、しながわ・目黒こどもスクールのウェブサイトでダウンロードができます。無断複写・引用はご遠慮ください。
※2. このプリントを活用したオンライン授業のスケジュールは、しながわ・目黒こどもスクールのウェブサイトでご確認ください。





おうちで、やろう。

Study at home. 小学校受験の家庭学習教材

処理：運筆 30

壁にぶつからないように一周線をかきます。素早く綺麗に線をかきましょう。どこからはじめてもよいです。

この問題はスピードを意識して取り組む練習をしてみましょう。(1分～1分30秒)

※この問題に解答はありません。



※1. このプリントは、しながわ・目黒こどもスクールのウェブサイトでダウンロードができます。無断複写・引用はご遠慮ください。

※2. このプリントを活用したオンライン授業のスケジュールは、しながわ・目黒こどもスクールのウェブサイトでご確認ください。