



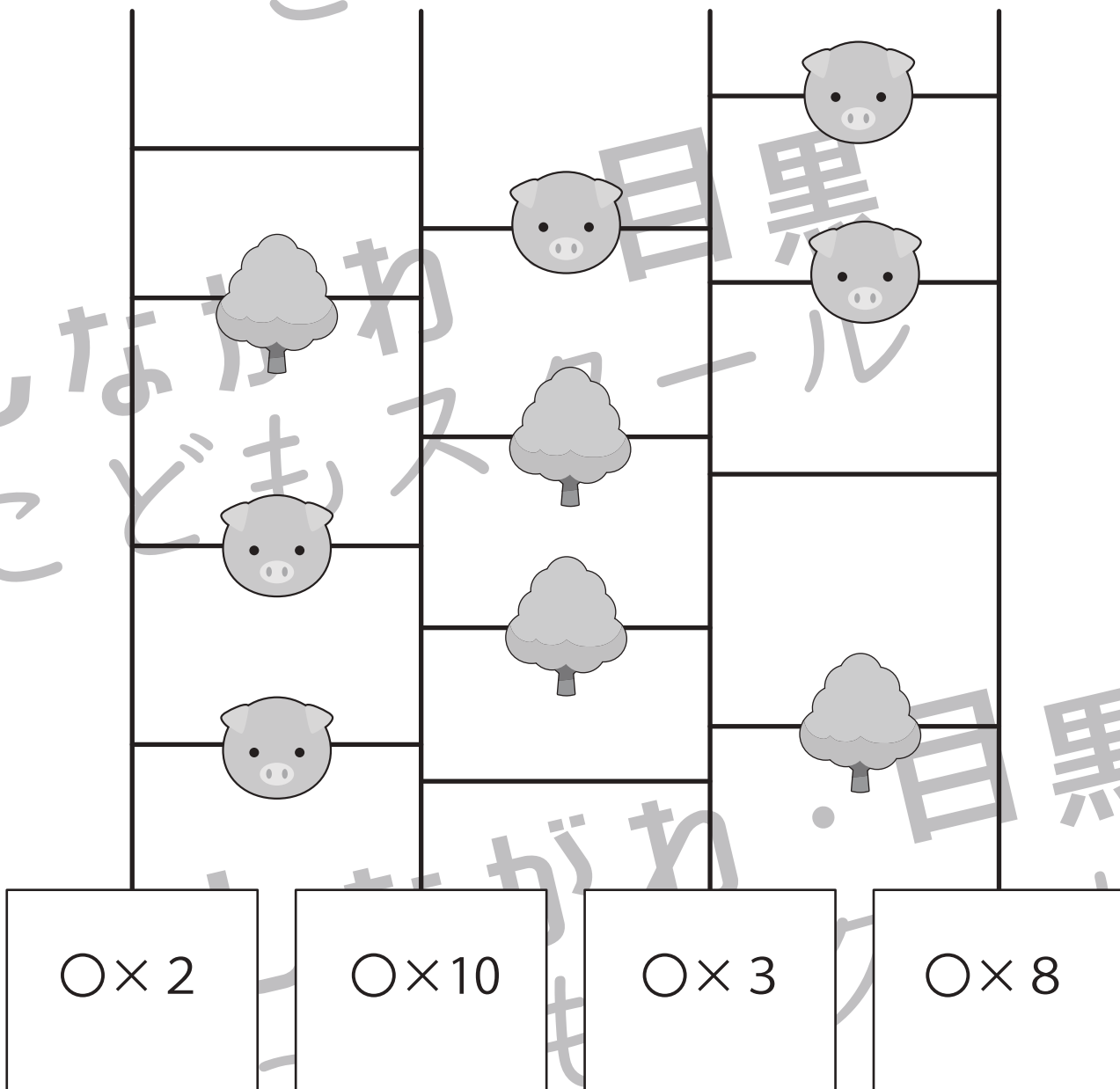

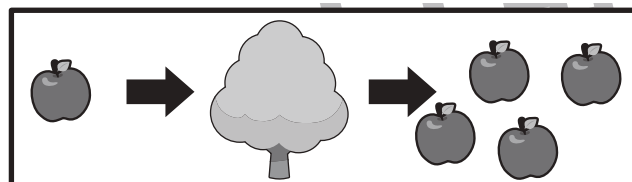

おうちで、やろう。

Study at home. 小学校受験の家庭学習教材

推理：あみだくじ 10

動物はそれぞれリンゴを持っています。あみだくじで進み、上の四角の中に描いてある絵のところを通るときはリンゴが増えたり減ったりします。あみだくじを通った後に持っていたリンゴの数だけ下の四角に○を書きます。

※あみだくじのルール：①上から下へ進みます。道は戻ってはいけません。②途中で曲がり角があったら必ず曲がります。



※1. このプリントは、しながわ・目黒こどもスクールのウェブサイトでダウンロードができます。無断複写・引用はご遠慮ください。
 ※2. このプリントを活用したオンライン授業のスケジュールは、しながわ・目黒こどもスクールのウェブサイトでご確認ください。



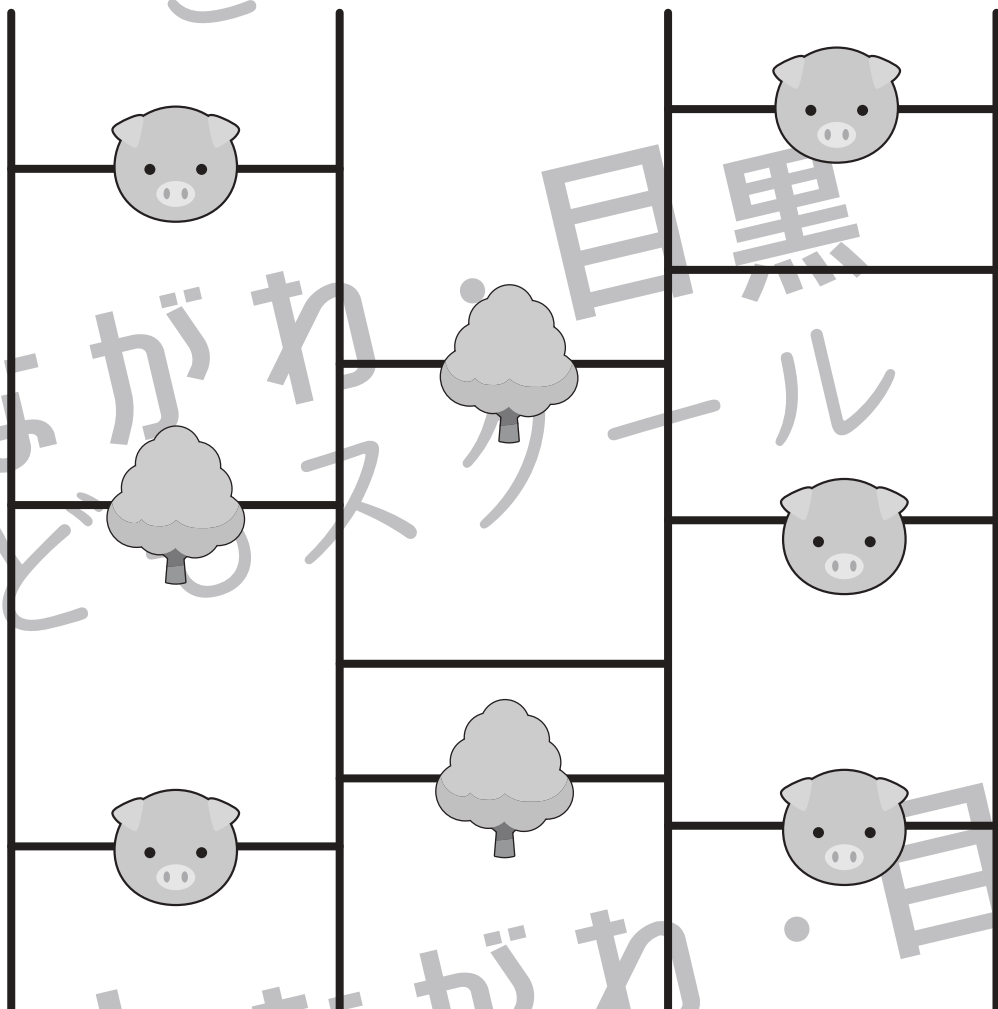


おうちで、やろう。

Study at home. 小学校受験の家庭学習教材

推理：あみだくじ 11

動物はそれぞれリンゴを持っています。あみだくじで進み、上の四角の中に描いてある絵のところを通るときはリンゴが増えたり減ったりします。あみだくじを通った後に持っていたリンゴの数だけ下の四角に○を書きます。リンゴがない場合は×をかきます。

※あみだくじのルール：①上から下へ進みます。道は戻ってはいけません。②途中で曲がり角があったら必ず曲がります。



○× 1

○× 1

×

×

※1. このプリントは、しながわ・目黒こどもスクールのウェブサイトでダウンロードができます。無断複写・引用はご遠慮ください。

※2. このプリントを活用したオンライン授業のスケジュールは、しながわ・目黒こどもスクールのウェブサイトでご確認ください。





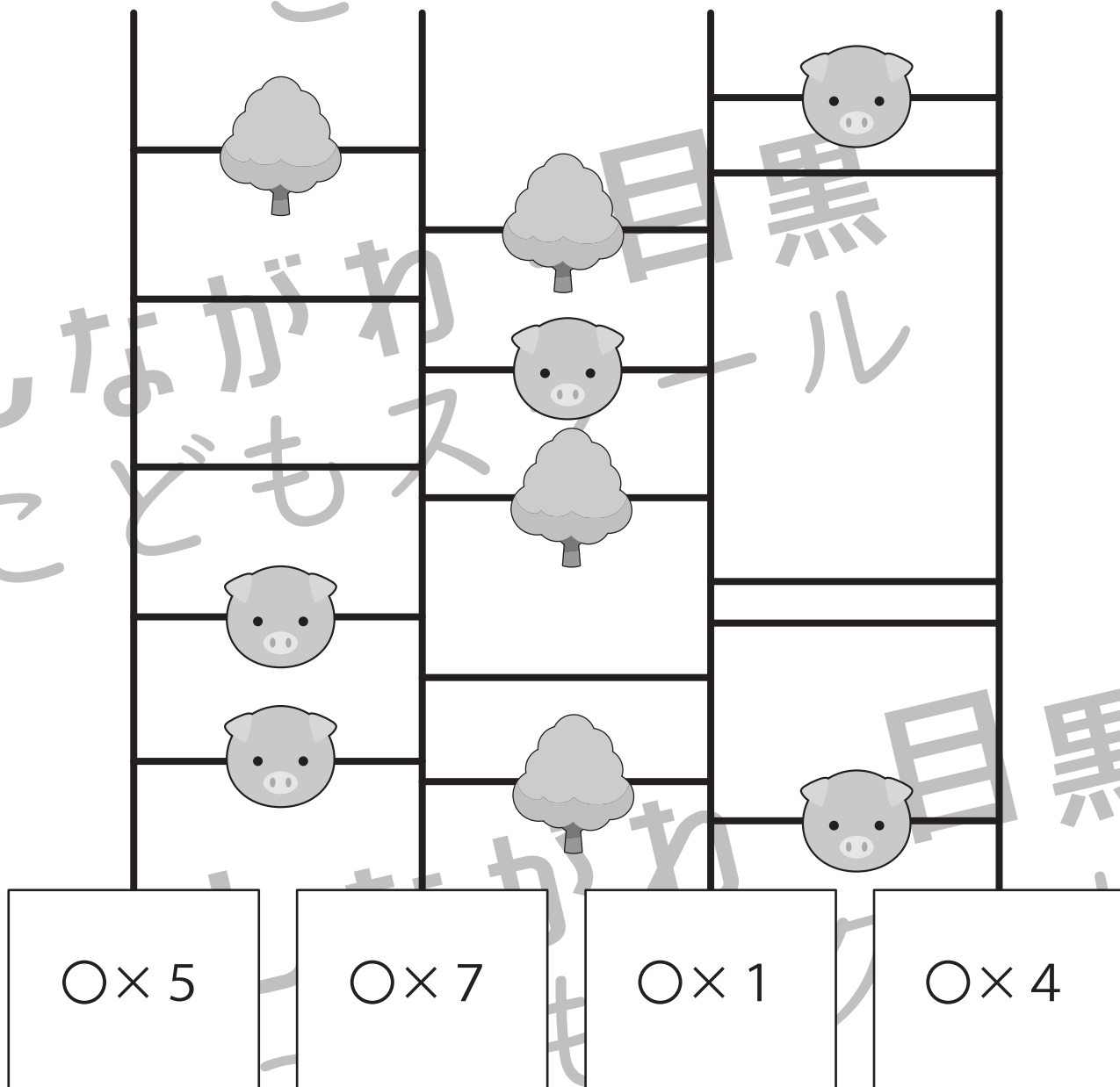


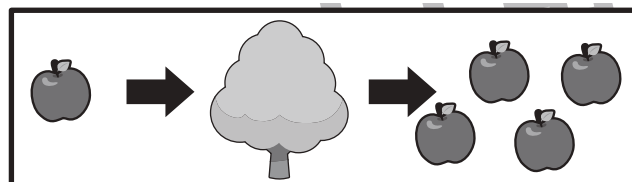

おうちで、やろう。

Study at home. 小学校受験の家庭学習教材

推理：あみだくじ 12

動物はそれぞれリンゴを持っています。あみだくじで進み、上の四角の中に描いてある絵のところを通るときはリンゴが増えたり減ったりします。あみだくじを通った後に持っていたリンゴの数だけ下の四角に○を書きます。

※あみだくじのルール：①上から下へ進みます。道は戻ってはいけません。②途中で曲がり角があったら必ず曲がります。



※1. このプリントは、しながわ・目黒こどもスクールのウェブサイトでダウンロードができます。無断複写・引用はご遠慮ください。

※2. このプリントを活用したオンライン授業のスケジュールは、しながわ・目黒こどもスクールのウェブサイトでご確認ください。

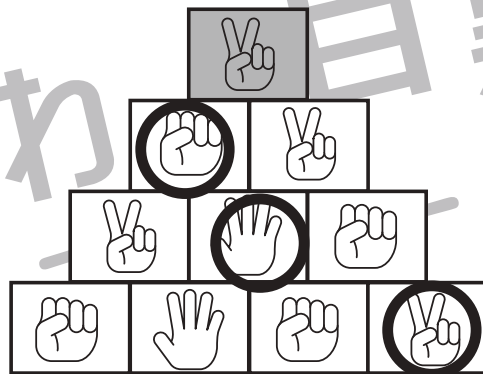
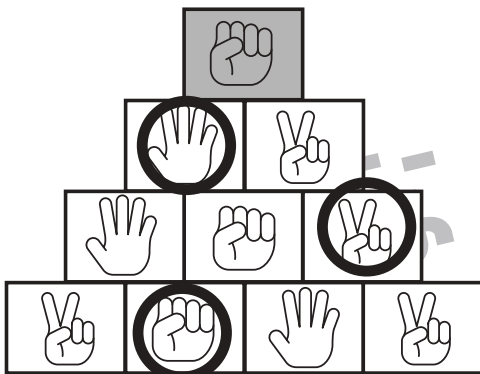
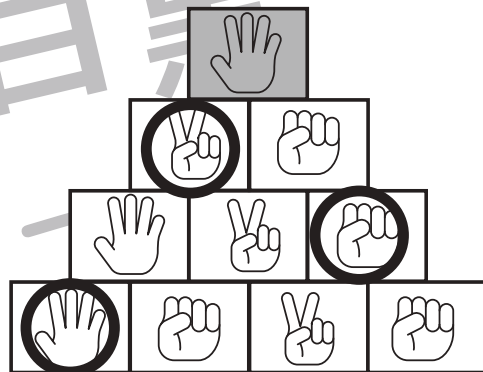
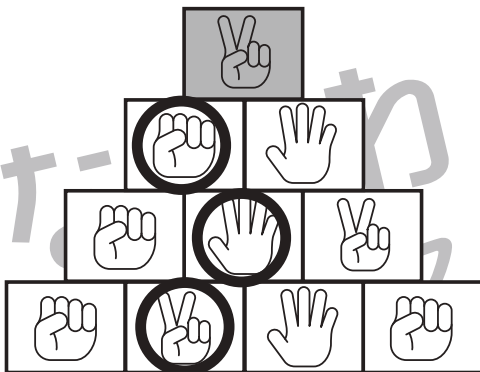
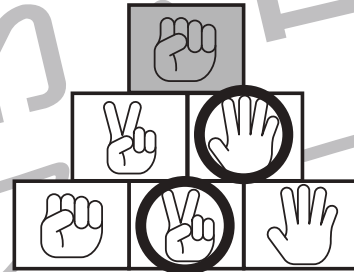
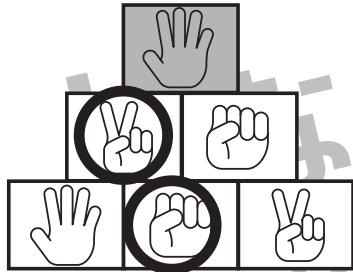


おうちで、やろう。

Study at home. 小学校受験の家庭学習教材

推理：じゃんけん 30

じゃんけんで勝つ手を探して進みます。上の灰色の四角から四角の中の手に勝つものを下の段から選んで○をつけます。上から順番に進み一番下の段までそれぞれ○をつけます。



※1. このプリントは、しながわ・目黒こどもスクールのウェブサイトでダウンロードができます。無断複写・引用はご遠慮ください。
※2. このプリントを活用したオンライン授業のスケジュールは、しながわ・目黒こどもスクールのウェブサイトでご確認ください。



おうちで、やろう。

Study at home. 小学校受験の家庭学習教材


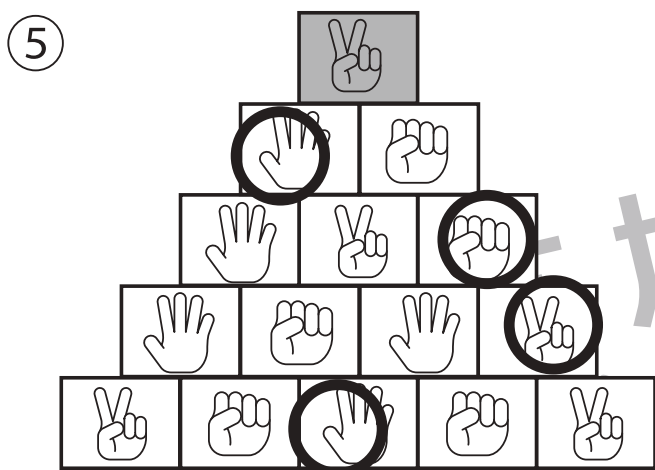
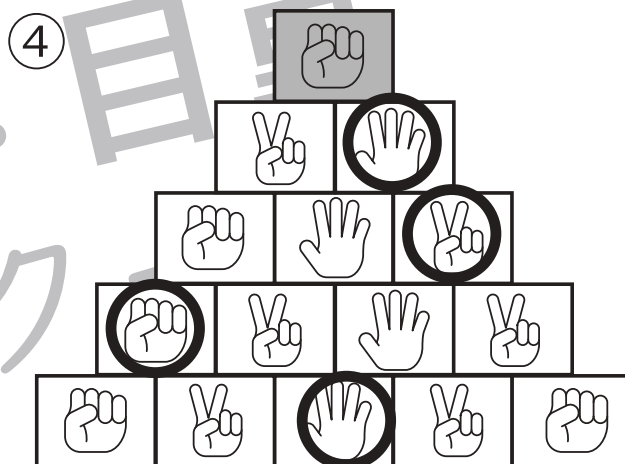
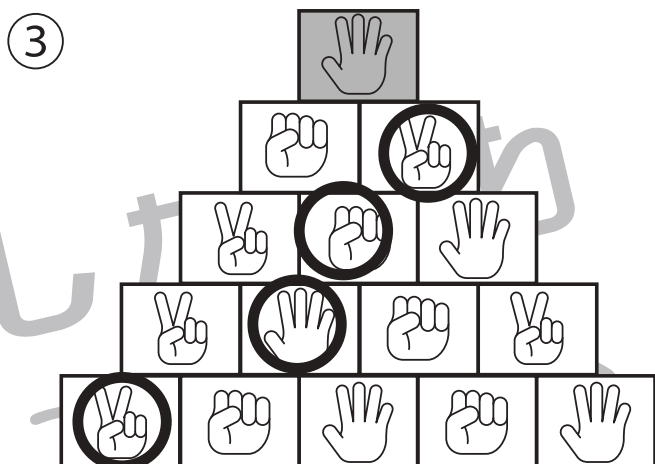
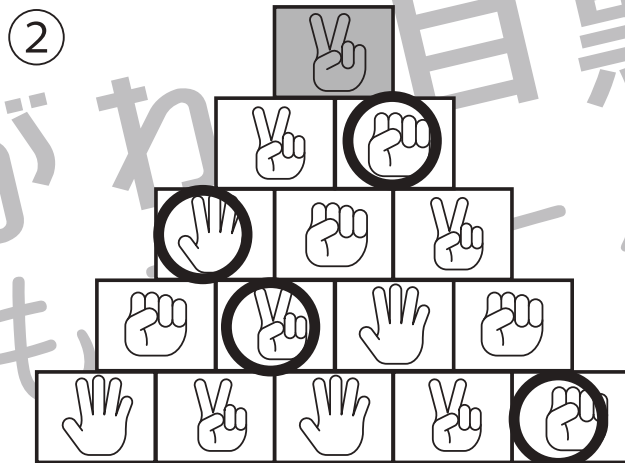
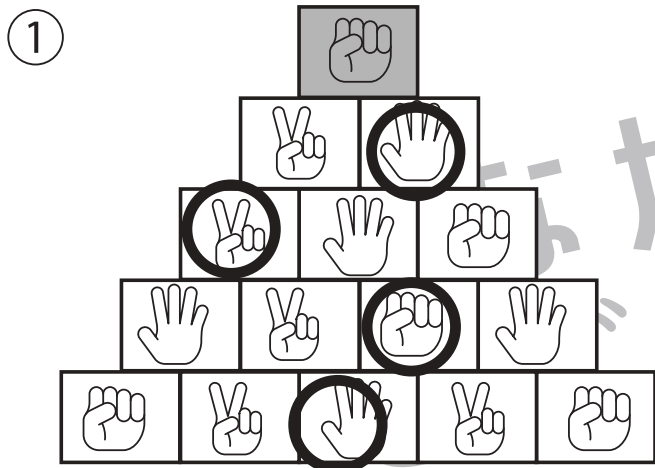
推理：じゃんけん 31

①～④じゃんけんで勝つ手を探して進みます。

①～④上の灰色の四角から四角の中の手に勝つものを下の段から選んで○をつけます。

⑤⑥上の灰色の四角から四角の中の手に負けるものを下の段から選んで○をつけます。

上から順番に進み一番下の段までそれぞれ○をつけます。



※1. このプリントは、しながわ・目黒こどもスクールのウェブサイトでダウンロードができます。無断複写・引用はご遠慮ください。

※2. このプリントを活用したオンライン授業のスケジュールは、しながわ・目黒こどもスクールのウェブサイトでご確認ください。



おうちで、やろう。

Study at home. 小学校受験の家庭学習教材

推理：条件推理 43

それぞれの四角は表が白、裏が灰色のタイルを9つ集めて並べたものです。左のお手本を矢印の先の右のようにしたとき、お手本から裏返しにしたタイルに○をつけます。

※1. このプリントは、しながわ・目黒こどもスクールのウェブサイトでダウンロードができます。無断複写・引用はご遠慮ください。
 ※2. このプリントを活用したオンライン授業のスケジュールは、しながわ・目黒こどもスクールのウェブサイトでご確認ください。



おうちで、やろう。

Study at home. 小学校受験の家庭学習教材

推理：条件推理 44

それぞれの四角は表が白、裏が灰色のタイルを9つ集めて並べたものです。左のお手本を矢印の先の右のようにしたとき、お手本から裏返しにしたタイルに○をつけます。

The puzzles are arranged in five rows and two columns. Each row contains a pair of 3x3 grids. The left grid is the 'original' state, and the right grid is the state after a 180-degree rotation. The goal is to place circles on the tiles that were originally white.

- Row 1:** Original: (1,1) white, (1,2) grey, (1,3) grey; (2,1) grey, (2,2) grey, (2,3) white; (3,1) white, (3,2) grey, (3,3) grey. Rotated: (1,1) white, (1,2) grey, (1,3) white; (2,1) grey, (2,2) grey, (2,3) white; (3,1) white, (3,2) white, (3,3) grey.
- Row 2:** Original: (1,1) white, (1,2) white, (1,3) grey; (2,1) white, (2,2) grey, (2,3) white; (3,1) grey, (3,2) white, (3,3) grey. Rotated: (1,1) white, (1,2) white, (1,3) grey; (2,1) white, (2,2) grey, (2,3) white; (3,1) grey, (3,2) white, (3,3) white.
- Row 3:** Original: (1,1) white, (1,2) white, (1,3) grey; (2,1) grey, (2,2) grey, (2,3) white; (3,1) white, (3,2) white, (3,3) grey. Rotated: (1,1) white, (1,2) white, (1,3) grey; (2,1) white, (2,2) white, (2,3) grey; (3,1) white, (3,2) white, (3,3) grey.
- Row 4:** Original: (1,1) white, (1,2) white, (1,3) grey; (2,1) grey, (2,2) grey, (2,3) white; (3,1) grey, (3,2) white, (3,3) grey. Rotated: (1,1) white, (1,2) white, (1,3) white; (2,1) grey, (2,2) grey, (2,3) white; (3,1) white, (3,2) white, (3,3) grey.
- Row 5:** Original: (1,1) white, (1,2) grey, (1,3) grey; (2,1) white, (2,2) grey, (2,3) grey; (3,1) white, (3,2) white, (3,3) white. Rotated: (1,1) white, (1,2) white, (1,3) white; (2,1) white, (2,2) grey, (2,3) white; (3,1) white, (3,2) white, (3,3) white.

※1. このプリントは、しながわ・目黒こどもスクールのウェブサイトでダウンロードができます。無断複写・引用はご遠慮ください。
※2. このプリントを活用したオンライン授業のスケジュールは、しながわ・目黒こどもスクールのウェブサイトでご確認ください。

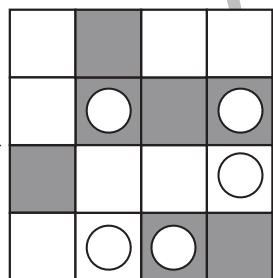

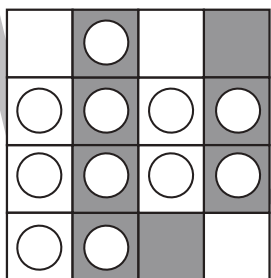

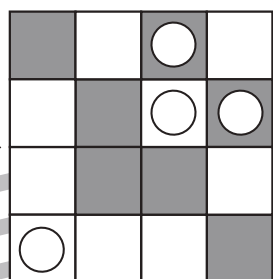

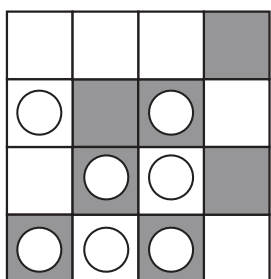

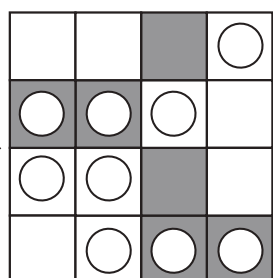

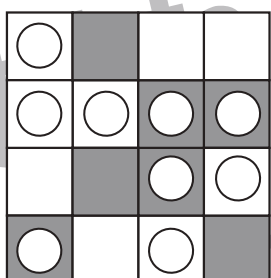

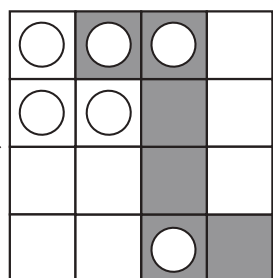

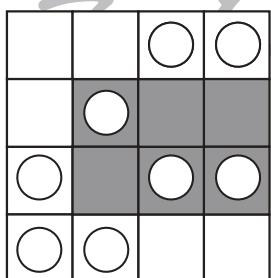

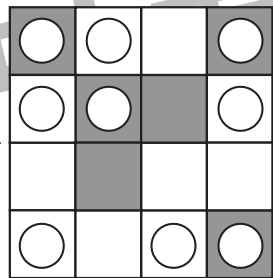

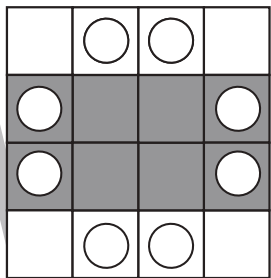
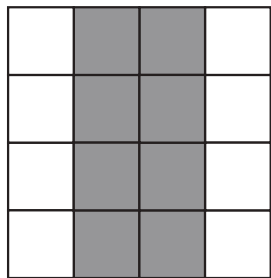


おうちで、やろう。

Study at home. 小学校受験の家庭学習教材

推理：条件推理 45

それぞれの四角は表が白、裏が灰色のタイルを 16 こ集めて並べたものです。左のお手本を矢印の先の右のようにしたとき、お手本から裏返しにしたタイルに○をつけます。



※1. このプリントは、しながわ・目黒こどもスクールのウェブサイトからダウンロードできます。無断複写・引用はご遠慮ください。
※2. このプリントを活用したオンライン授業のスケジュールは、しながわ・目黒こどもスクールのウェブサイトでご確認ください。






おうちで、やろう。

Study at home. 小学校受験の家庭学習教材

数量：複合 15

このサバンナにはいろいろな動物がいます。問題をよく聞いて答えましょう。

- ①サバンナにいるトラの数だけ四角の中に青のクーピーで○をかきます。
- ②サバンナには見えている動物は何種類の動物がいますか。その数だけ四角の中に緑のクーピーで△をかきます。
- ③キリンが1本の木の葉っぱを4頭で仲良く食べるとすると、この絵の中では何頭のキリンが木の葉っぱを食べることができますか。その数だけ四角の中に茶色のクーピーで○をかきます。
- ④草むらの中には2匹ずつの鳥が隠れていて、木の枝に3匹ずつ鳥がとまっています。それぞれの鳥を合わせると草むらと木の枝にとまっている鳥の数が多いのはどちらですか。多い方に青のクーピーで○をつけます。
- ⑤だてがみがあるお父さんライオン1頭にはそれぞれお母さんライオン1頭と子どものライオンが3頭います。この絵の中で子どものライオンの数だけ四角に緑のクーピーで○をかきます。



① 	青の○×4
② 	緑の△×7
③ 	茶色の○×12
④ 	
⑤ 	緑の○×12

※1. このプリントは、しながわ・目黒こどもスクールのウェブサイトでダウンロードができます。無断複写・引用はご遠慮ください。

※2. このプリントを活用したオンライン授業のスケジュールは、しながわ・目黒こどもスクールのウェブサイトでご確認ください。



おうちで、やろう。

Study at home. 小学校受験の家庭学習教材

処理：模写 12

左の四角がお手本です。白いマスの場所を考えて右の四角の同じ場所に○をかきます。
この問題はスピードを意識して取り組む練習をしてみましょう。(1分30秒～2分)

■	□	□	■
□	■	■	■
■	■	□	□
□	■	□	■

□	○	○	□
○	□	□	□
□	□	□	○
○	□	○	□

■	□	□	■
□	■	■	□
■	□	■	□
■	□	■	■

□	○	○	□
○	□	□	○
□	○	□	○
□	○	□	□

■	■	□	□
■	□	■	□
■	□	■	□
■	■	■	■

□	□	○	○
□	○	□	○
□	○	□	○
□	□	□	□

□	■	□	□
□	■	■	□
□	□	□	■
■	■	□	■

○	□	○	○
○	□	□	○
○	○	□	□
□	□	○	□

□	■	□	■
□	■	□	□
■	■	■	■
□	■	□	□

○	□	○	□
○	□	○	○
□	□	□	□
○	□	○	○

□	□	□	■
■	■	■	■
□	■	■	□
□	■	■	□

○	○	○	□
□	□	□	□
○	□	□	○
○	□	□	○

□	□	■	■
□	□	■	■
□	■	■	□
□	□	■	■

○	○	□	□
○	○	□	□
○	□	□	○
○	○	□	□

□	■	□	■
□	■	■	□
□	■	■	□
□	■	□	■

○	□	○	□
○	□	□	○
○	□	□	○
○	□	○	□

□	■	■	■
■	■	■	□
□	■	■	□
□	■	□	■

○	□	□	□
□	□	□	○
○	□	□	○
○	□	○	□

□	■	□	■
□	□	■	□
□	■	■	■
■	■	■	□

○	□	○	□
○	○	□	○
○	□	□	□
□	□	□	○

※1. このプリントは、しながわ・目黒こどもスクールのウェブサイトでダウンロードができます。無断複写・引用はご遠慮ください。
※2. このプリントを活用したオンライン授業のスケジュールは、しながわ・目黒こどもスクールのウェブサイトでご確認ください。