



# おうちで、やろう。

Study at home. 小学校受験の家庭学習教材

常識：なぞなぞ 10

①～⑤の問題を聞いて、下の四角の中から正しいものを選びます。


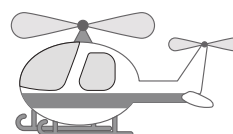
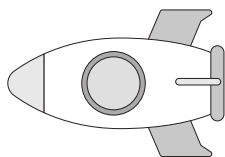
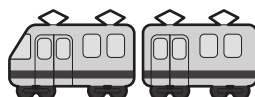


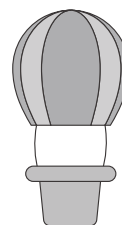

①私はゴミを集める車です。車の後ろにたくさんゴミを入れることができます。私に○をつけてください。

②私はエンジンではなく、みんなが自分の足でこいで進みます。私に△をつけてください。

③私は空を飛ぶことができます。火をつけて空気をあたためて空を飛びます。私に□をつけてください。

④私の色は赤です。火事の現場にかけつけて火を消します。私に◎をつけてください。

⑤私は建物を作るときや工事現場で活躍し、土を掘ったりします。私に×をつけてください。



※1. このプリントは、しながわ・目黒こどもスクールのウェブサイトでダウンロードができます。無断複写・引用はご遠慮ください。

※2. このプリントを活用したオンライン授業のスケジュールは、しながわ・目黒こどもスクールのウェブサイトでご確認ください。





# おうちで、やろう。

Study at home. 小学校受験の家庭学習教材

①～⑤のお話を聞いて答えましょう。


①私は動物が大好きなのでこの仕事をしています。私を真ん中の列から見つけて◎をつけます。

②私は手紙を届けて笑顔をみるのが好きでこの仕事をしています。私を左の列から見つけて△をつけます。

③私は人前で話したり、人からお話を聞くことが好きなのでこの仕事をしています。私を右の列から見つけて×をつけます。

④私は街の人を悪い人から守ったり困った人を助けたいのでこの仕事をしています。私を左の列から見つけて○をつけます。

⑤私は自分の作ったものをみんなに食べてもらいたいののでこの仕事をしています。私を右の列から見つけて□をつけます。



※1. このプリントは、しながわ・目黒こどもスクールのウェブサイトからダウンロードができます。無断複写・引用はご遠慮ください。


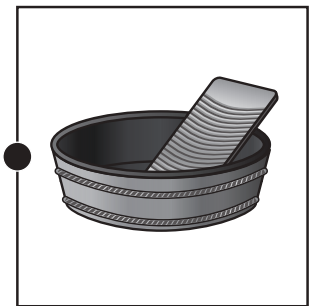


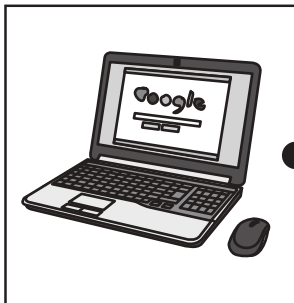
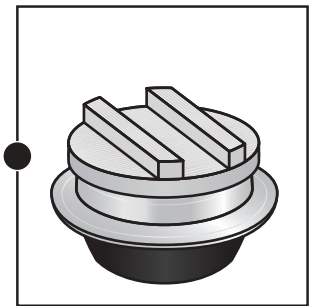

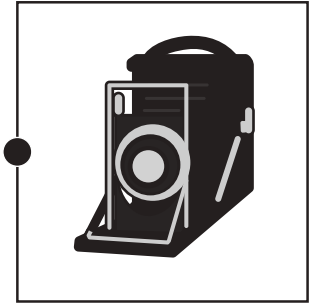
※2. このプリントを活用したオンライン授業のスケジュールは、しながわ・目黒こどもスクールのウェブサイトでご確認ください。



# おうちで、やろう。

Study at home. 小学校受験の家庭学習教材

左は今使っているものです。右は昔使っていたものです。(今も使っているものもあります。)  
左と右で同じように使うもの同士をみつけて点と点を線で結びます。



※1. このプリントは、しながわ・目黒こどもスクールのウェブサイトからダウンロードできます。無断複写・引用はご遠慮ください。  
※2. このプリントを活用したオンライン授業のスケジュールは、しながわ・目黒こどもスクールのウェブサイトでご確認ください。





# おうちで、やろう。

Study at home. 小学校受験の家庭学習教材

## 図形：回転重ね 10

2枚の四角は透明です。上の四角の角にある丸が下の四角の角にある丸に重なるように回転させてからから重ねます。2枚を重ねた後の見え方を考えて下の四角に模様をかきます。


※1. このプリントは、しながわ・目黒こどもスクールのウェブサイトでダウンロードができます。無断複写・引用はご遠慮ください。

※2. このプリントを活用したオンライン授業のスケジュールは、しながわ・目黒こどもスクールのウェブサイトでご確認ください。



# おうちで、やろう。

Study at home. 小学校受験の家庭学習教材

## 図形：回転重ね 11

2枚の四角は透明です。上の四角の角にある丸が下の四角の角にある丸に重なるように回転させてから重ねます。2枚を重ねた後の見え方を考えて下の四角に模様をかきます。


※1. このプリントは、しながわ・目黒こどもスクールのウェブサイトでダウンロードができます。無断複写・引用はご遠慮ください。

※2. このプリントを活用したオンライン授業のスケジュールは、しながわ・目黒こどもスクールのウェブサイトでご確認ください。



# おうちで、やろう。

Study at home. 小学校受験の家庭学習教材

## 図形：同図形 14

左の太い枠の形がお手本です。右の四角の中の4つの形のうち、お手本と同じ形を見つけて○をつけます。向きが変わっているものもありますので気をつけましょう。


※1. このプリントは、しながわ・目黒こどもスクールのウェブサイトからダウンロードできます。無断複写・引用はご遠慮ください。

※2. このプリントを活用したオンライン授業のスケジュールは、しながわ・目黒こどもスクールのウェブサイトでご確認ください。



# おうちで、やろう。

Study at home. 小学校受験の家庭学習教材

## 図形：同図形 15

左の太い枠の形がお手本です。右の四角の中の4つの形のうち、お手本と同じ形を見つけて○をつけます。向きが変わっているものもありますので気をつけましょう。


※1. このプリントは、しながわ・目黒こどもスクールのウェブサイトでダウンロードができます。無断複写・引用はご遠慮ください。

※2. このプリントを活用したオンライン授業のスケジュールは、しながわ・目黒こどもスクールのウェブサイトでご確認ください。



# おうちで、やろう。

Study at home. 小学校受験の家庭学習教材

数量：同数 28

それぞれの四角の中にはマフラーと帽子がたくさんあります。  
マフラーの数と、帽子の数がどちらも同じ四角を探して2つ〇をつけましょう。


※1. このプリントは、しながわ・目黒こどもスクールのウェブサイトでダウンロードができます。無断複写・引用はご遠慮ください。

※2. このプリントを活用したオンライン授業のスケジュールは、しながわ・目黒こどもスクールのウェブサイトでご確認ください。





# おうちで、やろう。

Study at home. 小学校受験の家庭学習教材

数量：同数 29

それぞれの四角の中には手袋と帽子とマフラーがたくさんあります。  
手袋の数、帽子の数、マフラーの数全てが同じ四角を探して2つ0をつきましょう


※1. このプリントは、しながわ・目黒こどもスクールのウェブサイトからダウンロードできます。無断複写・引用はご遠慮ください。

※2. このプリントを活用したオンライン授業のスケジュールは、しながわ・目黒こどもスクールのウェブサイトでご確認ください。

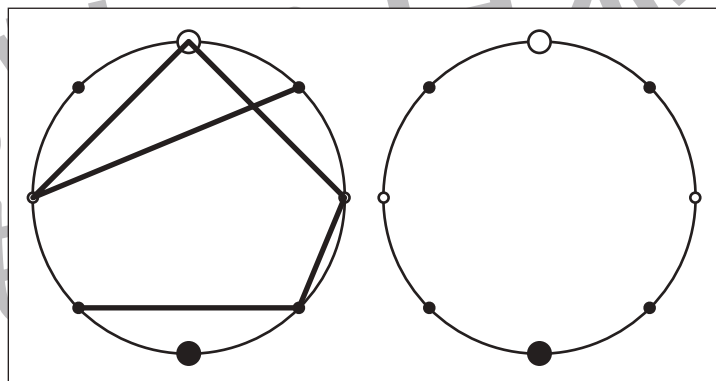
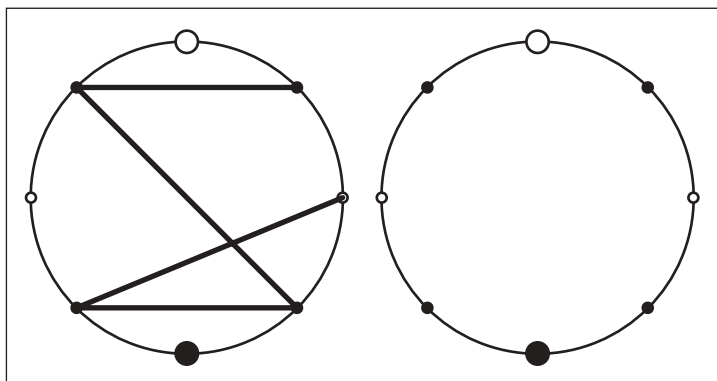
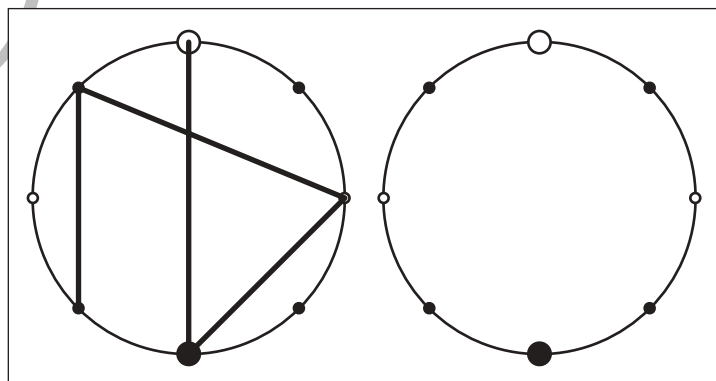
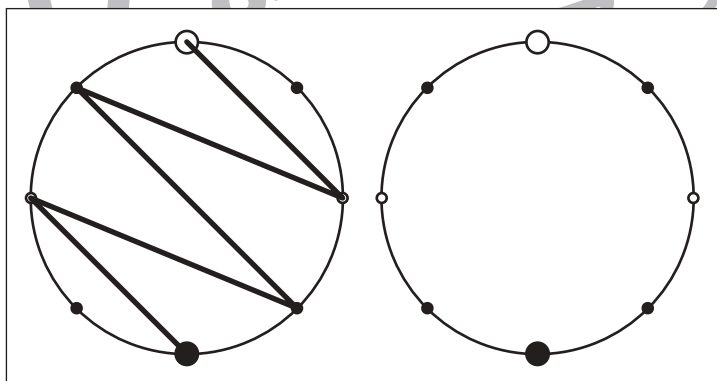
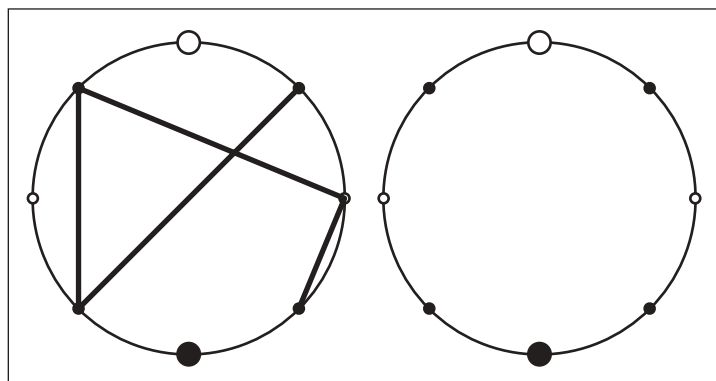
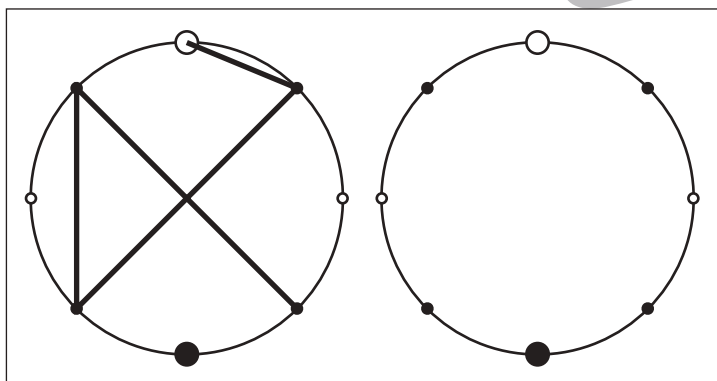
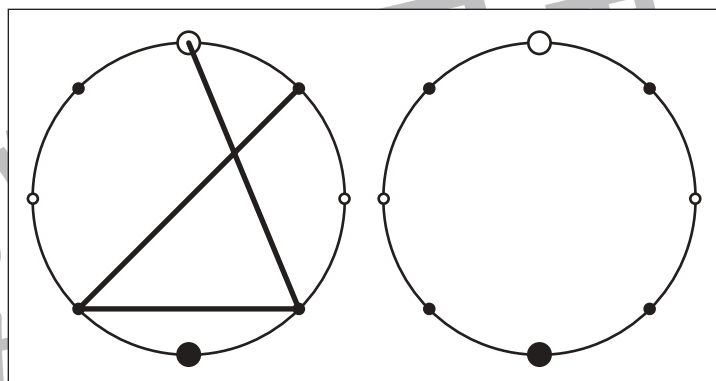
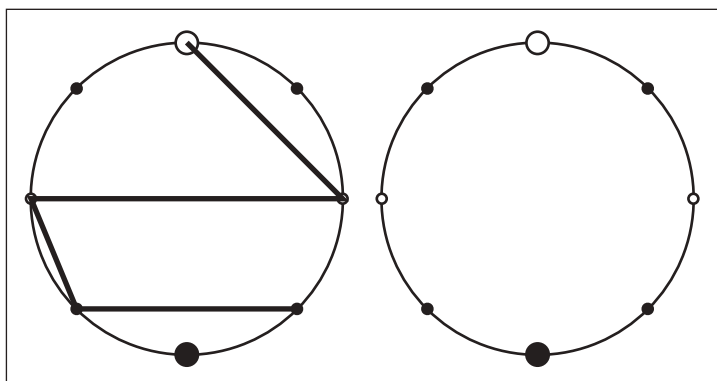


# おうちで、やろう。

Study at home. 小学校受験の家庭学習教材

## 図形：点図形 68

左のお手本を見て、右にそっくり描き写しましょう。※このプリントに解答はありません。



※1. このプリントは、しながわ・目黒こどもスクールのウェブサイトでダウンロードができます。無断複写・引用はご遠慮ください。  
※2. このプリントを活用したオンライン授業のスケジュールは、しながわ・目黒こどもスクールのウェブサイトでご確認ください。