

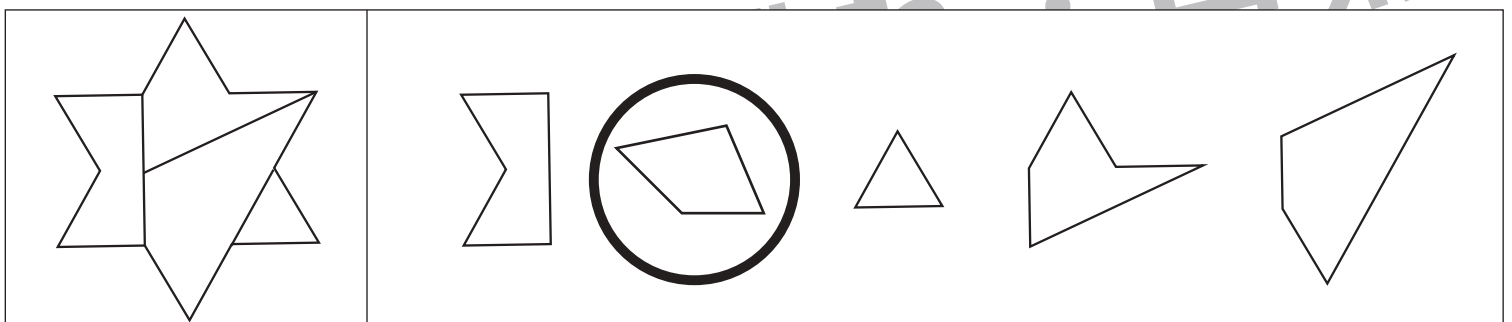
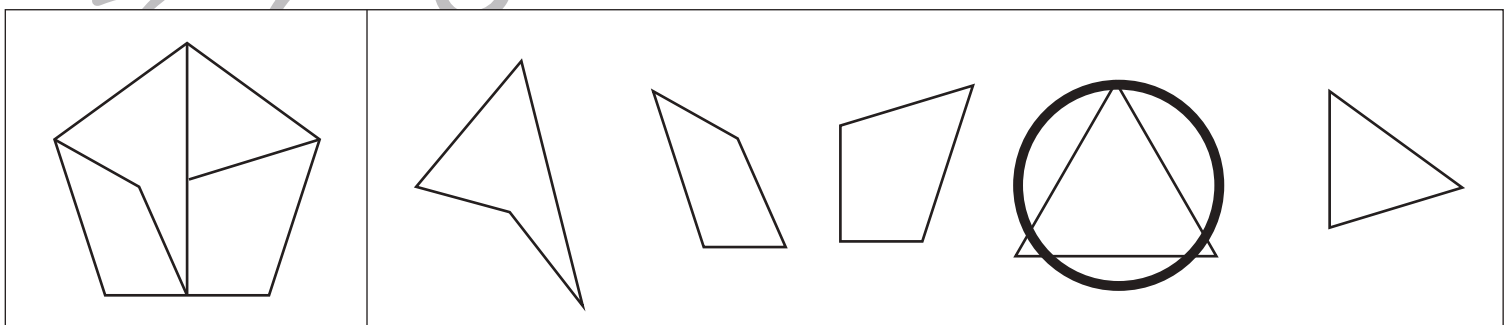
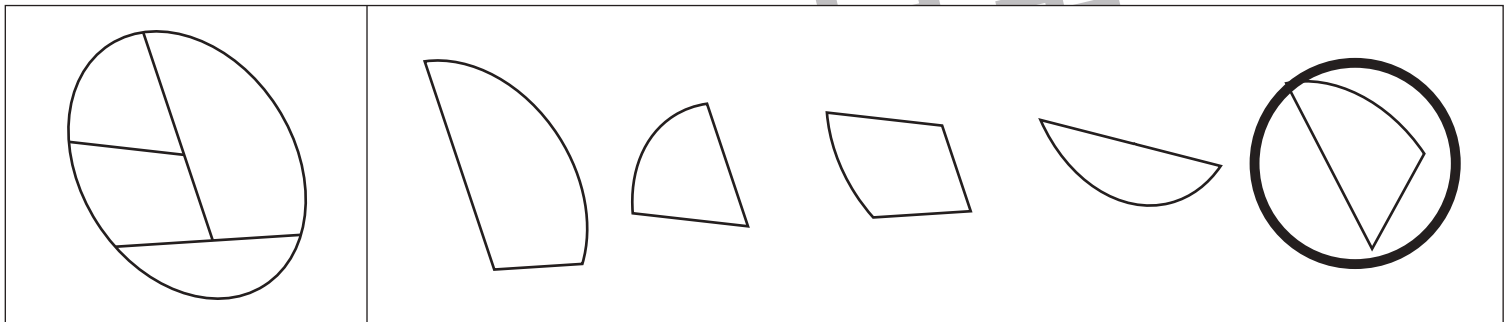
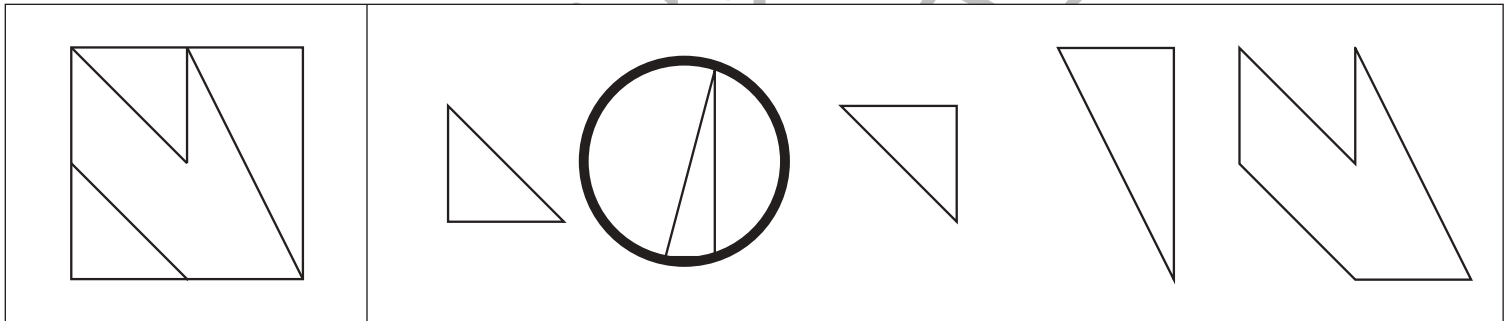
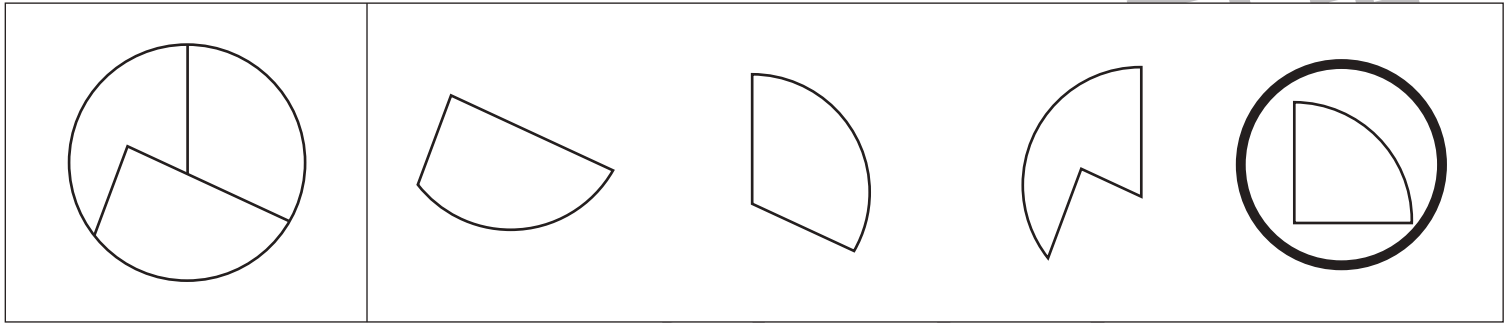


おうちで、やろう。

Study at home. 小学校受験の家庭学習教材

図形：構成 57

左の四角を切ってパズルを作っていたときに、間違えて他のパズルが1つ混ざってしまいました。
使わないパズルを右の四角の中から1つ選び、○をつけましょう。



※1. このプリントは、しながわ・目黒こどもスクールのウェブサイトでダウンロードができます。無断複写・引用はご遠慮ください。
 ※2. このプリントを活用したオンライン授業のスケジュールは、しながわ・目黒こどもスクールのウェブサイトでご確認ください。



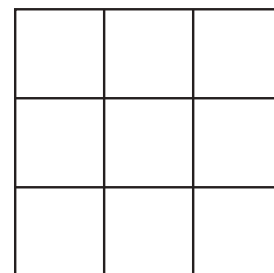

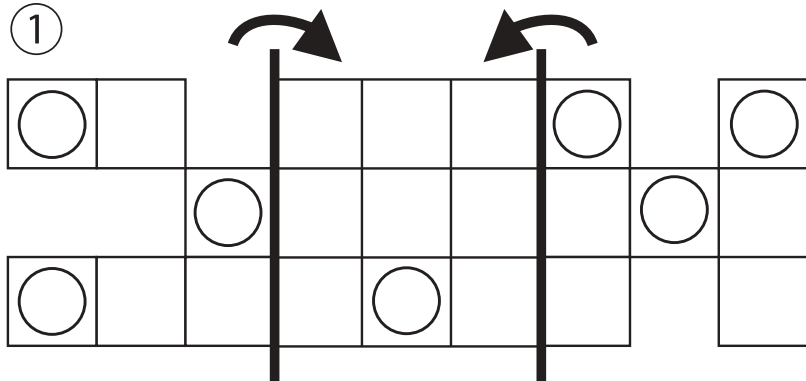
おうちで、やろう。

Study at home. 小学校受験の家庭学習教材

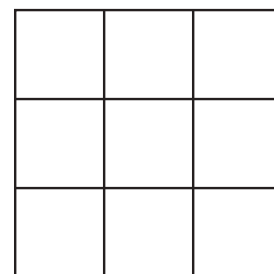

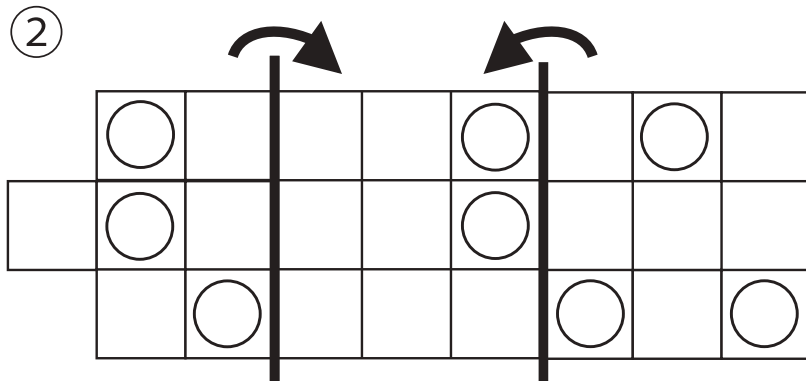
図形：折り重ね 61

太い線で矢印の方向へ折り重ねた時の見え方を考えます。このとき、○がないマスはどこですか。その場所を考えてすぐ右の四角のマス塗りします。もし間違えてしまったら、右端の四角のマスを塗りましょう。

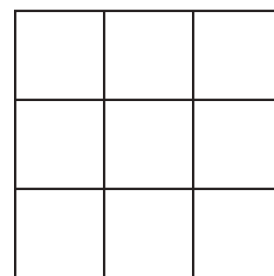

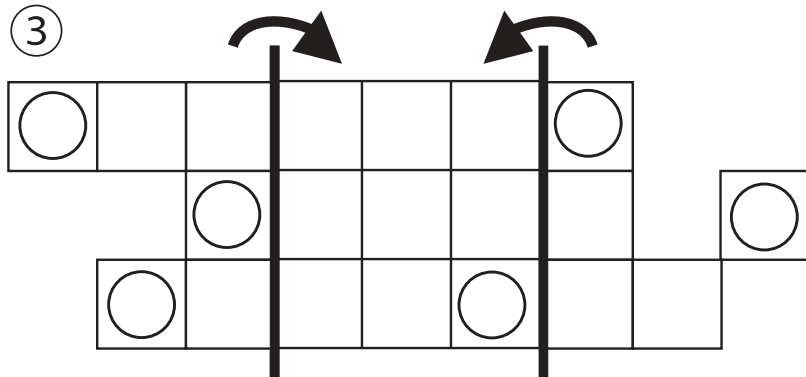
①



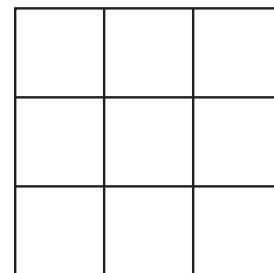

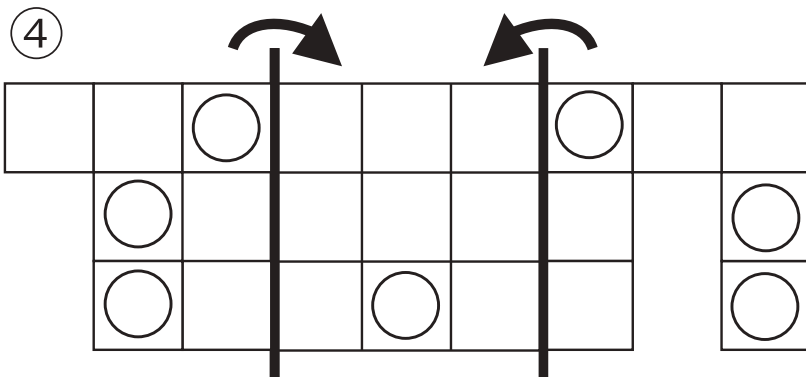
②



③



④



※1. このプリントは、しながわ・目黒こどもスクールのウェブサイトでダウンロードができます。無断複写・引用はご遠慮ください。

※2. このプリントを活用したオンライン授業のスケジュールは、しながわ・目黒こどもスクールのウェブサイトでご確認ください。





おうちで、やろう。

Study at home. 小学校受験の家庭学習教材

図形：折り重ね 62

太い線で矢印の方向へ折り重ねた時の見え方を考えます。このとき、○がないマスはどこですか。その場所を考えてすぐ右の四角のマス塗りします。もし間違えてしまったら、右端の四角のマスを塗りましょう。

①

②

③

④

※1. このプリントは、しながわ・目黒こどもスクールのウェブサイトでダウンロードができます。無断複写・引用はご遠慮ください。
 ※2. このプリントを活用したオンライン授業のスケジュールは、しながわ・目黒こどもスクールのウェブサイトでご確認ください。



おうちで、やろう。

Study at home. 小学校受験の家庭学習教材

図形：折り重ね 63

太い線で矢印の方向へ折り重ねた時の見え方を考えます。このとき、○がないマスはどこですか。その場所を考えてすぐ右の四角のマスを塗ります。もし間違えてしまったら、右端の四角のマスを塗りましょう。

①

②

③

④

※1. このプリントは、しながわ・目黒こどもスクールのウェブサイトでダウンロードができます。無断複写・引用はご遠慮ください。

※2. このプリントを活用したオンライン授業のスケジュールは、しながわ・目黒こどもスクールのウェブサイトでご確認ください。



おうちで、やろう。

Study at home. 小学校受験の家庭学習教材

数量：加減 52

バスの中には外で待っている人より、2人少ない人が乗っています。バスの中の人と外で並んで待っている人は合わせて何人でしょうか。その数の数だけ下の四角の中に○をかきます。

$\bigcirc \times 6$

$\bigcirc \times 8$

$\bigcirc \times 10$

$\bigcirc \times 12$

袋の中には外に出ているみかんより、2つ多い数が入っています。袋の中と袋の外に出ているみかんは合わせていくつでしょうか。その数だけ下の四角の中に○をかきます。

$\bigcirc \times 6$

$\bigcirc \times 8$

$\bigcirc \times 12$

$\bigcirc \times 14$

※1. このプリントは、しながわ・目黒こどもスクールのウェブサイトでダウンロードができます。無断複写・引用はご遠慮ください。
 ※2. このプリントを活用したオンライン授業のスケジュールは、しながわ・目黒こどもスクールのウェブサイトでご確認ください。




おうちで、やろう。


Study at home. 小学校受験の家庭学習教材

数量：加減 53


バスの中には外で待っている人と同じ人数が乗っています。並んでいる人のうち半分の人がバスに乗るとバスに乗っている人は全部で何人になりますか。その数だけ下の四角の中に○をかきます。




$\bigcirc \times 6$



$\bigcirc \times 9$

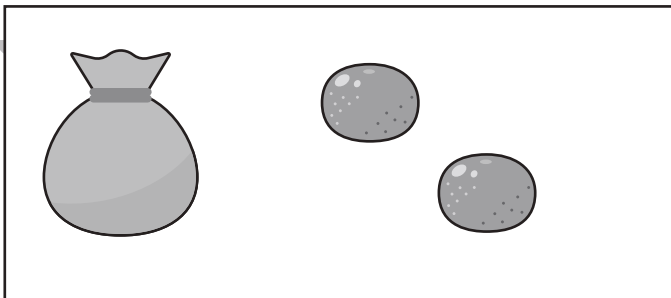


$\bigcirc \times 12$

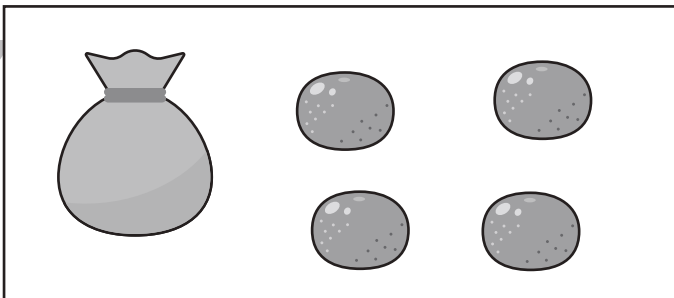


$\bigcirc \times 15$

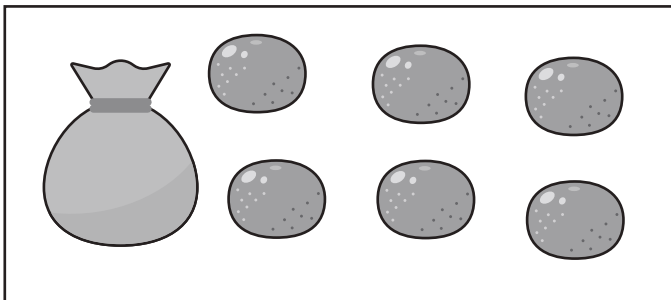
袋の中には外に出ているみかんより、2つ多い数が入っています。袋の中のみかんを2人で仲良く分けると1人分はいくつになりますか。その数だけ下の四角に○をかきます。



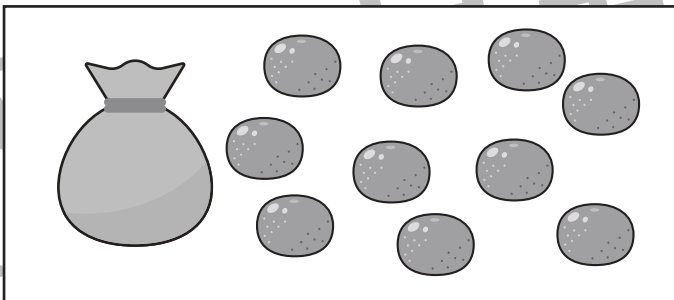
$\bigcirc \times 2$



$\bigcirc \times 3$



$\bigcirc \times 4$



$\bigcirc \times 6$

※1. このプリントは、しながわ・目黒こどもスクールのウェブサイトからダウンロードできます。無断複写・引用はご遠慮ください。

※2. このプリントを活用したオンライン授業のスケジュールは、しながわ・目黒こどもスクールのウェブサイトでご確認ください。