



おうちで、やろう。

Study at home. 小学校受験の家庭学習教材

図形：構成 58

左の2つの形を、右の四角の中に向きをかえずにそのままピタリ入れます。
どのように入れればよいか考えて、右の四角の点線をなぞります。

--	--

--	--

--	--

--	--

※1. このプリントは、しながわ・目黒こどもスクールのウェブサイトでダウンロードができます。無断複写・引用はご遠慮ください。
 ※2. このプリントを活用したオンライン授業のスケジュールは、しながわ・目黒こどもスクールのウェブサイトでご確認ください。



おうちで、やろう。

Study at home. 小学校受験の家庭学習教材

図形：構成 59

左の2つの形を、右の四角の中に向きをかえずにそのままピッタリ入れます。
どのように入れればよいか考えて、右の四角の点線をなぞります。

--	--

--	--

--	--

--	--

※1. このプリントは、しながわ・目黒こどもスクールのウェブサイトでダウンロードができます。無断複写・引用はご遠慮ください。
 ※2. このプリントを活用したオンライン授業のスケジュールは、しながわ・目黒こどもスクールのウェブサイトでご確認ください。



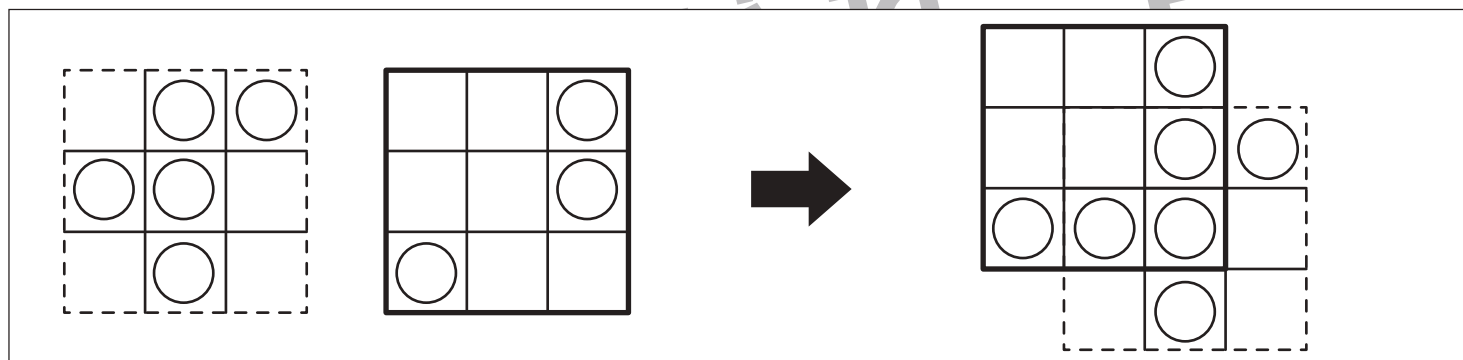
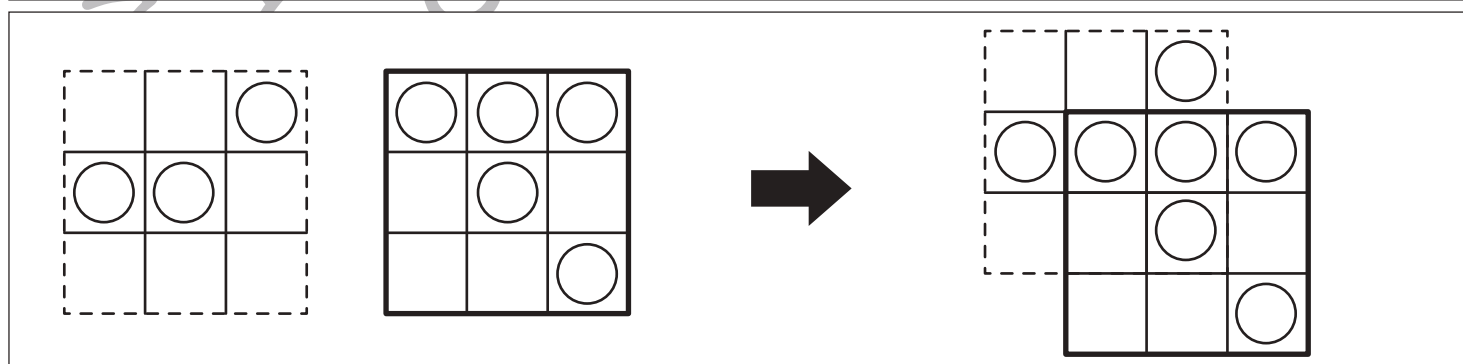
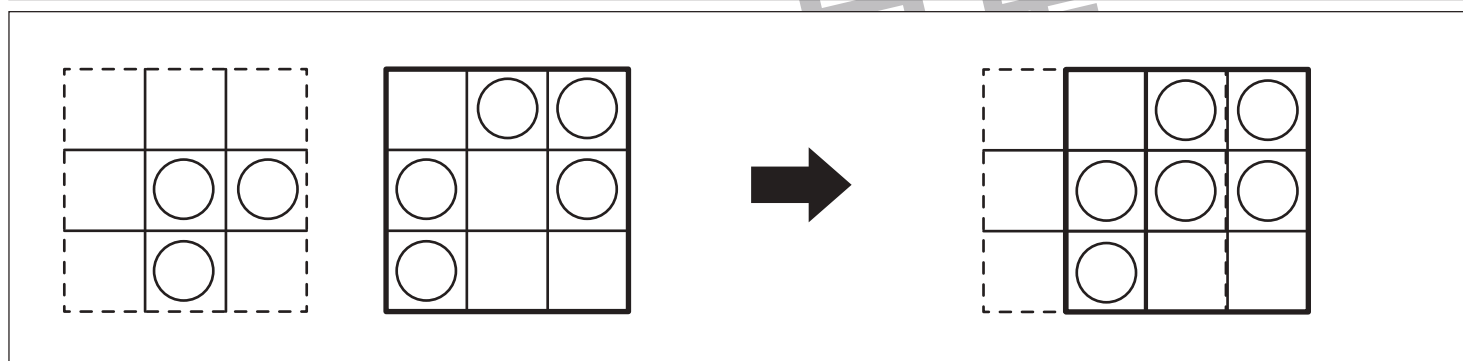
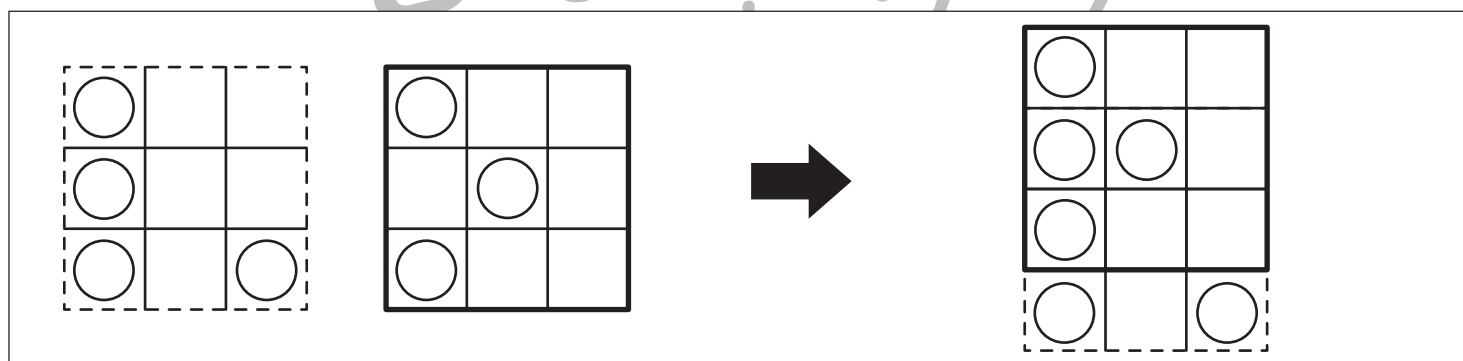
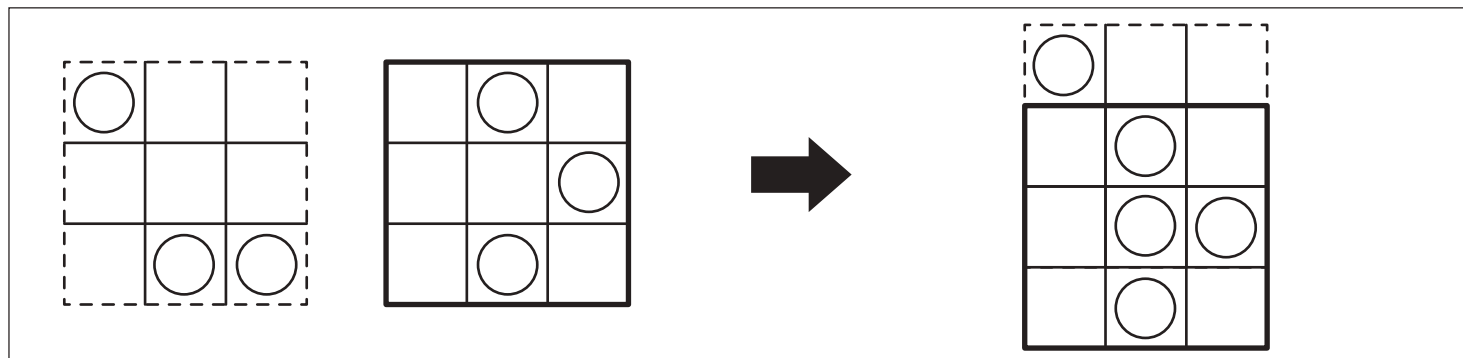
おうちで、やろう。

Study at home. 小学校受験の家庭学習教材

図形：重ね 43

矢印の左の四角は2枚の板は透明です。

この2枚の板を矢印の右のようにずらして重ねたときの見え方を考えて右の四角に○をかきます。



※1. このプリントは、しながわ・目黒こどもスクールのウェブサイトでダウンロードができます。無断複写・引用はご遠慮ください。

※2. このプリントを活用したオンライン授業のスケジュールは、しながわ・目黒こどもスクールのウェブサイトでご確認ください。



おうちで、やろう。

Study at home. 小学校受験の家庭学習教材

図形：重ね 44

矢印の左の四角は2枚の板は透明です。

この2枚の板を矢印の右のようにずらして重ねたときの見え方を考えて右の四角に○をかきます。

		→	
--	--	---	--

		→	
--	--	---	--

		→	
--	--	---	--

		→	
--	--	---	--

		→	
--	--	---	--

※1. このプリントは、しながわ・目黒こどもスクールのウェブサイトでダウンロードができます。無断複写・引用はご遠慮ください。

※2. このプリントを活用したオンライン授業のスケジュールは、しながわ・目黒こどもスクールのウェブサイトでご確認ください。



おうちで、やろう。

Study at home. 小学校受験の家庭学習教材

図形：重ね 45

矢印の左の四角は2枚の板は透明です。

この2枚の板を矢印の右のようにずらして重ねたときの見え方を考えて右の四角に○をかきます。

		→	
--	--	---	--

		→	
--	--	---	--

		→	
--	--	---	--

		→	
--	--	---	--

		→	
--	--	---	--

※1. このプリントは、しながわ・目黒こどもスクールのウェブサイトでダウンロードができます。無断複写・引用はご遠慮ください。

※2. このプリントを活用したオンライン授業のスケジュールは、しながわ・目黒こどもスクールのウェブサイトでご確認ください。



おうちで、やろう。

Study at home. 小学校受験の家庭学習教材

数量：長さ 18

上の太い四角がお手本です。白い棒は灰色の棒が2つ分の長さです。

- ①四角の中の棒の長さを合わせてお手本と同じ長さになるものに○をつけます。
- ②四角の中の棒の長さを合わせたとき、一番長くなるものに△をつけます。

※1. このプリントは、しながわ・目黒こどもスクールのウェブサイトでダウンロードができます。無断複写・引用はご遠慮ください。
 ※2. このプリントを活用したオンライン授業のスケジュールは、しながわ・目黒こどもスクールのウェブサイトでご確認ください。



おうちで、やろう。

Study at home. 小学校受験の家庭学習教材

数量：長さ 19

上の太い四角がお手本です。白い棒は灰色の棒が3つ分の長さです。

- ①四角の中の棒の長さを合わせてお手本と同じ長さになるものに○をつけます。
- ②四角の中の棒の長さを合わせたとき、一番長くなるものに△をつけます。

※1. このプリントは、しながわ・目黒こどもスクールのウェブサイトでダウンロードができます。無断複写・引用はご遠慮ください。
 ※2. このプリントを活用したオンライン授業のスケジュールは、しながわ・目黒こどもスクールのウェブサイトでご確認ください。




おうちで、やろう。

Study at home. 小学校受験の家庭学習教材

処理：計数 20

上の四角の中の絵の数をかぞえて、黒い記号はかぞえた数よりも3つ多く、白い記号はかぞえた数より3つ少なく同じ絵の右にかきます。この問題はスピードを意識して取り組む練習をしてみましょう。(1分～1分30秒)



○×10



○×9



○×3



○×11

※1. このプリントは、しながわ・目黒こどもスクールのウェブサイトでダウンロードができます。無断複写・引用はご遠慮ください。
※2. このプリントを活用したオンライン授業のスケジュールは、しながわ・目黒こどもスクールのウェブサイトでご確認ください。