



# おうちで、よろう。

Study at home. 小学校受験の家庭学習教材

## 図形：鏡 37

左の太い四角の中の形を鏡に映したときの見え方を考えます。正しいものを右の四角の中から選んで○をつけます。

<table border="1"> <tr><td>●</td><td>○</td></tr> <tr><td>○</td><td>●</td></tr> </table>	●	○	○	●	<table border="1"> <tr><td>○</td><td>●</td></tr> <tr><td>●</td><td>○</td></tr> </table>	○	●	●	○	<table border="1"> <tr><td>○</td><td>●</td></tr> <tr><td>○</td><td>○</td></tr> </table>	○	●	○	○	<table border="1"> <tr><td>●</td><td>○</td></tr> <tr><td>○</td><td>●</td></tr> </table>	●	○	○	●	<table border="1"> <tr><td>○</td><td>●</td></tr> <tr><td>●</td><td>●</td></tr> </table>	○	●	●	●
●	○																							
○	●																							
○	●																							
●	○																							
○	●																							
○	○																							
●	○																							
○	●																							
○	●																							
●	●																							

<table border="1"> <tr><td>●</td><td>□</td></tr> <tr><td>○</td><td>○</td></tr> </table>	●	□	○	○	<table border="1"> <tr><td>●</td><td>□</td></tr> <tr><td>○</td><td>○</td></tr> </table>	●	□	○	○	<table border="1"> <tr><td>□</td><td>●</td></tr> <tr><td>○</td><td>●</td></tr> </table>	□	●	○	●	<table border="1"> <tr><td>□</td><td>●</td></tr> <tr><td>○</td><td>○</td></tr> </table>	□	●	○	○	<table border="1"> <tr><td>○</td><td>□</td></tr> <tr><td>○</td><td>●</td></tr> </table>	○	□	○	●
●	□																							
○	○																							
●	□																							
○	○																							
□	●																							
○	●																							
□	●																							
○	○																							
○	□																							
○	●																							

<table border="1"> <tr><td>□</td><td>○</td></tr> <tr><td>△</td><td>●</td></tr> </table>	□	○	△	●	<table border="1"> <tr><td>○</td><td>□</td></tr> <tr><td>●</td><td>△</td></tr> </table>	○	□	●	△	<table border="1"> <tr><td>○</td><td>□</td></tr> <tr><td>●</td><td>△</td></tr> </table>	○	□	●	△	<table border="1"> <tr><td>□</td><td>○</td></tr> <tr><td>●</td><td>△</td></tr> </table>	□	○	●	△	<table border="1"> <tr><td>○</td><td>□</td></tr> <tr><td>△</td><td>●</td></tr> </table>	○	□	△	●
□	○																							
△	●																							
○	□																							
●	△																							
○	□																							
●	△																							
□	○																							
●	△																							
○	□																							
△	●																							

<table border="1"> <tr><td>△</td><td>●</td></tr> <tr><td>●</td><td>○</td></tr> </table>	△	●	●	○	<table border="1"> <tr><td>●</td><td>△</td></tr> <tr><td>○</td><td>●</td></tr> </table>	●	△	○	●	<table border="1"> <tr><td>●</td><td>△</td></tr> <tr><td>○</td><td>○</td></tr> </table>	●	△	○	○	<table border="1"> <tr><td>●</td><td>△</td></tr> <tr><td>●</td><td>○</td></tr> </table>	●	△	●	○	<table border="1"> <tr><td>●</td><td>▽</td></tr> <tr><td>○</td><td>●</td></tr> </table>	●	▽	○	●
△	●																							
●	○																							
●	△																							
○	●																							
●	△																							
○	○																							
●	△																							
●	○																							
●	▽																							
○	●																							

<table border="1"> <tr><td>○</td><td>△</td></tr> <tr><td>△</td><td>●</td></tr> </table>	○	△	△	●	<table border="1"> <tr><td>○</td><td>△</td></tr> <tr><td>△</td><td>●</td></tr> </table>	○	△	△	●	<table border="1"> <tr><td>△</td><td>●</td></tr> <tr><td>○</td><td>△</td></tr> </table>	△	●	○	△	<table border="1"> <tr><td>△</td><td>○</td></tr> <tr><td>●</td><td>△</td></tr> </table>	△	○	●	△	<table border="1"> <tr><td>△</td><td>○</td></tr> <tr><td>●</td><td>△</td></tr> </table>	△	○	●	△
○	△																							
△	●																							
○	△																							
△	●																							
△	●																							
○	△																							
△	○																							
●	△																							
△	○																							
●	△																							

※1. このプリントは、しながわ・目黒こどもスクールのウェブサイトでダウンロードができます。無断複写・引用はご遠慮ください。  
 ※2. このプリントを活用したオンライン授業のスケジュールは、しながわ・目黒こどもスクールのウェブサイトでご確認ください。



# おうちで、やろう。

Study at home. 小学校受験の家庭学習教材

左の太い四角の中の形を鏡に映したときの見え方を考えます。正しいものを右の四角の中から選んで○をつけます。

--	--	--	--	--

--	--	--	--	--

--	--	--	--	--

--	--	--	--	--

--	--	--	--	--

※1. このプリントは、しながわ・目黒こどもスクールのウェブサイトでダウンロードができます。無断複写・引用はご遠慮ください。  
 ※2. このプリントを活用したオンライン授業のスケジュールは、しながわ・目黒こどもスクールのウェブサイトでご確認ください。



# おうちで、やろう。

Study at home. 小学校受験の家庭学習教材

## 図形：鏡 39

左の太い四角の中の形を鏡に映したときの見え方を考えます。正しいものを右の四角の中から選んで○をつけます。

--	--	--	--	--

--	--	--	--	--

--	--	--	--	--

--	--	--	--	--

--	--	--	--	--

※1. このプリントは、しながわ・目黒こどもスクールのウェブサイトでダウンロードができます。無断複写・引用はご遠慮ください。  
 ※2. このプリントを活用したオンライン授業のスケジュールは、しながわ・目黒こどもスクールのウェブサイトでご確認ください。



# おうちで、やろう。

Study at home. 小学校受験の家庭学習教材

図形：構成 60

左側の四角の中の形を合わせると打のような形になりますか。右から選んで○をつけます。  
形は向きを変えても良いですが、裏返してはいけません。


※1. このプリントは、しながわ・目黒こどもスクールのウェブサイトでダウンロードができます。無断複写・引用はご遠慮ください。  
 ※2. このプリントを活用したオンライン授業のスケジュールは、しながわ・目黒こどもスクールのウェブサイトでご確認ください。



# おうちで、やろう。

Study at home. 小学校受験の家庭学習教材

図形：構成 61

左側の四角の中の形を合わせると打のような形になりますか。右から選んで○をつけます。  
形は向きを変えても良いですが、裏返してはいけません。


※1. このプリントは、しながわ・目黒こどもスクールのウェブサイトからダウンロードできます。無断複写・引用はご遠慮ください。  
 ※2. このプリントを活用したオンライン授業のスケジュールは、しながわ・目黒こどもスクールのウェブサイトでご確認ください。



# おうちで、やろう。

Study at home. 小学校受験の家庭学習教材

図形：構成 62

左の絵がお手本です。右のパズルを使って左の絵を作るときに使わないパズルがあります。そのパズルに○をつけましょう。


※1. このプリントは、しながわ・目黒こどもスクールのウェブサイトからダウンロードできます。無断複写・引用はご遠慮ください。

※2. このプリントを活用したオンライン授業のスケジュールは、しながわ・目黒こどもスクールのウェブサイトでご確認ください。




# おうちで、やろう。


Study at home. 小学校受験の家庭学習教材

数量：多少 16


四つの四角の中には動物の絵が描いてあります。この中で2番目に多い動物の数だけ下のマス目に○を書きます。




--	--	--	--	--	--	--	--	--	--



--	--	--	--	--	--	--	--	--	--



--	--	--	--	--	--	--	--	--	--



--	--	--	--	--	--	--	--	--	--

※1. このプリントは、しながわ・目黒こどもスクールのウェブサイトからダウンロードできます。無断複写・引用はご遠慮ください。

※2. このプリントを活用したオンライン授業のスケジュールは、しながわ・目黒こどもスクールのウェブサイトでご確認ください。



# おうちで、やろう。

Study at home. 小学校受験の家庭学習教材

数量：多少 17

四つの四角の中には動物の絵が描いてあります。この中で3番目に少ない動物の数だけ下のマス目に○を書きます。





※1. このプリントは、しながわ・目黒こどもスクールのウェブサイトからダウンロードできます。無断複写・引用はご遠慮ください。  
 ※2. このプリントを活用したオンライン授業のスケジュールは、しながわ・目黒こどもスクールのウェブサイトでご確認ください。













# おうちで、やろう。





Study at home. 小学校受験の家庭学習教材





数量：多少 18

四つの四角の中には動物の絵が描いてあります。一番多い動物と一番少ない動物の数の違いだけ〇をかきます。

※1. このプリントは、しながわ・目黒こどもスクールのウェブサイトでダウンロードができます。無断複写・引用はご遠慮ください。

※2. このプリントを活用したオンライン授業のスケジュールは、しながわ・目黒こどもスクールのウェブサイトでご確認ください。



# おうちで、やろう。


Study at home. 小学校受験の家庭学習教材

処理：運筆 32

壁にぶつからないように一周線をかきます。素早く綺麗に線をかきましょう。どこからはじめてもよいです。

この問題はスピードを意識して取り組む練習をしてみましょう。(1分～1分30秒)

※この問題に解答はありません。



※1. このプリントは、しながわ・目黒こどもスクールのウェブサイトでダウンロードができます。無断複写・引用はご遠慮ください。

※2. このプリントを活用したオンライン授業のスケジュールは、しながわ・目黒こどもスクールのウェブサイトでご確認ください。