



# おうちで、やろう。

Study at home. 小学校受験の家庭学習教材

## 図形：移動 68

それぞれ上の四角が約束です。白丸と黒丸は矢印の方向へマスで 1 マス進みます。この約束で下のマスの中の白丸と黒丸が☆の数だけマスを進みます。進んだ後の場所を考えて右のマスにかきます。

(1) 

○	←	●	→
---	---	---	---

☆
---

		○	
		●	
●			
○			


(5) 

○	↗	●	↓
---	---	---	---

☆
---

○			●
○			●


(2) 

○	→	●	←
---	---	---	---

☆
---

○			
			●
		●	
	○		


(6) 

○	↖	●	→
---	---	---	---

☆
---

●		○	
	●		
		○	


(3) 

○	←	●	↓
---	---	---	---

☆
---

●			
		●	○
		○	


(7) 

○	←	●	↖
---	---	---	---

☆
---

	○	○	●
			●


(3) 

○	↑	●	→
---	---	---	---

☆
---

		●	
●	○		
○			


(8) 

○	↖	●	↗
---	---	---	---

☆
---

●	○		
●	○		


※1. このプリントは、しながわ・目黒こどもスクールのウェブサイトでダウンロードができます。無断複写・引用はご遠慮ください。  
 ※2. このプリントを活用したオンライン授業のスケジュールは、しながわ・目黒こどもスクールのウェブサイトでご確認ください。



# おうちで、やろう。

Study at home. 小学校受験の家庭学習教材

## 図形：移動 69

それぞれ上の四角が約束です。白丸と黒丸は矢印の方向へマスを進みます。この約束で下のマスの中の白丸と黒丸が☆の数だけマスを進みます。進んだ後の場所を考えて右のマスにかきます。

(1) 

○	←	●	↑
---	---	---	---

☆
---

		○	
			●
●		●	
	○	○	


(5) 

○	↖	●	→
---	---	---	---

☆	☆	☆
---	---	---

●			
●			○


(2) 

○	→	●	↓
---	---	---	---

☆	☆
---	---

○	●	●	●
○	○		


(6) 

○	↑	●	↘
---	---	---	---

☆	☆
---	---

	●		
●	●		
		○	
○	○		


(3) 

○	←	●	↑
---	---	---	---

☆	☆
---	---

	●	○	○
●	●		○


(7) 

○	↖	●	↗
---	---	---	---

☆	☆
---	---

		○	
			○
●			
●	●		


(3) 

○	↘	●	→
---	---	---	---

☆
---

○			
○		○	
	●		
●		●	


(8) 

○	↖	●	↘
---	---	---	---

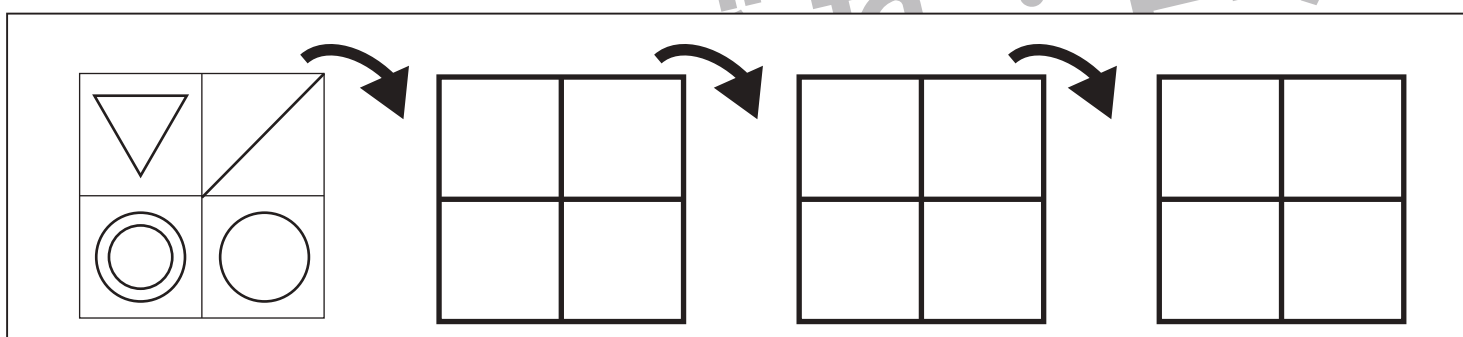
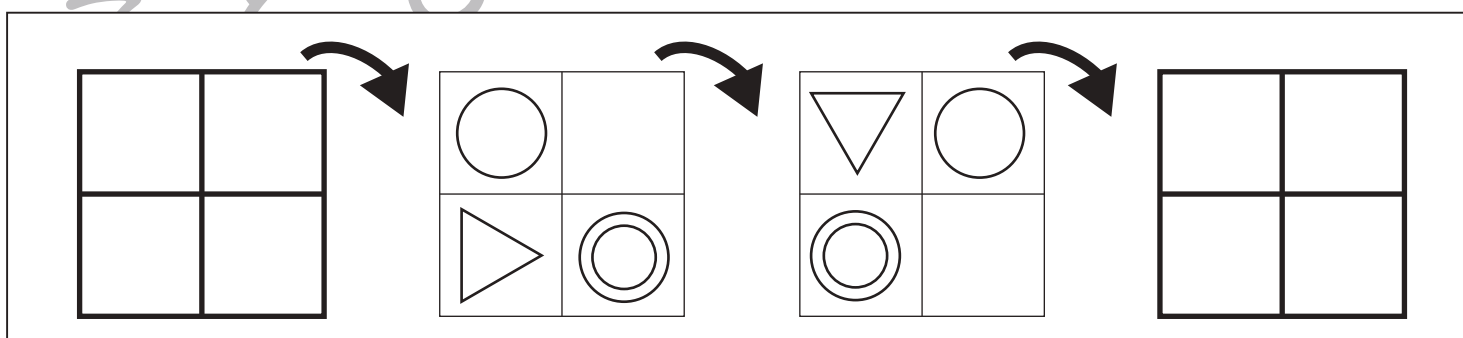
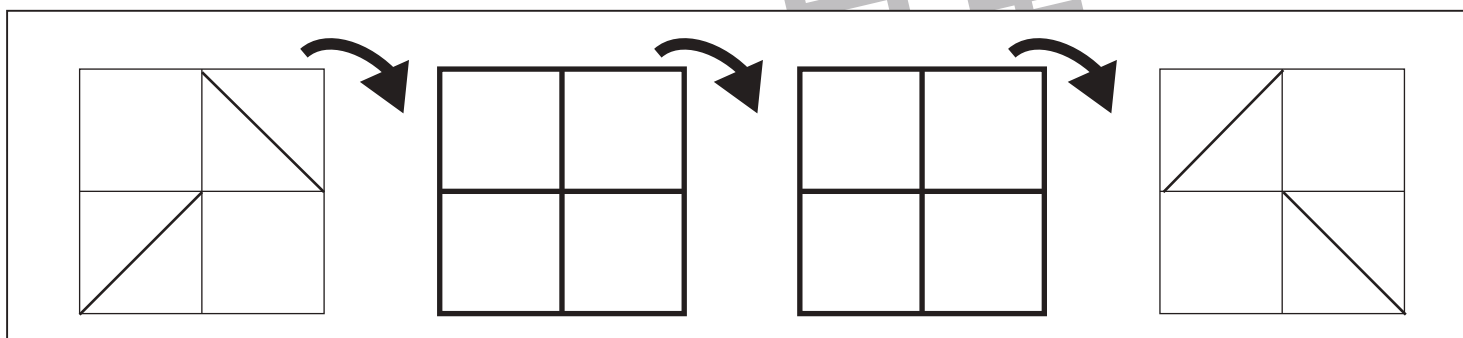
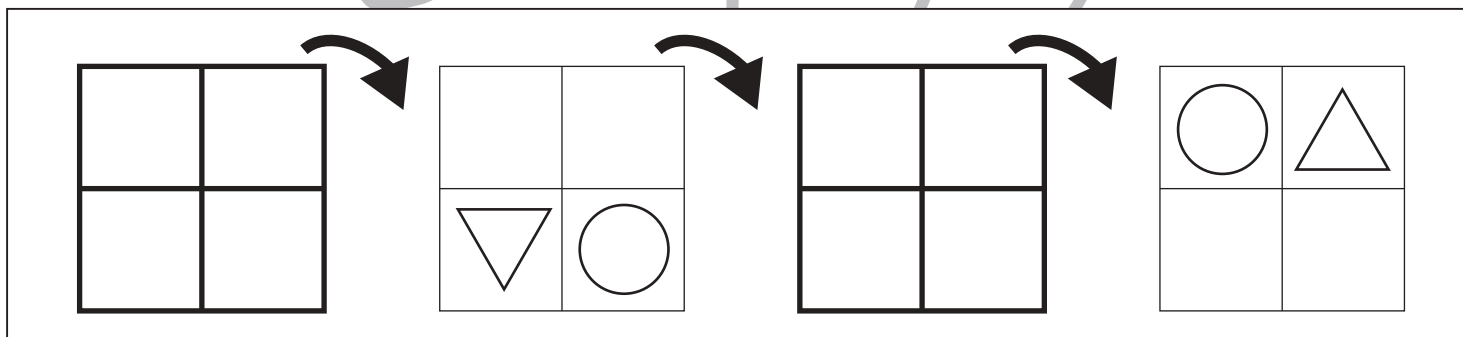
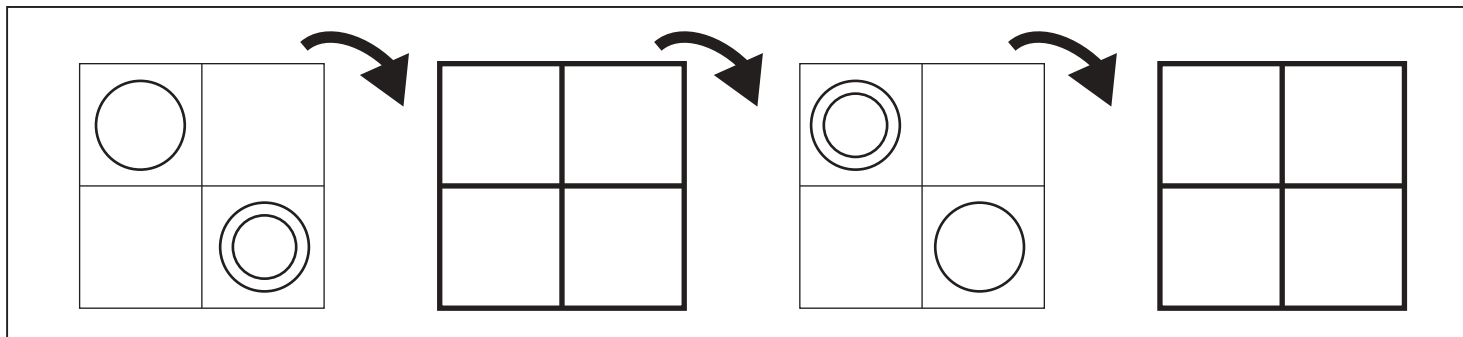
☆
---

	●	○	
	○	●	


※1. このプリントは、しながわ・目黒こどもスクールのウェブサイトでダウンロードができます。無断複写・引用はご遠慮ください。  
 ※2. このプリントを活用したオンライン授業のスケジュールは、しながわ・目黒こどもスクールのウェブサイトでご確認ください。




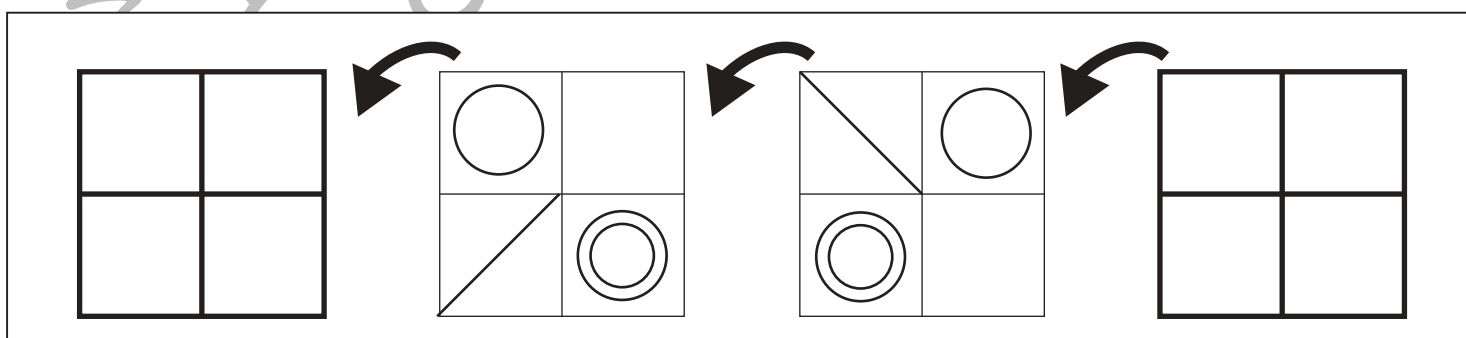

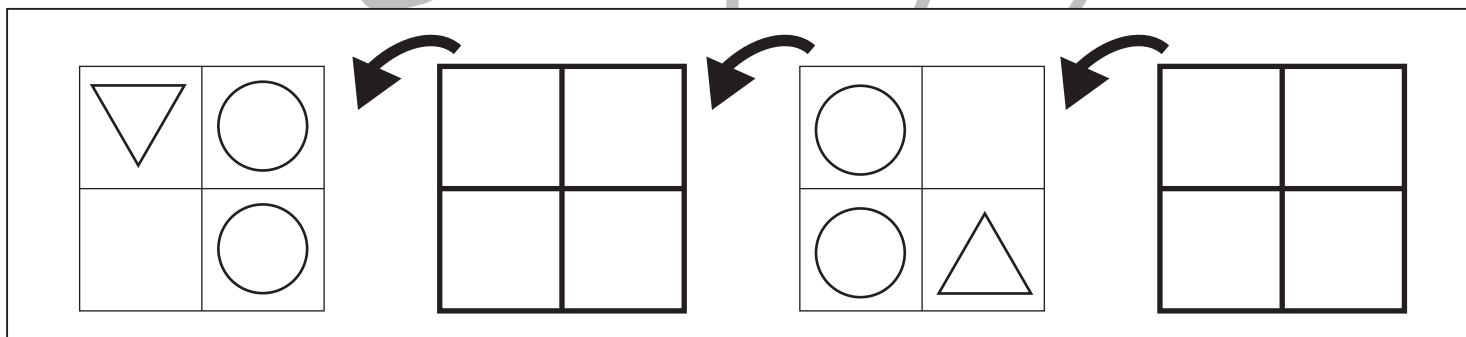
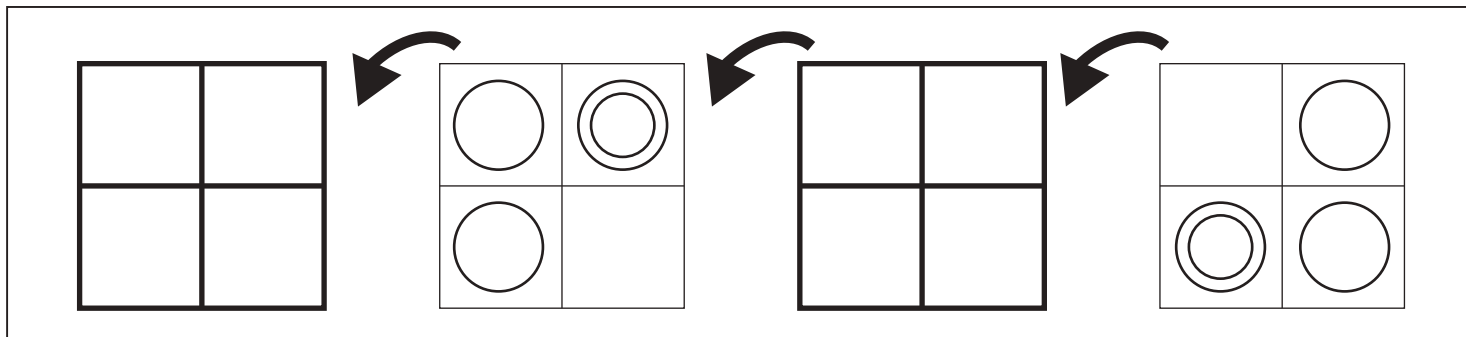
四角を矢印の方向へ倒したときの様子が順番に並んでいます。空いている四角の見え方を考えてかきます。



※1. このプリントは、しながわ・目黒こどもスクールのウェブサイトでダウンロードができます。無断複写・引用はご遠慮ください。  
 ※2. このプリントを活用したオンライン授業のスケジュールは、しながわ・目黒こどもスクールのウェブサイトでご確認ください。



四角を矢印の方向へ倒したときの様子が順番に並んでいます。空いている四角の見え方を考えてかきます。



※1. このプリントは、しながわ・目黒こどもスクールのウェブサイトからダウンロードできます。無断複写・引用はご遠慮ください。  
 ※2. このプリントを活用したオンライン授業のスケジュールは、しながわ・目黒こどもスクールのウェブサイトでご確認ください。

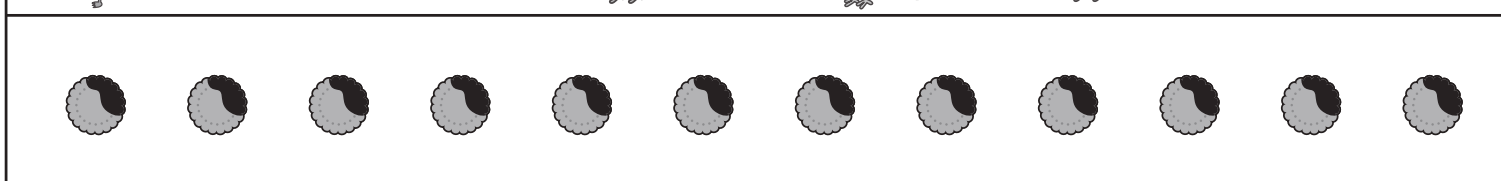


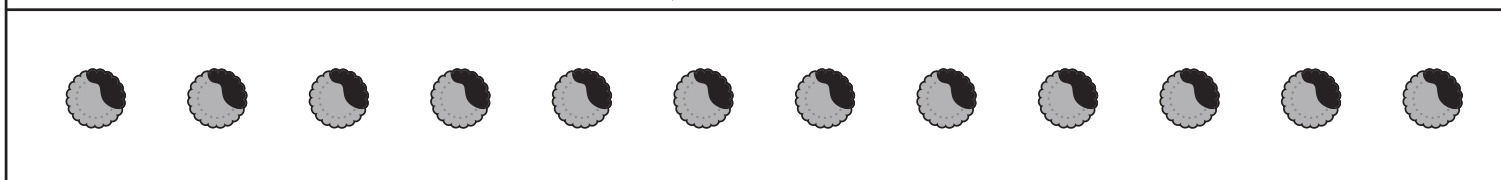

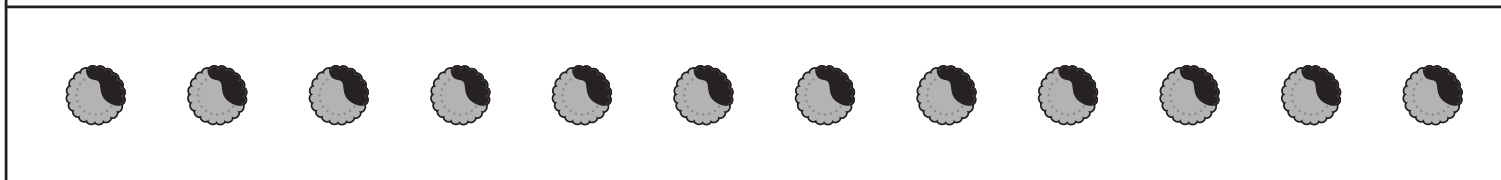



# おうちで、やろう。

Study at home. 小学校受験の家庭学習教材

数量：計数 21

四角の中の生き物の中で一番数が多い生き物はどれですか。その数だけ下の四角の中のクッキーを囲みましょう。



※1. このプリントは、しながわ・目黒こどもスクールのウェブサイトからダウンロードできます。無断複写・引用はご遠慮ください。  
※2. このプリントを活用したオンライン授業のスケジュールは、しながわ・目黒こどもスクールのウェブサイトでご確認ください。

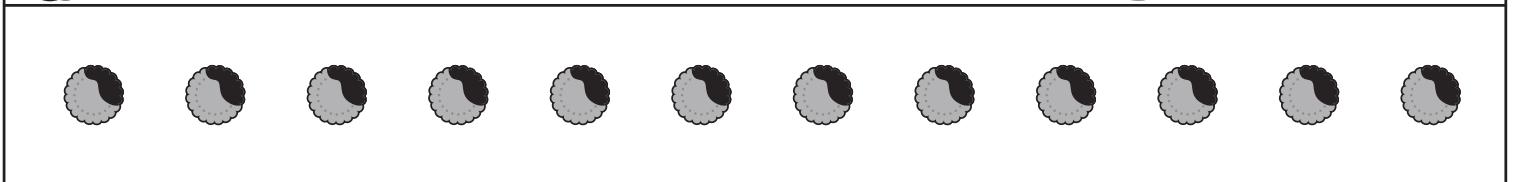

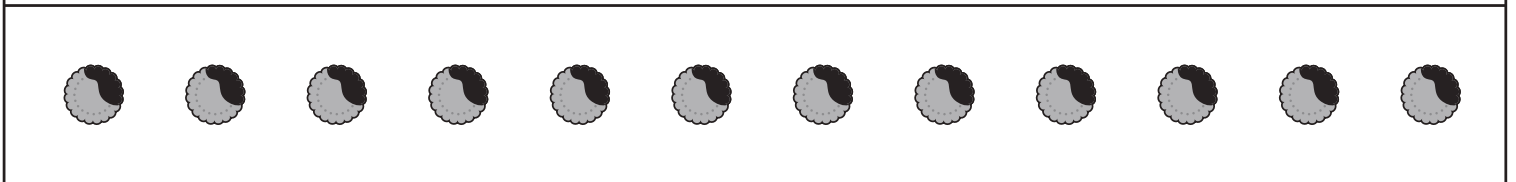
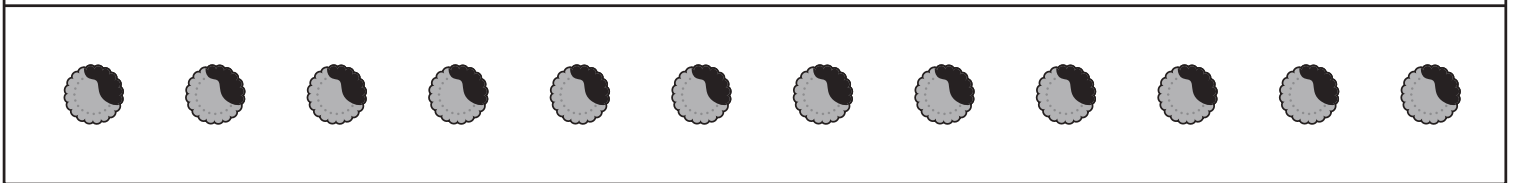

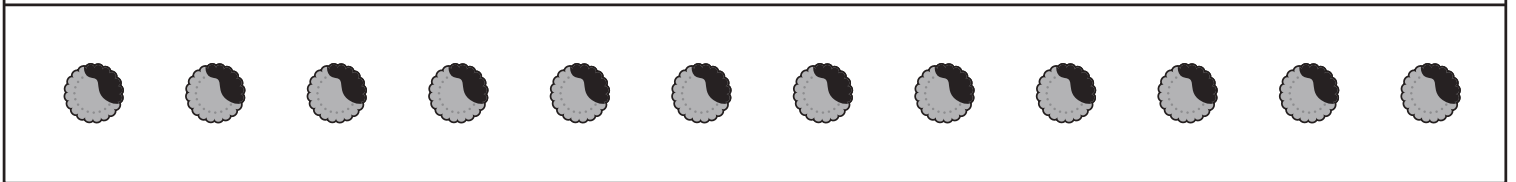



# おうちで、やろう。

Study at home. 小学校受験の家庭学習教材

数量：計数 22

四角の中の食べ物の中で2番目に数が少ない食べ物はどれですか。その数だけ下の四角の中のクッキーを囲みましょう。



※1. このプリントは、しながわ・目黒こどもスクールのウェブサイトからダウンロードできます。無断複写・引用はご遠慮ください。  
※2. このプリントを活用したオンライン授業のスケジュールは、しながわ・目黒こどもスクールのウェブサイトでご確認ください。



# おうちで、やろう。

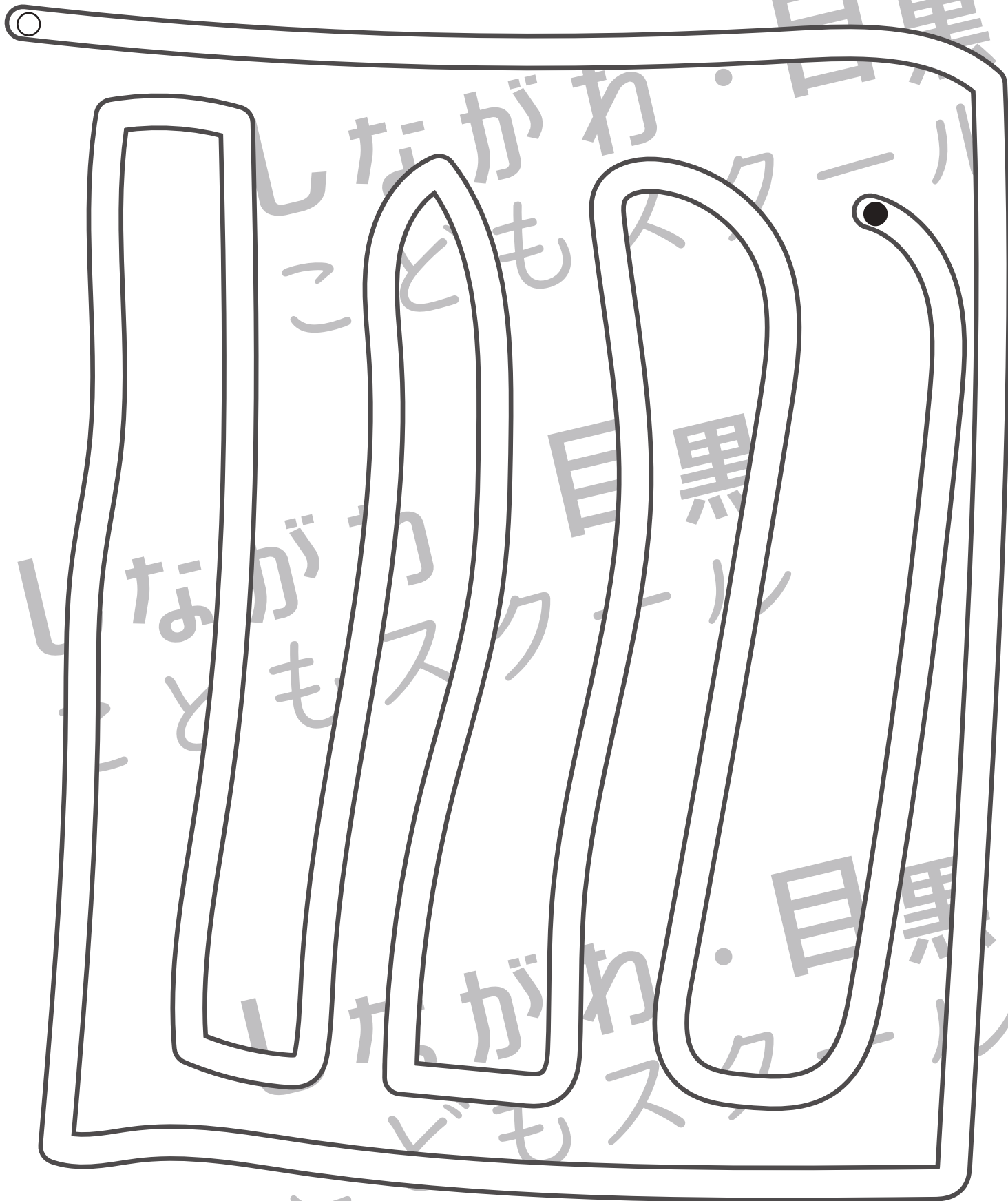
Study at home. 小学校受験の家庭学習教材

処理：運筆 33

白丸から黒丸まで壁にぶつからないように線をかきます。素早く綺麗に線をかきましょう。

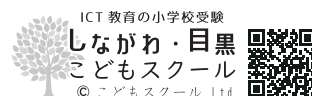
この問題はスピードを意識して取り組む練習をしてみましょう。(1分～1分30秒)

※この問題に解答はありません。



※1. このプリントは、しながわ・目黒こどもスクールのウェブサイトでダウンロードができます。無断複写・引用はご遠慮ください。

※2. このプリントを活用したオンライン授業のスケジュールは、しながわ・目黒こどもスクールのウェブサイトでご確認ください。






# おうちで、やろう。

Study at home. 小学校受験の家庭学習教材

□頭試問 8

絵を見ながら下の質問に答えましょう。  
※この問題に解答はありません。



①真ん中の男の子(①)は何をしていると思いますか。

②左の女の子(②)はどうして泣いていると思いますか。

③左の女の子はどんな気持ちだと思いますか。

④右の男の子(③)はこの様子を見てどう思っていると思いますか。またあなたがこの男の子だったらこの後どうしますか。







# おうちで、やろう。

Study at home. 小学校受験の家庭学習教材

□頭試問9

絵を見ながら下の質問に答えましょう。  
※この問題に解答はありません。



①左上の2人は何していると思いますか。自分がお友だちとこのようになったらどうしますか。

②右下の女の子たちはどうしたのだと思いますか。

③左の女の子(③)はどのように泣いているのだと思いますか。

④右の女の子(④)はこの後どうすると思いますか。







# おうちで、やろう。

Study at home. 小学校受験の家庭学習教材

巧緻性：ちぎり 23

①点線をはさみで切ります。

②それぞれの絵の太い線をちぎります。



※1. このプリントは、しながわ・目黒こどもスクールのウェブサイトでダウンロードができます。無断複写・引用はご遠慮ください。

※2. このプリントを活用したオンライン授業のスケジュールは、しながわ・目黒こどもスクールのウェブサイトでご確認ください。

