




# おうちで、やろう。

Study at home. 小学校受験の家庭学習教材

## 常識：季節 15

☆から☆まで秋→冬→春→夏の順番で進み、進んだ道に線をひきます。縦と横には進めますが、斜めに進むことはできず、空いていない道は通ることができません。



※1. このプリントは、しながわ・目黒こどもスクールのウェブサイトからダウンロードできます。無断複写・引用はご遠慮ください。

※2. このプリントを活用したオンライン授業のスケジュールは、しながわ・目黒こどもスクールのウェブサイトでご確認ください。



# おうちで、やろう。

Study at home. 小学校受験の家庭学習教材

## 図形：移動70

上の四角の中がお手本です。それぞれの記号の隣にある矢印の方向へ進みます。左に並んでいる記号を上から見ていき、◎からスタートします。進んだ道をなぞっていき、最後についた場所に◎を描きましょう。



▲ ▲ ★ ○ ★		▲ ▲ ▲ ★ ★ ★ ▲	
○ □ ▲ ▲ ★		□ ▲ ★ ★ ○ ○	
▲ □ ▲ □ ○		▲ ★ ▲ □ □ ▲ ★ ★	
★ ★ ★ ○ ★		★ ★ ○ ★ ★ ★ ▲ □ ▲	

※1. このプリントは、しながわ・目黒こどもスクールのウェブサイトでダウンロードができます。無断複写・引用はご遠慮ください。  
 ※2. このプリントを活用したオンライン授業のスケジュールは、しながわ・目黒こどもスクールのウェブサイトでご確認ください。



# おうちで、やろう。

Study at home. 小学校受験の家庭学習教材

## 図形：移動71

上の四角の中がお手本です。それぞれの記号の隣にある矢印の方向へ進みます。左に並んでいる記号を上から見ていき、◎からスタートします。進んだ道をなぞっていき、最後についた場所に◎を描きましょう。◎は二つあります。

▲ →		○ ←		□ ↑		★ ↓	
□ □ □		□ ▲ □ ▲		□ ▲ ▲		▲ ▲ ▲ ★ ★ ★	
▲ □ ○ □		★ ▲ ▲ ★ ▲ ▲					

※1. このプリントは、しながわ・目黒こどもスクールのウェブサイトでダウンロードができます。無断複写・引用はご遠慮ください。

※2. このプリントを活用したオンライン授業のスケジュールは、しながわ・目黒こどもスクールのウェブサイトでご確認ください。



# おうちで、やろう。

Study at home. 小学校受験の家庭学習教材

## 図形：移動72

上の四角の中がお手本です。◎はそれぞれの記号の右隣にある矢印の方向へ、●は記号の左隣にある矢印ノ方向へ進みます。左に並んでいる記号を上から見ていきスタートします。進んだ道をなぞっていき、最後についた場所にスタートと同じ記号を描きましょう。

↑ ▲ →	→ ○ ←	← □ ↑	↓ ★ ↓
□ ★ □		○ ★ ○ ○ □	
▲ ★ ★		▲ □ ▲ □ ★	
○ ○ ★ ▲		○ ▲ ▲ ▲ □ ★	
▲ ▲ ▲ ○		★ ○ ★ □ ▲ ○	

※1. このプリントは、しながわ・目黒こどもスクールのウェブサイトでダウンロードができます。無断複写・引用はご遠慮ください。

※2. このプリントを活用したオンライン授業のスケジュールは、しながわ・目黒こどもスクールのウェブサイトでご確認ください。

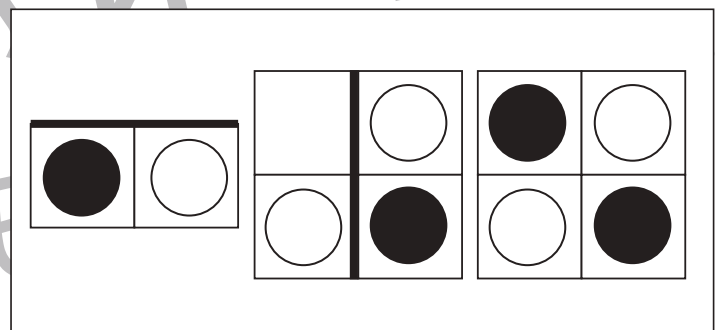
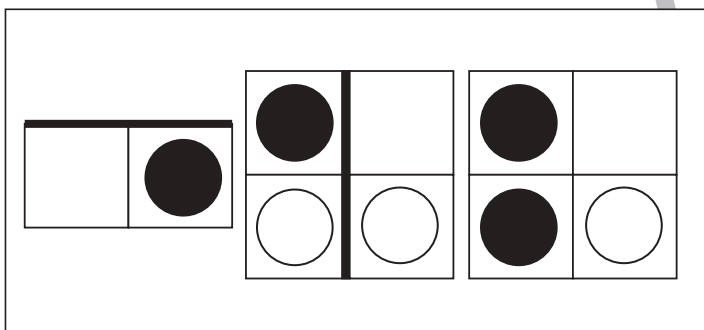
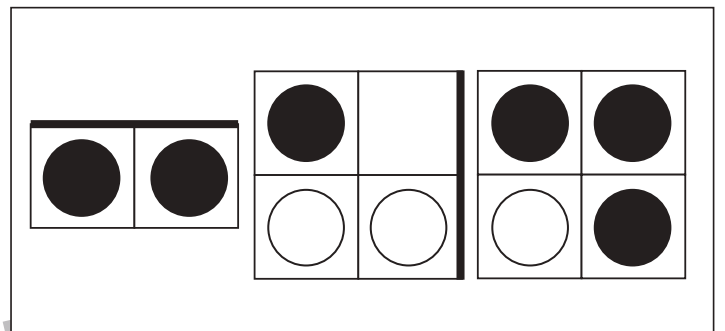
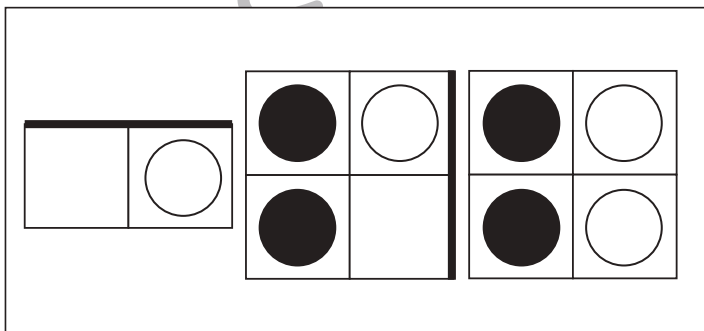

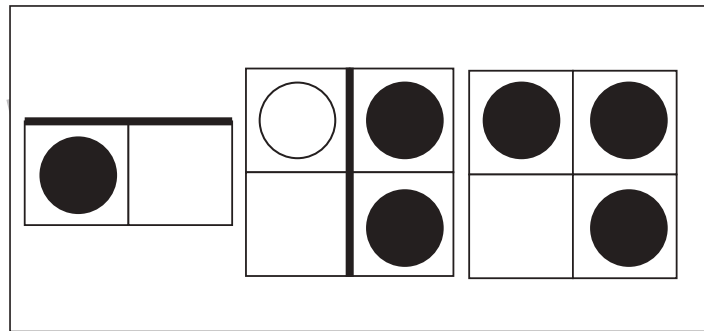
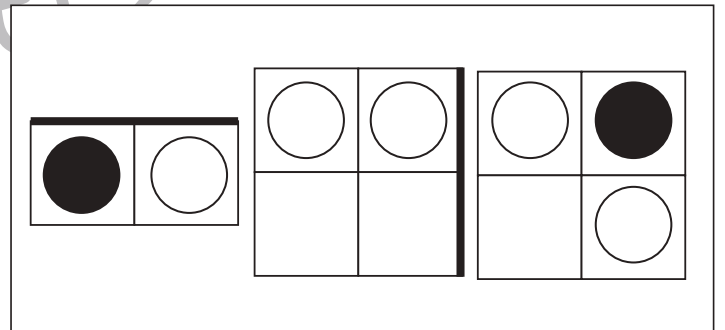
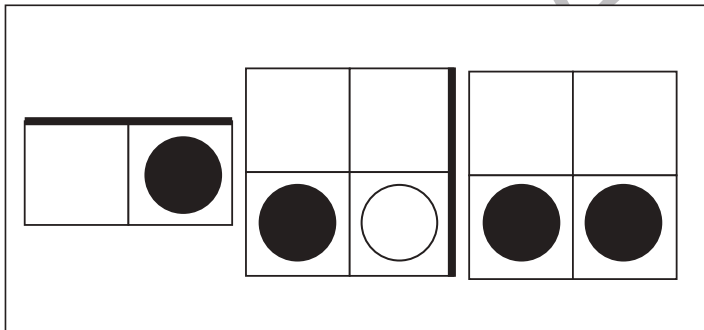
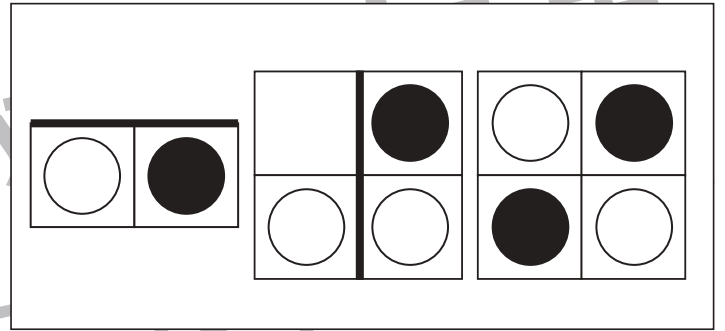
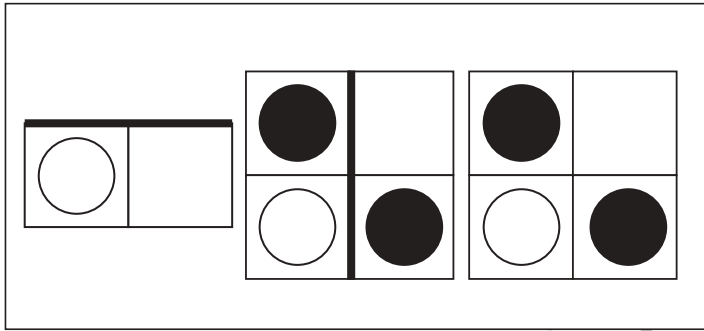


# おうちで、やろう。

Study at home. 小学校受験の家庭学習教材

## 図形：回転重ね3

四角は透明です。左の形を回転させて右の四角の太い線が重なるようにして重ねます。この時の見え方を考えて右の四角にかきます。



※1. このプリントは、しながわ・目黒こどもスクールのウェブサイトでダウンロードができます。無断複写・引用はご遠慮ください。  
 ※2. このプリントを活用したオンライン授業のスケジュールは、しながわ・目黒こどもスクールのウェブサイトでご確認ください。

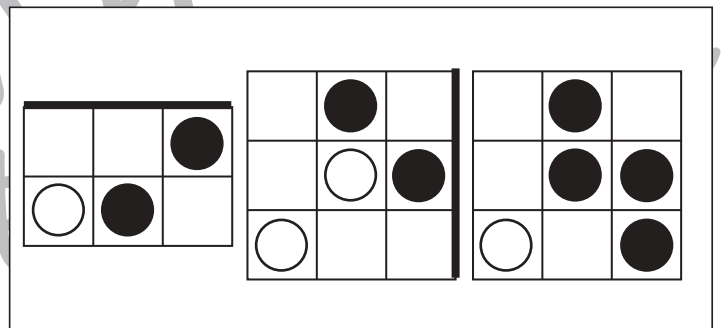
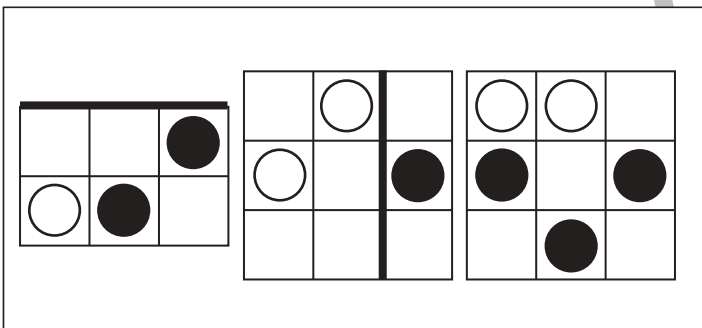
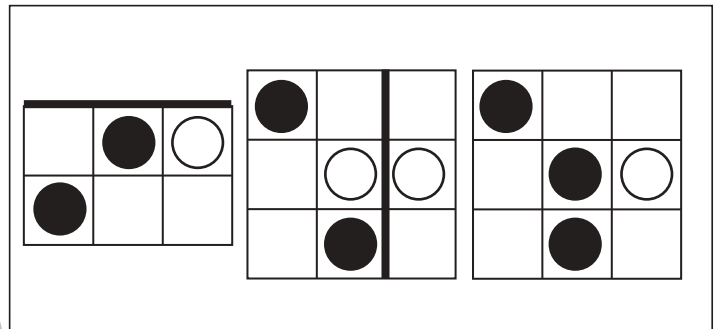
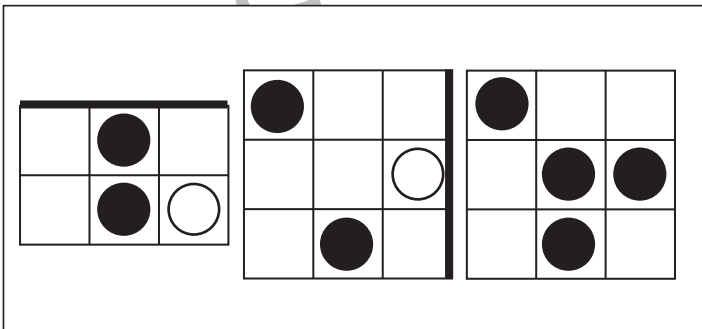
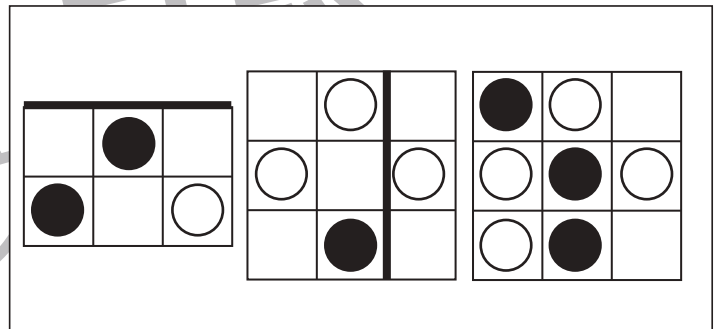
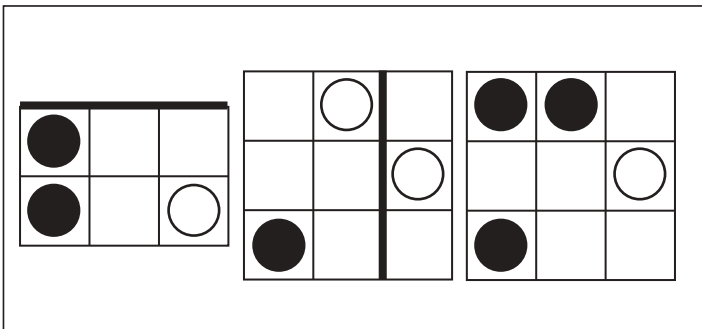
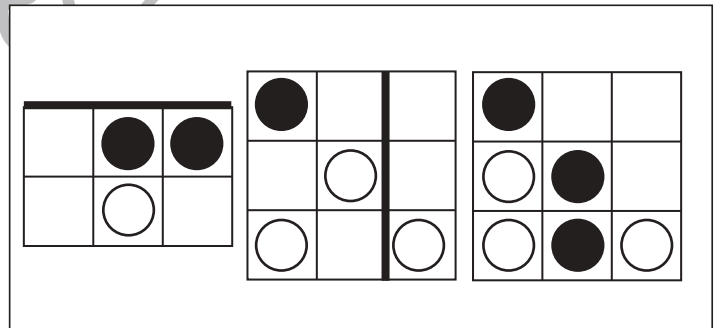
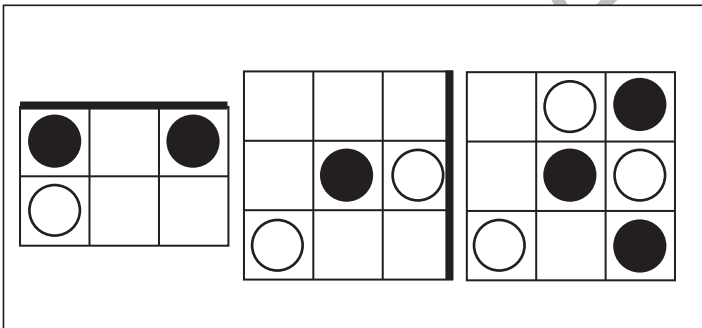
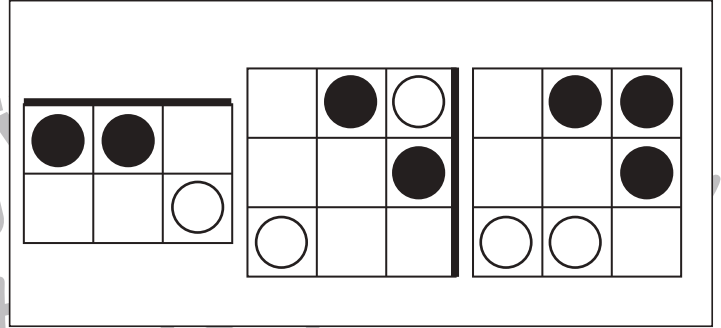
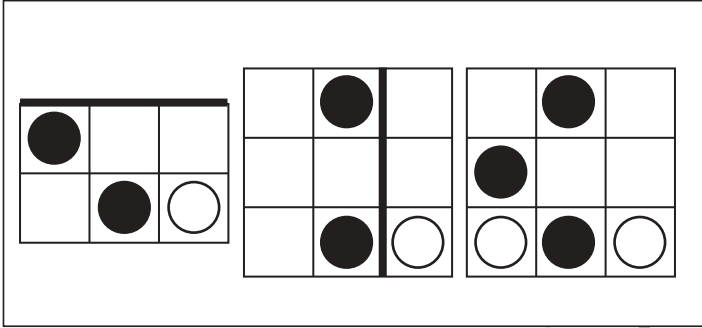


# おうちで、やろう。

Study at home. 小学校受験の家庭学習教材

## 図形：回転重ね4

四角は透明です。左の形を回転させて右の四角の太い線が重なるようにして重ねます。この時の見え方を考えて右の四角にかきます。



※1. このプリントは、しながわ・目黒こどもスクールのウェブサイトでダウンロードができます。無断複写・引用はご遠慮ください。  
 ※2. このプリントを活用したオンライン授業のスケジュールは、しながわ・目黒こどもスクールのウェブサイトでご確認ください。

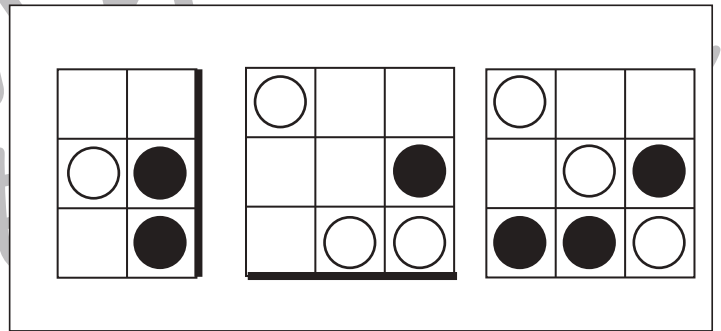
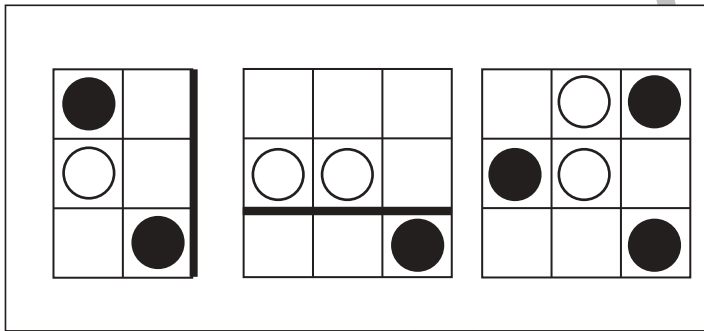
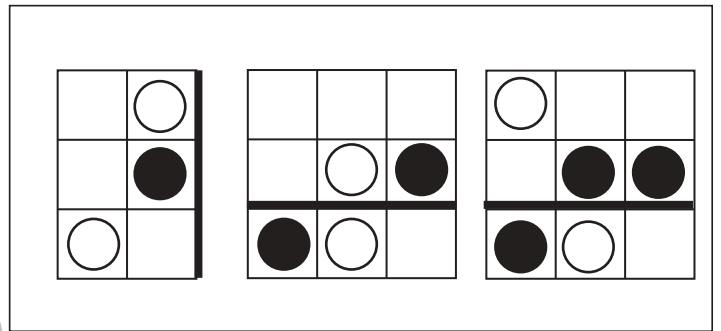
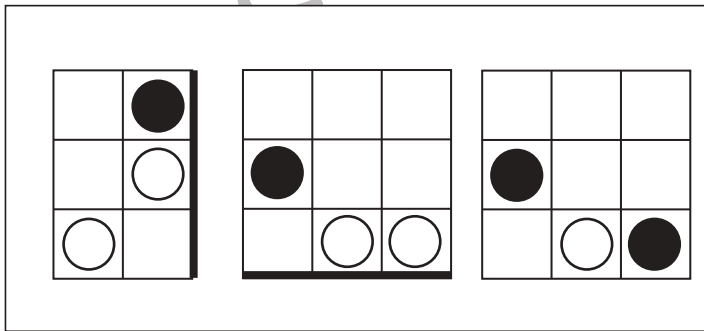

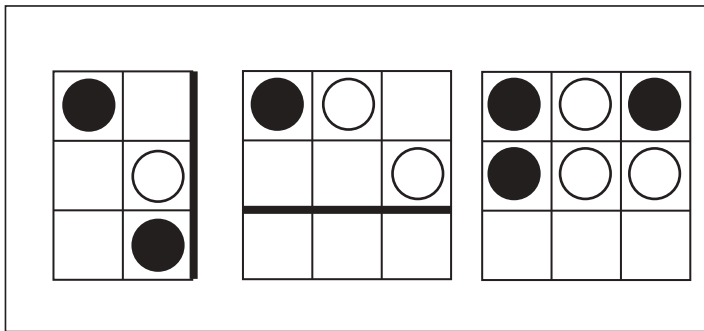
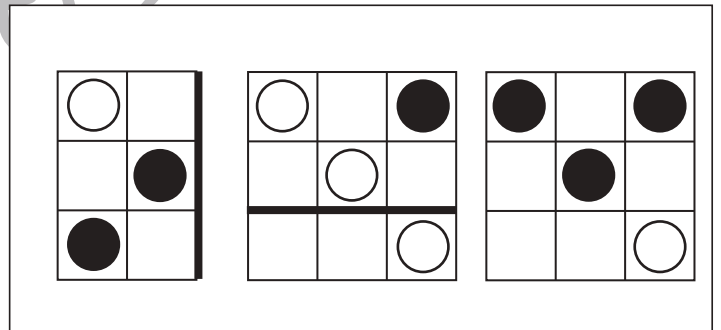
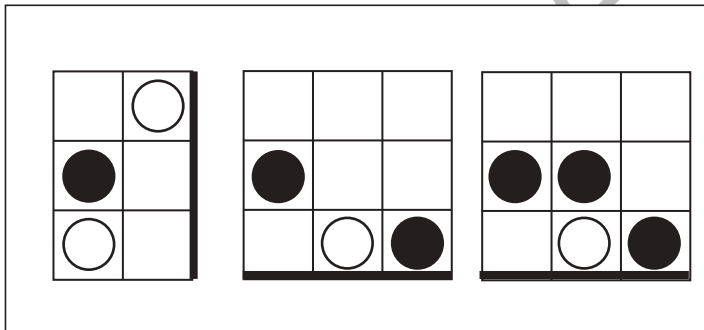
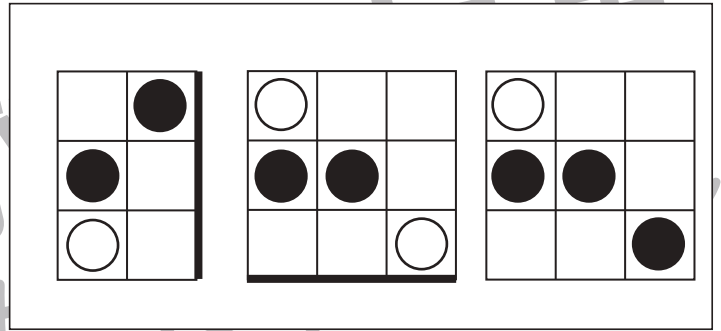
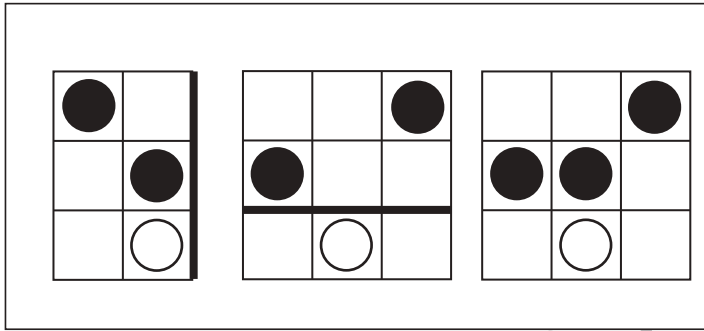


# おうちで、やろう。

Study at home. 小学校受験の家庭学習教材

## 図形：回転重ね5

四角は透明です。左の形を回転させて右の四角の太い線が重なるようにして重ねます。この時の見え方を考えて右の四角にかきます。



※1. このプリントは、しながわ・目黒こどもスクールのウェブサイトでダウンロードができます。無断複写・引用はご遠慮ください。  
 ※2. このプリントを活用したオンライン授業のスケジュールは、しながわ・目黒こどもスクールのウェブサイトでご確認ください。



# おうちで、やろう。

Study at home. 小学校受験の家庭学習教材

数量：足りない数 17

左の四角の中にお友だちの人数で、点線の右にあるクッキーの数になるように、真ん中の大きな四角の中のクッキーを分けます。このとき、足りないクッキーは何枚ですか。その数だけ一番右の四角に○をかきます。

		$\bigcirc \times 1$
		$\bigcirc \times 2$
		$\bigcirc \times 3$
		$\bigcirc \times 2$
		$\bigcirc \times 3$

※1. このプリントは、しながわ・目黒こどもスクールのウェブサイトでダウンロードができます。無断複写・引用はご遠慮ください。

※2. このプリントを活用したオンライン授業のスケジュールは、しながわ・目黒こどもスクールのウェブサイトでご確認ください。




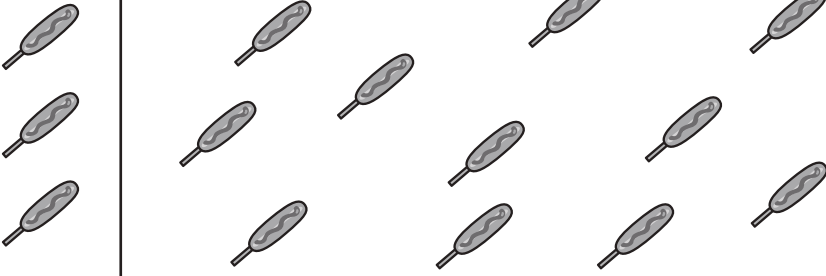










# おうちで、やろう。

Study at home. 小学校受験の家庭学習教材

数量：余る数 14

左の四角の中にお友だちの人数で、点線の右にある食べ物の数になるように、真ん中の大きな四角の中のものを分けます。このとき、余るのはいくつですか。余る数だけ、一番右の四角に○をかきます。

		$\bigcirc \times 2$
		$\bigcirc \times 1$
		$\bigcirc \times 2$
		$\bigcirc \times 1$
		$\bigcirc \times 3$

※1. このプリントは、しながわ・目黒こどもスクールのウェブサイトからダウンロードできます。無断複写・引用はご遠慮ください。

※2. このプリントを活用したオンライン授業のスケジュールは、しながわ・目黒こどもスクールのウェブサイトでご確認ください。