

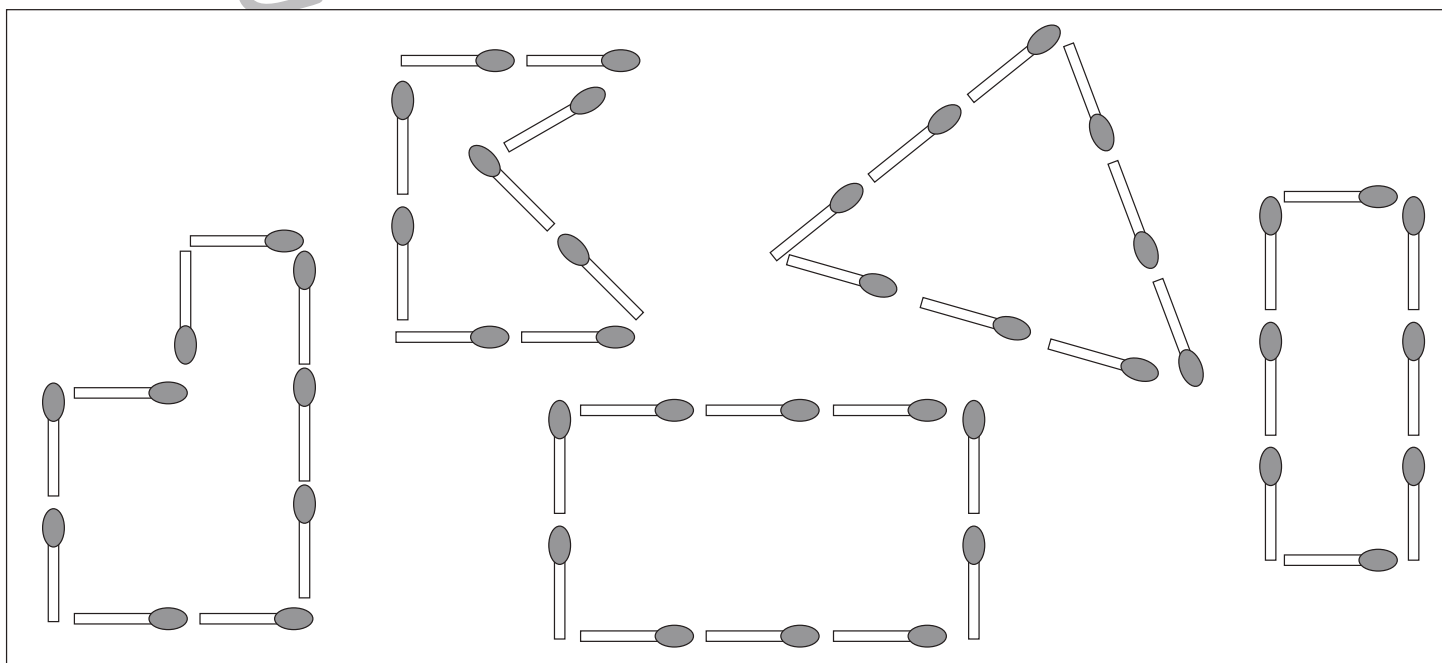

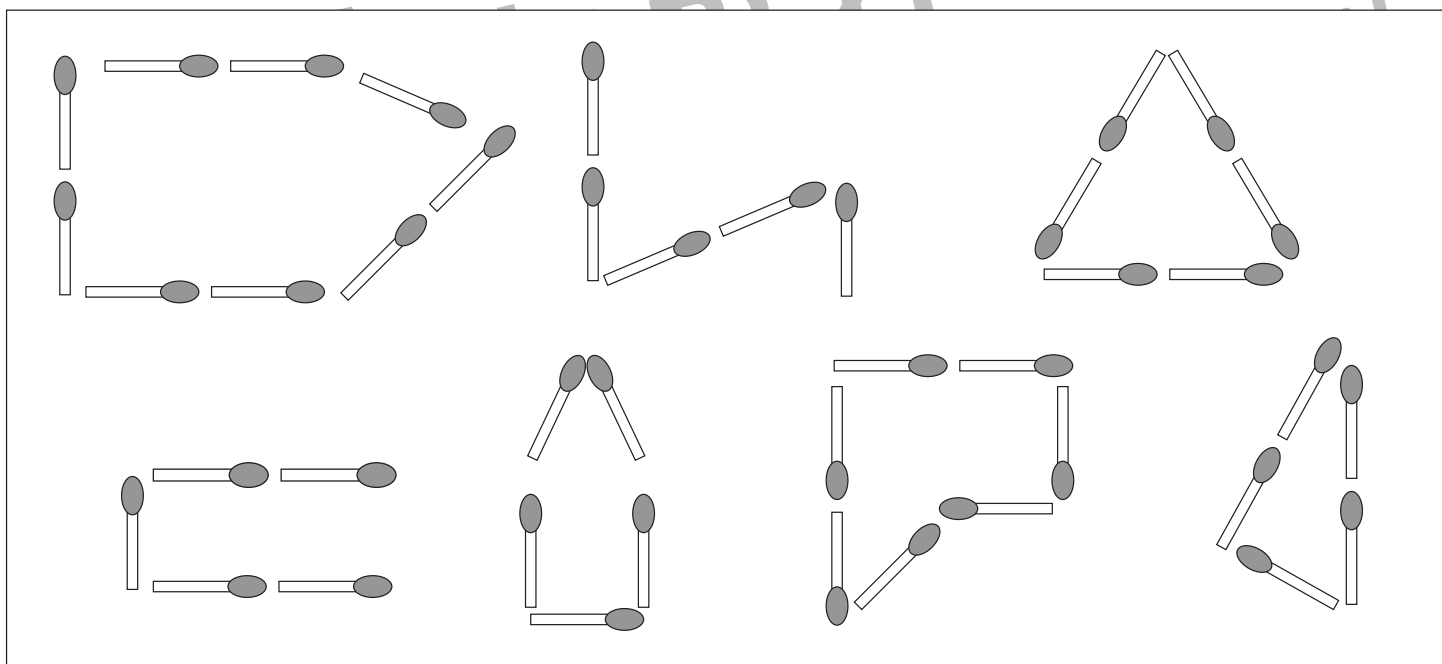



# おうちで、やろう。

Study at home. 小学校受験の家庭学習教材

図形：マッチ5

上の太い四角の中に入っているマッチの数でできている形を下の四角の中から選んで○をつけます。



※1. このプリントは、しながわ・目黒こどもスクールのウェブサイトでダウンロードができます。無断複写・引用はご遠慮ください。  
※2. このプリントを活用したオンライン授業のスケジュールは、しながわ・目黒こどもスクールのウェブサイトでご確認ください。





# おうちで、やろう。

Study at home. 小学校受験の家庭学習教材

図形：マッチ6

左の四角の中のシルエットは異なる長さのマッチを使って作った形です。  
右の3つの中から、左の形を作ることができるマッチの組み合わせを見つけて○をつけます。


※1. このプリントは、しながわ・目黒こどもスクールのウェブサイトでダウンロードができます。無断複写・引用はご遠慮ください。

※2. このプリントを活用したオンライン授業のスケジュールは、しながわ・目黒こどもスクールのウェブサイトでご確認ください。



# おうちで、やろう。

Study at home. 小学校受験の家庭学習教材

## 図形：構成 63

左の形を重ねずに並べた時にできる形を右の4つの中から見つけて○をつけます。  
形は向きを変えても良いですが、裏返してはいけません。


※1. このプリントは、しながわ・目黒こどもスクールのウェブサイトからダウンロードできます。無断複写・引用はご遠慮ください。

※2. このプリントを活用したオンライン授業のスケジュールは、しながわ・目黒こどもスクールのウェブサイトでご確認ください。



# おうちで、やろう。

Study at home. 小学校受験の家庭学習教材

## 図形：構成64

左の形を重ねずに並べた時にできる形を右の4つの中から見つけて○をつけます。  
形は向きを変えても良いですが、裏返してはいけません。


※1. このプリントは、しながわ・目黒こどもスクールのウェブサイトでダウンロードができます。無断複写・引用はご遠慮ください。  
 ※2. このプリントを活用したオンライン授業のスケジュールは、しながわ・目黒こどもスクールのウェブサイトでご確認ください。



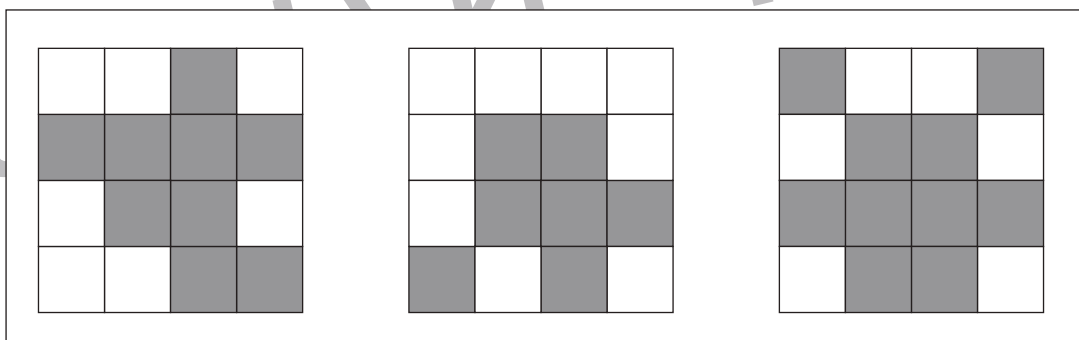
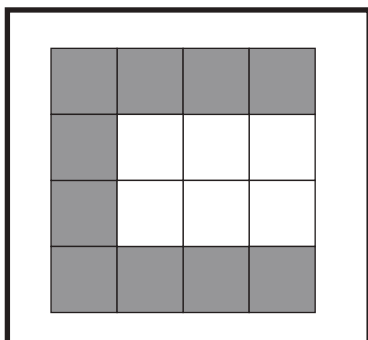
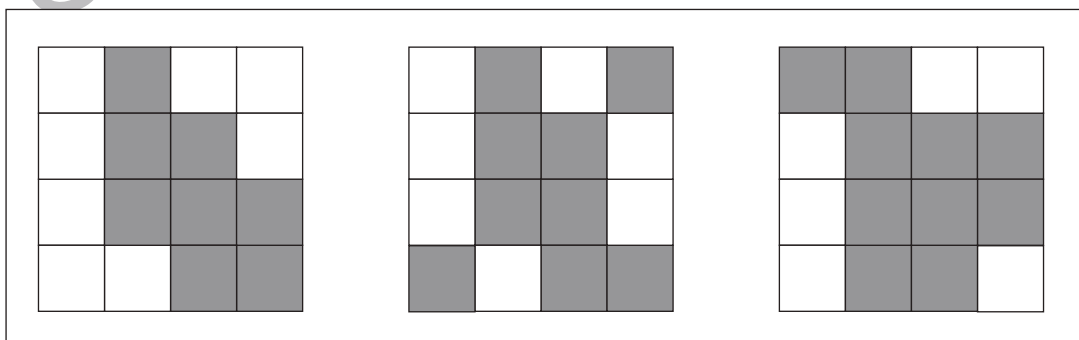
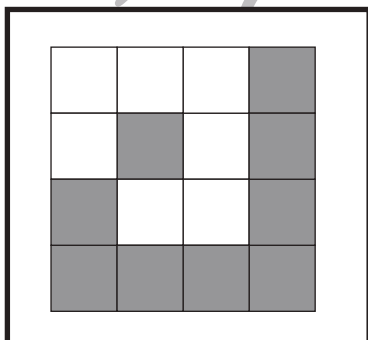

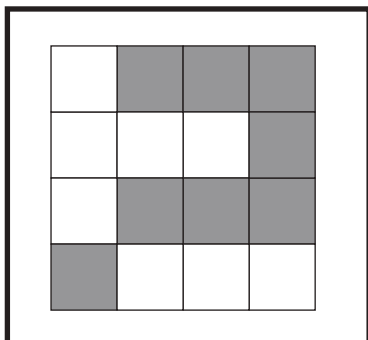

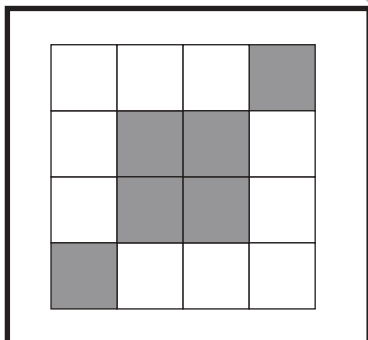
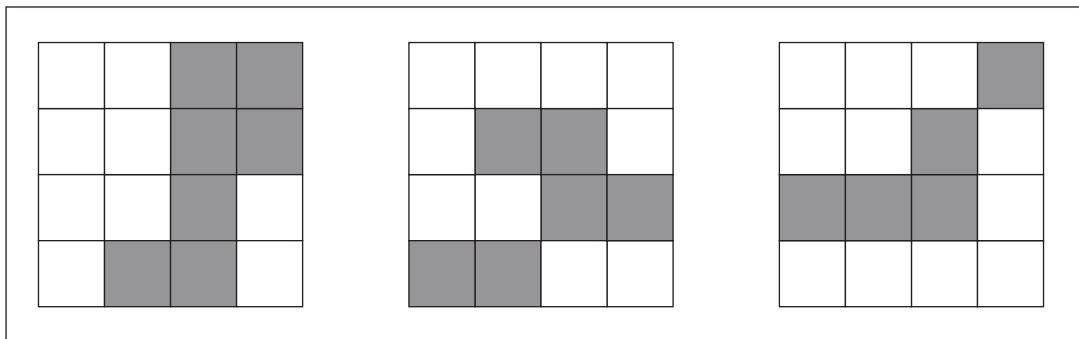
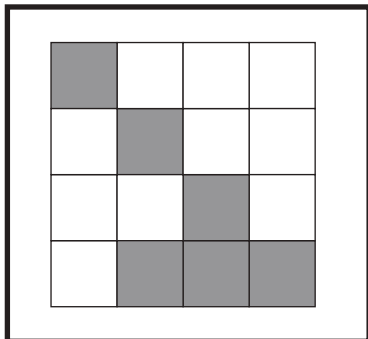
# おうちで、やろう。

Study at home. 小学校受験の家庭学習教材

推理：広さ 25

左の四角の中の灰色の部分の広さを考えます。

右の四角の中で灰色の部分の広さが左の四角の中と同じ広さのものを見つけて○をつけます。



※1. このプリントは、しながわ・目黒こどもスクールのウェブサイトでダウンロードができます。無断複写・引用はご遠慮ください。

※2. このプリントを活用したオンライン授業のスケジュールは、しながわ・目黒こどもスクールのウェブサイトでご確認ください。



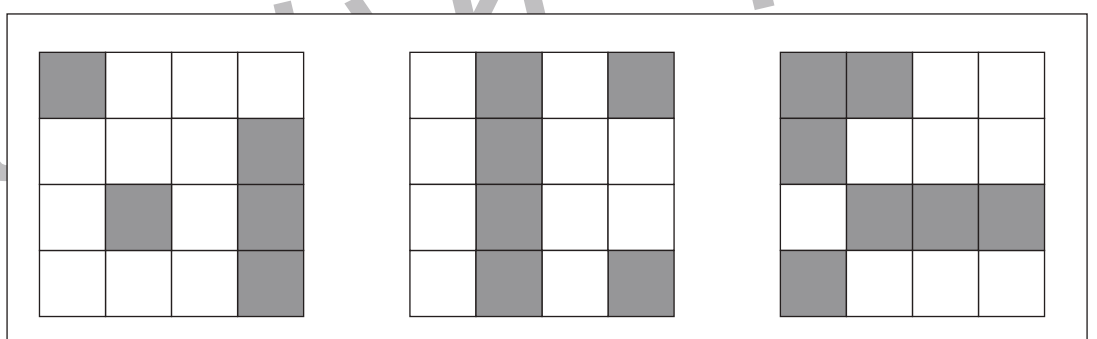
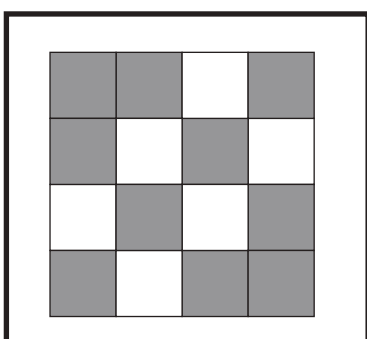
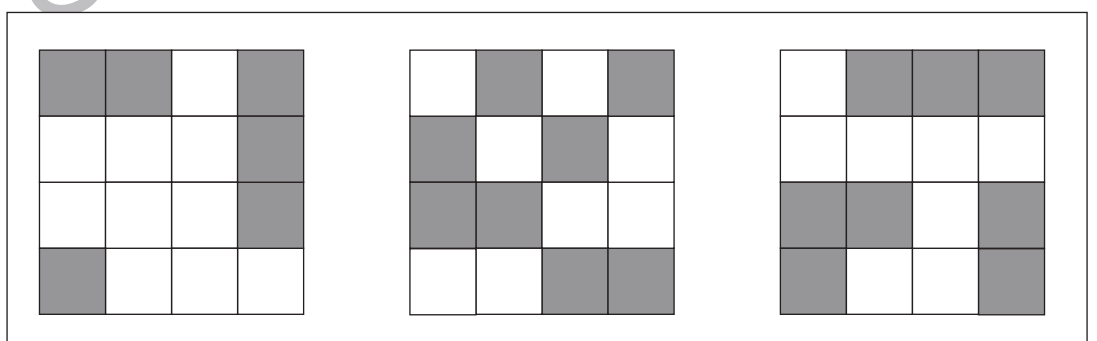
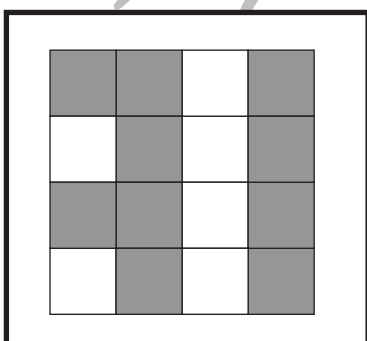

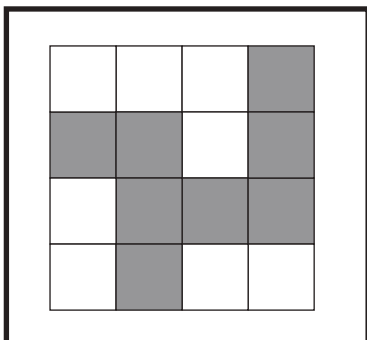

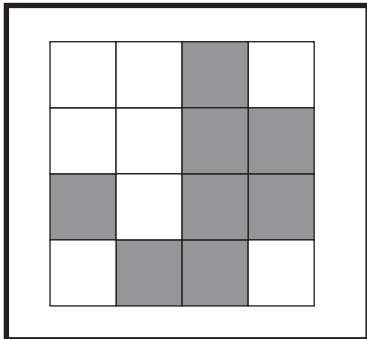
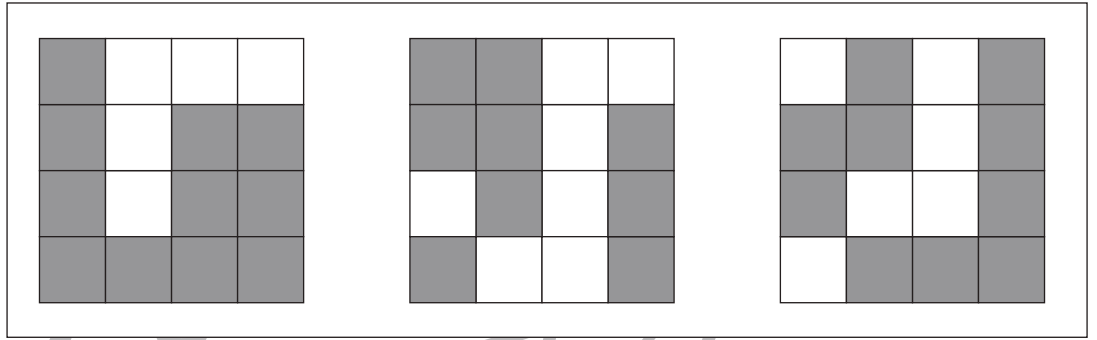

# おうちで、やろう。

Study at home. 小学校受験の家庭学習教材

推理：広さ26

左の四角の中の灰色の部分の広さを考えます。

右の四角の中で白い部分の広さが左の四角の灰色の部分と同じ広さのものを見つけて○をつけます。



※1. このプリントは、しながわ・目黒こどもスクールのウェブサイトでダウンロードができます。無断複写・引用はご遠慮ください。  
※2. このプリントを活用したオンライン授業のスケジュールは、しながわ・目黒こどもスクールのウェブサイトでご確認ください。

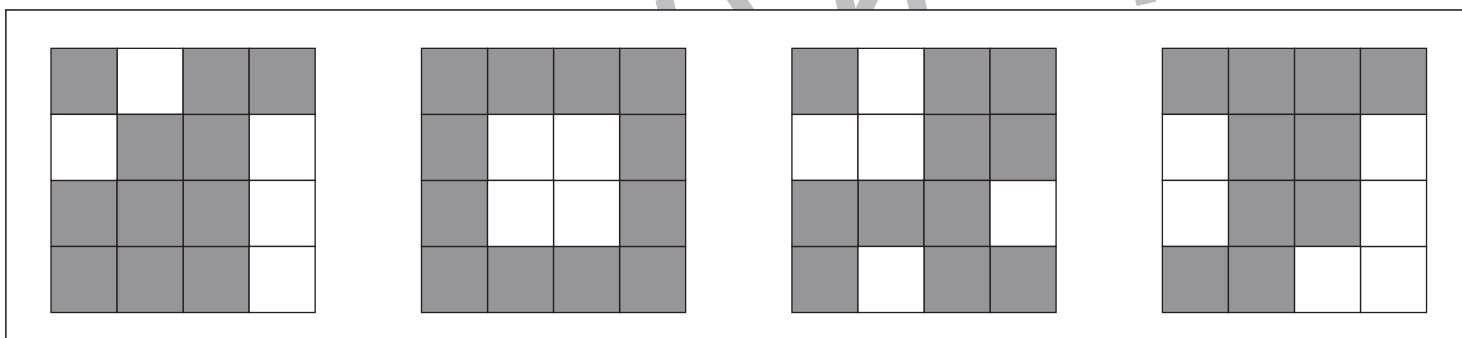
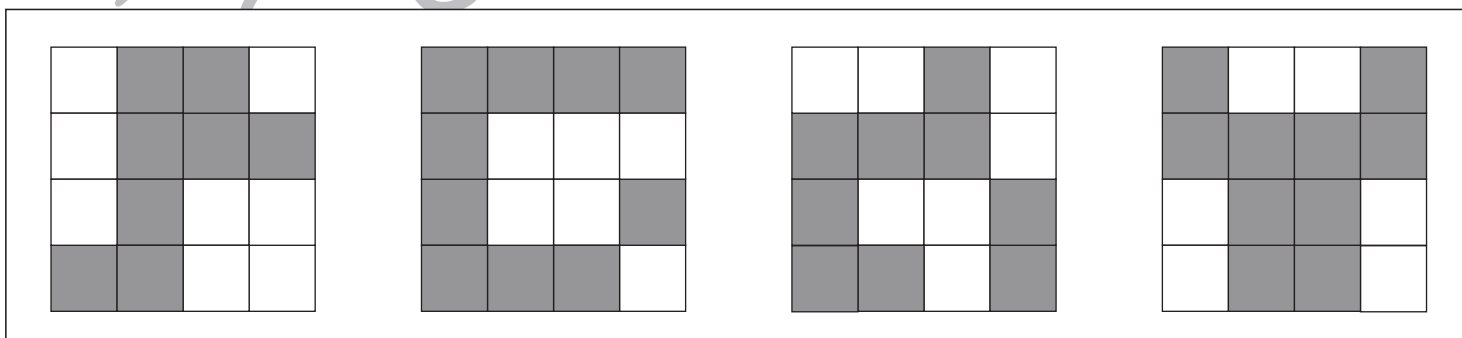
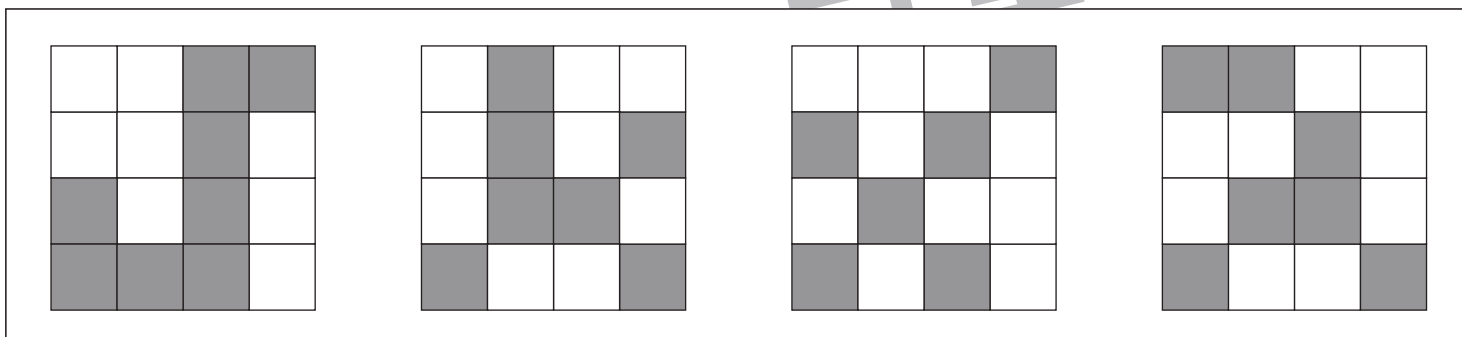
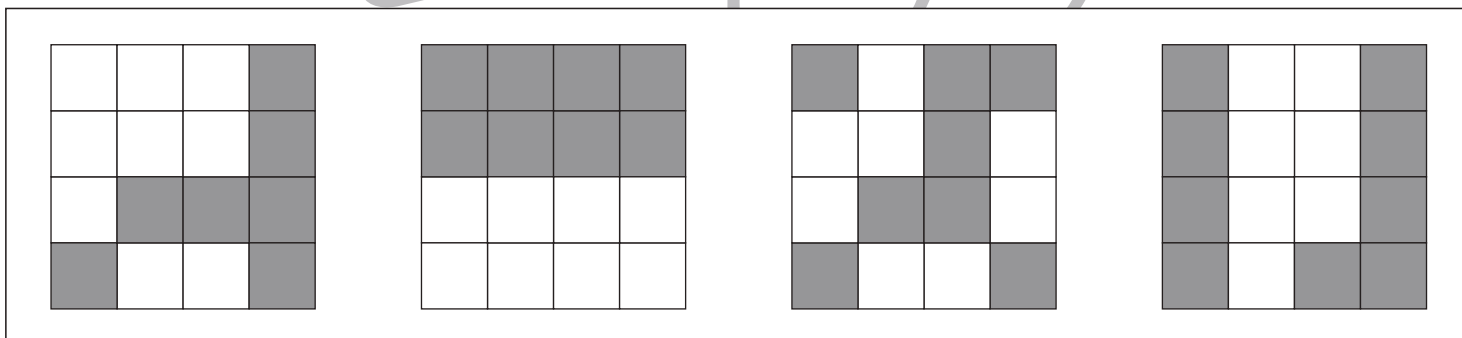
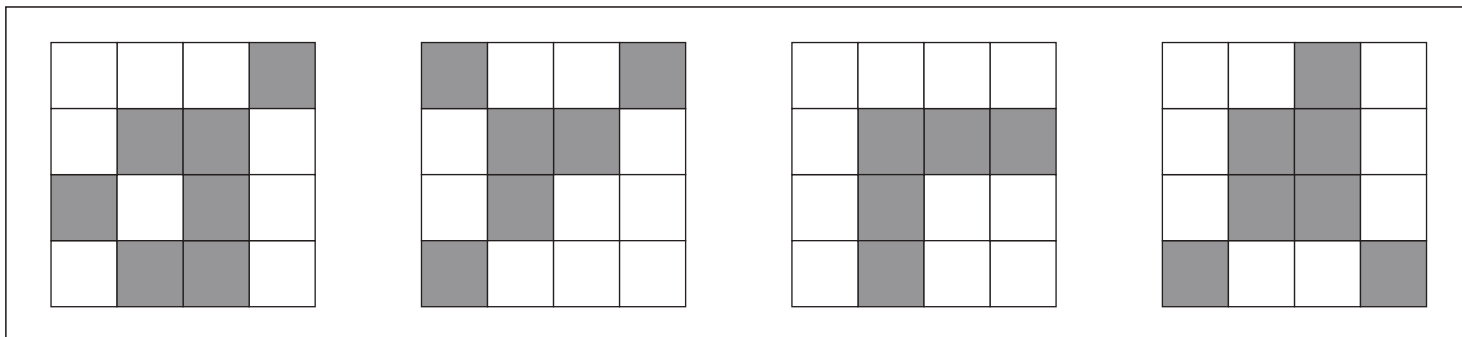


# おうちで、やろう。

Study at home. 小学校受験の家庭学習教材

推理：広さ27

4つの四角の中で灰色の部分と同じ広さのものを2つ見つけて○をつけます。



※1. このプリントは、しながわ・目黒こどもスクールのウェブサイトでダウンロードができます。無断複写・引用はご遠慮ください。  
 ※2. このプリントを活用したオンライン授業のスケジュールは、しながわ・目黒こどもスクールのウェブサイトでご確認ください。

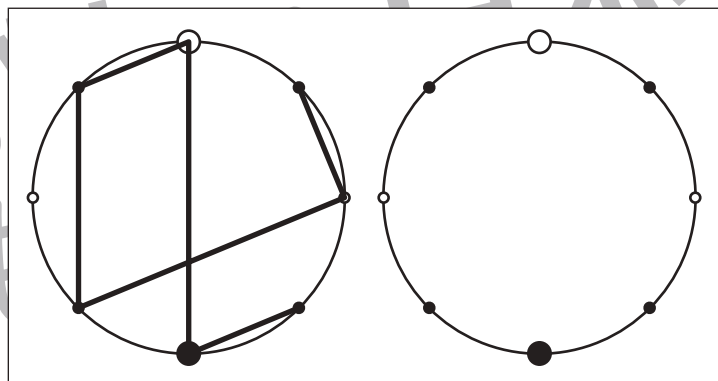
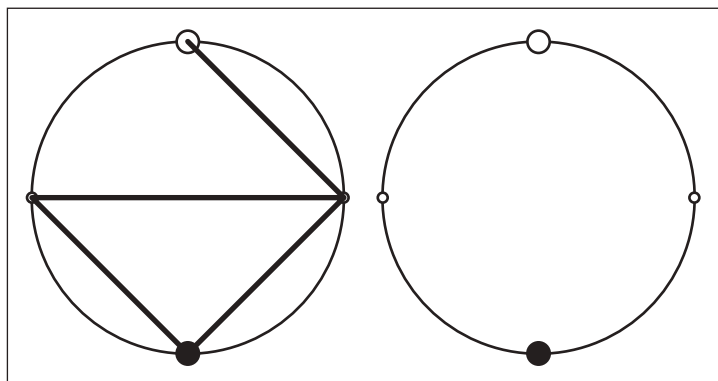
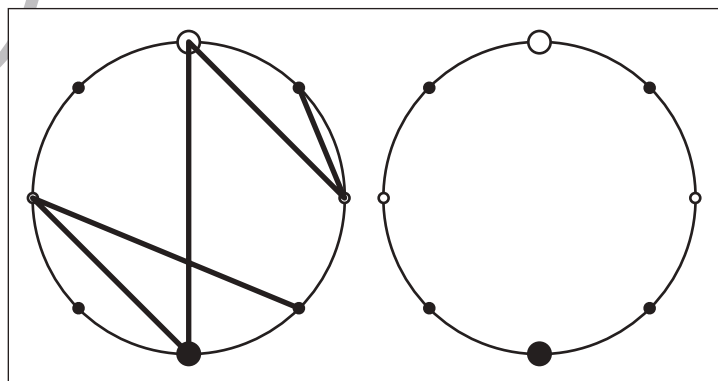
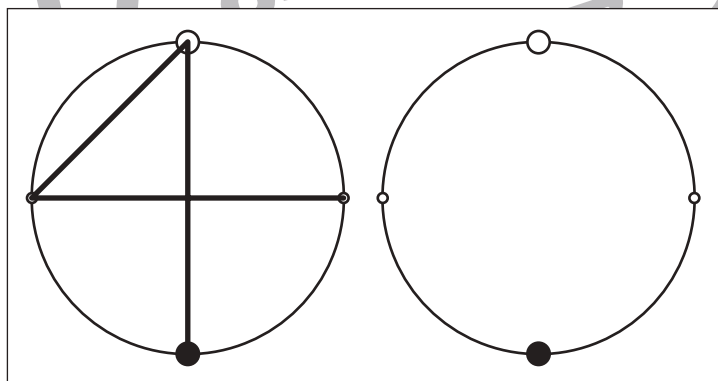
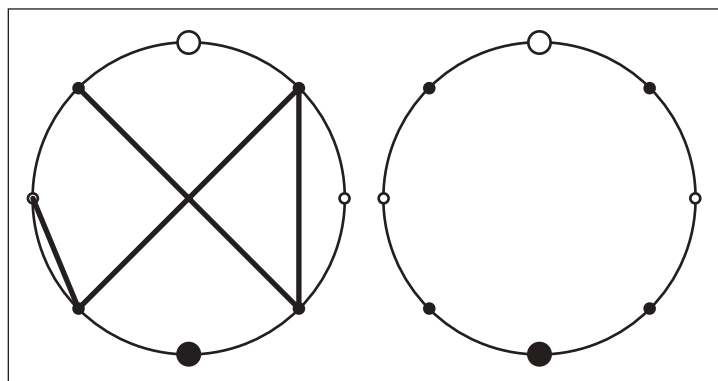
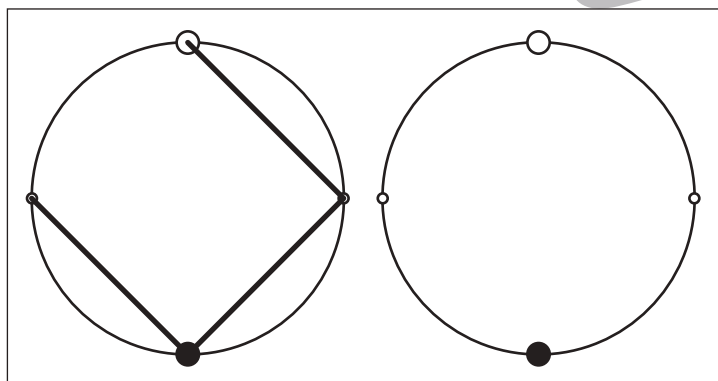
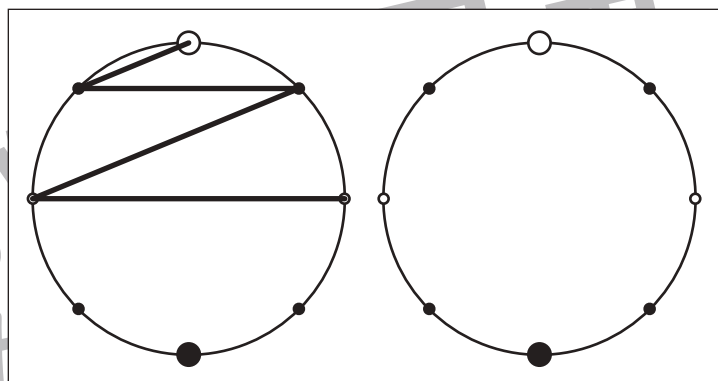
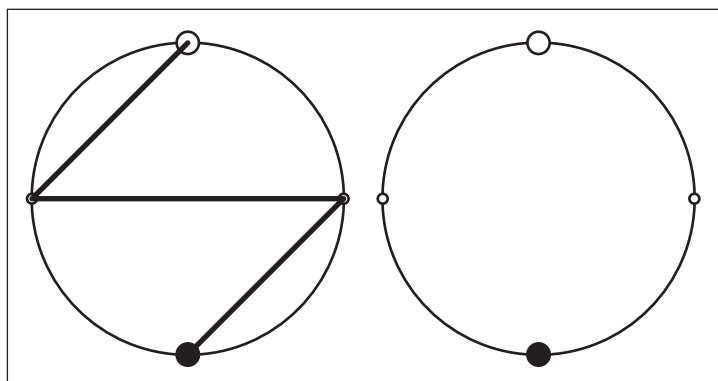


# おうちで、やろう。

Study at home. 小学校受験の家庭学習教材

## 図形：点図形 67

左のお手本を見て、右にそっくり描き写しましょう。※このプリントに解答はありません。



※1. このプリントは、しながわ・目黒こどもスクールのウェブサイトからダウンロードできます。無断複写・引用はご遠慮ください。  
※2. このプリントを活用したオンライン授業のスケジュールは、しながわ・目黒こどもスクールのウェブサイトでご確認ください。






# おうちで、やろう。

Study at home. 小学校受験の家庭学習教材

巧緻性：ちぎり 25

- ①点線をはさみで切ります。
- ②それぞれの絵の黒い線をちぎります。



※1. このプリントは、しながわ・目黒こどもスクールのウェブサイトでダウンロードができます。無断複写・引用はご遠慮ください。  
※2. このプリントを活用したオンライン授業のスケジュールは、しながわ・目黒こどもスクールのウェブサイトでご確認ください。







# おうちで、よろう。

Study at home. 小学校受験の家庭学習教材

巧緻性：ちぎり 26

- ①点線をはさみで切ります。
- ②それぞれの絵の黒い線をちぎります。



※1. このプリントは、しながわ・目黒こどもスクールのウェブサイトでダウンロードができます。無断複写・引用はご遠慮ください。  
※2. このプリントを活用したオンライン授業のスケジュールは、しながわ・目黒こどもスクールのウェブサイトでご確認ください。

