



# おうちで、やろう。

Study at home. 小学校受験の家庭学習教材

図形：反転 21

左のお手本を上への矢印の向きに回して裏返した時の見え方を考えて、左の四角にかきます。

※1. このプリントは、しながわ・目黒こどもスクールのウェブサイトでダウンロードができます。無断複写・引用はご遠慮ください。  
 ※2. このプリントを活用したオンライン授業のスケジュールは、しながわ・目黒こどもスクールのウェブサイトでご確認ください。



# おうちで、やろう。

Study at home. 小学校受験の家庭学習教材

図形：反転 22

左のお手本を上矢印の向きに回して裏返した時の見え方を考えて、左の四角にかきます。

※1. このプリントは、しながわ・目黒こどもスクールのウェブサイトでダウンロードができます。無断複写・引用はご遠慮ください。  
 ※2. このプリントを活用したオンライン授業のスケジュールは、しながわ・目黒こどもスクールのウェブサイトでご確認ください。



# おうちで、やろう。

Study at home. 小学校受験の家庭学習教材

## 図形：反転 23

左のお手本を上矢印の向きに回して裏返した時の見え方を考えて、左の四角にかきます。

※1. このプリントは、しながわ・目黒こどもスクールのウェブサイトでダウンロードができます。無断複写・引用はご遠慮ください。  
 ※2. このプリントを活用したオンライン授業のスケジュールは、しながわ・目黒こどもスクールのウェブサイトでご確認ください。


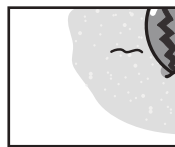






# おうちで、やろう。

Study at home. 小学校受験の家庭学習教材

## 推理：パズル 10

記号の付いた部分に当てはまるパズルピースを選んで、その場所に書いてある記号をつけましょう。



※1. このプリントは、しながわ・目黒こどもスクールのウェブサイトからダウンロードできます。無断複写・引用はご遠慮ください。  
 ※2. このプリントを活用したオンライン授業のスケジュールは、しながわ・目黒こどもスクールのウェブサイトでご確認ください。


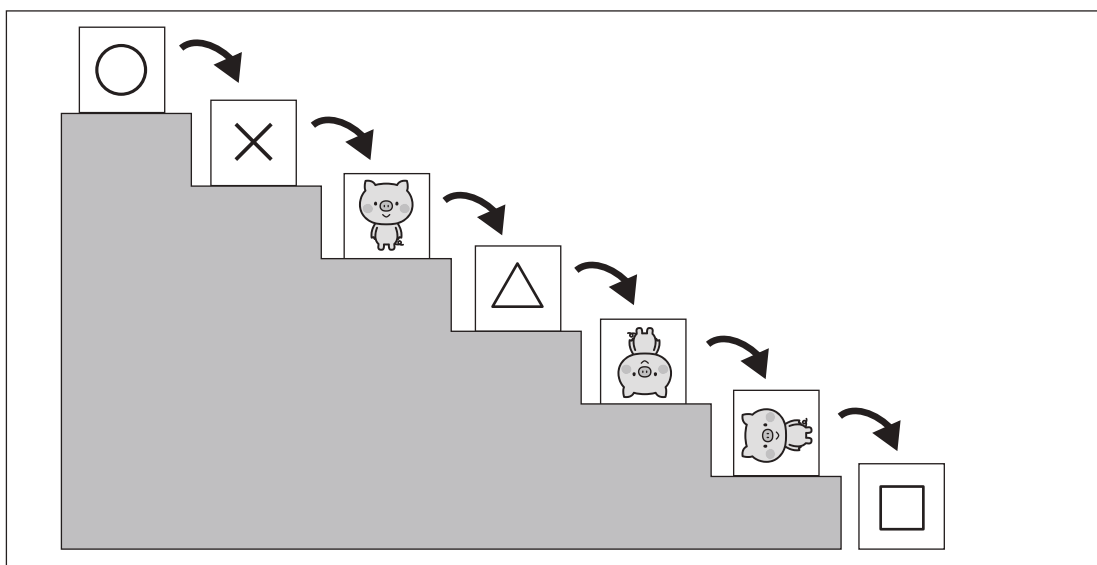
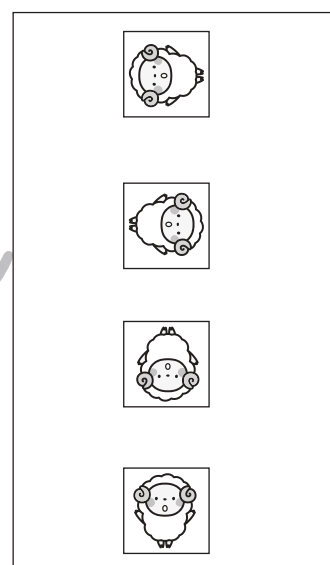
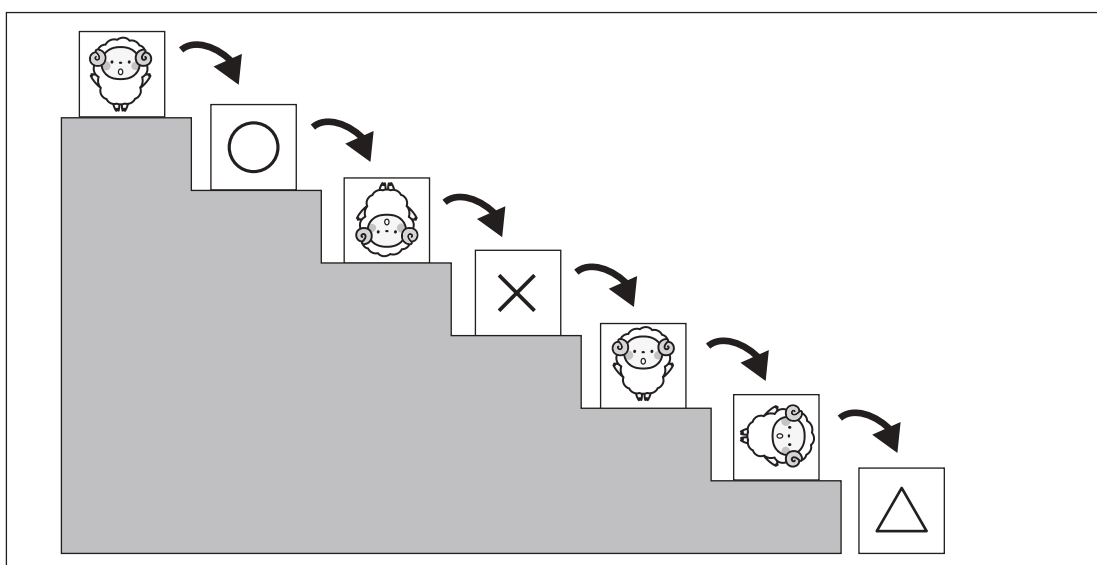

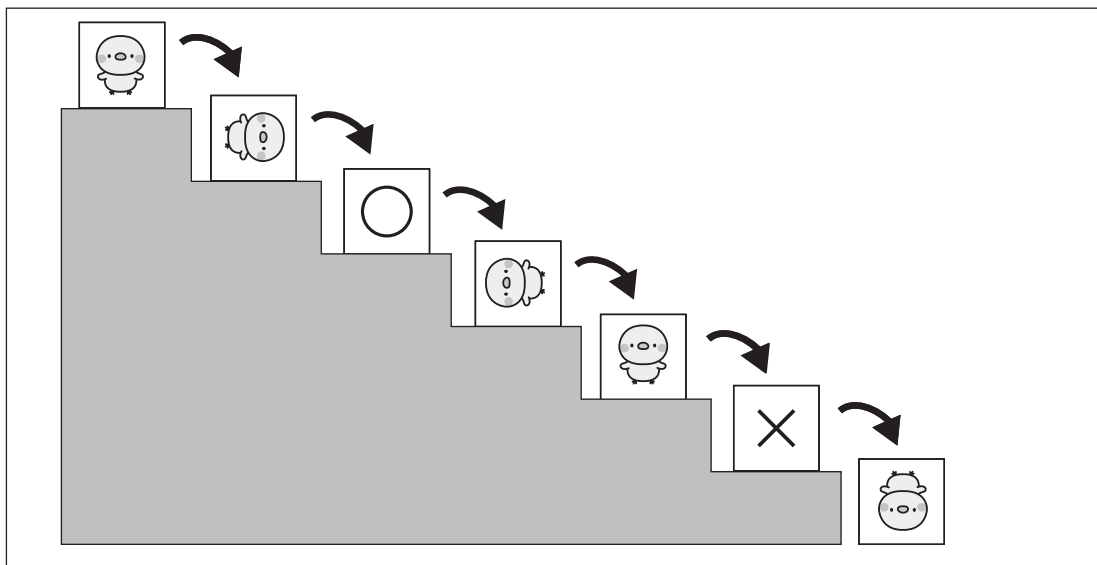


# おうちで、やろう。

Study at home. 小学校受験の家庭学習教材

推理：回転 18

階段の上にある箱を一段ずつ落とした時の箱に描いてある模様の見え方を考えます。  
それぞれの記号の場所の見え方を右の四角の中から見つけてそれぞれの記号をつけます。



※1. このプリントは、しながわ・目黒こどもスクールのウェブサイトでダウンロードができます。無断複写・引用はご遠慮ください。  
 ※2. このプリントを活用したオンライン授業のスケジュールは、しながわ・目黒こどもスクールのウェブサイトでご確認ください。

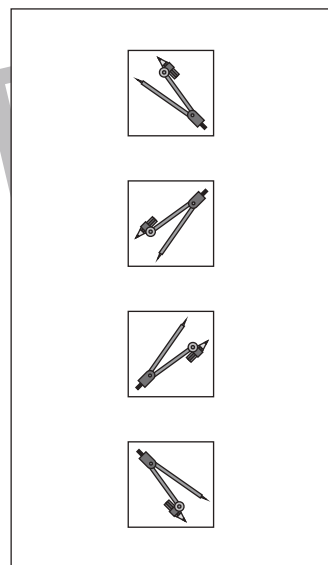
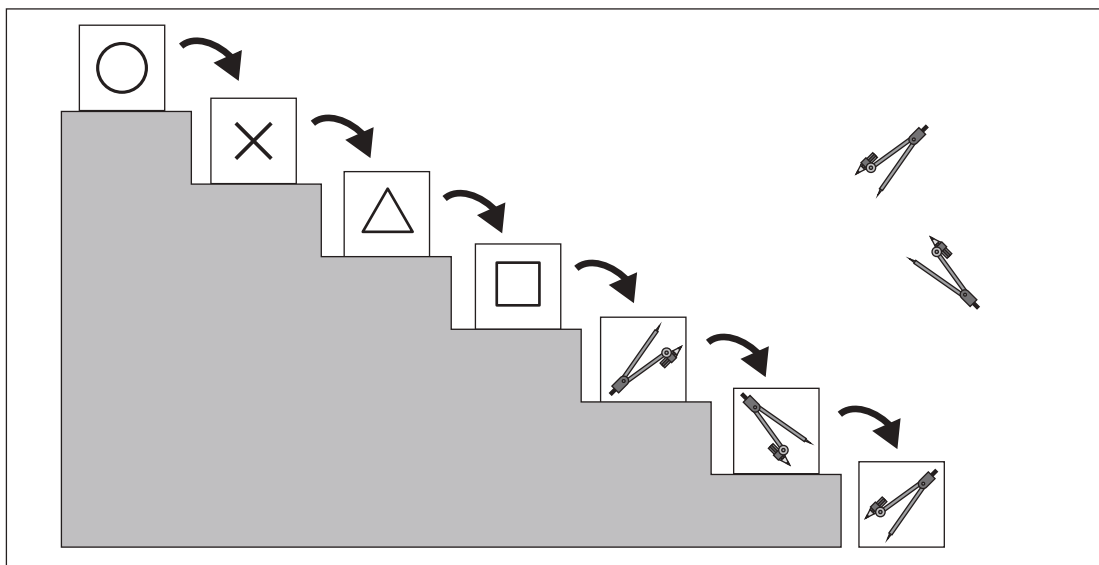
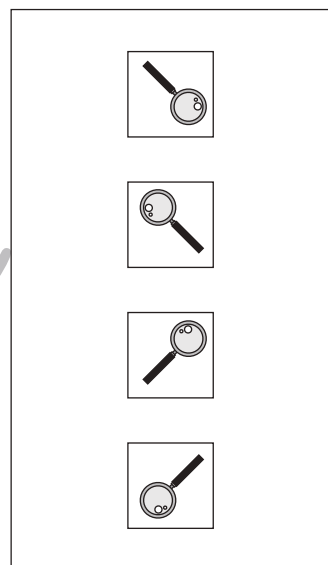
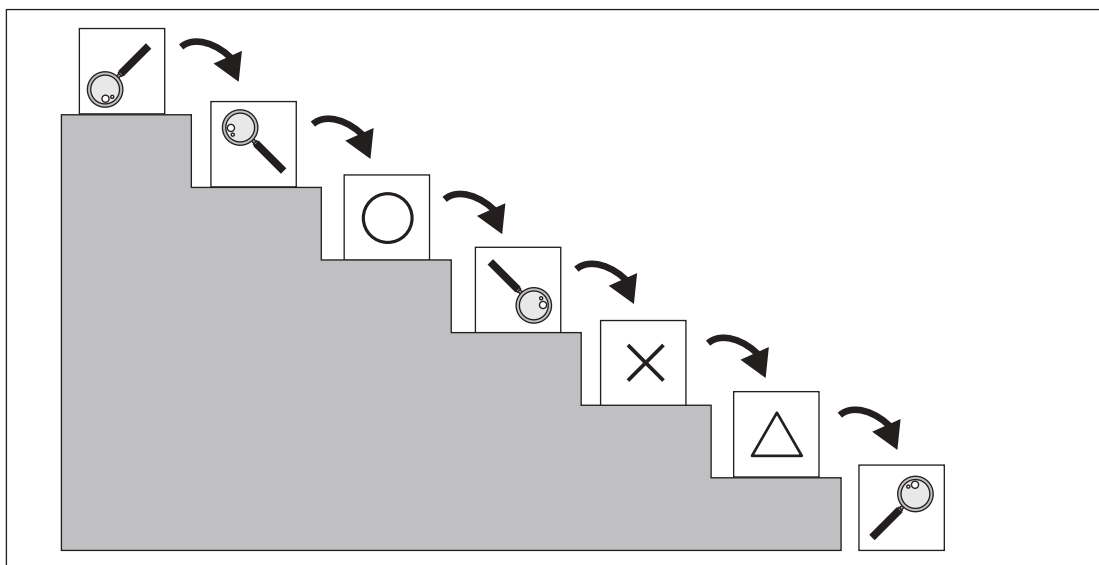
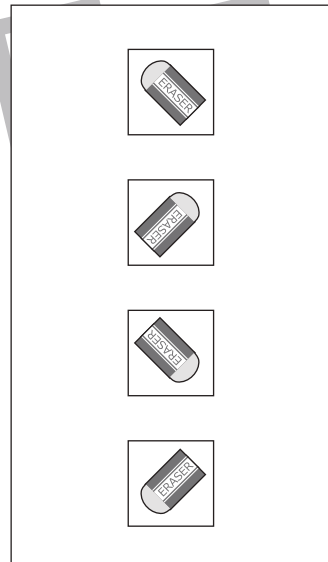
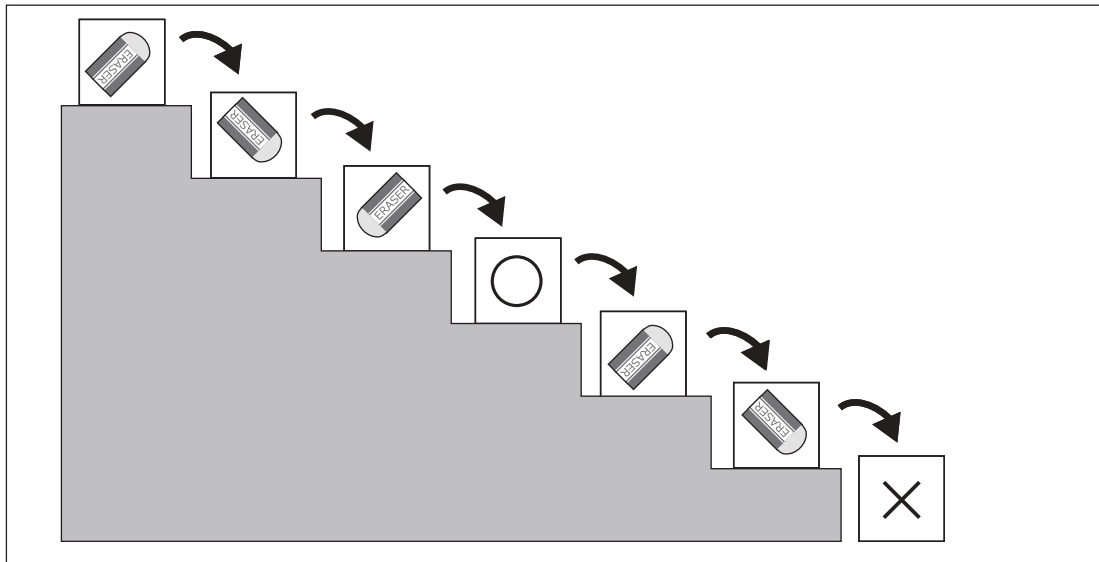


# おうちで、やろう。

Study at home. 小学校受験の家庭学習教材

推理：回転 19

階段の上にある箱を一段ずつ落とした時の箱に描いてある模様の見え方を考えます。  
それぞれの記号の場所の見え方を右の四角の中から見つけてそれぞれの記号をつけます。



※1. このプリントは、しながわ・目黒こどもスクールのウェブサイトでダウンロードができます。無断複写・引用はご遠慮ください。  
 ※2. このプリントを活用したオンライン授業のスケジュールは、しながわ・目黒こどもスクールのウェブサイトでご確認ください。

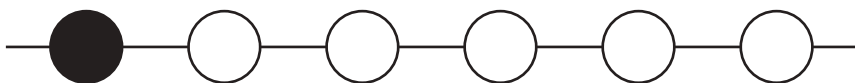
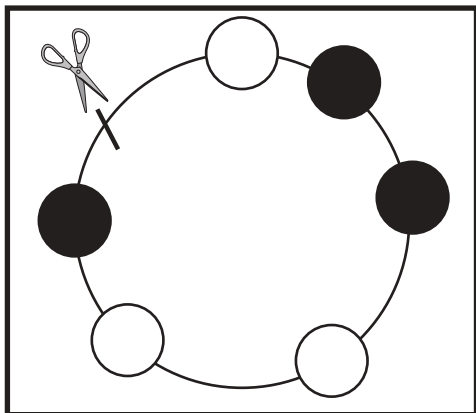
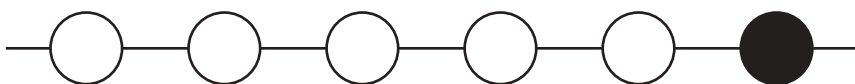

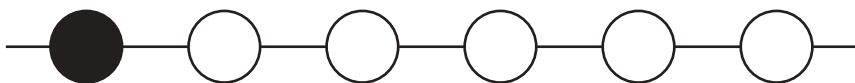
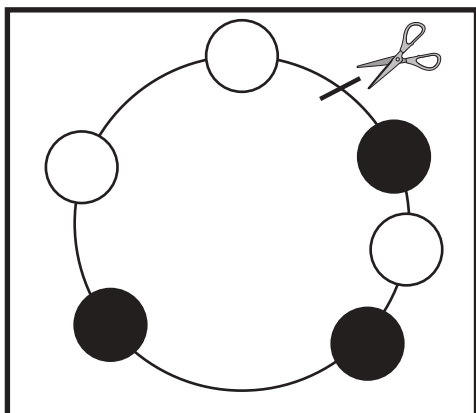
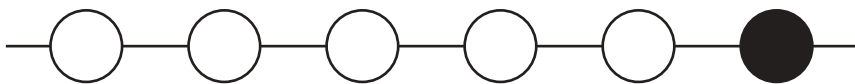
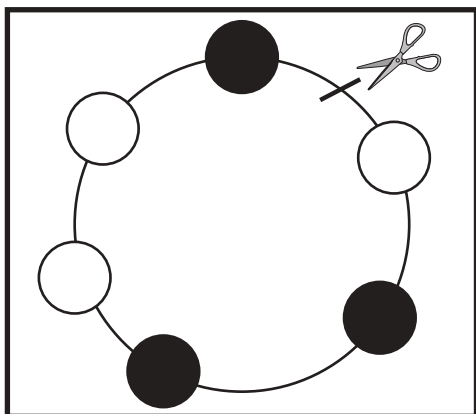


# おうちで、やろう。

Study at home. 小学校受験の家庭学習教材

## 推理：輪つなぎ 4

左の四角の中は白と黒のビーズでできたプレスレットです。このプレスレットを線の場所ではさみで切りました。切ったあと、右のように並べたとき、黒いビーズはどこになりますか。黒いビーズの場所を塗ります。



※1. このプリントは、しながわ・目黒こどもスクールのウェブサイトでダウンロードができます。無断複写・引用はご遠慮ください。  
※2. このプリントを活用したオンライン授業のスケジュールは、しながわ・目黒こどもスクールのウェブサイトでご確認ください。

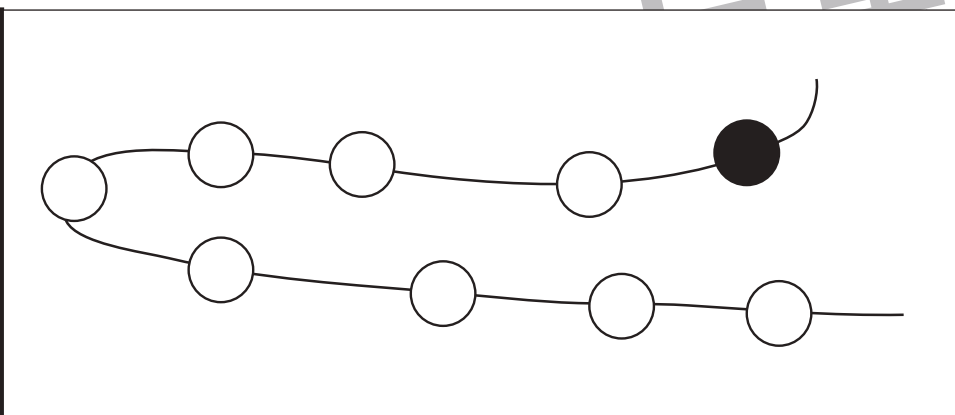
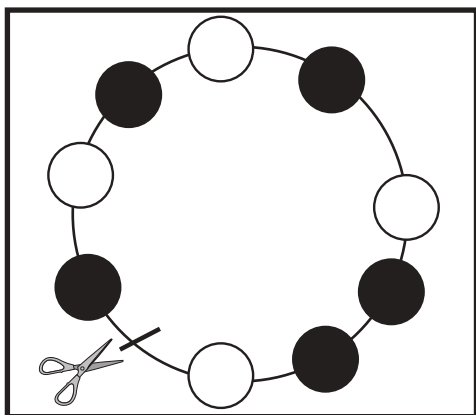
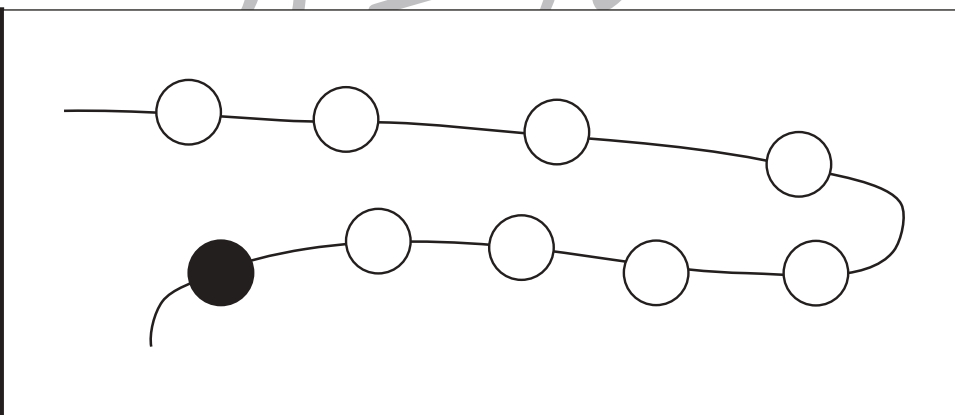
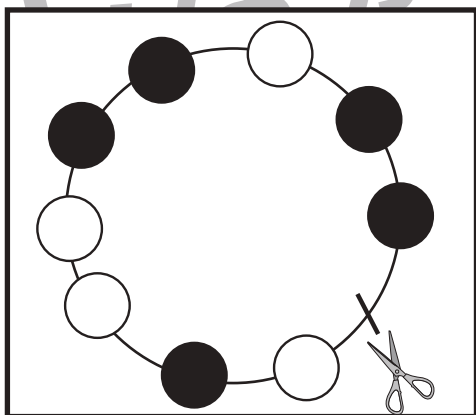
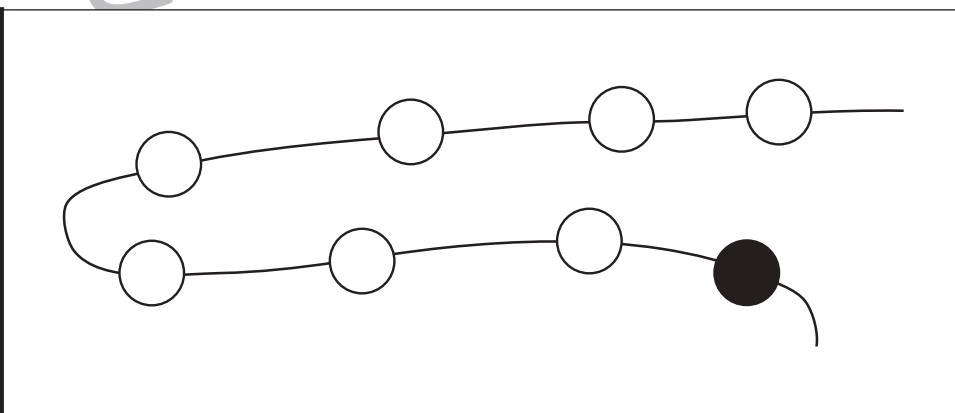
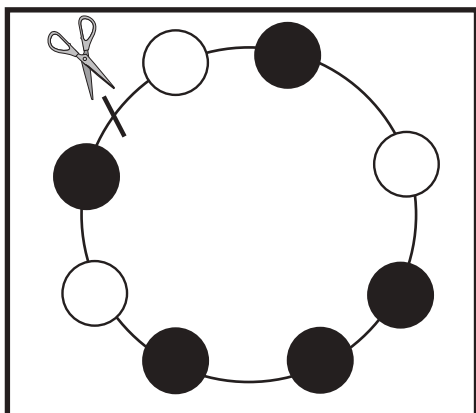
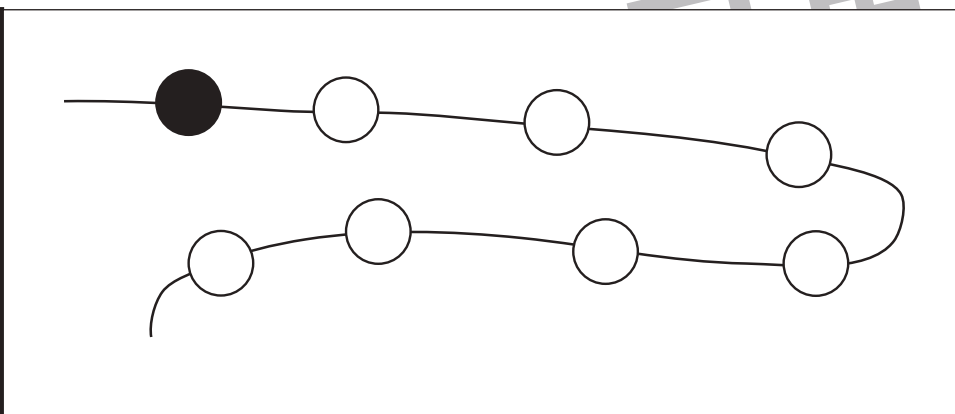
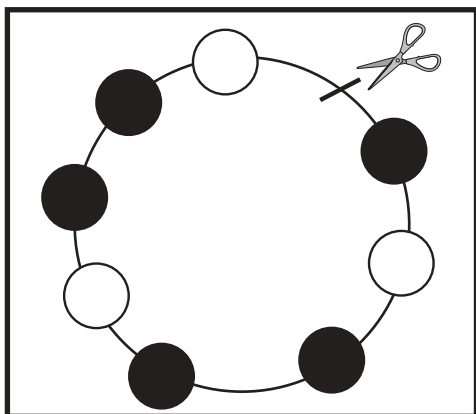


# おうちで、やろう。

Study at home. 小学校受験の家庭学習教材

## 推理：輪つなぎ5

左の四角の中は白と黒のビーズでできたブレスレットです。このブレスレットを線の場所ではさみで切りました。切ったあと、右のように並べたとき、黒いビーズはどこになりますか。黒いビーズの場所を塗ります。



※1. このプリントは、しながわ・目黒こどもスクールのウェブサイトでダウンロードができます。無断複写・引用はご遠慮ください。

※2. このプリントを活用したオンライン授業のスケジュールは、しながわ・目黒こどもスクールのウェブサイトでご確認ください。





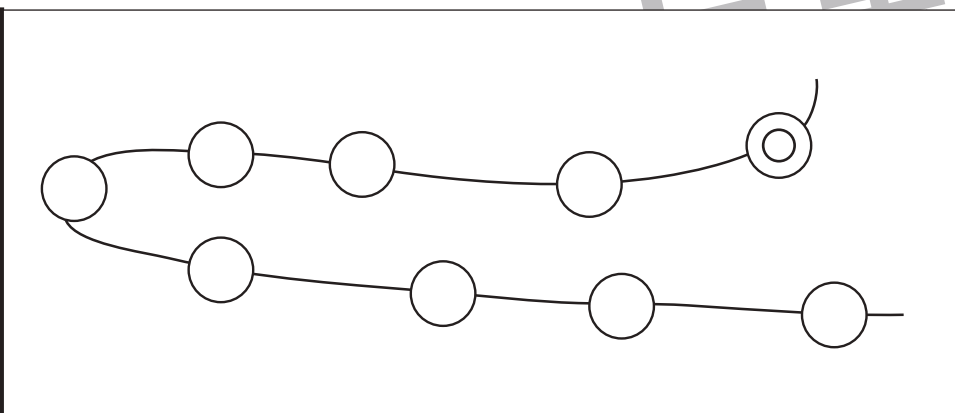
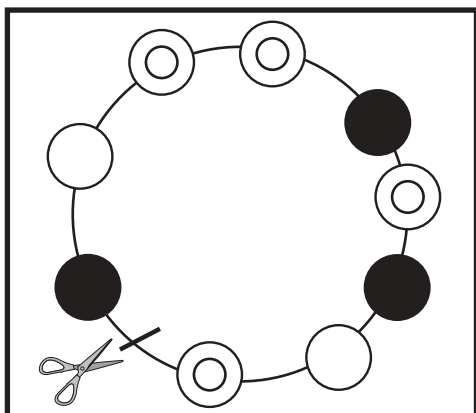
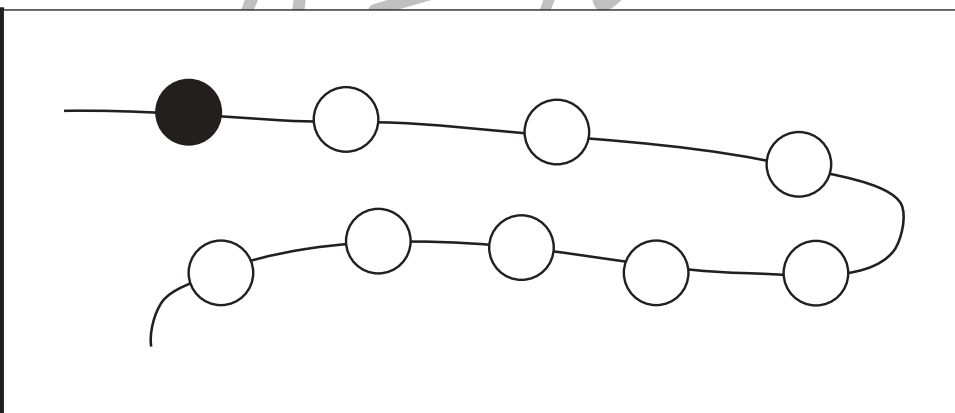
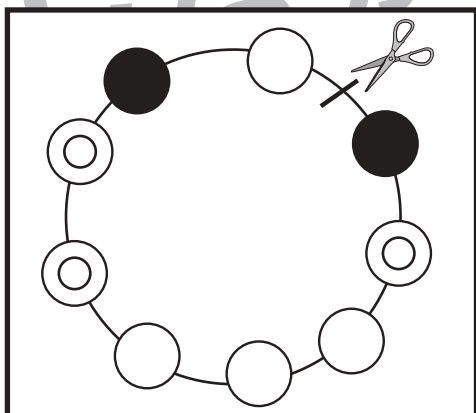
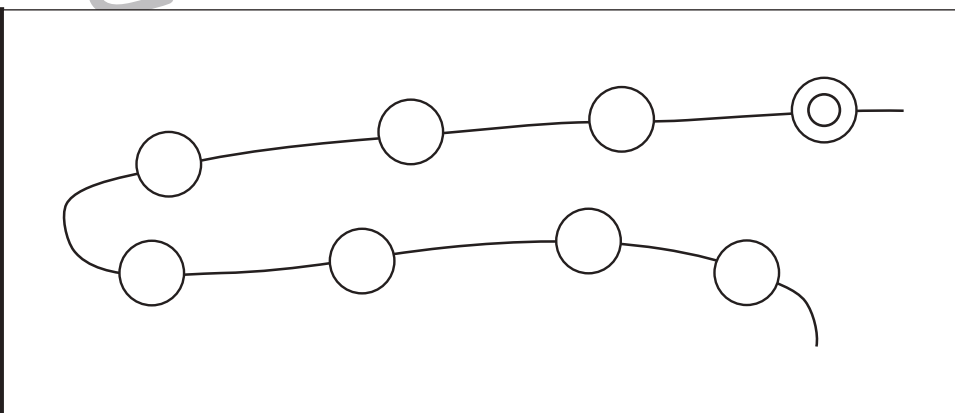
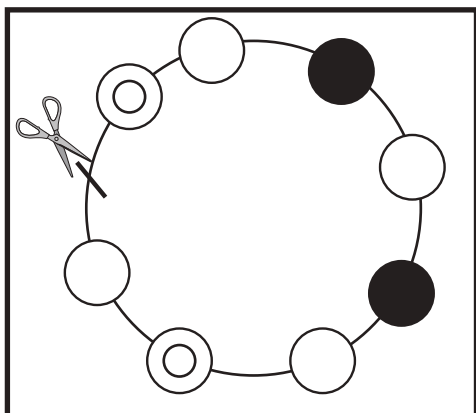
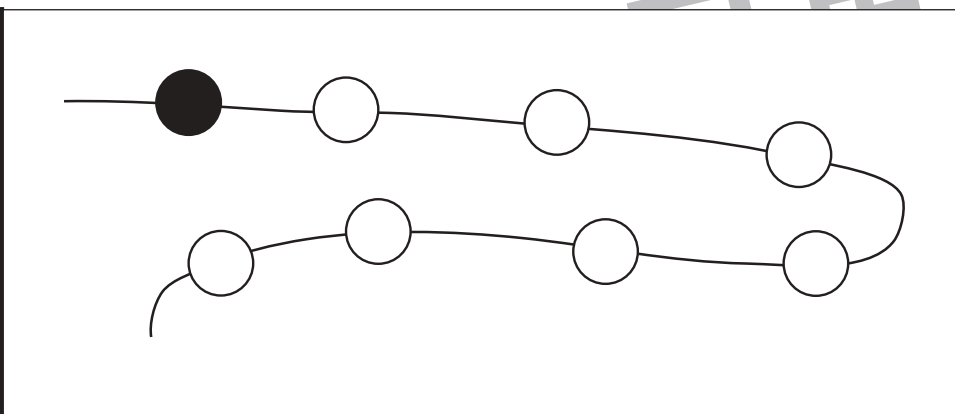
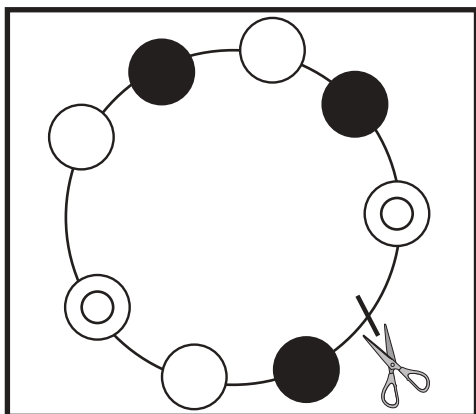


# おうちで、やろう。

Study at home. 小学校受験の家庭学習教材

## 推理：輪つなぎ6

左の四角の中は3つピースでできたプレスレットです。このプレスレットを線の場所ではさみで切りました。切ったあと、右のように並べたときのビーズの並び方はどうなりますか。その通りになるように色を塗ったり、印をかきます。



※1. このプリントは、しながわ・目黒こどもスクールのウェブサイトからダウンロードができます。無断複写・引用はご遠慮ください。

※2. このプリントを活用したオンライン授業のスケジュールは、しながわ・目黒こどもスクールのウェブサイトでご確認ください。





# おうちで、やろう。

Study at home. 小学校受験の家庭学習教材

数量：加減 54

建物の中には、外にいる人よりも煙突の数だけ多く人がいます。家の中と外合わせて何人の人がいますか。その数だけ右の四角に丸を描きましょう。

--	--

--	--

--	--

※1. このプリントは、しながわ・目黒こどもスクールのウェブサイトでダウンロードができます。無断複写・引用はご遠慮ください。

※2. このプリントを活用したオンライン授業のスケジュールは、しながわ・目黒こどもスクールのウェブサイトでご確認ください。

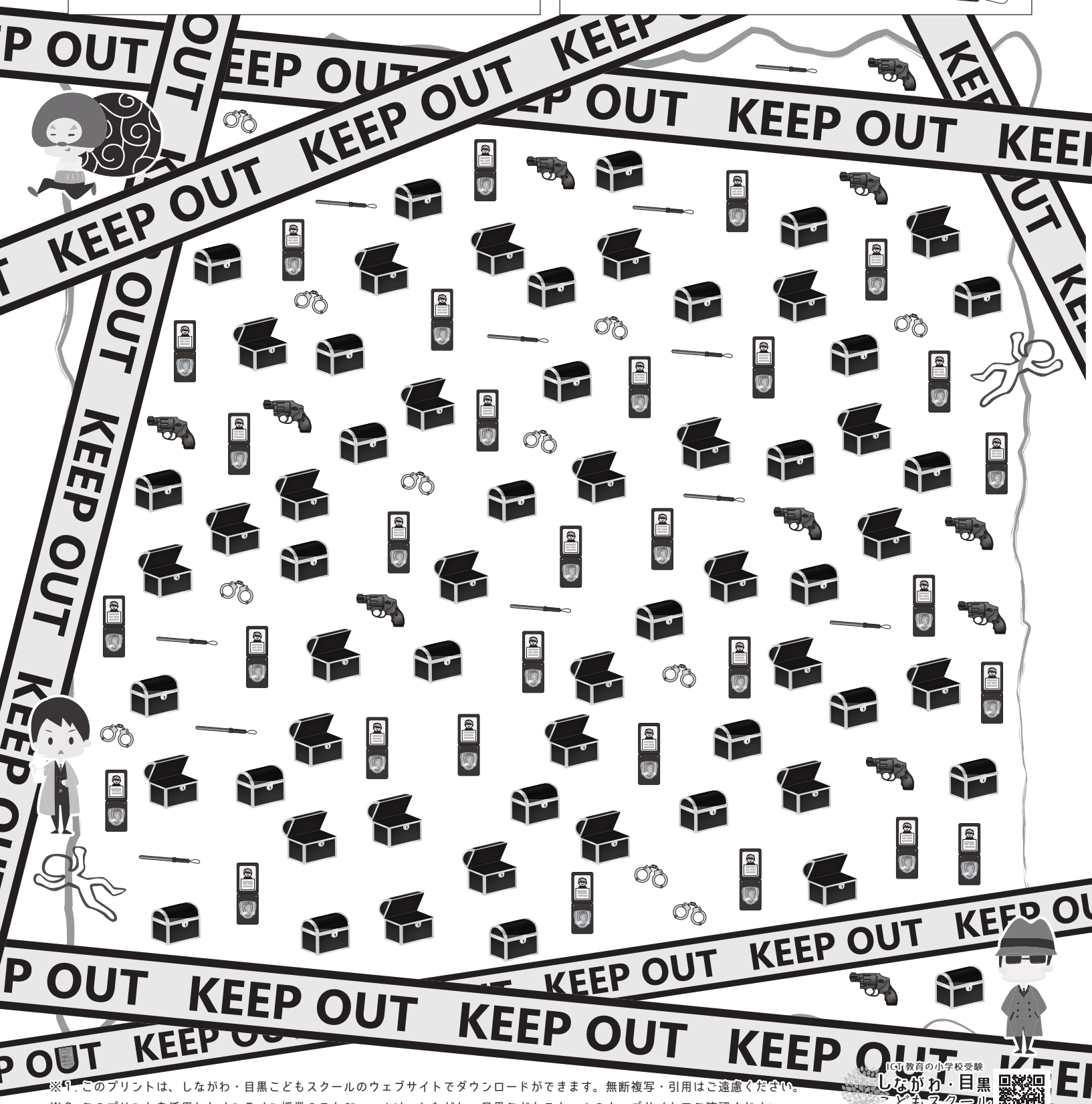
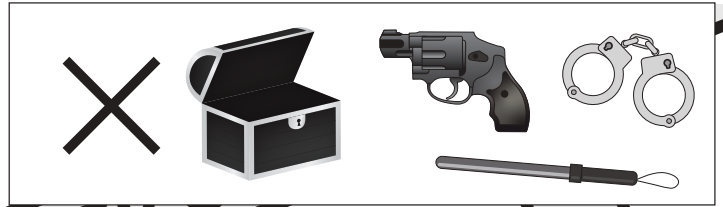


# おうちで、やろう。

Study at home. 小学校受験の家庭学習教材

## 推理：たからさがし

あなたは宝島にやってきました。宝箱と宝箱の鍵をたくさん見つけにいけます。下の地図の中からお手本にある「宝箱」「警察手帳」、どこかに1つだけある「石板」を見つけて○をつけましょう。「もう空いている宝箱」と「拳銃」「警棒」「手錠」はハズレですから何も印はつけません。宝探しの時間はたったの1分です。それまでに、できるだけ多くの「宝箱」「警察手帳」「石板」を見つけてみましょう。



※1. このプリントは、しながわ・目黒こどもスクールのウェブサイトでダウンロードができます。無断複写・引用はご遠慮ください。

※2. このプリントを活用したオンライン授業のスケジュールは、しながわ・目黒こどもスクールのウェブサイトでご確認ください。

