












# おうちで、やろう。

Study at home. 小学校受験の家庭学習教材

## 言語：音の理解 1

左側の四角の中のはじめの音と同じ音ではじまる絵を右側の四角の中からみつけて線で結びます。



※1. このプリントは、しながわ・目黒こどもスクールのウェブサイトでダウンロードができます。無断複写・引用はご遠慮ください。  
※2. このプリントを活用したオンライン授業のスケジュールは、しながわ・目黒こどもスクールのウェブサイトでご確認ください。



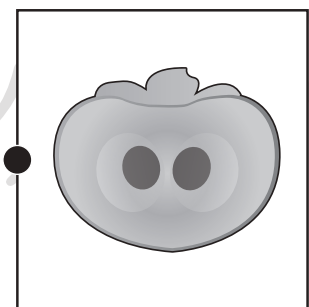

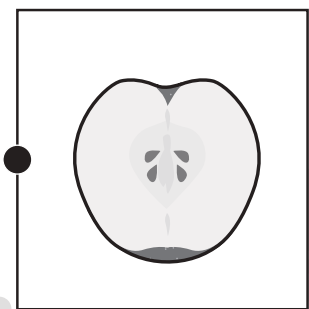
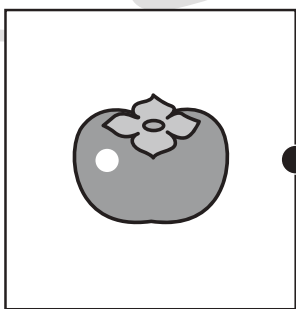

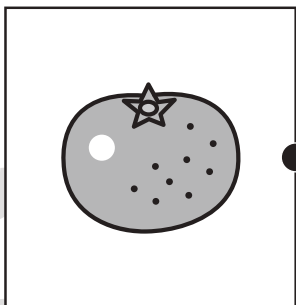
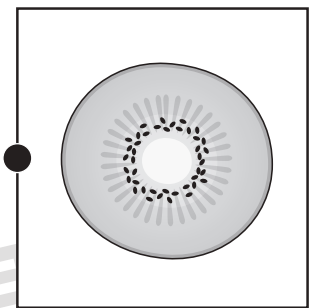

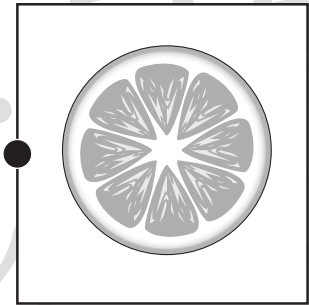



# おうちで、やろう。

Study at home. 小学校受験の家庭学習教材

## 常識：断面図 1

左は果物、右は果物を半分に切ったときの絵のです。同じもの同士の点と点を線で結びます。



※1. このプリントは、しながわ・目黒こどもスクールのウェブサイトでダウンロードができます。無断複写・引用はご遠慮ください。  
※2. このプリントを活用したオンライン授業のスケジュールは、しながわ・目黒こどもスクールのウェブサイトでご確認ください。





# おうちで、やろう。

Study at home. 小学校受験の家庭学習教材

図形：回転1

左のお手本を矢印の方向へ1回ずつ倒した時の見え方を考えて空いている四角に○をかきます。一番上の問題はお手本です。点線の○をなぞりましょう。

Row 1: A sequence of five 2x2 grids. The first grid has a solid circle in the top-left cell. Curved arrows above the grids indicate a 90-degree clockwise rotation. The second grid has a dashed circle in the top-right cell. The third grid has a dashed circle in the bottom-right cell. The fourth grid has a dashed circle in the bottom-left cell. The fifth grid has a dashed circle in the top-left cell.

Row 2: A sequence of five 2x2 grids. The first grid has a solid circle in the bottom-left cell. Curved arrows above the grids indicate a 90-degree clockwise rotation. The remaining four grids are empty.

Row 3: A sequence of five 2x2 grids. The first grid has solid circles in the top-right and bottom-right cells. Curved arrows above the grids indicate a 90-degree clockwise rotation. The remaining four grids are empty.

Row 4: A sequence of five 2x2 grids. The first grid has solid circles in the top-left and bottom-right cells. Curved arrows above the grids indicate a 90-degree clockwise rotation. The remaining four grids are empty.

※1. このプリントは、しながわ・目黒こどもスクールのウェブサイトからダウンロードできます。無断複写・引用はご遠慮ください。  
 ※2. このプリントを活用したオンライン授業のスケジュールは、しながわ・目黒こどもスクールのウェブサイトでご確認ください。



# おうちで、やろう。

Study at home. 小学校受験の家庭学習教材

## 図形：回転2

左のお手本を矢印の方向へ1回倒した時の見え方を考えて右の四角にかきます。

	↙			↙	
	↙			↙	
	↙			↙	
	↙			↙	
	↙			↙	

※1. このプリントは、しながわ・目黒こどもスクールのウェブサイトでダウンロードができます。無断複写・引用はご遠慮ください。

※2. このプリントを活用したオンライン授業のスケジュールは、しながわ・目黒こどもスクールのウェブサイトでご確認ください。

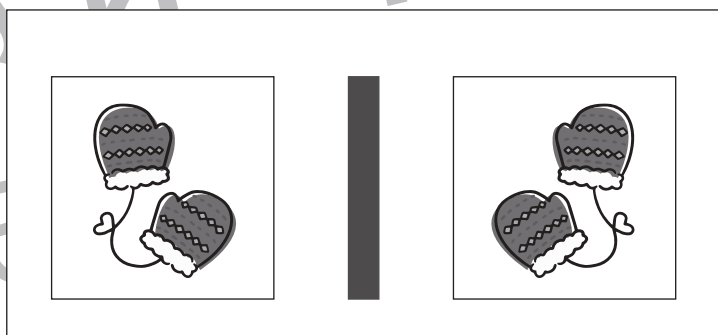
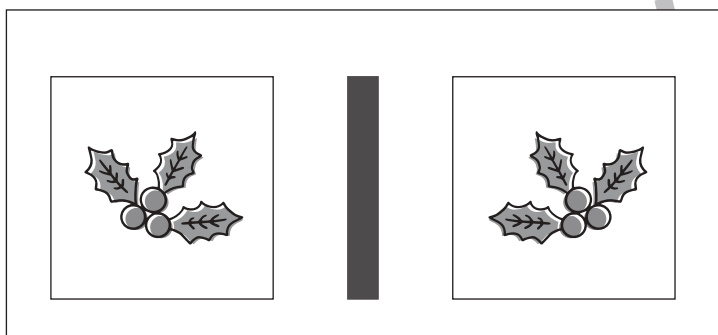

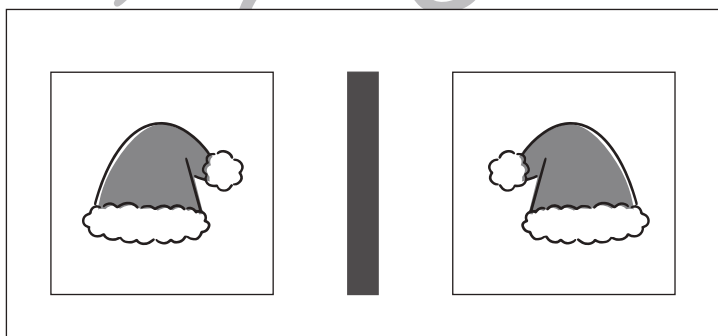
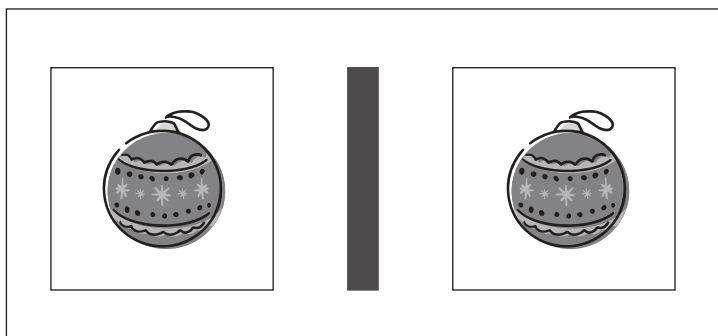
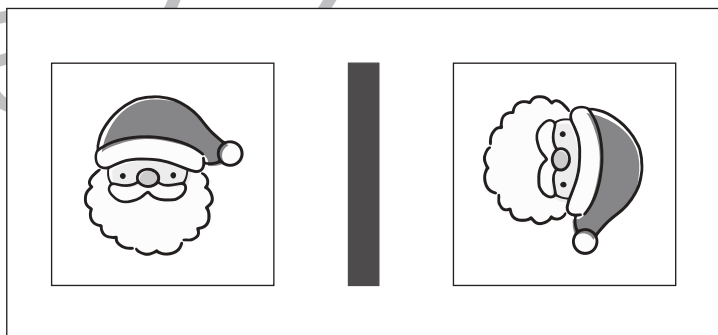
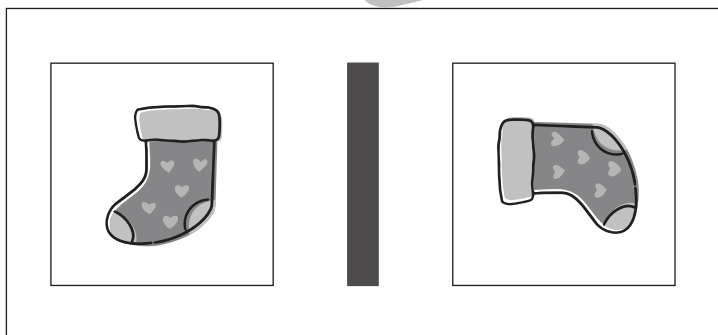
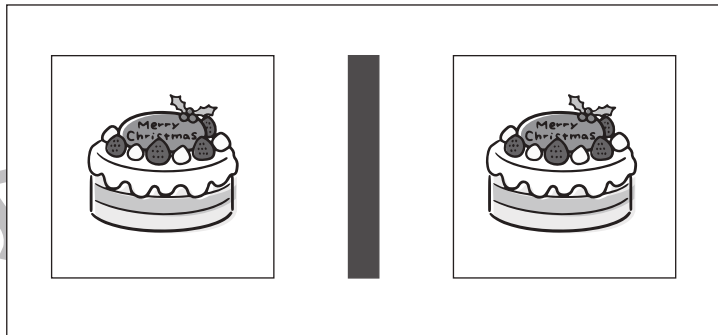
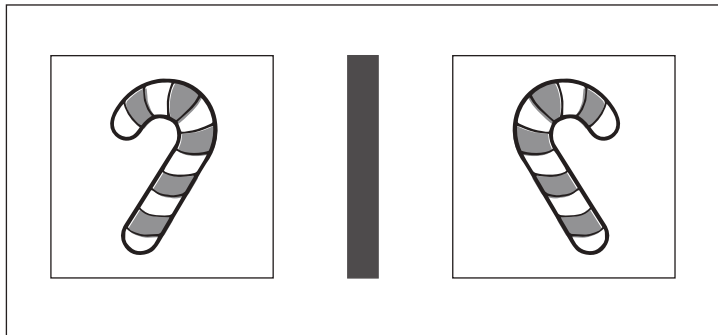


# おうちで、やろう。

Study at home. 小学校受験の家庭学習教材

図形：鏡1

左の四角の絵を真ん中にある鏡で映した時の見え方が右の四角です。  
鏡で見たときの見え方が正しければ○、間違っていれば×を右の四角につけます。



※1. このプリントは、しながわ・目黒こどもスクールのウェブサイトでダウンロードができます。無断複写・引用はご遠慮ください。  
※2. このプリントを活用したオンライン授業のスケジュールは、しながわ・目黒こどもスクールのウェブサイトでご確認ください。



# おうちで、やろう。

Study at home. 小学校受験の家庭学習教材

## 図形：鏡2

左の四角の絵を真ん中にある鏡で映した時の見え方が右の四角です。  
鏡で見たときの見え方が正しければ○、間違っていれば×を右の四角につけます。

	鏡		<input type="checkbox"/>
	鏡		<input type="checkbox"/>
	鏡		<input type="checkbox"/>
	鏡		<input type="checkbox"/>
	鏡		<input type="checkbox"/>
	鏡		<input type="checkbox"/>
	鏡		<input type="checkbox"/>
	鏡		<input type="checkbox"/>

※1. このプリントは、しながわ・目黒こどもスクールのウェブサイトでダウンロードできます。無断複写・引用はご遠慮ください。

※2. このプリントを活用したオンライン授業のスケジュールは、しながわ・目黒こどもスクールのウェブサイトでご確認ください。








# おうちで、やろう。

Study at home. 小学校受験の家庭学習教材

## 推理：系列完成1

絵がある順番通りに並んでいます。○・△・□に入る絵を考えて下の四角の中から選んでそれぞれの記号をつけます。  
※○の場所に入る絵には○、△の場所に入る絵には△をつけます。



※1. このプリントは、しながわ・目黒こどもスクールのウェブサイトでダウンロードができます。無断複写・引用はご遠慮ください。  
 ※2. このプリントを活用したオンライン授業のスケジュールは、しながわ・目黒こどもスクールのウェブサイトでご確認ください。


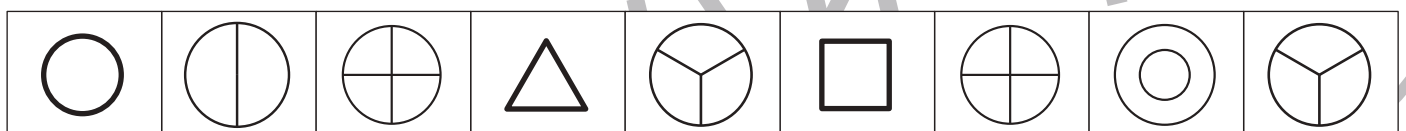
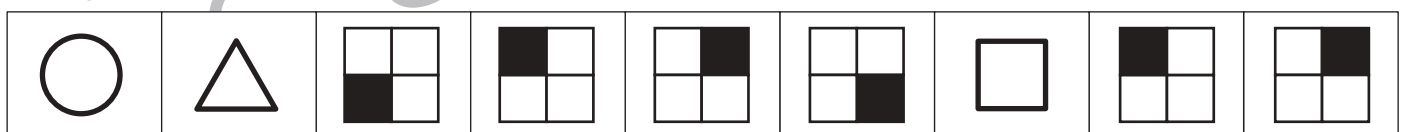


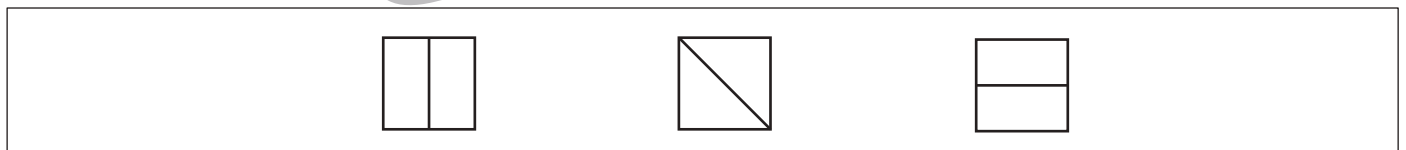
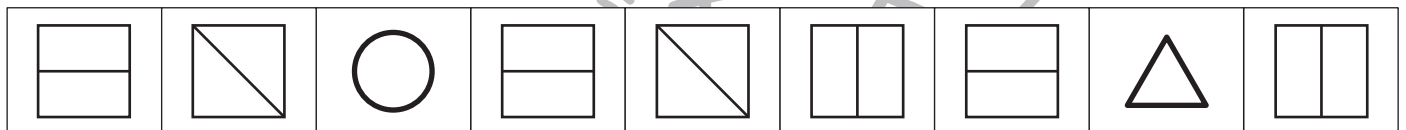




# おうちで、やろう。

Study at home. 小学校受験の家庭学習教材

## 推理：系列完成2

絵がある順番通りに並んでいます。○・△・□に入る絵を考えて下の四角の中から選んでそれぞれの記号をつけます。  
※○の場所に入る絵には○、△の場所に入る絵には△をつけます。



※1. このプリントは、しながわ・目黒こどもスクールのウェブサイトでダウンロードができます。無断複写・引用はご遠慮ください。  
 ※2. このプリントを活用したオンライン授業のスケジュールは、しながわ・目黒こどもスクールのウェブサイトでご確認ください。





# おうちで、よろう。

Study at home. 小学校受験の家庭学習教材

## 推理：系列完成 3

記号がある順番通りに並んでいます。空いている四角に入る記号を考えてその記号をかきます。

○	▽	□	△		▽	□	△	○	▽
---	---	---	---	--	---	---	---	---	---

○		□		○	△	□		○	△
---	--	---	--	---	---	---	--	---	---

○	○	□	△	□	○	○		△	□
---	---	---	---	---	---	---	--	---	---

□									
△	□		○	□	△	□		○	

▽	○	○	□	◁	▽	○		□	◁
---	---	---	---	---	---	---	--	---	---

									▽
--	--	--	--	--	--	--	--	--	---

◁		○	○						
---	--	---	---	--	--	--	--	--	--

□									○
---	--	--	--	--	--	--	--	--	---

○	○	▽	◁		○	○	▽		□
---	---	---	---	--	---	---	---	--	---

※1. このプリントは、しながわ・目黒こどもスクールのウェブサイトでダウンロードができます。無断複写・引用はご遠慮ください。  
 ※2. このプリントを活用したオンライン授業のスケジュールは、しながわ・目黒こどもスクールのウェブサイトでご確認ください。


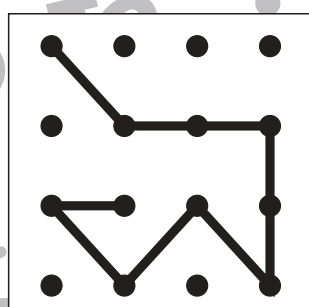

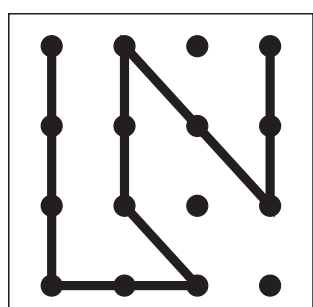

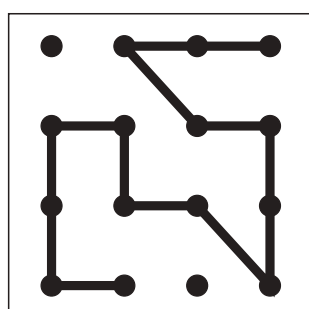

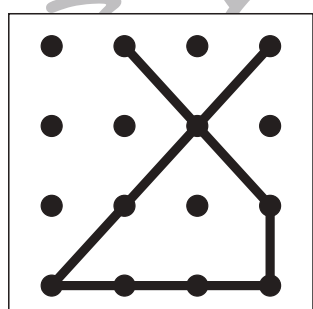

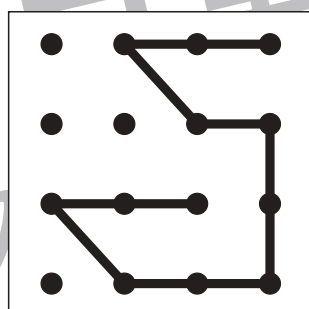

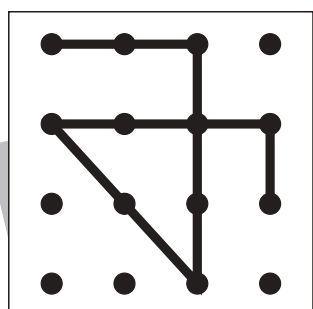

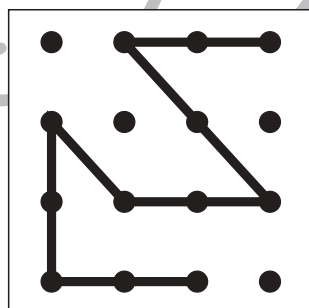

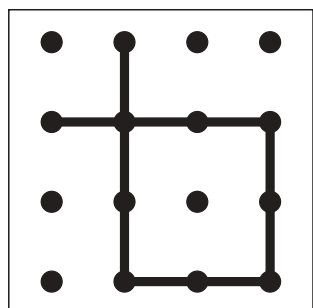

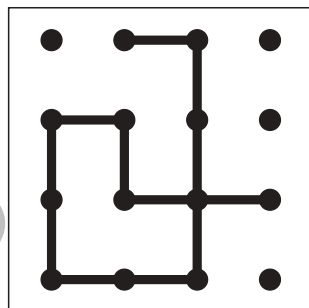

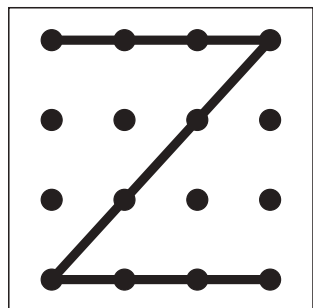


# おうちで、やろう。

Study at home. 小学校受験の家庭学習教材

## 図形：点図形1

左のお手本と同じになるように右の四角に線をかきます。 ※このプリントに解答はありません。



※1. このプリントは、しながわ・目黒こどもスクールのウェブサイトでダウンロードができます。無断複写・引用はご遠慮ください。  
※2. このプリントを活用したオンライン授業のスケジュールは、しながわ・目黒こどもスクールのウェブサイトでご確認ください。

