





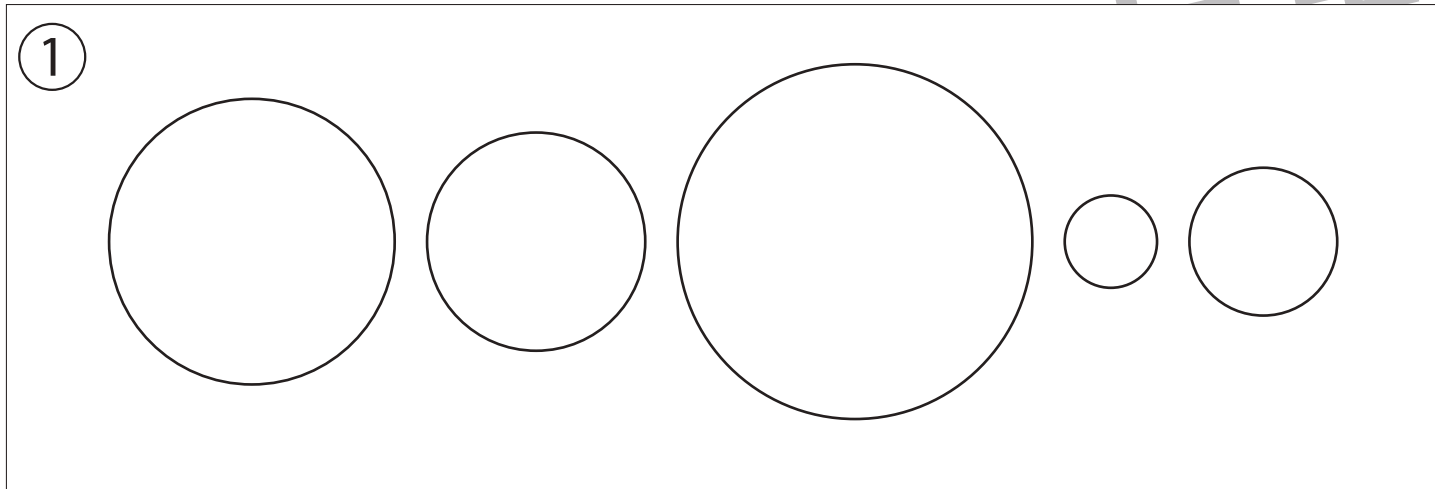
おうちで、やろう。

Study at home. 小学校受験の家庭学習教材

指示の聞き取り 1

それぞれのお話通りになるように色を塗ったり、記号をかきます。問題は1度しか読みませんのでしっかり聞きましょう。

- ① 2番目に小さい○を青色のクーピーで塗り、2番目に大きい○を緑色のクーピーで塗ります。
- ② 四角の中に△を、四角の左に×を、四角の右に○を鉛筆でかきます。
- ③ 同じ大きさの○を横に並べて5つ黒のクーピーでかきます。左から白丸、黒丸の順番になるように○を塗ります。



※1. このプリントは、しながわ・目黒こどもスクールのウェブサイトからダウンロードできます。無断複写・引用はご遠慮ください。
※2. このプリントを活用したオンライン授業のスケジュールは、しながわ・目黒こどもスクールのウェブサイトでご確認ください。









おうちで、やろう。

Study at home. 小学校受験の家庭学習教材

言語：音の数 1

それぞれの四角の中の絵の名前の音の数だけ下の○を塗ります。

 <input type="radio"/> <input type="radio"/> <input type="radio"/> <input type="radio"/> <input type="radio"/> <input type="radio"/> <input type="radio"/>	 <input type="radio"/> <input type="radio"/> <input type="radio"/> <input type="radio"/> <input type="radio"/> <input type="radio"/> <input type="radio"/> <input type="radio"/>
 <input type="radio"/> <input type="radio"/> <input type="radio"/> <input type="radio"/> <input type="radio"/> <input type="radio"/> <input type="radio"/>	 <input type="radio"/> <input type="radio"/> <input type="radio"/> <input type="radio"/> <input type="radio"/> <input type="radio"/> <input type="radio"/> <input type="radio"/>
 <input type="radio"/> <input type="radio"/> <input type="radio"/> <input type="radio"/> <input type="radio"/> <input type="radio"/> <input type="radio"/>	 <input type="radio"/> <input type="radio"/> <input type="radio"/> <input type="radio"/> <input type="radio"/> <input type="radio"/> <input type="radio"/> <input type="radio"/>

※1. このプリントは、しながわ・目黒こどもスクールのウェブサイトからダウンロードできます。無断複写・引用はご遠慮ください。

※2. このプリントを活用したオンライン授業のスケジュールは、しながわ・目黒こどもスクールのウェブサイトでご確認ください。




おうちで、やろう。


Study at home. 小学校受験の家庭学習教材

言語：音の数2

それぞれの四角の中の絵の名前の音の数だけ下の○を塗ります。




○ ○ ○ ○ ○ ○ ○ ○




○ ○ ○ ○ ○ ○ ○ ○



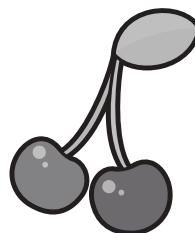
○ ○ ○ ○ ○ ○ ○ ○



○ ○ ○ ○ ○ ○ ○ ○



○ ○ ○ ○ ○ ○ ○ ○



○ ○ ○ ○ ○ ○ ○ ○

※1. このプリントは、しながわ・目黒こどもスクールのウェブサイトでダウンロードができます。無断複写・引用はご遠慮ください。
※2. このプリントを活用したオンライン授業のスケジュールは、しながわ・目黒こどもスクールのウェブサイトでご確認ください。





おうちで、やろう。

Study at home. 小学校受験の家庭学習教材

言語：音の数3

それぞれの四角の中の絵の名前の音の数だけ下の○を塗ります。



○ ○ ○ ○ ○ ○ ○



○ ○ ○ ○ ○ ○ ○



○ ○ ○ ○ ○ ○ ○



○ ○ ○ ○ ○ ○ ○



○ ○ ○ ○ ○ ○ ○



○ ○ ○ ○ ○ ○ ○

※1. このプリントは、しながわ・目黒こどもスクールのウェブサイトでダウンロードができます。無断複写・引用はご遠慮ください。
※2. このプリントを活用したオンライン授業のスケジュールは、しながわ・目黒こどもスクールのウェブサイトでご確認ください。



おうちで、やろう。

Study at home. 小学校受験の家庭学習教材

図形：移動 1

左の四角がお手本です。このお手本の○を矢印の方向へ移動させた場所を考えて右のマスに○をかきます。
矢印は上から順番にみていきます。

↓	○						

↓		○					
→							

→	○						

↑							
→							
	○						

←						○	

→	○						
↓							

↑							
		○					

←							
↑						○	

↑							
↑							
		○					

→							
→							
	○						

※1. このプリントは、しながわ・目黒こどもスクールのウェブサイトダウンロードができます。無断複写・引用はご遠慮ください。
※2. このプリントを活用したオンライン授業のスケジュールは、しながわ・目黒こどもスクールのウェブサイトでご確認ください。



おうちで、よろう。

Study at home. 小学校受験の家庭学習教材

図形：移動2

左の四角がお手本です。このお手本の○を矢印の方向へ移動させた場所を考えて右のマスに○をかきます。
矢印は上から順番にみていきます。

↑						
→						
	○					

→		○				
↓						
↓						

→		○				
↓						

↑						
→	○					
←						

←			○			
←						

↓	○					
↓						
→						

→	○					
↓						

→		○				
↓						
←						

→						
↑		○				

←			○			
↓						
←						

※1. このプリントは、しながわ・目黒こどもスクールのウェブサイトでダウンロードができます。無断複写・引用はご遠慮ください。
※2. このプリントを活用したオンライン授業のスケジュールは、しながわ・目黒こどもスクールのウェブサイトでご確認ください。



おうちで、よろう。

Study at home. 小学校受験の家庭学習教材

図形：移動3

左の四角がお手本です。このお手本の○を右へ1マス横に移動させた時の場所を考えて右のマスに○をかきます。

※1. このプリントは、しながわ・目黒こどもスクールのウェブサイトでダウンロードができます。無断複写・引用はご遠慮ください。
 ※2. このプリントを活用したオンライン授業のスケジュールは、しながわ・目黒こどもスクールのウェブサイトでご確認ください。

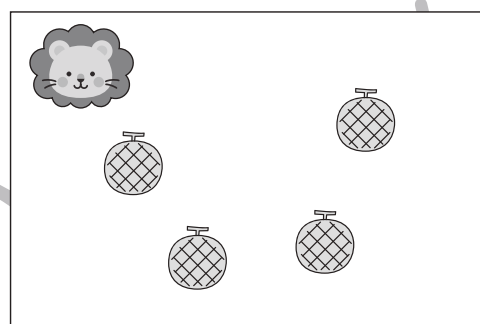

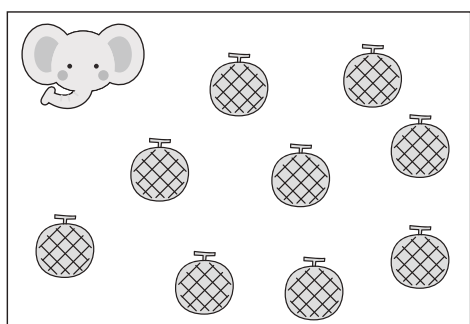





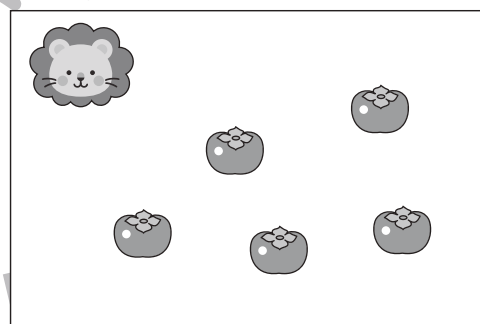
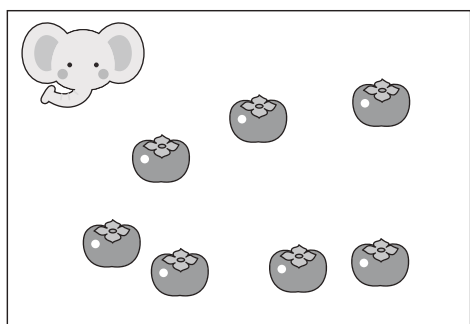

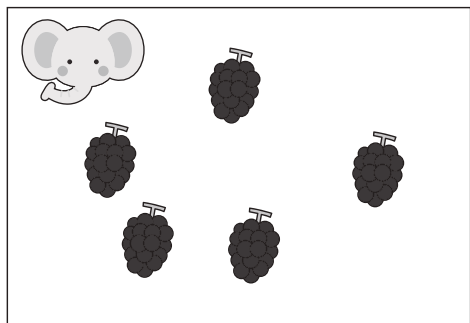


おうちで、やろう。

Study at home. 小学校受験の家庭学習教材

数量：違う数 1

ゾウとライオンが同じ果物を持っていますが、持っている数が違います。ゾウはライオンよりもいくつ多く果物を持っていますか。その数だけ真ん中の四角の中に○をかきます。



※ 1. このプリントは、しながわ・目黒こどもスクールのウェブサイトでダウンロードができます。無断複写・引用はご遠慮ください。

※ 2. このプリントを活用したオンライン授業のスケジュールは、しながわ・目黒こどもスクールのウェブサイトでご確認ください。



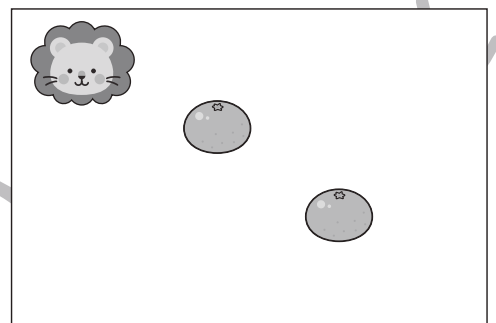

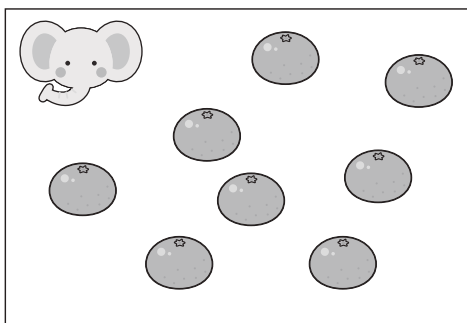




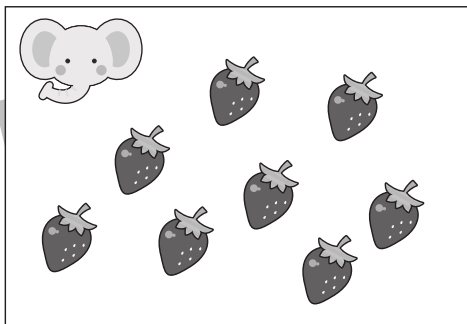


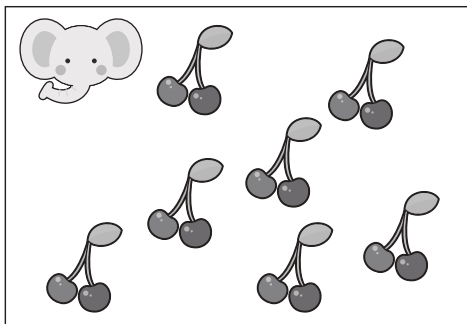


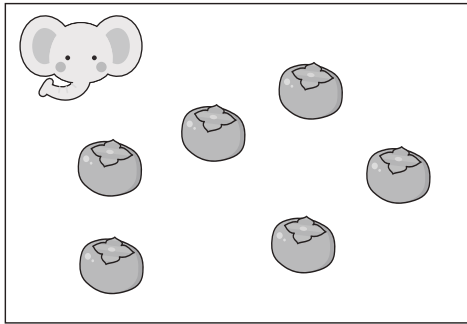


おうちで、やろう。

Study at home. 小学校受験の家庭学習教材

数量：違う数2

ゾウとライオンが同じクッキーを持っていますが、持っている数が違います。2匹が持っているクッキーの数の違いはいくつですか。その数だけ真ん中の四角に○をかきます。



※1. このプリントは、しながわ・目黒こどもスクールのウェブサイトでダウンロードができます。無断複写・引用はご遠慮ください。
※2. このプリントを活用したオンライン授業のスケジュールは、しながわ・目黒こどもスクールのウェブサイトでご確認ください。



おうちで、よろう。

Study at home. 小学校受験の家庭学習教材

図形：点図形3

左のお手本と同じになるように右の四角に線をかきます。 ※このプリントに解答はありません。

※1. このプリントは、しながわ・目黒こどもスクールのウェブサイトでダウンロードができます。無断複写・引用はご遠慮ください。

※2. このプリントを活用したオンライン授業のスケジュールは、しながわ・目黒こどもスクールのウェブサイトでご確認ください。