



おうちで、やろう。

Study at home. 小学校受験の家庭学習教材

図形：移動4

丸で囲んである点から上の四角の中の矢印の方向へ進み点と点を線で結びます。そして最後についた点を○で囲みます。
上の四角の矢印は左から順番に見ていきます。

↑ → ↑ → ↓ ↓

→ ↑ ← ← ↓ ↓ →

↓ → ↑ → ↑ ← ↑ ←

↓ ↓ ↓ → → ↑ ← ↑

※1. このプリントは、しながわ・目黒こどもスクールのウェブサイトでダウンロードができます。無断複写・引用はご遠慮ください。
 ※2. このプリントを活用したオンライン授業のスケジュールは、しながわ・目黒こどもスクールのウェブサイトでご確認ください。



おうちで、やろう。

Study at home. 小学校受験の家庭学習教材

図形：移動5

丸で囲んである点から上の四角の中の矢印の方向へ進み点と点を線で結びます。そして最後についた点を○で囲みます。
上の四角の矢印は左から順番に見ていきます。

←←← ↑ → ↑ → ↑ ↑

↑ → → → ↑ ↑ ← ← ↓

↓ ← ↓ ← ↓ ← → → ↓

→ ↑ ← ↓ ↓ ← ← ↑ →

※1. このプリントは、しながわ・目黒こどもスクールのウェブサイトでダウンロードができます。無断複写・引用はご遠慮ください。
※2. このプリントを活用したオンライン授業のスケジュールは、しながわ・目黒こどもスクールのウェブサイトでご確認ください。

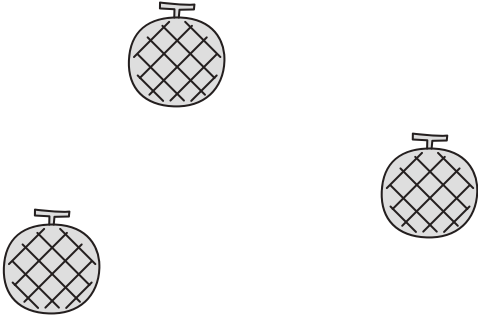
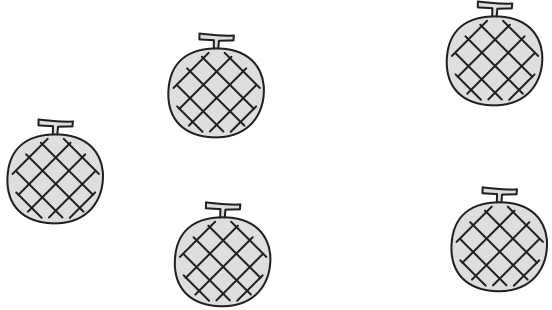

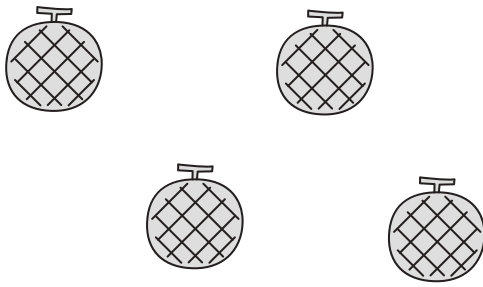






おうちで、やろう。

Study at home. 小学校受験の家庭学習教材

数量：多少4

太い線で囲まれた4つの四角の中の果物の数をかぞえて、一番多い四角に○、一番少ない四角に×をつけます。

※1. このプリントは、しながわ・目黒こどもスクールのウェブサイトでダウンロードができます。無断複写・引用はご遠慮ください。

※2. このプリントを活用したオンライン授業のスケジュールは、しながわ・目黒こどもスクールのウェブサイトでご確認ください。



おうちで、やろう。

Study at home. 小学校受験の家庭学習教材

数量：多少5

太い線で囲まれた4つの四角の中の果物の数をかぞえて、一番多い四角に○、一番少ない四角に×をつけます。

※1. このプリントは、しながわ・目黒こどもスクールのウェブサイトからダウンロードできます。無断複写・引用はご遠慮ください。

※2. このプリントを活用したオンライン授業のスケジュールは、しながわ・目黒こどもスクールのウェブサイトでご確認ください。





おうちで、やろう。

Study at home. 小学校受験の家庭学習教材

数量：多少6

左のサイコロの目よりも数の多い果物を、右の四角の中から選んで○をかきましょう。

※1. このプリントは、しながわ・目黒こどもスクールのウェブサイトからダウンロードできます。無断複写・引用はご遠慮ください。

※2. このプリントを活用したオンライン授業のスケジュールは、しながわ・目黒こどもスクールのウェブサイトでご確認ください。





おうちで、やろう。

Study at home. 小学校受験の家庭学習教材

数量：多少？

左のサイコロの目よりも数の多い果物を、右の四角の中から選んで○をかきましょう。

※1. このプリントは、しながわ・目黒こどもスクールのウェブサイトからダウンロードできます。無断複写・引用はご遠慮ください。

※2. このプリントを活用したオンライン授業のスケジュールは、しながわ・目黒こどもスクールのウェブサイトでご確認ください。


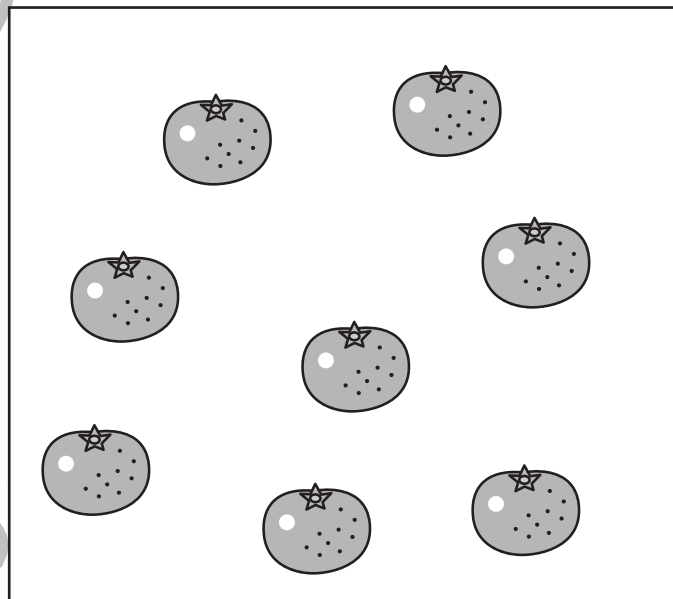



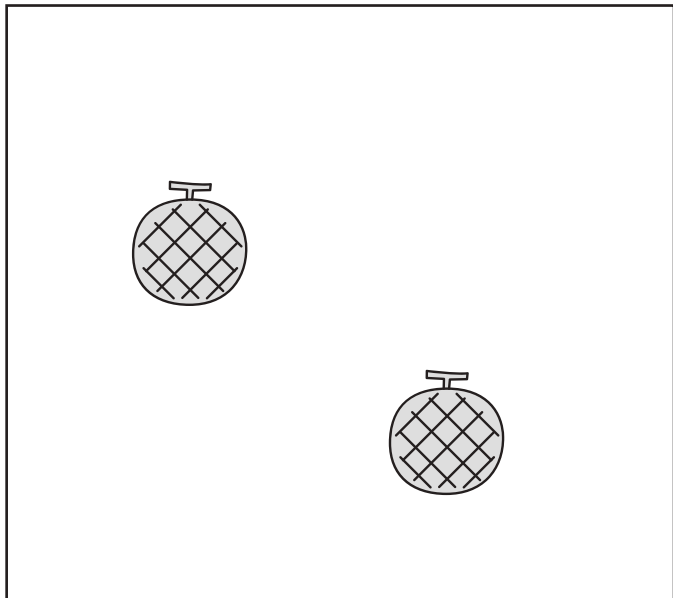


おうちで、やろう。

Study at home. 小学校受験の家庭学習教材

数量：分割 6

二人のお友だちで四角の中のを仲良く同じ数に分けます。
このとき、ひとりいくつもらえるかを考えて、その数のだけ下の四角に○をかきます。



※1. このプリントは、しながわ・目黒こどもスクールのウェブサイトでダウンロードができます。無断複写・引用はご遠慮ください。
※2. このプリントを活用したオンライン授業のスケジュールは、しながわ・目黒こどもスクールのウェブサイトでご確認ください。



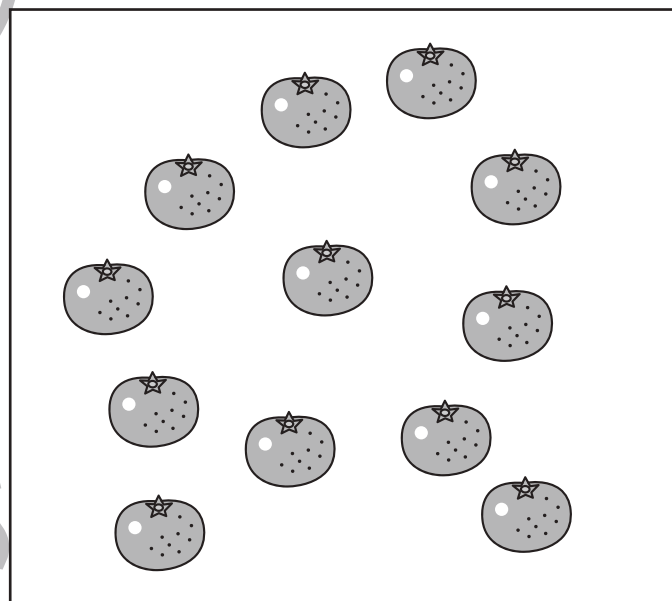


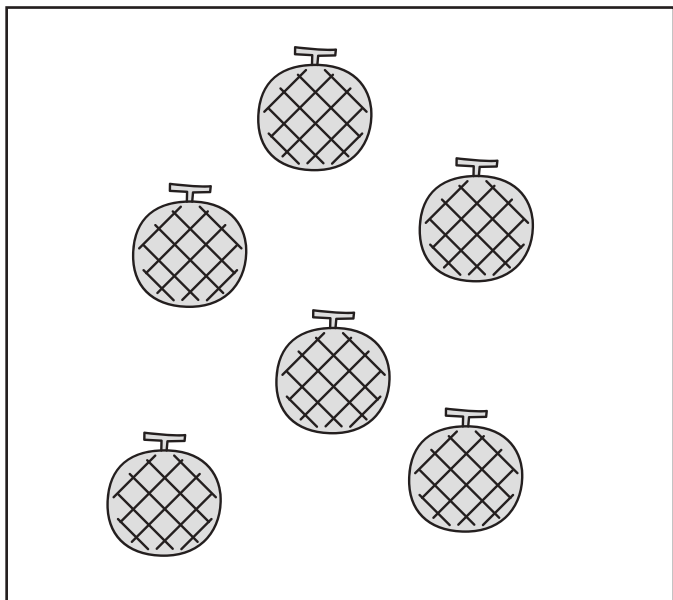


おうちで、やろう。

Study at home. 小学校受験の家庭学習教材

数量：分割7

三人のお友だちで四角の中のを仲良く同じ数に分けます。
このとき、ひとりいくつもらえるかを考えて、その数のだけ下の四角に○をかきます。



※1. このプリントは、しながわ・目黒こどもスクールのウェブサイトからダウンロードできます。無断複写・引用はご遠慮ください。
※2. このプリントを活用したオンライン授業のスケジュールは、しながわ・目黒こどもスクールのウェブサイトでご確認ください。





おうちで、やろう。


Study at home. 小学校受験の家庭学習教材

処理：運筆2

黒い丸から一周線をかきます。壁にぶつからないようにきれいに素早く線をかきましょう。

この問題はスピードを意識して取り組む練習をしてみましょう。(1分～1分30秒)

※この問題に解答はありません。



※1. このプリントは、しながわ・目黒こどもスクールのウェブサイトでダウンロードができます。無断複写・引用はご遠慮ください。

※2. このプリントを活用したオンライン授業のスケジュールは、しながわ・目黒こどもスクールのウェブサイトでご確認ください。


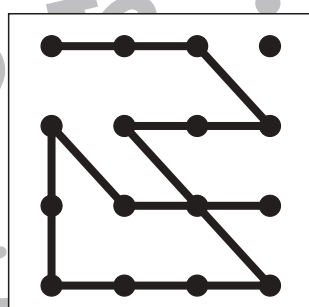

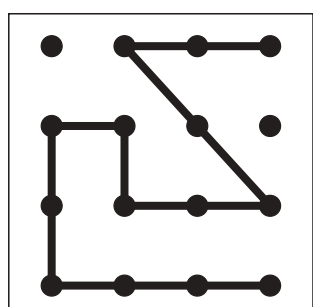

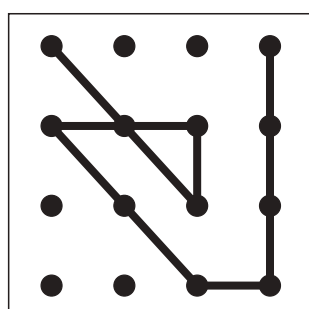

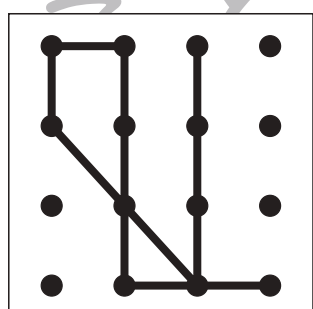

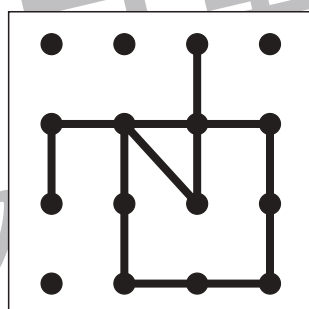

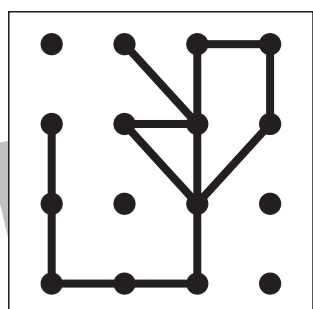

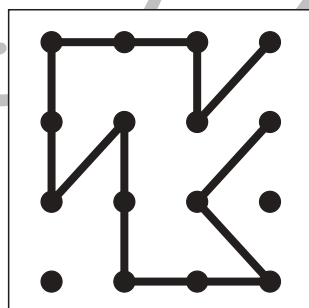

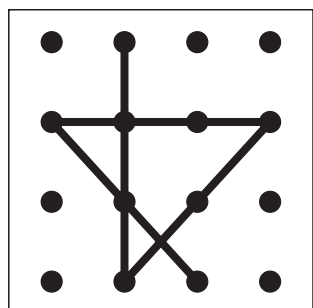

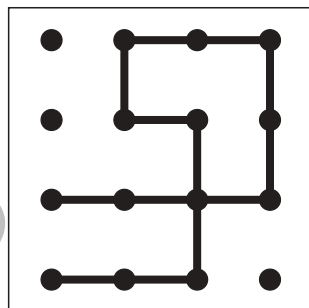

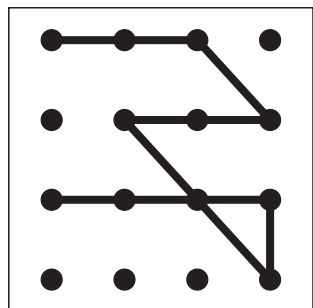


おうちで、やろう。

Study at home. 小学校受験の家庭学習教材

図形：点図形 12

左のお手本と同じになるように右の四角に線をかきます。 ※このプリントに解答はありません。



※1. このプリントは、しながわ・目黒こどもスクールのウェブサイトでダウンロードができます。無断複写・引用はご遠慮ください。
※2. このプリントを活用したオンライン授業のスケジュールは、しながわ・目黒こどもスクールのウェブサイトでご確認ください。

