




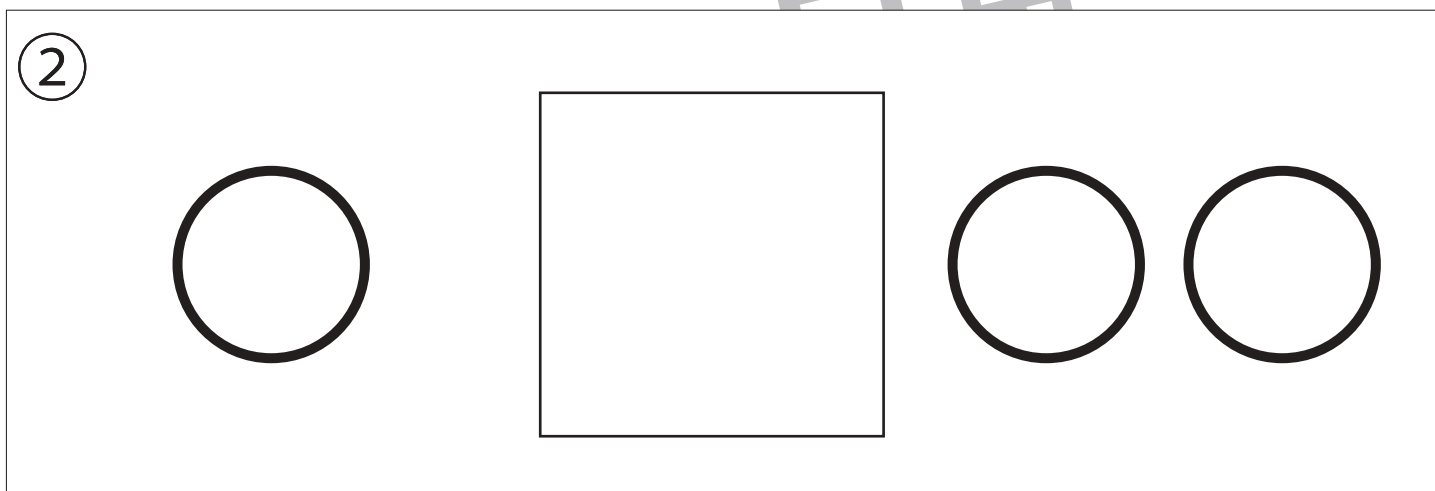

# おうちで、やろう。

Study at home. 小学校受験の家庭学習教材

## 指示の聞き取り 2

それぞれのお話通りに印をつけます。問題は1度しか読みませんのでしっかり聞きましょう。

- ①一番左の丸を青のクーピーで、右端の丸を黄色のクーピーで塗ります。
- ②四角の右に○を2つ、四角の左に○を1つ鉛筆でかきます。
- ③○を横に並べて5つ描きます。この時、一番左からだんだん大きくなるように○をかきます。



※1. このプリントは、しながわ・目黒こどもスクールのウェブサイトからダウンロードができます。無断複写・引用はご遠慮ください。

※2. このプリントを活用したオンライン授業のスケジュールは、しながわ・目黒こどもスクールのウェブサイトでご確認ください。






# おうちで、やろう。

Study at home. 小学校受験の家庭学習教材

## 指示の聞き取り3

それぞれのお話通りに印をつけます。問題は1度しか読みませんのでしっかり聞きましょう。

- ①右から2番目の子に○、左から3番目の子に×をつけます。
- ②男の子だけ数えて左から3番目の子に○をつけます。
- ③-1片手をあげている女の子に○をつけます。  
③-2 気をつけをしてめがねをかけていない男の子×をつけます。



※1. このプリントは、しながわ・目黒こどもスクールのウェブサイトダウンロードができます。無断複写・引用はご遠慮ください。  
※2. このプリントを活用したオンライン授業のスケジュールは、しながわ・目黒こどもスクールのウェブサイトでご確認ください。

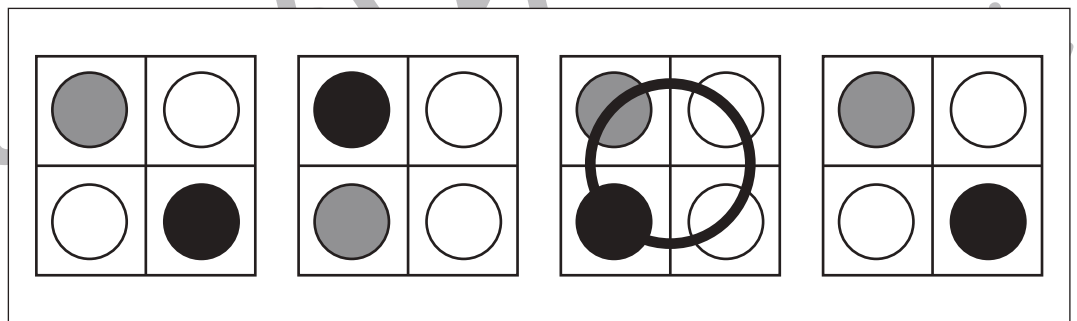
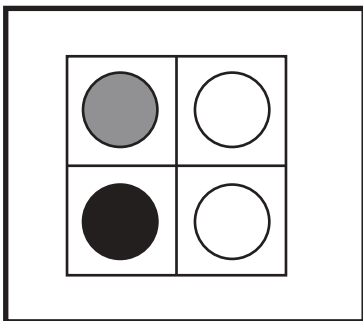
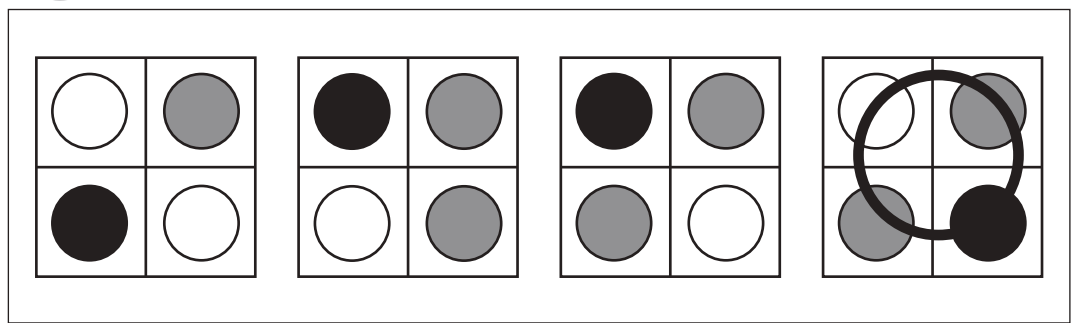
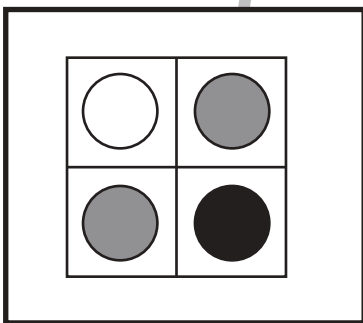
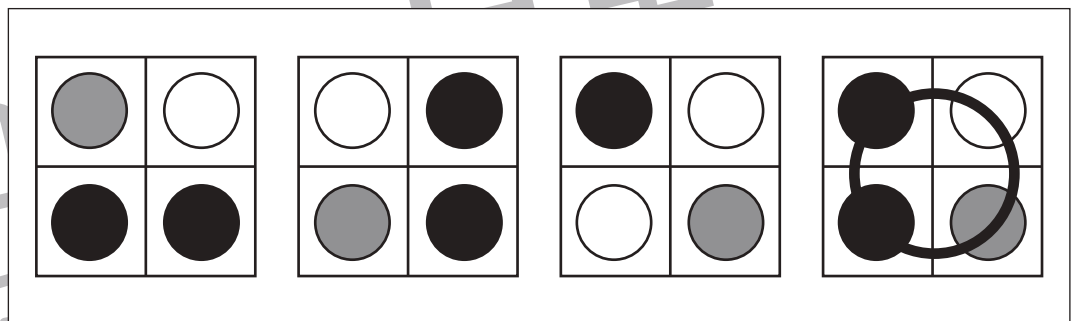
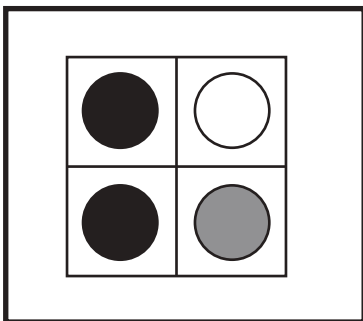
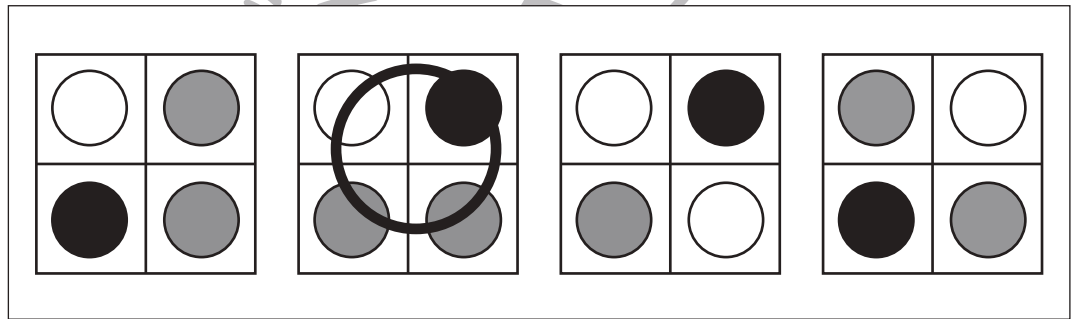
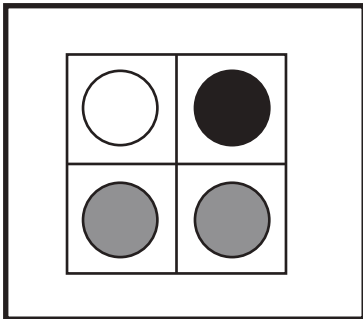
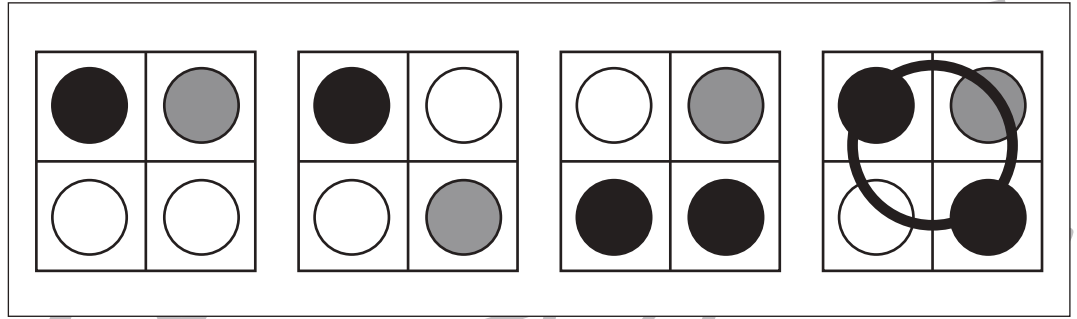
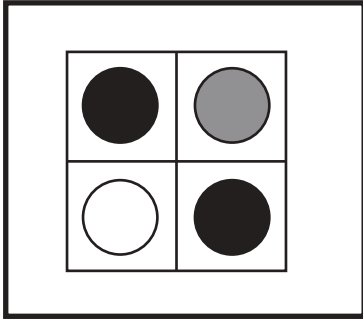


# おうちで、やろう。

Study at home. 小学校受験の家庭学習教材

## 図形：同図形 1

左の太い四角の中がお手本です。このお手本とそっくり同じ形を右の4つの中から見つけて○をつけます。



※1. このプリントは、しながわ・目黒こどもスクールのウェブサイトでダウンロードができます。無断複写・引用はご遠慮ください。  
※2. このプリントを活用したオンライン授業のスケジュールは、しながわ・目黒こどもスクールのウェブサイトでご確認ください。



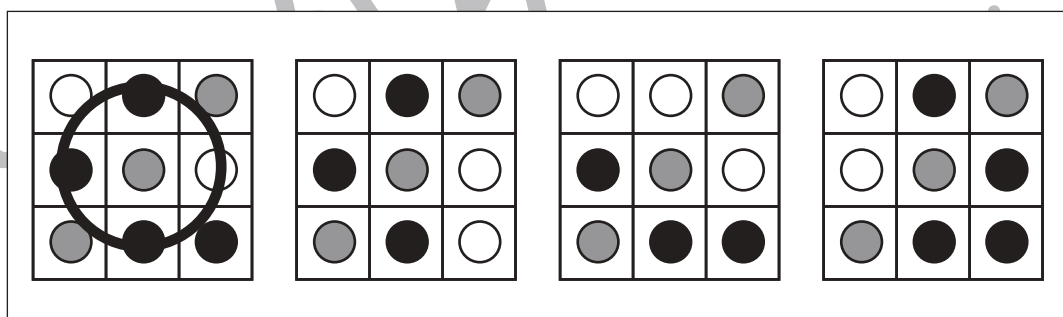
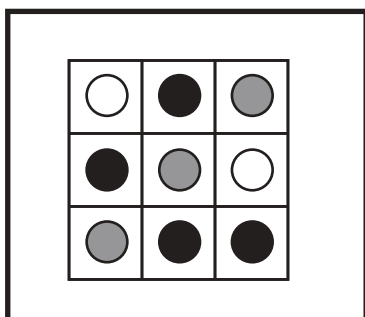
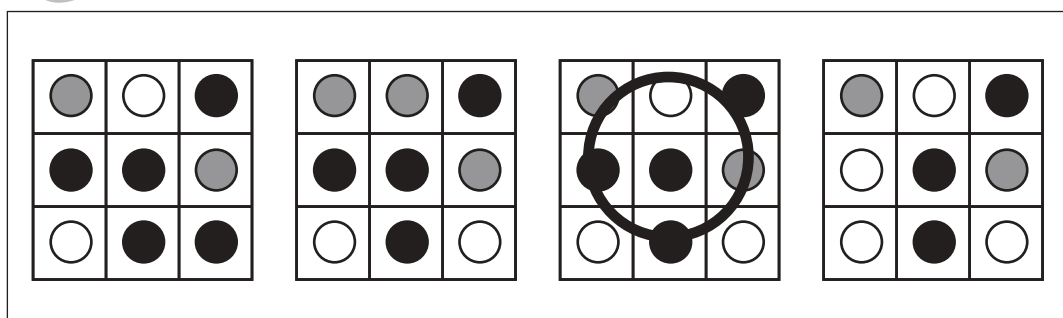
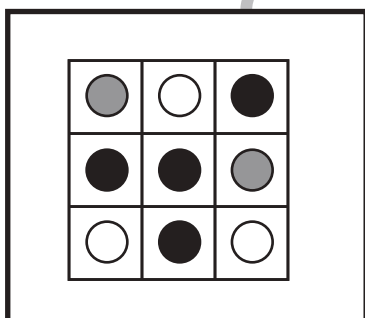
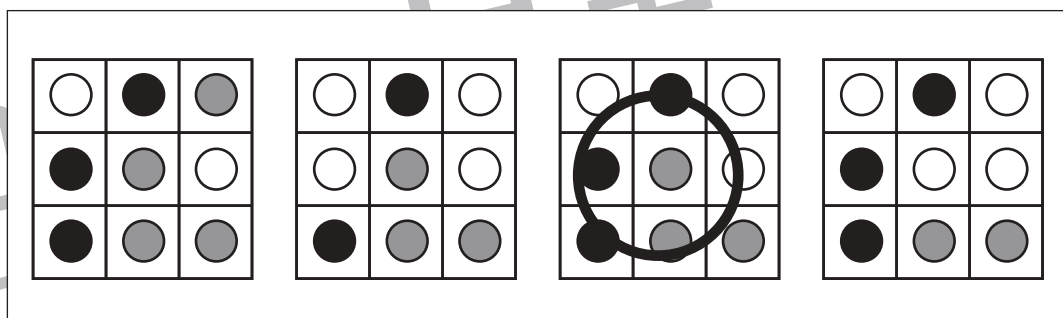
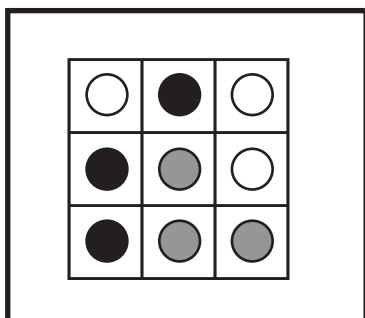
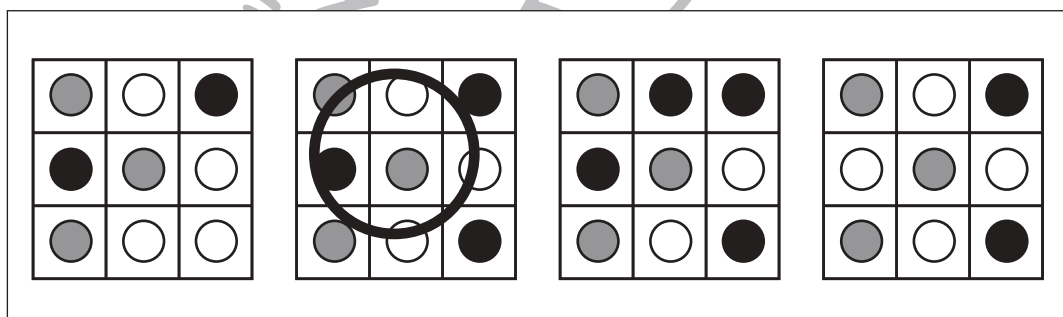
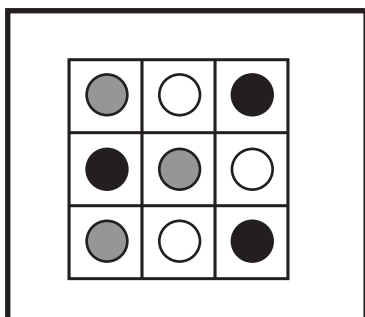
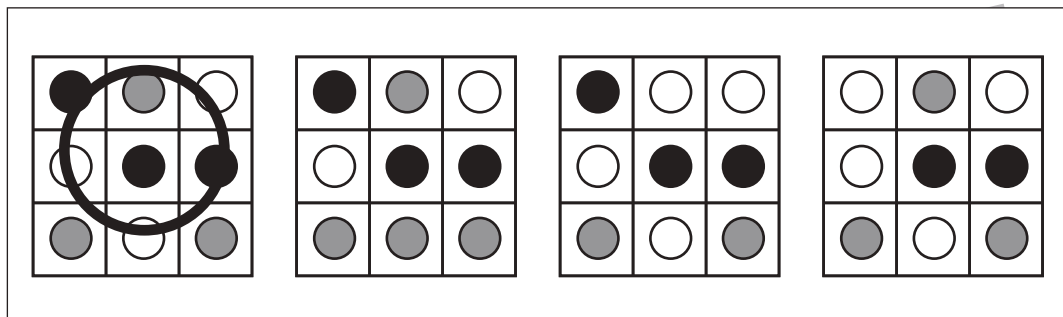
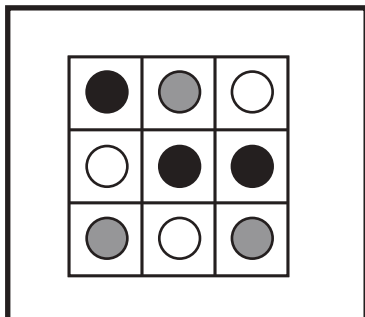


# おうちで、やろう。

Study at home. 小学校受験の家庭学習教材

## 図形：同図形 2

左の太い四角の中がお手本です。このお手本とそっくり同じ形を右の4つの中から見つけて○をつけます。



※1. このプリントは、しながわ・目黒こどもスクールのウェブサイトでダウンロードができます。無断複写・引用はご遠慮ください。  
 ※2. このプリントを活用したオンライン授業のスケジュールは、しながわ・目黒こどもスクールのウェブサイトでご確認ください。



# おうちで、やろう。

Study at home. 小学校受験の家庭学習教材

## 推理：積み木1

上の四角の中の積み木の数数を数えてその数だけ下の四角に○を書きます。

○	○	○	○
○	○	○	

○	○	○	○
○	○		

○	○	○	○
○	○	○	

○	○	○	○
○	○	○	○
○			

○	○	○	○
○	○	○	○
○	○		

○	○	○	○
○	○	○	○
○	○		

※1. このプリントは、しながわ・目黒こどもスクールのウェブサイトからダウンロードできます。無断複写・引用はご遠慮ください。  
 ※2. このプリントを活用したオンライン授業のスケジュールは、しながわ・目黒こどもスクールのウェブサイトでご確認ください。



# おうちで、やろう。

Study at home. 小学校受験の家庭学習教材

## 推理：積み木2

上の四角の中の積み木の数数を数えてその数だけ下の四角に○を書きます。

○	○	○	○
○	○		

○	○	○	○
○			

○	○	○	○
○	○	○	

○	○	○	○
○	○	○	○
○	○	○	

○	○	○	○
○	○	○	○
○	○	○	○

○	○	○	○
○	○	○	○
○	○		

※1. このプリントは、しながわ・目黒こどもスクールのウェブサイトでダウンロードができます。無断複写・引用はご遠慮ください。  
 ※2. このプリントを活用したオンライン授業のスケジュールは、しながわ・目黒こどもスクールのウェブサイトでご確認ください。

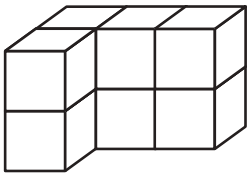


# おうちで、やろう。

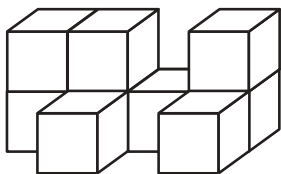
Study at home. 小学校受験の家庭学習教材

## 推理：積み木 3

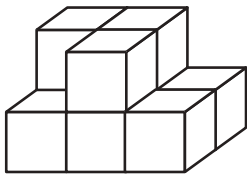
上の四角の中の積み木の数数を数えてその数だけ下の四角に○を書きます。



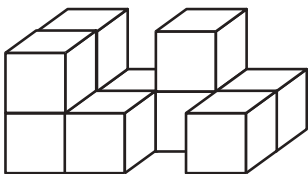
○	○	○	○
○	○	○	○



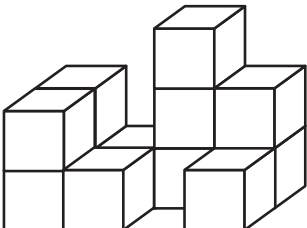
○	○	○	○
○	○	○	○
○			



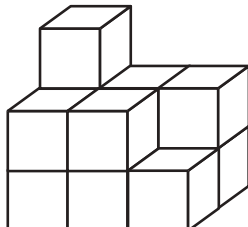
○	○	○	○
○	○	○	○
○			



○	○	○	○
○	○	○	○
○	○		



○	○	○	○
○	○	○	○
○	○	○	○



○	○	○	○
○	○	○	○
○	○	○	○

※1. このプリントは、しながわ・目黒こどもスクールのウェブサイトでダウンロードができます。無断複写・引用はご遠慮ください。  
 ※2. このプリントを活用したオンライン授業のスケジュールは、しながわ・目黒こどもスクールのウェブサイトでご確認ください。











# おうちで、やろう。

Study at home. 小学校受験の家庭学習教材

## 推理：シルエット 1

左の太い四角の中には、動物が影になって重なっています。右の四角の中で、左の四角の中にいない動物を見つけて × をつけます。



※1. このプリントは、しながわ・目黒こどもスクールのウェブサイトでダウンロードができます。無断複写・引用はご遠慮ください。  
※2. このプリントを活用したオンライン授業のスケジュールは、しながわ・目黒こどもスクールのウェブサイトでご確認ください。














# おうちで、やろう。

Study at home. 小学校受験の家庭学習教材

## 推理：シルエット2

左の太い四角の中には、動物が影になって重なっています。右の四角の中で、左の四角の中にいない動物を見つけて × をつけます。



※1. このプリントは、しながわ・目黒こどもスクールのウェブサイトからダウンロードできます。無断複写・引用はご遠慮ください。

※2. このプリントを活用したオンライン授業のスケジュールは、しながわ・目黒こどもスクールのウェブサイトでご確認ください。

