

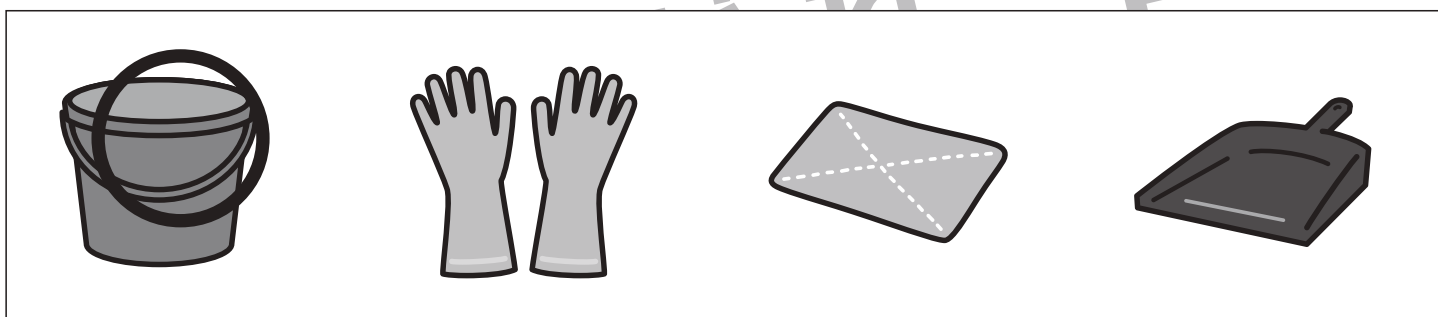





おうちで、やろう。

Study at home. 小学校受験の家庭学習教材

言語：音の数4

それぞれの四角の中の絵の音の数を考えます。音の数が3つの絵に○をつけます。



※1. このプリントは、しながわ・目黒こどもスクールのウェブサイトからダウンロードできます。無断複写・引用はご遠慮ください。

※2. このプリントを活用したオンライン授業のスケジュールは、しながわ・目黒こどもスクールのウェブサイトでご確認ください。




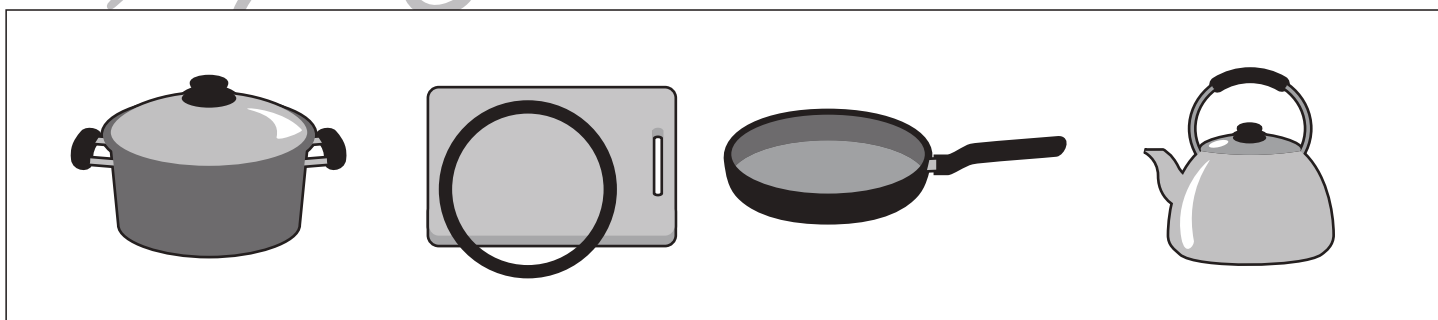

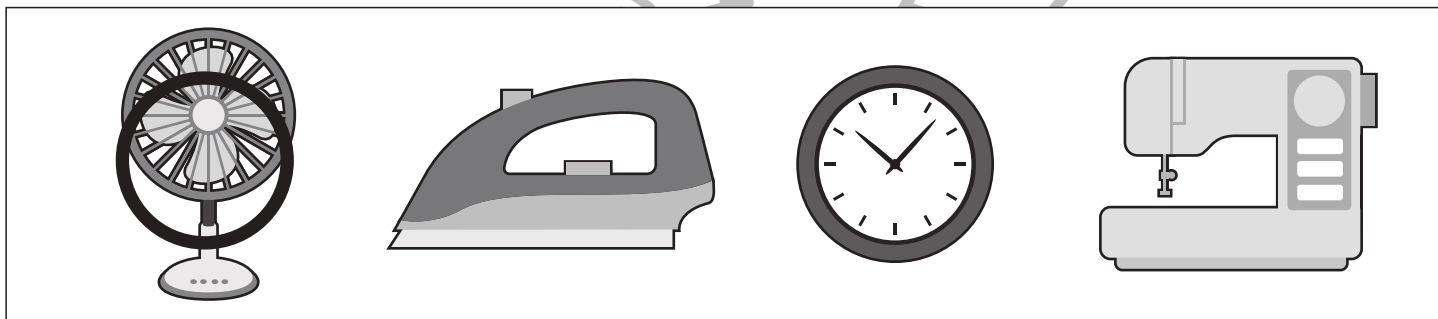



おうちで、やろう。

Study at home. 小学校受験の家庭学習教材

言語：音の数5

それぞれの四角の中の絵の音の数を考えます。音の数が5つの絵に○をつけます。



※1. このプリントは、しながわ・目黒こどもスクールのウェブサイトからダウンロードできます。無断複写・引用はご遠慮ください。
※2. このプリントを活用したオンライン授業のスケジュールは、しながわ・目黒こどもスクールのウェブサイトでご確認ください。




おうちで、やろう。


Study at home. 小学校受験の家庭学習教材

言語：音の理解5


絵の名前に伸ばす音「ー」があるところの○を塗ります。




○	○	○	○
●	○	○	○



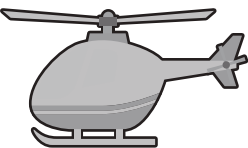
○	○	○	○
●	○	○	○




○	○	○	●
○	○	○	○




○	○	○	○
●	○	○	○




○	○	○	○
○	●	○	○




○	○	●	○
○	○	○	○




○	○	○	○
●	○	○	○




○	○	○	○
○	●	○	○




○	○	○	○
●	○	○	○



○	○	○	○
○	●	○	○



○	○	○	○
○	○	○	○



○	○	○	○
○	○	○	○

※1. このプリントは、しながわ・目黒こどもスクールのウェブサイトでダウンロードができます。無断複写・引用はご遠慮ください。

※2. このプリントを活用したオンライン授業のスケジュールは、しながわ・目黒こどもスクールのウェブサイトでご確認ください。






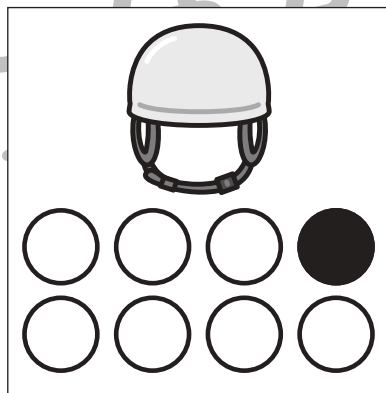




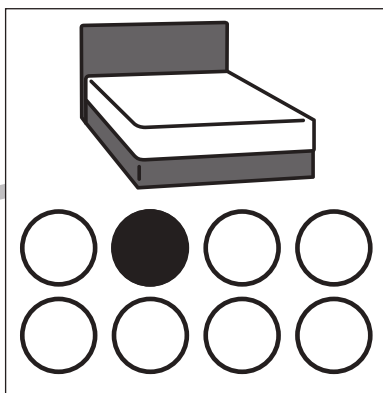



おうちで、やろう。

Study at home. 小学校受験の家庭学習教材

言語：音の理解6

絵の名前につまる音、小さな「っ」があるところの○を塗ります。



※1. このプリントは、しながわ・目黒こどもスクールのウェブサイトでダウンロードができます。無断複写・引用はご遠慮ください。

※2. このプリントを活用したオンライン授業のスケジュールは、しながわ・目黒こどもスクールのウェブサイトでご確認ください。



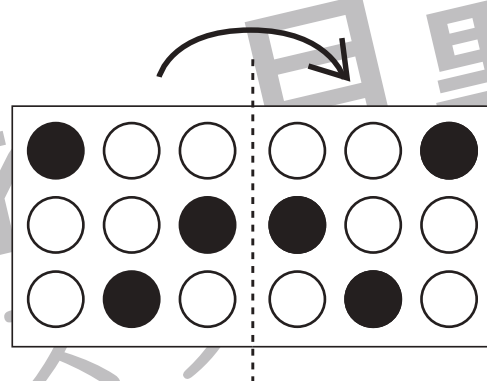
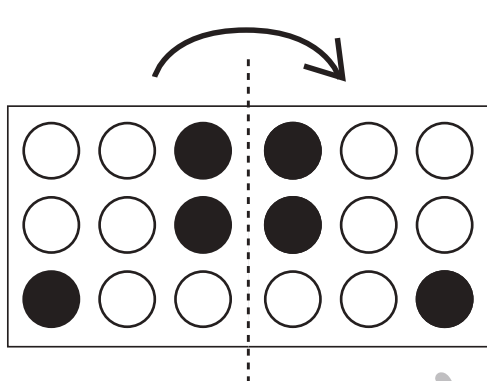
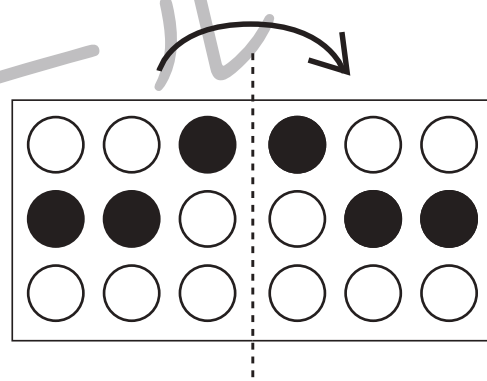
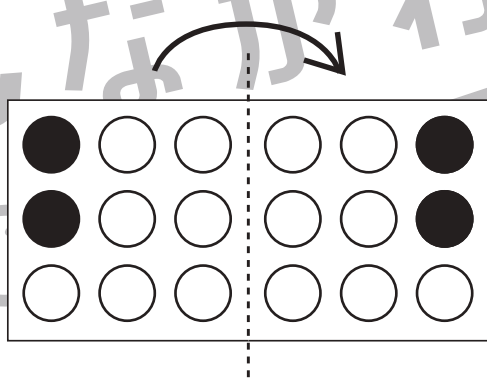
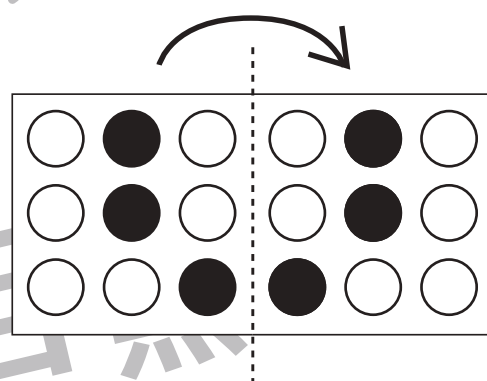
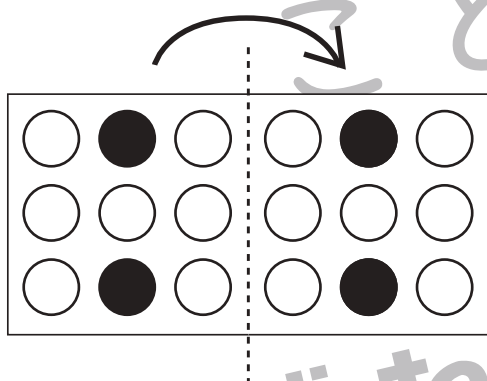
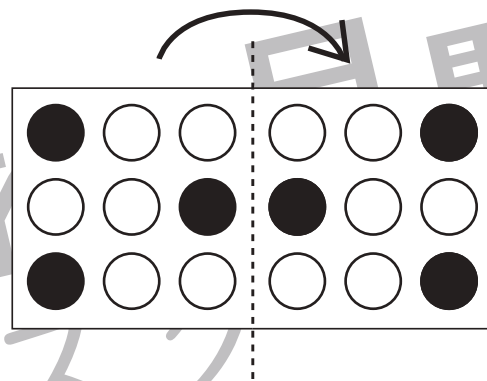
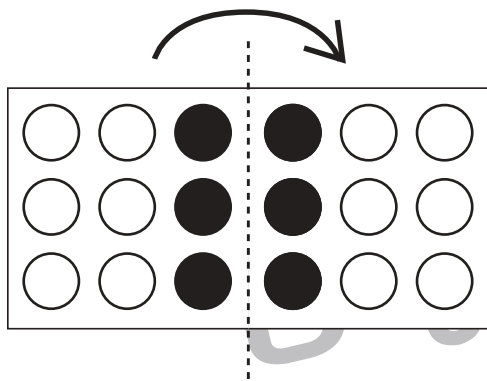


おうちで、やろう。

Study at home. 小学校受験の家庭学習教材

図形：折り重ね 1

真ん中の太い線で矢印の方向へ折り重ねたときの見え方を考えて右の○を塗ります。



※1. このプリントは、しながわ・目黒こどもスクールのウェブサイトでダウンロードができます。無断複写・引用はご遠慮ください。
※2. このプリントを活用したオンライン授業のスケジュールは、しながわ・目黒こどもスクールのウェブサイトでご確認ください。

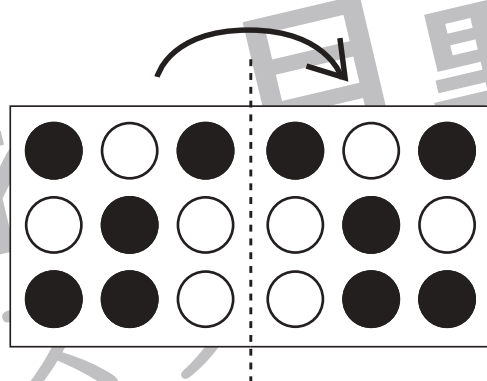
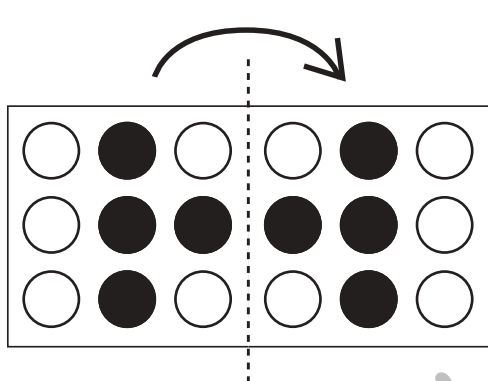
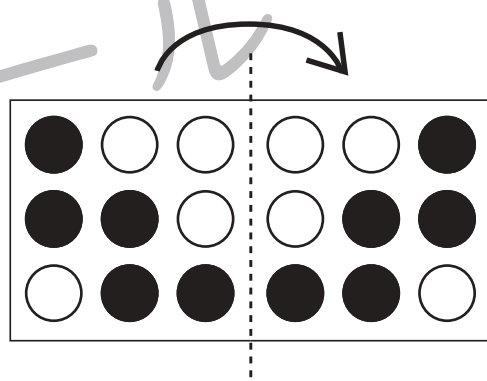
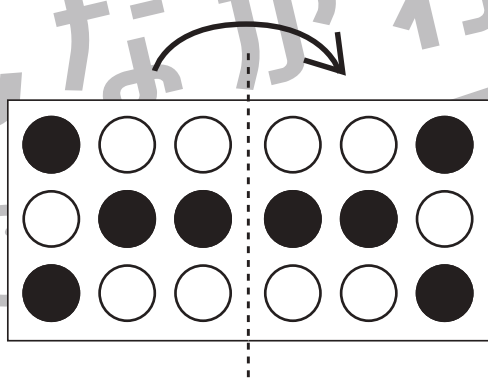
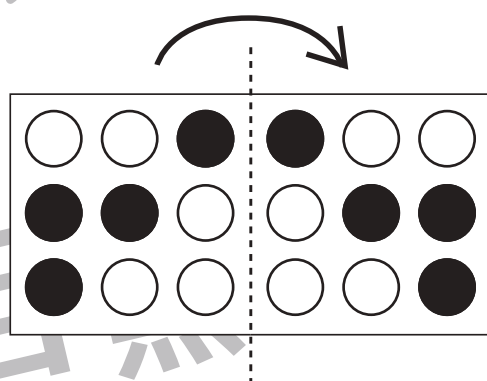
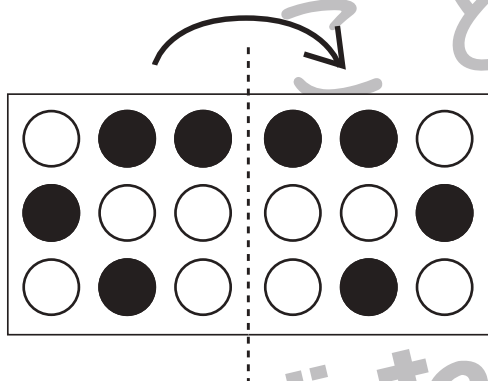
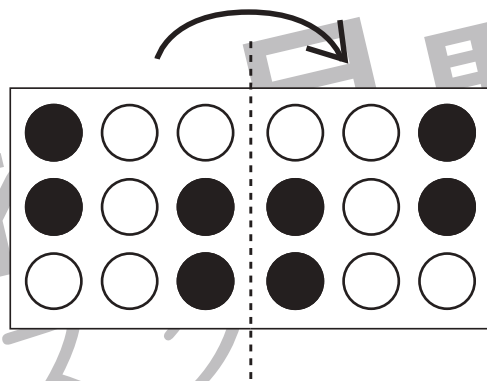
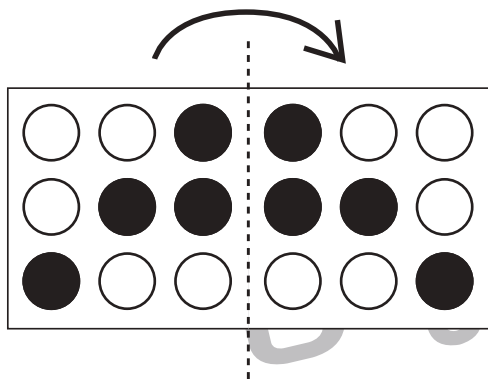


おうちで、やろう。

Study at home. 小学校受験の家庭学習教材

図形：折り重ね 2

真ん中の太い線で矢印の方向へ折り重ねたときの見え方を考えて右の○を塗ります。



※1. このプリントは、しながわ・目黒こどもスクールのウェブサイトでダウンロードができます。無断複写・引用はご遠慮ください。
※2. このプリントを活用したオンライン授業のスケジュールは、しながわ・目黒こどもスクールのウェブサイトでご確認ください。




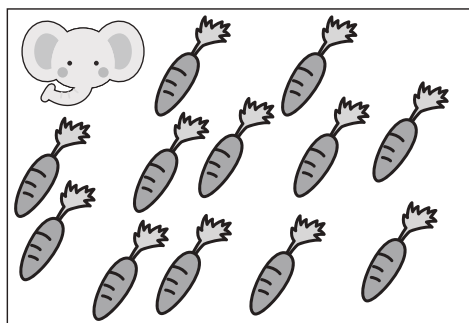


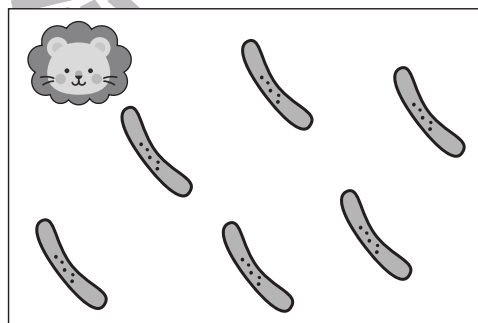

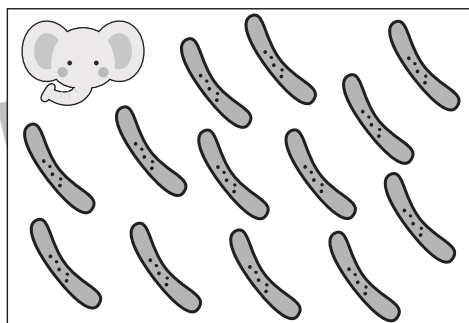

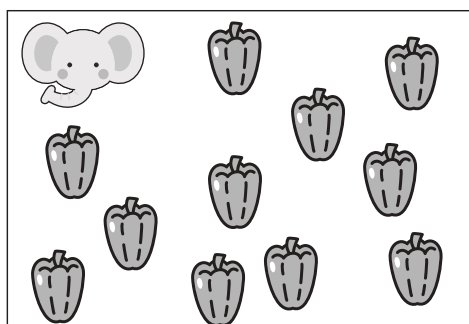



おうちで、やろう。

Study at home. 小学校受験の家庭学習教材

数量：違う数3

ゾウとライオンが同じ野菜を持っていますが、持っている数が違います。2匹が持っている野菜の数の違いはいくつですか。その数だけ真ん中の四角に○をかきます。



※1. このプリントは、しながわ・目黒こどもスクールのウェブサイトでダウンロードができます。無断複写・引用はご遠慮ください。

※2. このプリントを活用したオンライン授業のスケジュールは、しながわ・目黒こどもスクールのウェブサイトでご確認ください。





おうちで、やろう。

Study at home. 小学校受験の家庭学習教材

数量：違う数4

ゾウとライオンとクマが同じ果物を持っていますが、持っている数が違います。3匹の持っている果物のうち数が一番多い動物と数が一番少ない動物の果物の数の違いはいくつですか。その数だけ下の四角に○をかきます。

○ × 2		

○ × 4		

○ × 3		

○ × 6		

○ × 5		

※1. このプリントは、しながわ・目黒こどもスクールのウェブサイトでダウンロードができます。無断複写・引用はご遠慮ください。

※2. このプリントを活用したオンライン授業のスケジュールは、しながわ・目黒こどもスクールのウェブサイトでご確認ください。




おうちで、やろう。


Study at home. 小学校受験の家庭学習教材

数量：違う数5

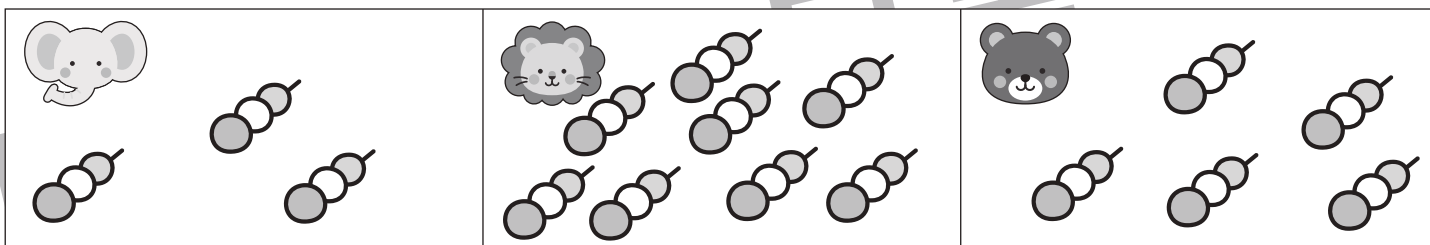
ゾウとライオンとクマが同じ果物を持っていますが、持っている数が違います。3匹の持っている果物のうち数が一番多い動物と数が一番少ない動物の果物の数の違いはいくつですか。その数だけ下の四角に○をかきます。



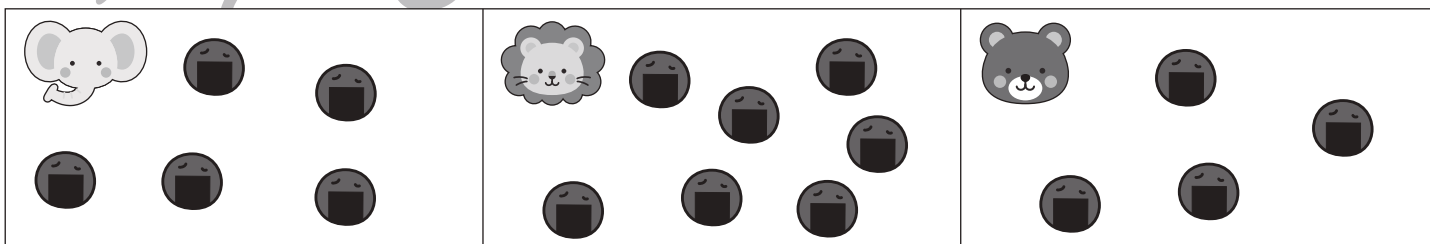
○ × 4




○ × 6



○ × 5



○ × 3



○ × 2

※1. このプリントは、しながわ・目黒こどもスクールのウェブサイトでダウンロードができます。無断複写・引用はご遠慮ください。

※2. このプリントを活用したオンライン授業のスケジュールは、しながわ・目黒こどもスクールのウェブサイトでご確認ください。