



# おうちで、やろう。


Study at home. 小学校受験の家庭学習教材

常識：昔話 1

絵を見て、下の問題を解きましょう。



①上の絵は有名なお話の一場面です。みんなで引っ張っている野菜に丸をつけましょう。



②上の絵は何人の人がいますか。その数だけ〇をかきます。



③上の絵にいる動物に丸をつけましょう。



※1. このプリントは、しながわ・目黒こどもスクールのウェブサイトでダウンロードができます。無断複写・引用はご遠慮ください。  
※2. このプリントを活用したオンライン授業のスケジュールは、しながわ・目黒こどもスクールのウェブサイトでご確認ください。




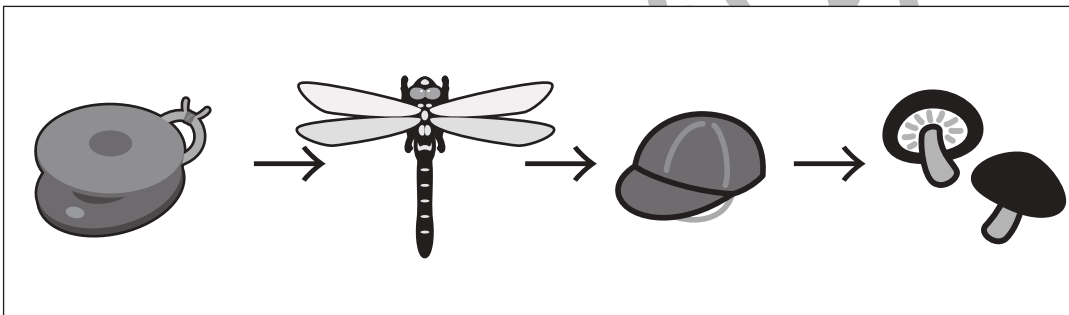



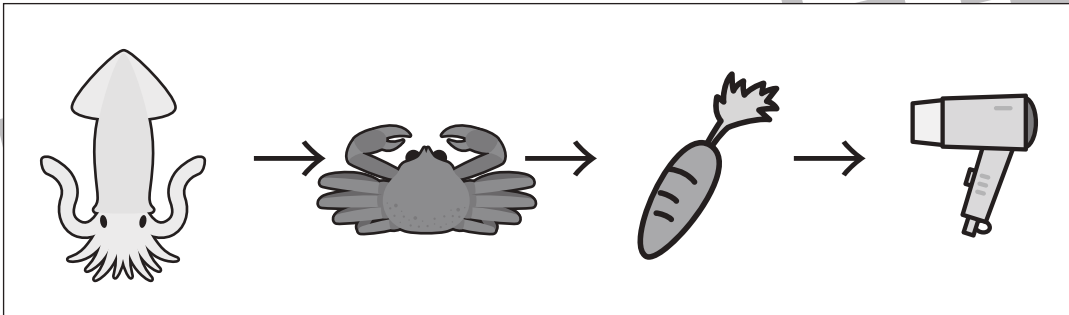




# おうちで、やろう。

Study at home. 小学校受験の家庭学習教材

言語：しりとり1

左から順番にしりとりをします。最後までしりとりでつながるときは○、つながらないときは×を一番右の四角の中にかきます。



※1. このプリントは、しながわ・目黒こどもスクールのウェブサイトからダウンロードできます。無断複写・引用はご遠慮ください。  
※2. このプリントを活用したオンライン授業のスケジュールは、しながわ・目黒こどもスクールのウェブサイトでご確認ください。



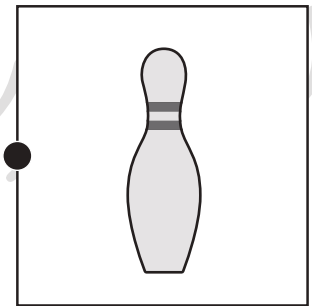
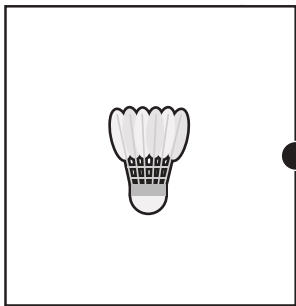
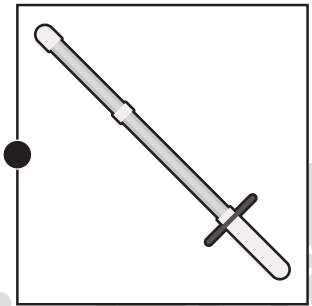
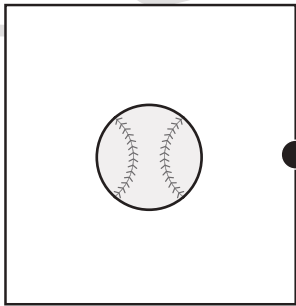

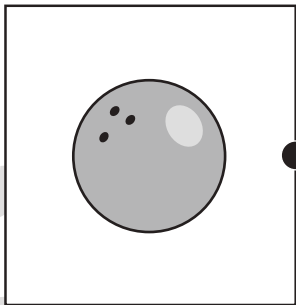

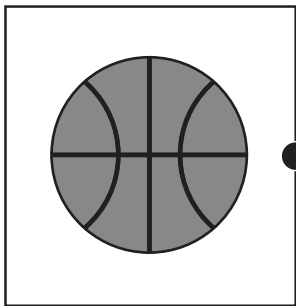
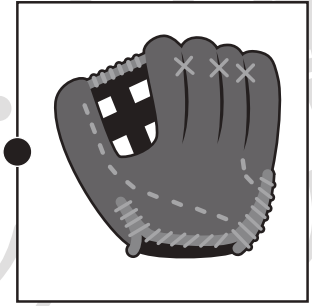



# おうちで、やろう。

Study at home. 小学校受験の家庭学習教材

## 常識：スポーツ1

左側の絵のスポーツで使う道具を右側の絵の中から選んで線で結びましょう。



※1. このプリントは、しながわ・目黒こどもスクールのウェブサイトでダウンロードができます。無断複写・引用はご遠慮ください。  
※2. このプリントを活用したオンライン授業のスケジュールは、しながわ・目黒こどもスクールのウェブサイトでご確認ください。










# おうちで、やろう。

Study at home. 小学校受験の家庭学習教材

常識：季節1

お正月の絵かるたをあつめました。ところが、2枚だけお正月では無い絵が混ざっています。その絵かるたを選んで○をつけましょう。



※1. このプリントは、しながわ・目黒こどもスクールのウェブサイトでダウンロードができます。無断複写・引用はご遠慮ください。  
※2. このプリントを活用したオンライン授業のスケジュールは、しながわ・目黒こどもスクールのウェブサイトでご確認ください。







# おうちで、やろう。

Study at home. 小学校受験の家庭学習教材

常識：季節2

お正月の絵かるたをあつめました。ところが、2枚だけお正月では無い絵が混ざっています。その絵かるたを選んで○をつけましょう。



※1. このプリントは、しながわ・目黒こどもスクールのウェブサイトでダウンロードができます。無断複写・引用はご遠慮ください。  
※2. このプリントを活用したオンライン授業のスケジュールは、しながわ・目黒こどもスクールのウェブサイトでご確認ください。





# おうちで、やろう。

Study at home. 小学校受験の家庭学習教材

## 図形：重ね7

上の2枚の板は透明です。この2枚の板を重ねたときの見え方を考えて下の四角にかきます。


※1. このプリントは、しながわ・目黒こどもスクールのウェブサイトからダウンロードできます。無断複写・引用はご遠慮ください。

※2. このプリントを活用したオンライン授業のスケジュールは、しながわ・目黒こどもスクールのウェブサイトでご確認ください。



# おうちで、やろう。

Study at home. 小学校受験の家庭学習教材

## 図形：重ね8

上の2枚の板は透明です。この2枚の板を重ねたときの見え方を考えて下の四角にかきます。


※1. このプリントは、しながわ・目黒こどもスクールのウェブサイトからダウンロードできます。無断複写・引用はご遠慮ください。  
 ※2. このプリントを活用したオンライン授業のスケジュールは、しながわ・目黒こどもスクールのウェブサイトでご確認ください。



# おうちで、やろう。

Study at home. 小学校受験の家庭学習教材

数量：分割4

それぞれの果物を2人のお友だちで仲良く分けると1人分はいくつになりますか。1人分の数だけ○をかきます。


※1. このプリントは、しながわ・目黒こどもスクールのウェブサイトダウンロードができます。無断複写・引用はご遠慮ください。

※2. このプリントを活用したオンライン授業のスケジュールは、しながわ・目黒こどもスクールのウェブサイトでご確認ください。





# おうちで、やろう。

Study at home. 小学校受験の家庭学習教材

数量：分割5

それぞれの食べ物を左の四角の中のお友だちで仲良く分けると1人分はいくつになりますか。1人分の数だけ〇をかきます。


※1. このプリントは、しながわ・目黒こどもスクールのウェブサイトからダウンロードできます。無断複写・引用はご遠慮ください。

※2. このプリントを活用したオンライン授業のスケジュールは、しながわ・目黒こどもスクールのウェブサイトでご確認ください。



# おうちで、やろう。

Study at home. 小学校受験の家庭学習教材

図形：点図形 11

左のお手本と同じになるように右の四角に線をかきます。 ※このプリントに解答はありません。


※1. このプリントは、しながわ・目黒こどもスクールのウェブサイトでダウンロードができます。無断複写・引用はご遠慮ください。  
 ※2. このプリントを活用したオンライン授業のスケジュールは、しながわ・目黒こどもスクールのウェブサイトでご確認ください。