



おうちで、やろう。

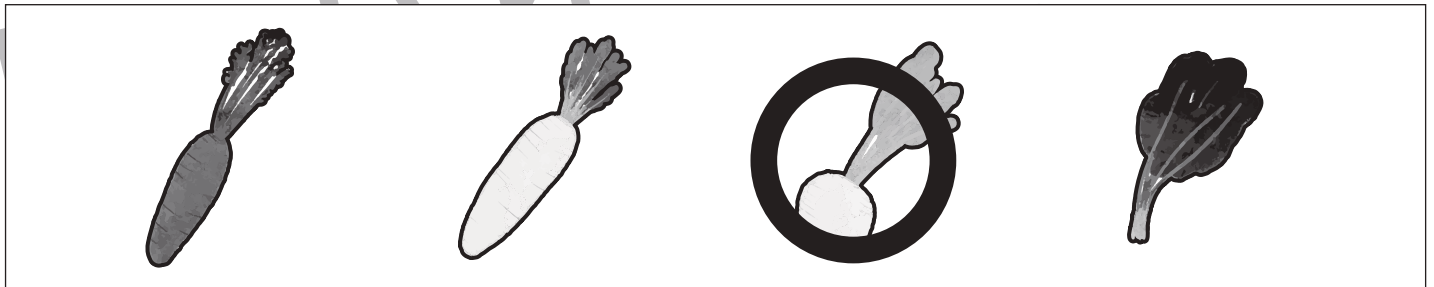
Study at home. 小学校受験の家庭学習教材

常識：昔話 1

絵を見て、下の問題を解きましょう。



①上の絵は有名なお話の一場面です。みんなで引っ張っている野菜に丸をつけましょう。



②上の絵は何人の人がいますか。その数だけ○をかきます。



③上の絵にいる動物に丸をつけましょう。



※1. このプリントは、しながわ・目黒こどもスクールのウェブサイトでダウンロードができます。無断複写・引用はご遠慮ください。

※2. このプリントを活用したオンライン授業のスケジュールは、しながわ・目黒こどもスクールのウェブサイトでご確認ください。




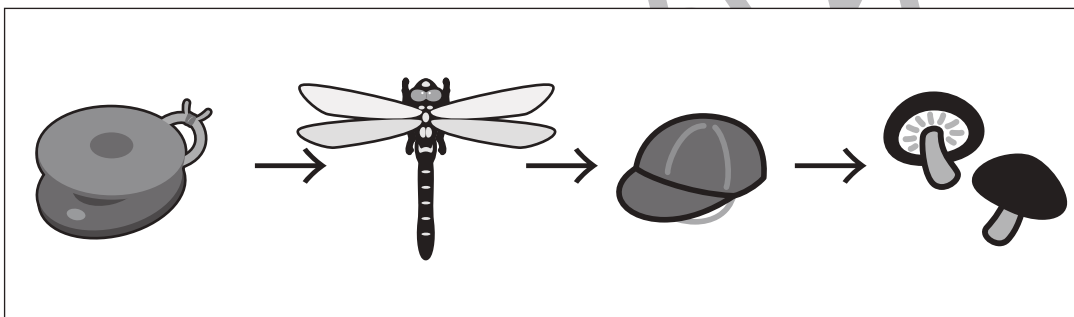



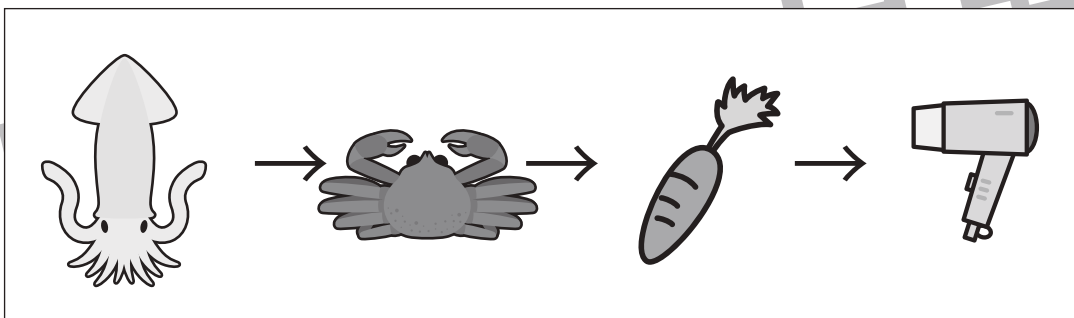






おうちで、やろう。

Study at home. 小学校受験の家庭学習教材

言語：しりとり1

左から順番にしりとりをします。最後までしりとりでつながるときは○、つながらないときは×を一番右の四角の中にかきます。



※1. このプリントは、しながわ・目黒こどもスクールのウェブサイトからダウンロードできます。無断複写・引用はご遠慮ください。
※2. このプリントを活用したオンライン授業のスケジュールは、しながわ・目黒こどもスクールのウェブサイトでご確認ください。



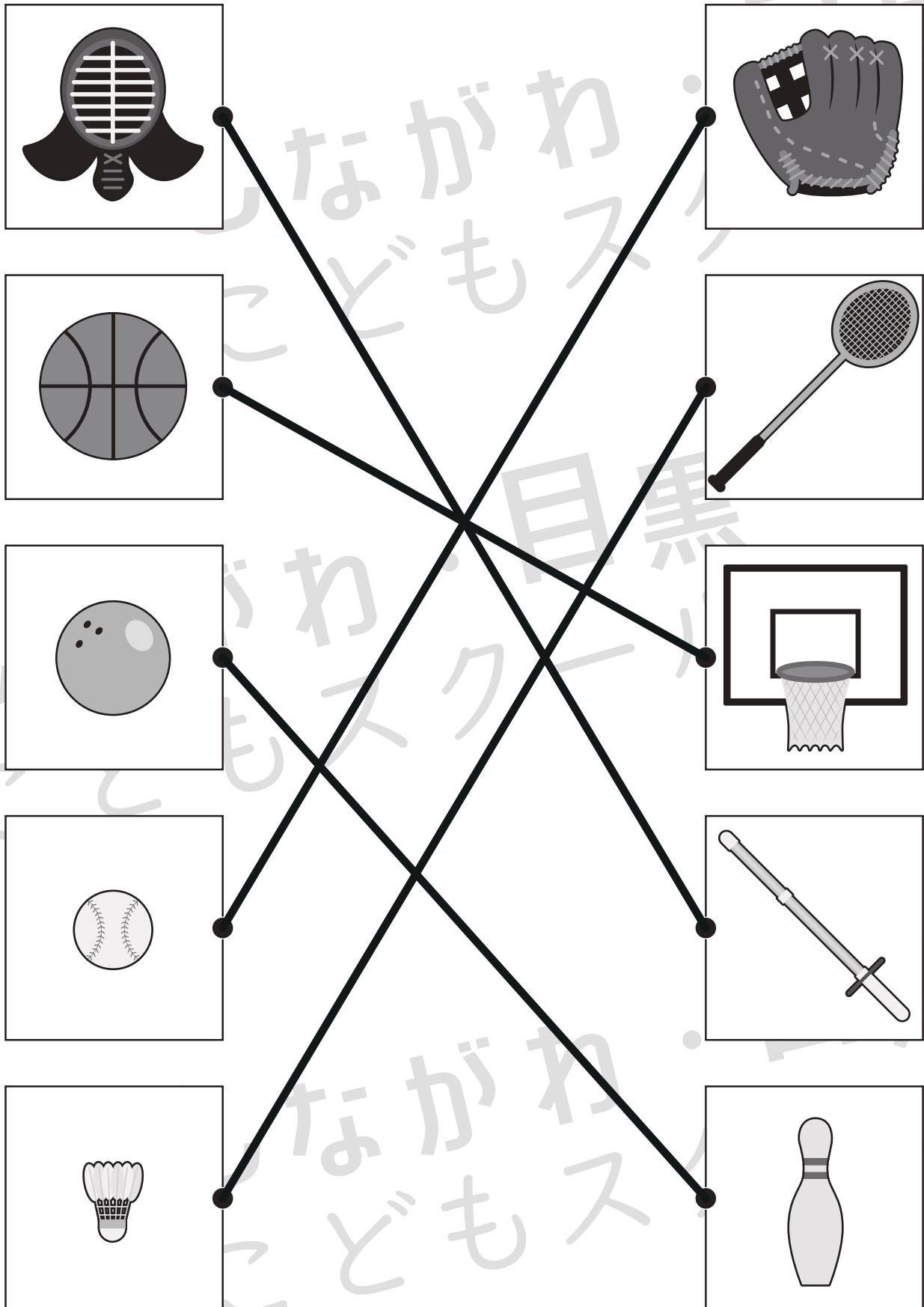


おうちで、やろう。

Study at home. 小学校受験の家庭学習教材

常識：スポーツ1

左側の絵のスポーツで使う道具を右側の絵の中から選んで線で結びましょう。



※1. このプリントは、しながわ・目黒こどもスクールのウェブサイトでダウンロードができます。無断複写・引用はご遠慮ください。

※2. このプリントを活用したオンライン授業のスケジュールは、しながわ・目黒こどもスクールのウェブサイトでご確認ください。









おうちで、やろう。

Study at home. 小学校受験の家庭学習教材

常識：季節1

お正月の絵かるたをあつめました。ところが、2枚だけお正月では無い絵が混ざっています。その絵かるたを選んで○をつけましょう。



※1. このプリントは、しながわ・目黒こどもスクールのウェブサイトでダウンロードができます。無断複写・引用はご遠慮ください。
※2. このプリントを活用したオンライン授業のスケジュールは、しながわ・目黒こどもスクールのウェブサイトでご確認ください。







おうちで、やろう。

Study at home. 小学校受験の家庭学習教材

常識：季節2

お正月の絵かるたをあつめました。ところが、2枚だけお正月では無い絵が混ざっています。その絵かるたを選んで○をつけましょう。



※1. このプリントは、しながわ・目黒こどもスクールのウェブサイトでダウンロードができます。無断複写・引用はご遠慮ください。
※2. このプリントを活用したオンライン授業のスケジュールは、しながわ・目黒こどもスクールのウェブサイトでご確認ください。





おうちで、やろう。

Study at home. 小学校受験の家庭学習教材

図形：重ね7

上の2枚の板は透明です。この2枚の板を重ねたときの見え方を考えて下の四角にかきます。

※1. このプリントは、しながわ・目黒こどもスクールのウェブサイトでダウンロードができます。無断複写・引用はご遠慮ください。
 ※2. このプリントを活用したオンライン授業のスケジュールは、しながわ・目黒こどもスクールのウェブサイトでご確認ください。



おうちで、やろう。

Study at home. 小学校受験の家庭学習教材

図形：重ね8

上の2枚の板は透明です。この2枚の板を重ねたときの見え方を考えて下の四角にかきます。

※1. このプリントは、しながわ・目黒こどもスクールのウェブサイトからダウンロードできます。無断複写・引用はご遠慮ください。

※2. このプリントを活用したオンライン授業のスケジュールは、しながわ・目黒こどもスクールのウェブサイトでご確認ください。













おうちで、やろう。

Study at home. 小学校受験の家庭学習教材

数量：分割4

それぞれの果物を2人のお友だちで仲良く分けると1人分はいくつになりますか。1人分の数だけ○をかきます。

		$\bigcirc \times 2$
		$\bigcirc \times 3$
		$\bigcirc \times 4$
		$\bigcirc \times 7$
		$\bigcirc \times 8$

※1. このプリントは、しながわ・目黒こどもスクールのウェブサイトからダウンロードできます。無断複写・引用はご遠慮ください。

※2. このプリントを活用したオンライン授業のスケジュールは、しながわ・目黒こどもスクールのウェブサイトでご確認ください。










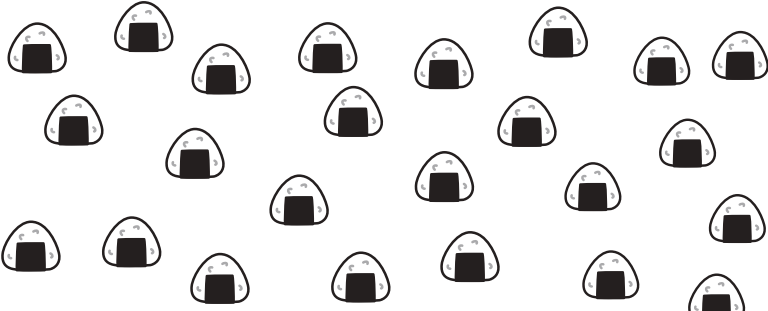


おうちで、やろう。

Study at home. 小学校受験の家庭学習教材

数量：分割5

それぞれの食べ物を左の四角の中のお友だちで仲良く分けると1人分はいくつになりますか。1人分の数だけ〇をかきます。

		$\bigcirc \times 3$
		$\bigcirc \times 4$
		$\bigcirc \times 5$
		$\bigcirc \times 6$
		$\bigcirc \times 8$

※1. このプリントは、しながわ・目黒こどもスクールのウェブサイトからダウンロードできます。無断複写・引用はご遠慮ください。

※2. このプリントを活用したオンライン授業のスケジュールは、しながわ・目黒こどもスクールのウェブサイトでご確認ください。