



# おうちで、やろう。


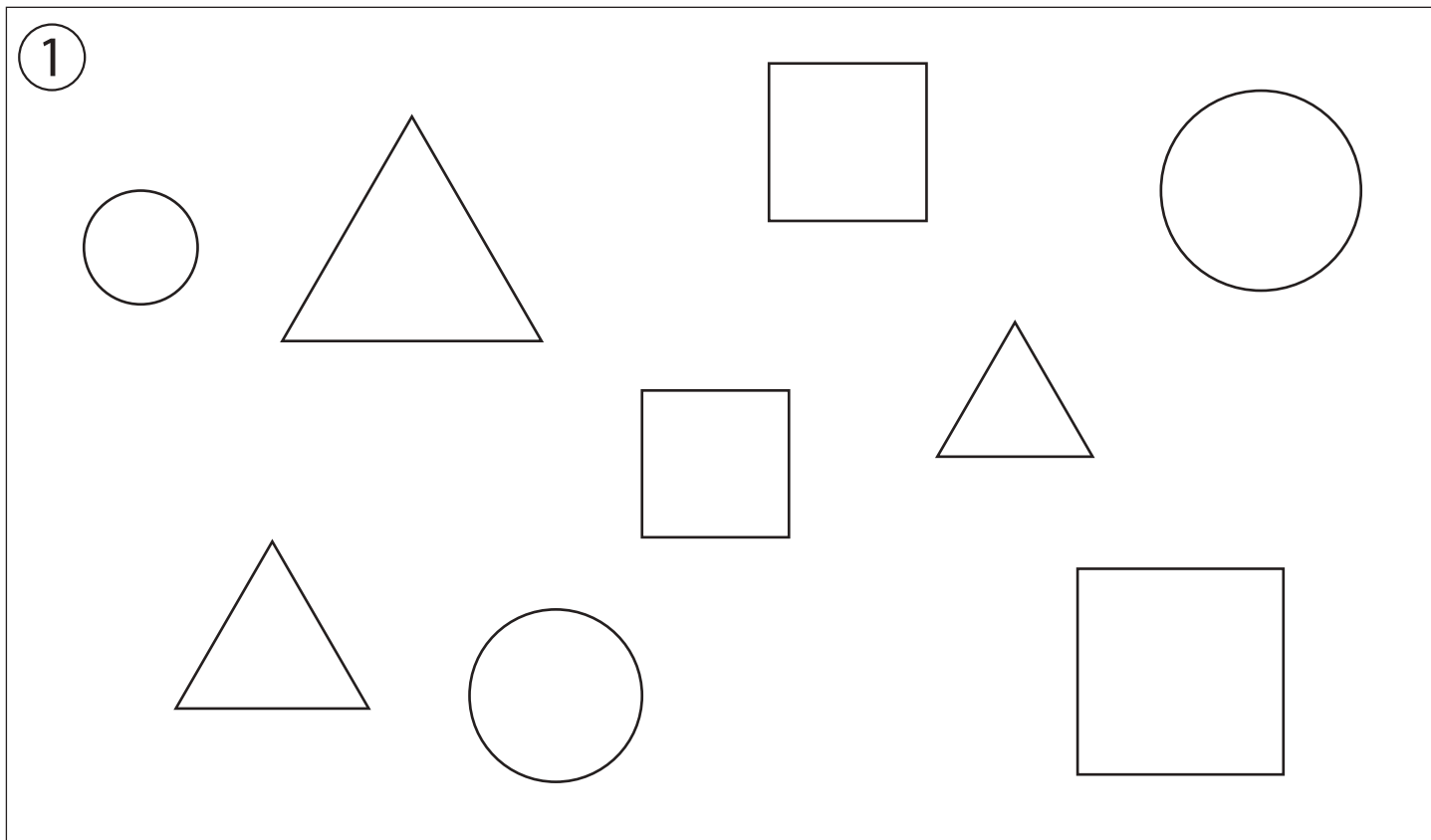
Study at home. 小学校受験の家庭学習教材

## 指示の聞き取り 6

それぞれお話をよく聞いて問題に取り組みます。お話は一度しか読みませんのでしっかり聞きましょう。

①一番大きい○を青、一番小さい○を緑、真ん中の大きさの△を黒で塗ります。

②それぞれ一番小さい形を赤で塗ります。



※1. このプリントは、しながわ・目黒こどもスクールのウェブサイトからダウンロードができます。無断複写・引用はご遠慮ください。

※2. このプリントを活用したオンライン授業のスケジュールは、しながわ・目黒こどもスクールのウェブサイトでご確認ください。



# おうちで、やろう。

Study at home. 小学校受験の家庭学習教材

## 図形：反転1

左の見本は透明な板にかかれた模様です。この板を上への矢印の方向へくると裏返しにした時の見え方を考えて右にかきます。

※1. このプリントは、しながわ・目黒こどもスクールのウェブサイトでダウンロードができます。無断複写・引用はご遠慮ください。  
 ※2. このプリントを活用したオンライン授業のスケジュールは、しながわ・目黒こどもスクールのウェブサイトでご確認ください。



# おうちで、よろう。

Study at home. 小学校受験の家庭学習教材

## 図形：反転2

左の見本は透明な板にかかれた模様です。この板を上への矢印の方向へくると裏返しにした時の見え方を考えて右にかきます。

この練習は、透明な板に描かれた図形を、上への矢印の方向へくると裏返しにした時の見え方を考えるものです。左側には見本の図形と、それを裏返した後の図形が示されています。右側には、同じ図形を裏返した後の図形を自分で描くための点線図が用意されています。

図形は、4x4の点線図上に描かれています。左側の見本は、透明な板にかかれた模様です。右側の図形は、透明な板をかき取った時の見え方です。

練習は4行4列の点線図で行われます。左側の見本は、透明な板にかかれた模様です。右側の図形は、透明な板をかき取った時の見え方です。

練習は4行4列の点線図で行われます。左側の見本は、透明な板にかかれた模様です。右側の図形は、透明な板をかき取った時の見え方です。

練習は4行4列の点線図で行われます。左側の見本は、透明な板にかかれた模様です。右側の図形は、透明な板をかき取った時の見え方です。

練習は4行4列の点線図で行われます。左側の見本は、透明な板にかかれた模様です。右側の図形は、透明な板をかき取った時の見え方です。

※1. このプリントは、しながわ・目黒こどもスクールのウェブサイトでダウンロードができます。無断複写・引用はご遠慮ください。  
 ※2. このプリントを活用したオンライン授業のスケジュールは、しながわ・目黒こどもスクールのウェブサイトでご確認ください。



# おうちで、やろう。

Study at home. 小学校受験の家庭学習教材

## 図形：反転3

左の見本は透明な板にかかれた模様です。この板を上への矢印の方向へくると裏返しにした時の見え方を考えて右にかきます。

この練習は、透明な板に描かれた図形を、上への矢印の方向へくると裏返しにした時の見え方を考えるものです。左側には見本の図形と、その裏返しの図形が示されています。右側には、見本の図形と、裏返しの図形が描かれた点陣があり、子供が裏返しの図形を正確に描く練習をします。

練習は4行に分かれています。各行の左側には見本の図形と、その裏返しの図形が示されています。右側には、見本の図形と、裏返しの図形が描かれた点陣があり、子供が裏返しの図形を正確に描く練習をします。

各行の図形は以下の通りです：

- 第1行：見本は左側の点陣に描かれた図形。裏返しは右側の点陣に描かれた図形。
- 第2行：見本は左側の点陣に描かれた図形。裏返しは右側の点陣に描かれた図形。
- 第3行：見本は左側の点陣に描かれた図形。裏返しは右側の点陣に描かれた図形。
- 第4行：見本は左側の点陣に描かれた図形。裏返しは右側の点陣に描かれた図形。

※1. このプリントは、しながわ・目黒こどもスクールのウェブサイトでダウンロードができます。無断複写・引用はご遠慮ください。  
 ※2. このプリントを活用したオンライン授業のスケジュールは、しながわ・目黒こどもスクールのウェブサイトでご確認ください。

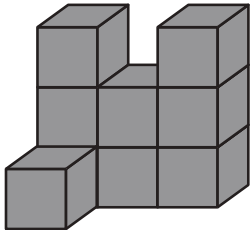


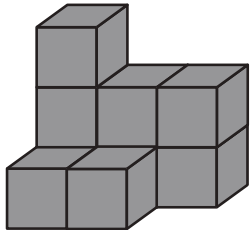
# おうちで、やろう。

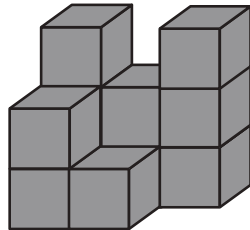
Study at home. 小学校受験の家庭学習教材

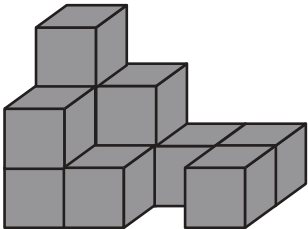
## 推理：積み木7

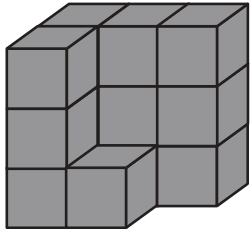
上の四角の中の積み木のうち、隠れている積み木はいくつですか。その数だけ〇をかきます。

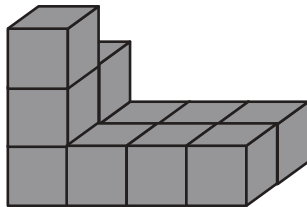



※1. このプリントは、しながわ・目黒こどもスクールのウェブサイトでダウンロードができます。無断複写・引用はご遠慮ください。  
 ※2. このプリントを活用したオンライン授業のスケジュールは、しながわ・目黒こどもスクールのウェブサイトでご確認ください。

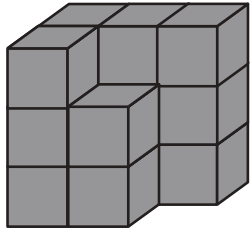


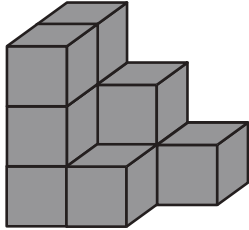
# おうちで、やろう。

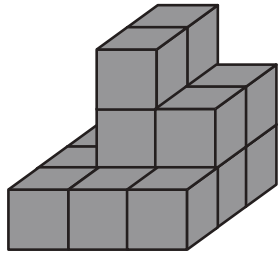
Study at home. 小学校受験の家庭学習教材

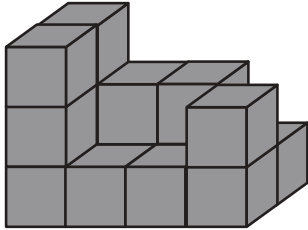
## 推理：積み木8

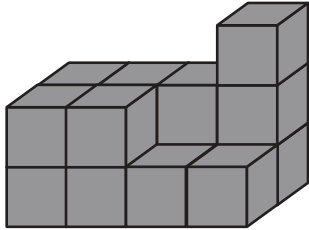
上の四角の中の積み木のうち、隠れている積み木はいくつですか。その数だけ○をかきます。

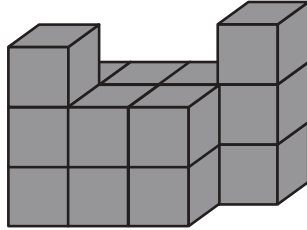



※1. このプリントは、しながわ・目黒こどもスクールのウェブサイトでダウンロードができます。無断複写・引用はご遠慮ください。  
 ※2. このプリントを活用したオンライン授業のスケジュールは、しながわ・目黒こどもスクールのウェブサイトでご確認ください。








# おうちで、やろう。

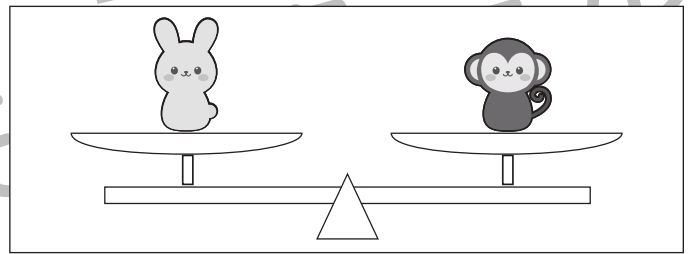
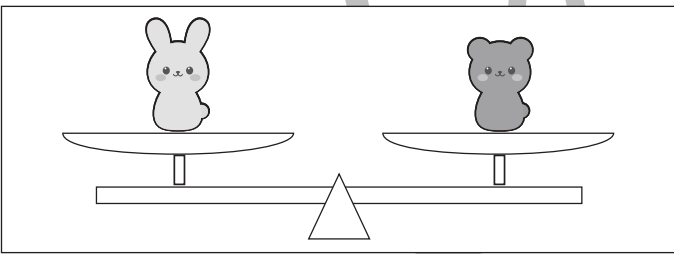
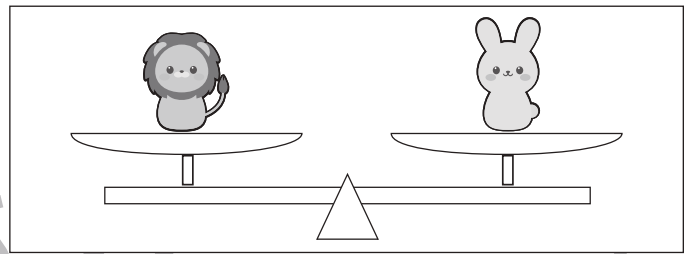
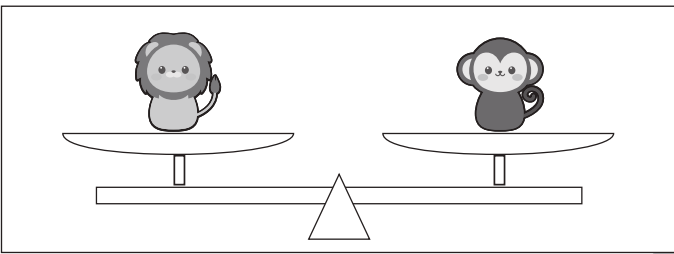
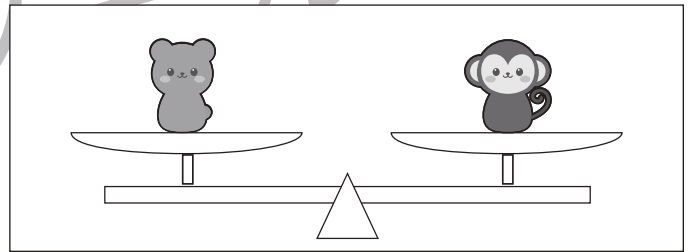
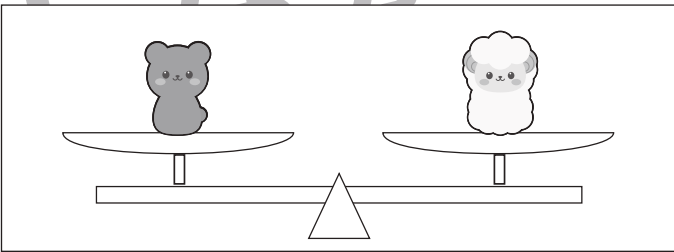
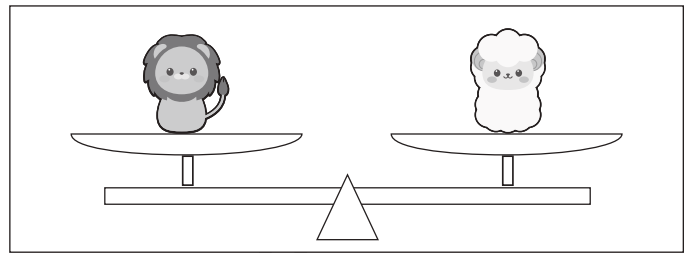
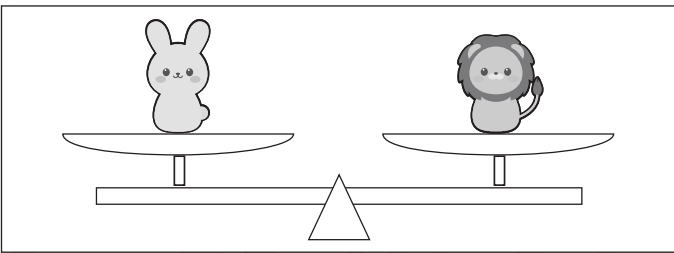
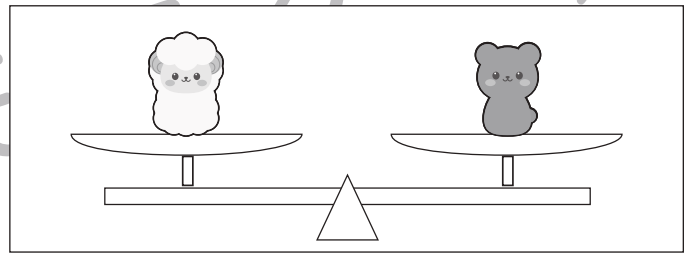
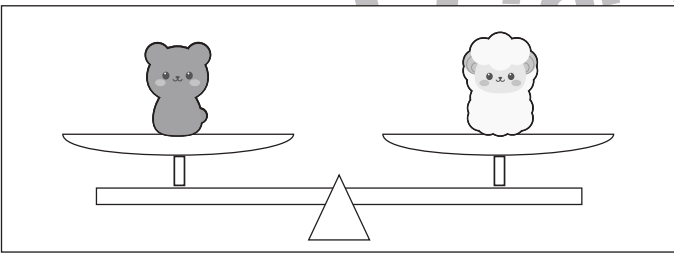
Study at home. 小学校受験の家庭学習教材

推理：重さ 1

上の四角は動物たちが左から重い順番に並んでいます。一番重いのはサル、一番軽いのはウサギです。このとき、下のシーソーのように重さ比べをしました。このとき、それぞれのシーソーで下がってしまう動物に○をつけます。

おもい  ▶ かるい

				
---	---	---	---	---



※1. このプリントは、しながわ・目黒こどもスクールのウェブサイトからダウンロードできます。無断複写・引用はご遠慮ください。

※2. このプリントを活用したオンライン授業のスケジュールは、しながわ・目黒こどもスクールのウェブサイトでご確認ください。

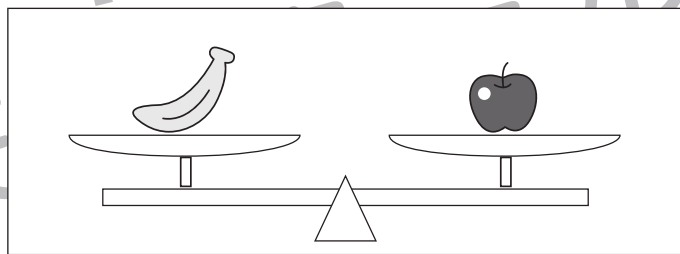
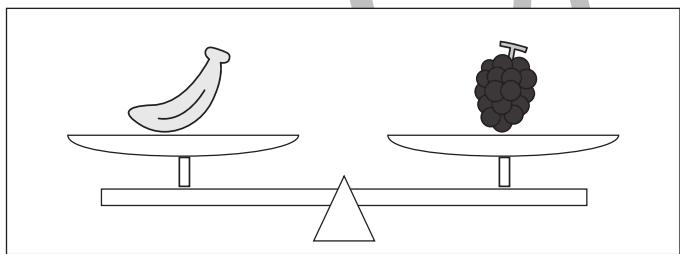
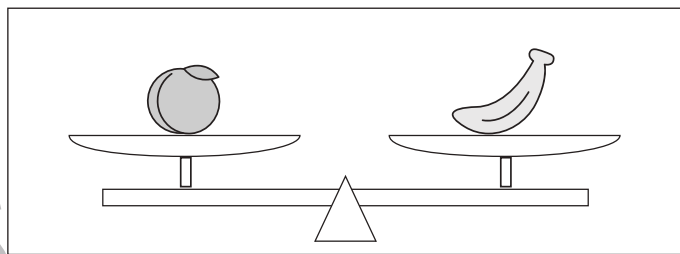
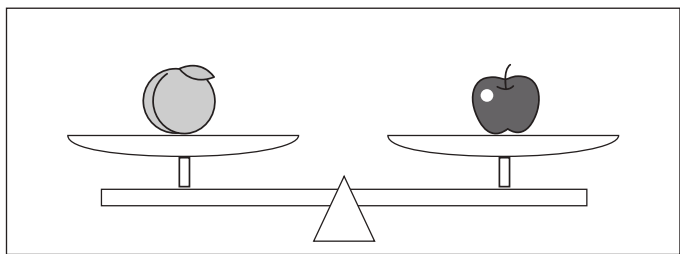
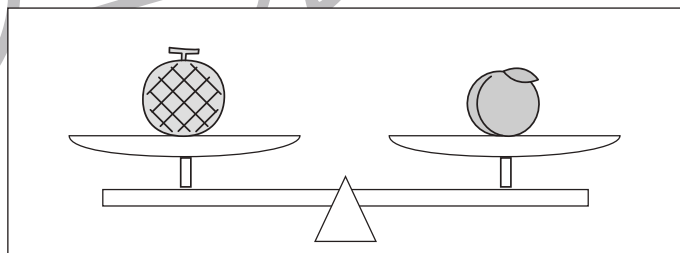
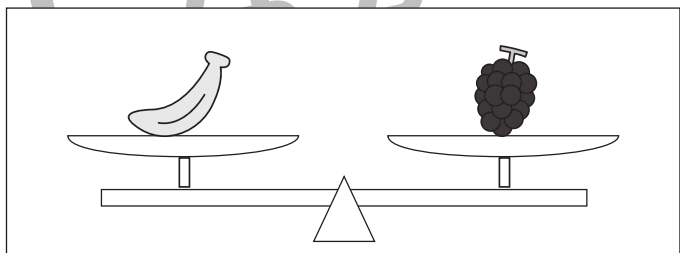
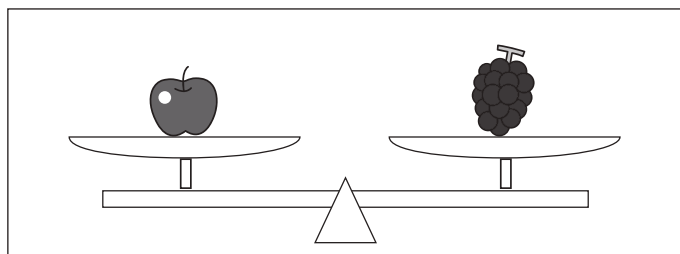
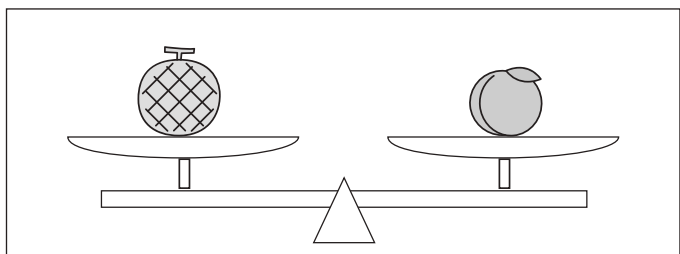
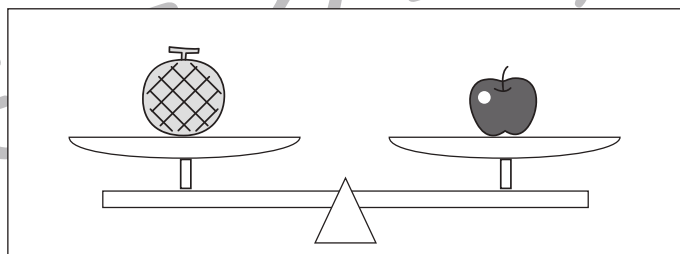
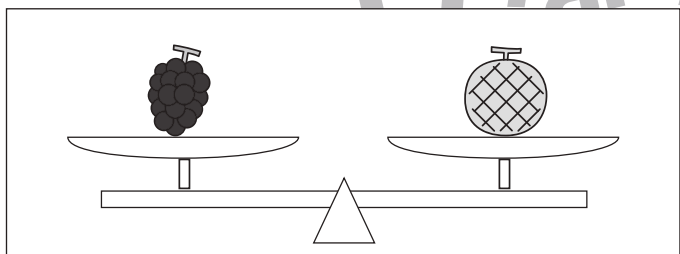



# おうちで、やろう。

Study at home. 小学校受験の家庭学習教材

## 推理：重さ2

上の四角は果物が左から重い順番に並んでいます。一番重いのはモモ、一番軽いのはバナナです。このとき、下のシーソーのように重さ比べをしました。それぞれのシーソーで上がる果物に○をつけます。



※1. このプリントは、しながわ・目黒こどもスクールのウェブサイトでダウンロードができます。無断複写・引用はご遠慮ください。

※2. このプリントを活用したオンライン授業のスケジュールは、しながわ・目黒こどもスクールのウェブサイトでご確認ください。





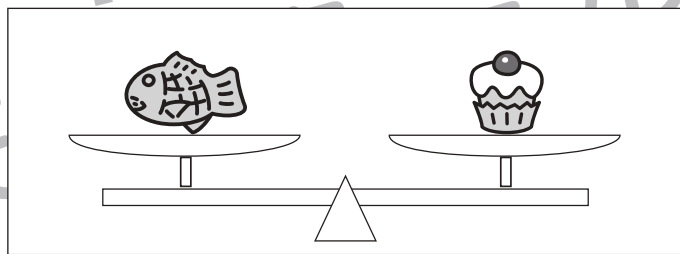
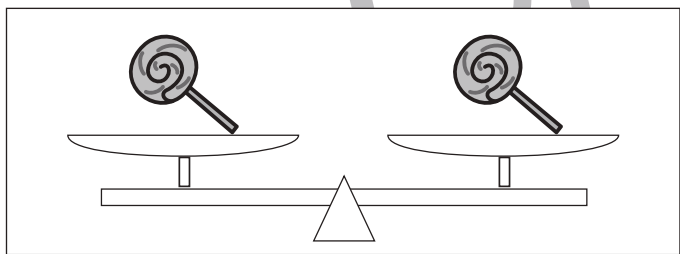
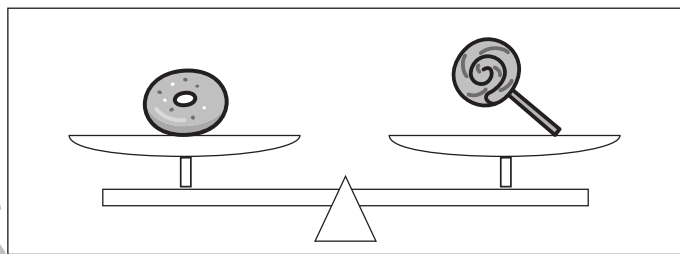
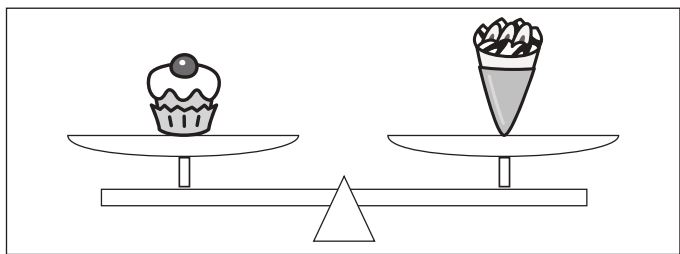
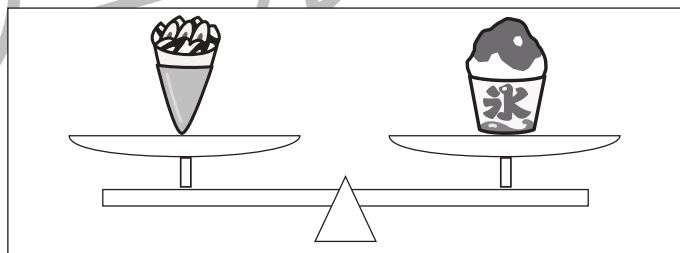
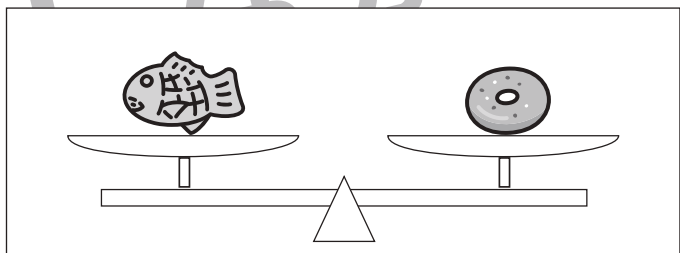
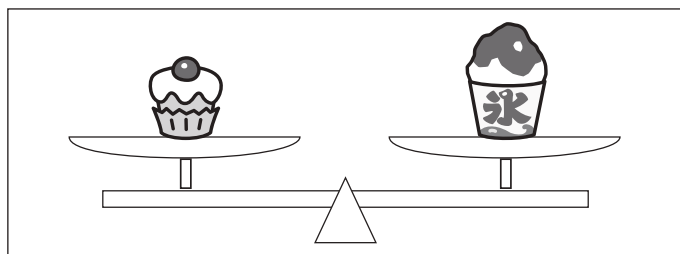
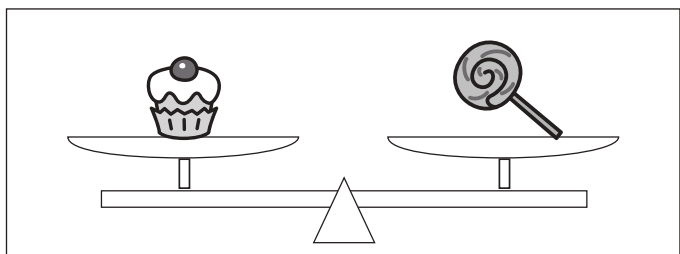
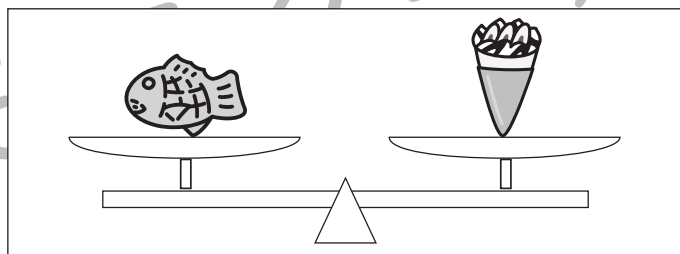
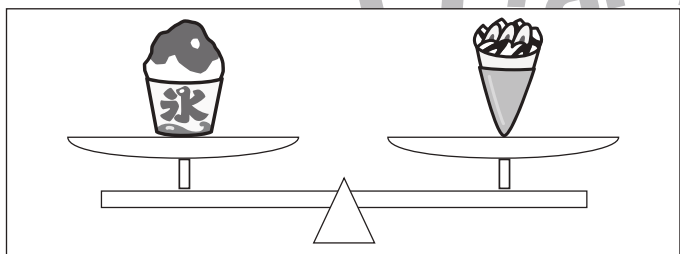
# おうちで、やろう。

Study at home. 小学校受験の家庭学習教材

推理：重さ3

上の四角はおやつが左から重い順番に並んでいます。同じ四角の中にあるおやつは同じ重さです。一番重いのはかき氷、一番軽いのはドーナツ、あめです。このとき、下のシーソーのように重さ比べをしました。それぞれのシーソーで下がってしまうおやつに○をつけます。また、シーソーがそのままのときは両方のおやつに○をつけます。

おもい ←			→ かるい



※1. このプリントは、しながわ・目黒こどもスクールのウェブサイトからダウンロードできます。無断複写・引用はご遠慮ください。  
※2. このプリントを活用したオンライン授業のスケジュールは、しながわ・目黒こどもスクールのウェブサイトでご確認ください。



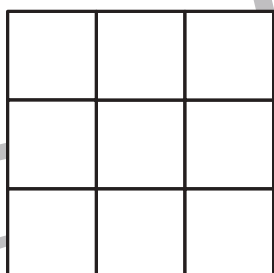
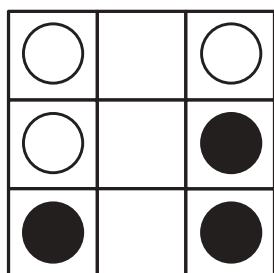
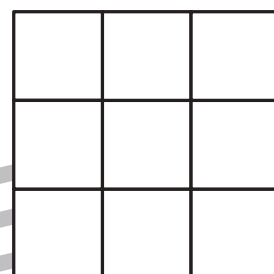
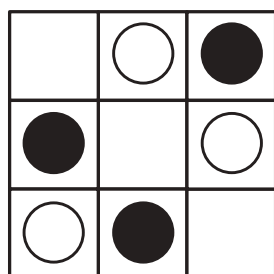
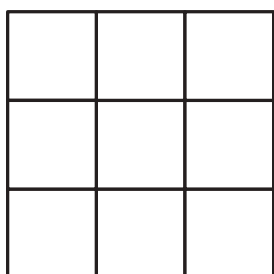

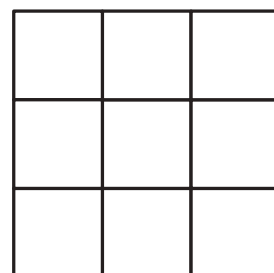

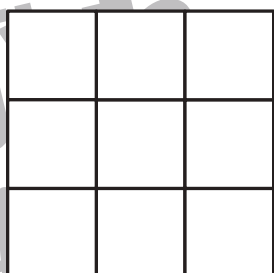
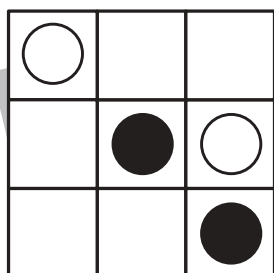
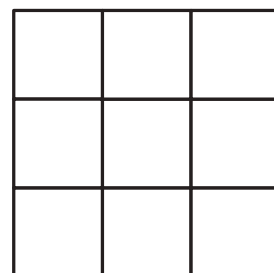
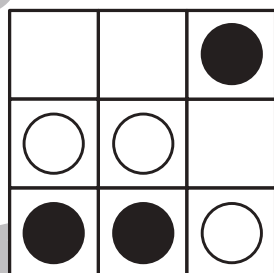

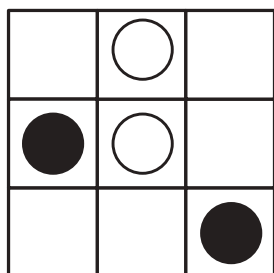

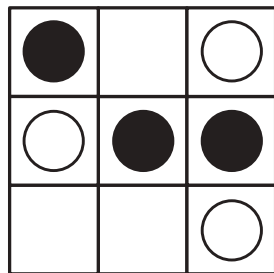
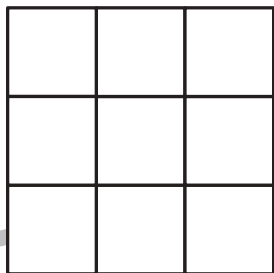
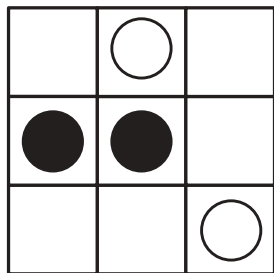


# おうちで、やろう。

Study at home. 小学校受験の家庭学習教材

図形：模写7

左の四角がお手本です。右の四角にお手本の黒丸を白丸にかえて右の四角の同じ場所にかきます。



※1. このプリントは、しながわ・目黒こどもスクールのウェブサイトでダウンロードができます。無断複写・引用はご遠慮ください。  
※2. このプリントを活用したオンライン授業のスケジュールは、しながわ・目黒こどもスクールのウェブサイトでご確認ください。