



おうちで、やろう。

Study at home. 小学校受験の家庭学習教材

指示の聞き取り 6

それぞれお話をよく聞いて問題に取り組みます。お話は一度しか読みませんのでしっかり聞きましょう。

①一番大きい○を青、一番小さい□を緑、真ん中の大きさの△を黒で塗ります。

②それぞれ一番小さい形を赤で塗ります。

①

②

※1. このプリントは、しながわ・目黒こどもスクールのウェブサイトダウンロードができます。無断複写・引用はご遠慮ください。

※2. このプリントを活用したオンライン授業のスケジュールは、しながわ・目黒こどもスクールのウェブサイトでご確認ください。



おうちで、やろう。

Study at home. 小学校受験の家庭学習教材

図形：反転1

左の見本は透明な板にかかれた模様です。この板を上への矢印の方向へくると裏返しにした時の見え方を考えて右にかきます。

※1. このプリントは、しながわ・目黒こどもスクールのウェブサイトでダウンロードができます。無断複写・引用はご遠慮ください。
 ※2. このプリントを活用したオンライン授業のスケジュールは、しながわ・目黒こどもスクールのウェブサイトでご確認ください。



おうちで、よろう。

Study at home. 小学校受験の家庭学習教材

図形：反転2

左の見本は透明な板にかかれた模様です。この板を上への矢印の方向へくると裏返しにした時の見え方を考えて右にかきます。

The puzzles are arranged in four rows. Each row contains two pairs of dot-pattern puzzles. The left puzzle in each pair shows a path on a 4x4 dot grid starting from a red-circled dot. The right puzzle shows the same path after a 180-degree rotation. A curved arrow above each pair indicates the rotation direction.

※1. このプリントは、しながわ・目黒こどもスクールのウェブサイトでダウンロードができます。無断複写・引用はご遠慮ください。
 ※2. このプリントを活用したオンライン授業のスケジュールは、しながわ・目黒こどもスクールのウェブサイトでご確認ください。



おうちで、やろう。

Study at home. 小学校受験の家庭学習教材

図形：反転3

左の見本は透明な板にかかれた模様です。この板を上への矢印の方向へくると裏返しにした時の見え方を考えて右にかきます。

※1. このプリントは、しながわ・目黒こどもスクールのウェブサイトでダウンロードができます。無断複写・引用はご遠慮ください。
 ※2. このプリントを活用したオンライン授業のスケジュールは、しながわ・目黒こどもスクールのウェブサイトでご確認ください。



おうちで、やろう。

Study at home. 小学校受験の家庭学習教材

推理：積み木7

上の四角の中の積み木のうち、隠れている積み木はいくつですか。その数だけ○をかきます。

○		

○	○	

○	○	○

○	○	○

○	○	○

○		

※1. このプリントは、しながわ・目黒こどもスクールのウェブサイトでダウンロードができます。無断複写・引用はご遠慮ください。
 ※2. このプリントを活用したオンライン授業のスケジュールは、しながわ・目黒こどもスクールのウェブサイトでご確認ください。



おうちで、やろう。

Study at home. 小学校受験の家庭学習教材

推理：積み木8

上の四角の中の積み木のうち、隠れている積み木はいくつですか。その数だけ○をかきます。

○ ○ ○ ○

○ ○ ○

○ ○ ○

○ ○ ○ ○

○ ○ ○

○ ○ ○

※1. このプリントは、しながわ・目黒こどもスクールのウェブサイトでダウンロードができます。無断複写・引用はご遠慮ください。
 ※2. このプリントを活用したオンライン授業のスケジュールは、しながわ・目黒こどもスクールのウェブサイトでご確認ください。

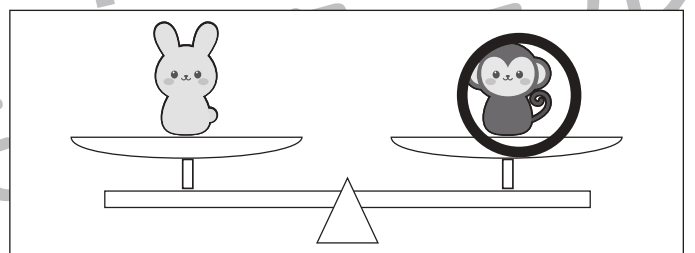
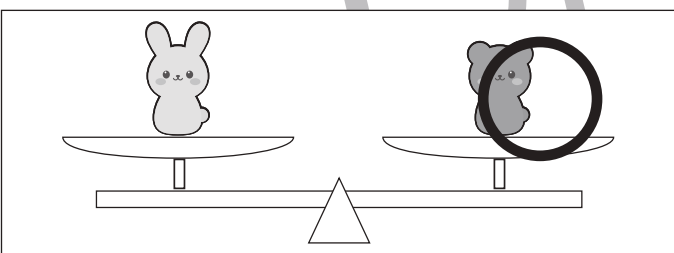
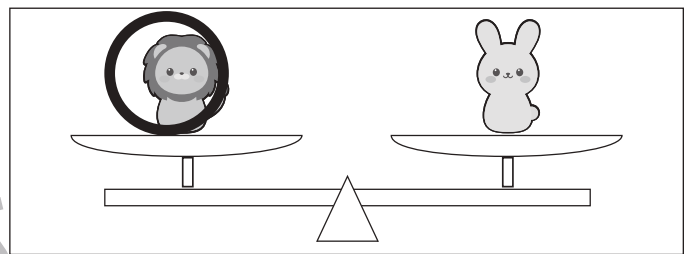
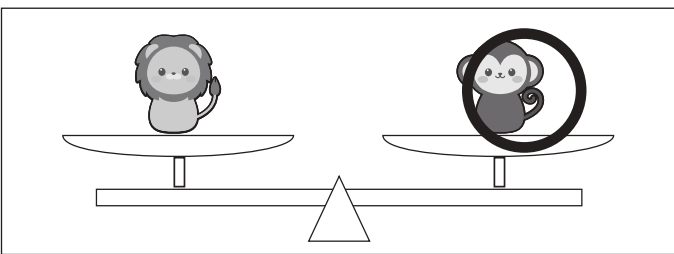
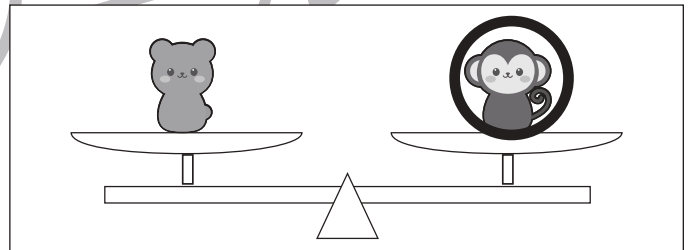
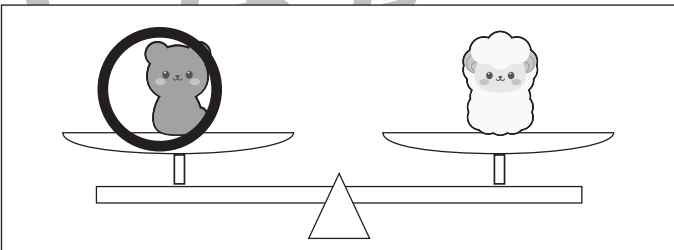
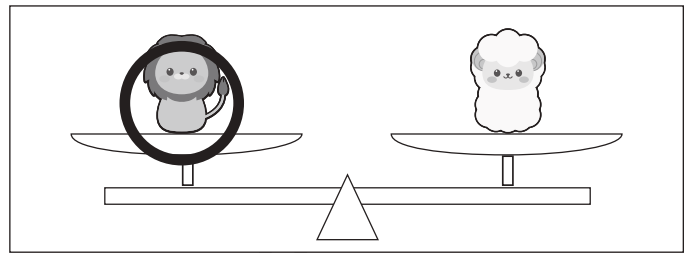
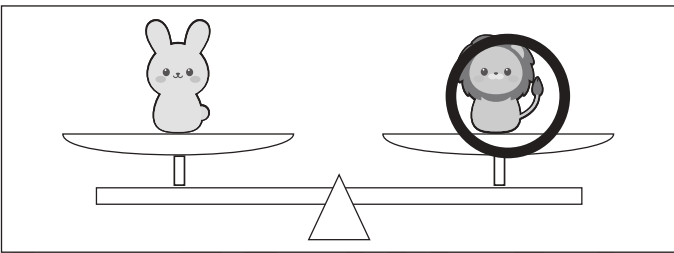

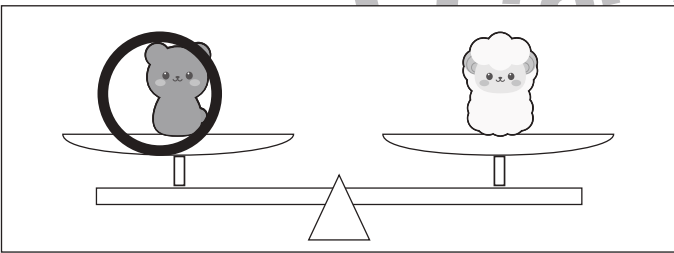



おうちで、やろう。

Study at home. 小学校受験の家庭学習教材

推理：重さ 1

上の四角は動物たちが左から重い順番に並んでいます。一番重いのはサル、一番軽いのはウサギです。このとき、下のシーソーのように重さ比べをしました。このとき、それぞれのシーソーで下がってしまう動物に○をつけます。



※1. このプリントは、しながわ・目黒こどもスクールのウェブサイトでダウンロードができます。無断複写・引用はご遠慮ください。

※2. このプリントを活用したオンライン授業のスケジュールは、しながわ・目黒こどもスクールのウェブサイトでご確認ください。

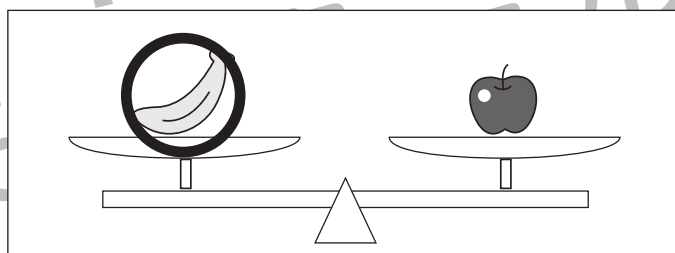
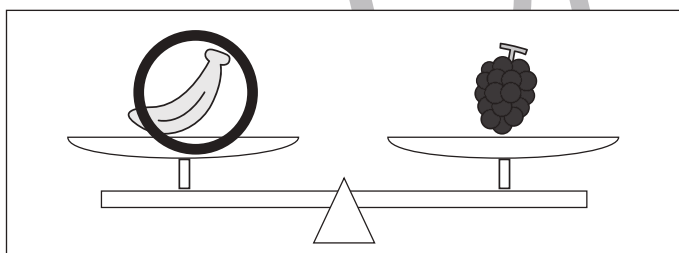

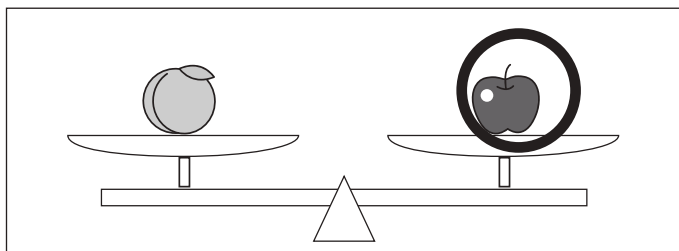
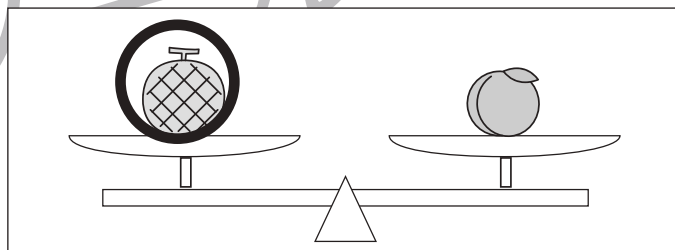

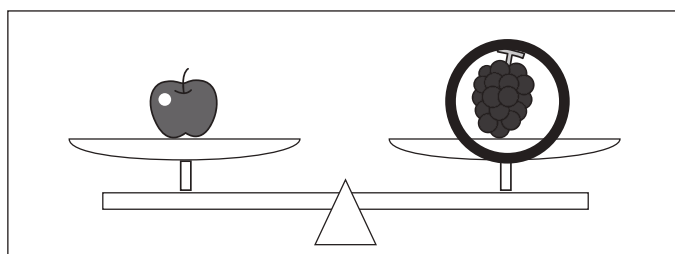
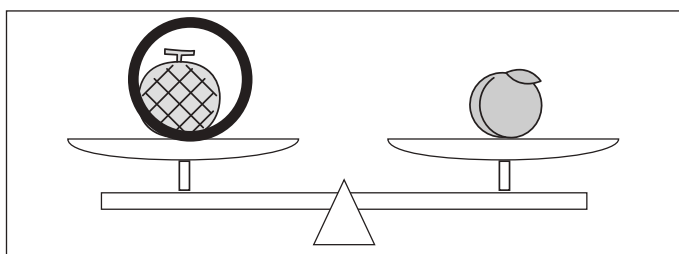


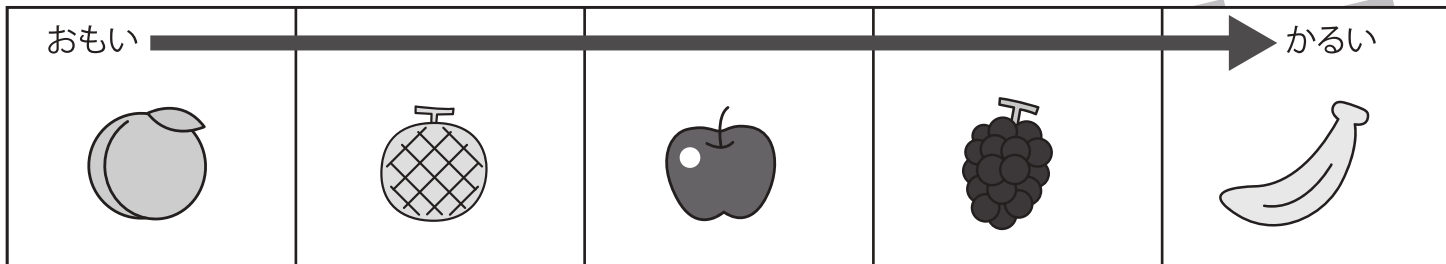


おうちで、やろう。

Study at home. 小学校受験の家庭学習教材

推理：重さ2

上の四角は果物が左から重い順番に並んでいます。一番重いのはモモ、一番軽いのはバナナです。このとき、下のシーソーのように重さ比べをしました。それぞれのシーソーで上がる果物に○をつけます。



※1. このプリントは、しながわ・目黒こどもスクールのウェブサイトからダウンロードできます。無断複写・引用はご遠慮ください。

※2. このプリントを活用したオンライン授業のスケジュールは、しながわ・目黒こどもスクールのウェブサイトでご確認ください。





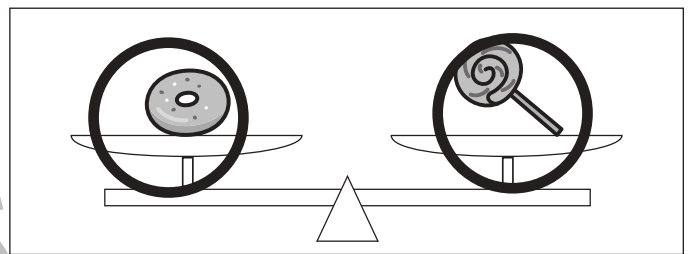
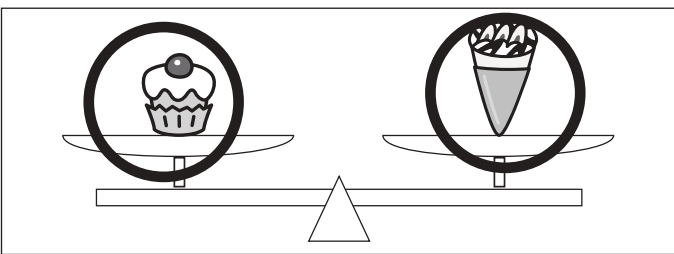

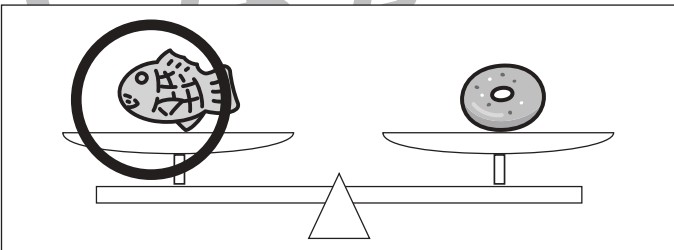



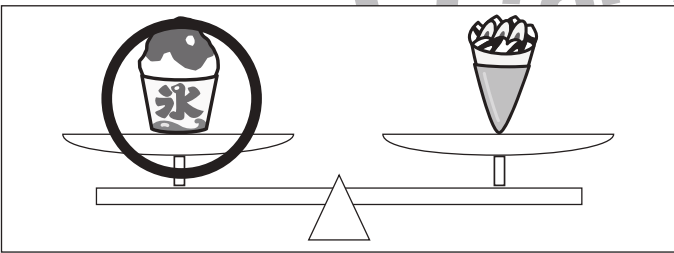
おうちで、やろう。

Study at home. 小学校受験の家庭学習教材

推理：重さ3

上の四角はおやつが左から重い順番に並んでいます。同じ四角の中にあるおやつは同じ重さです。一番重いのはかき氷、一番軽いのはドーナツ、あめです。このとき、下のシーソーのように重さ比べをしました。それぞれのシーソーで下がってしまうおやつに○をつけます。また、シーソーがそのままのときは両方のおやつに○をつけます。

おもい ←			→ かるい	



※1. このプリントは、しながわ・目黒こどもスクールのウェブサイトからダウンロードできます。無断複写・引用はご遠慮ください。

※2. このプリントを活用したオンライン授業のスケジュールは、しながわ・目黒こどもスクールのウェブサイトでご確認ください。



おうちで、やろう。

Study at home. 小学校受験の家庭学習教材

図形：模写7

左の四角がお手本です。右の四角にお手本の黒丸を白丸にかえて右の四角の同じ場所にかきます。

	▶		▶		▶	
	▶		▶		▶	
	▶		▶		▶	
	▶		▶		▶	
	▶		▶		▶	

※1. このプリントは、しながわ・目黒こどもスクールのウェブサイトでダウンロードができます。無断複写・引用はご遠慮ください。
 ※2. このプリントを活用したオンライン授業のスケジュールは、しながわ・目黒こどもスクールのウェブサイトでご確認ください。