

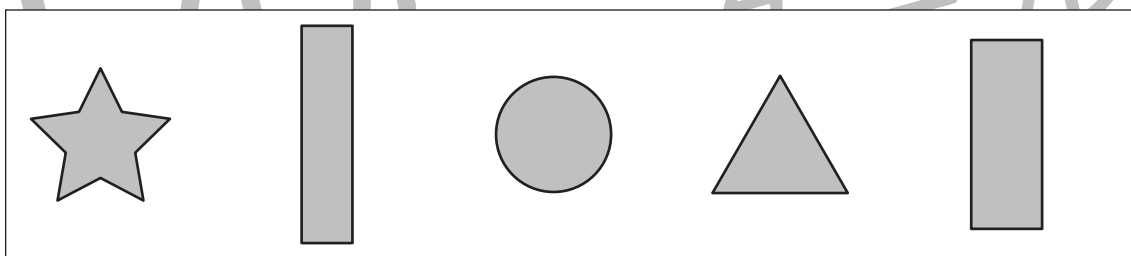

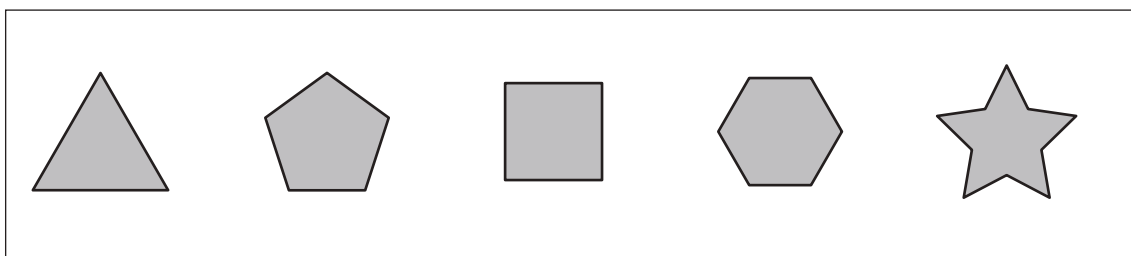
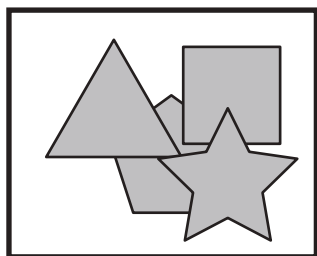
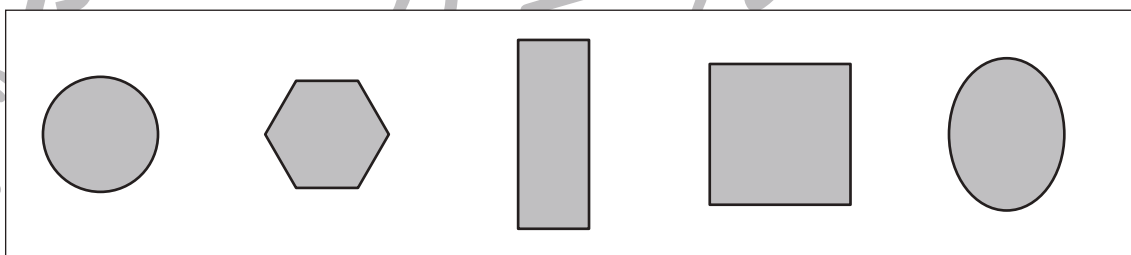
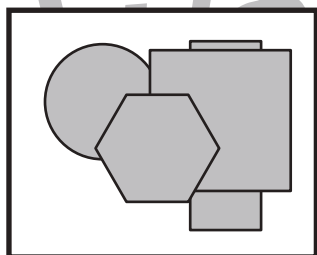
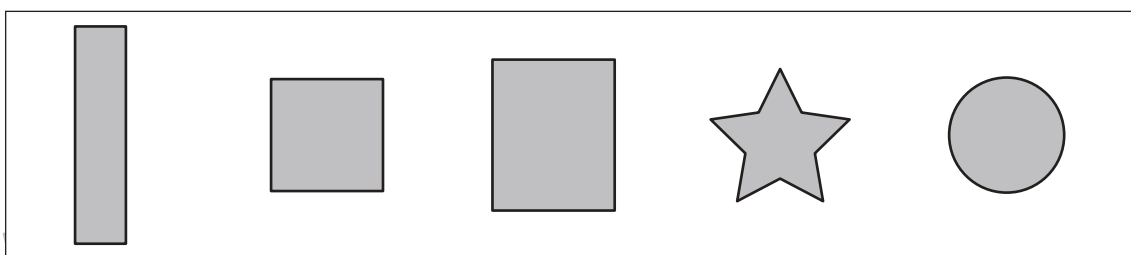
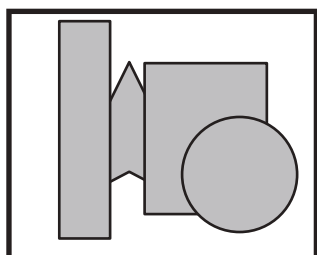
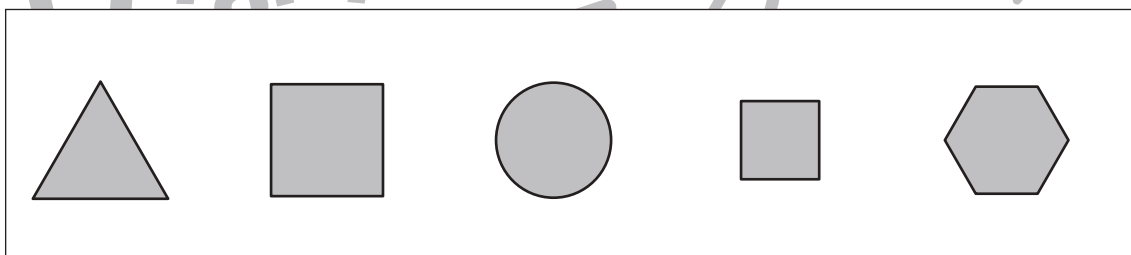
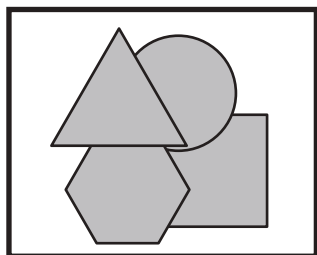
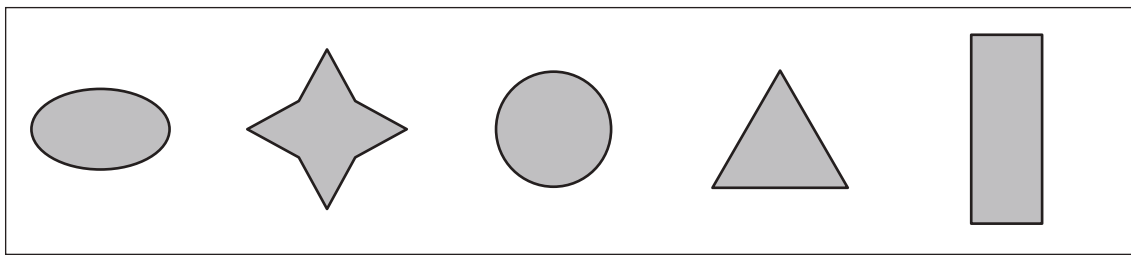
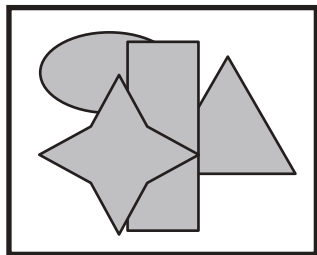


おうちで、やろう。

Study at home. 小学校受験の家庭学習教材

図形：重なり 4

左の太い四角の中はいくつかの形が重なったものです。左の四角の中にある形を右の四角の中から見つけて × をつけます。



※1. このプリントは、しながわ・目黒こどもスクールのウェブサイトでダウンロードができます。無断複写・引用はご遠慮ください。
※2. このプリントを活用したオンライン授業のスケジュールは、しながわ・目黒こどもスクールのウェブサイトでご確認ください。



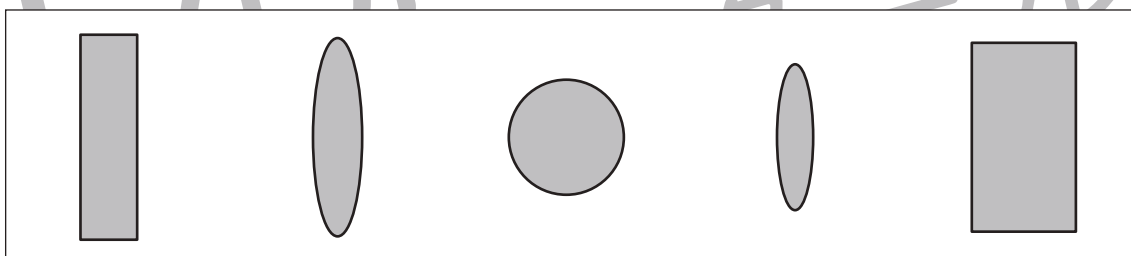
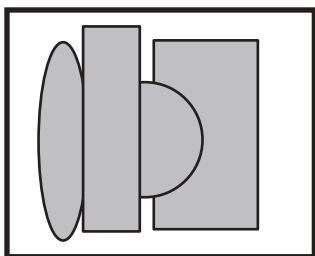
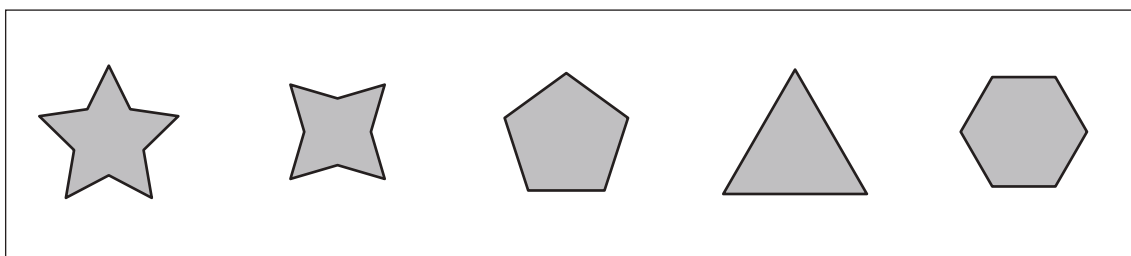
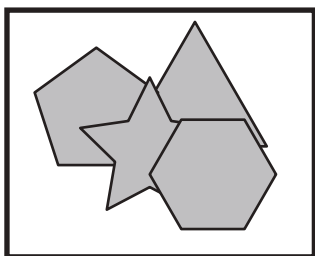
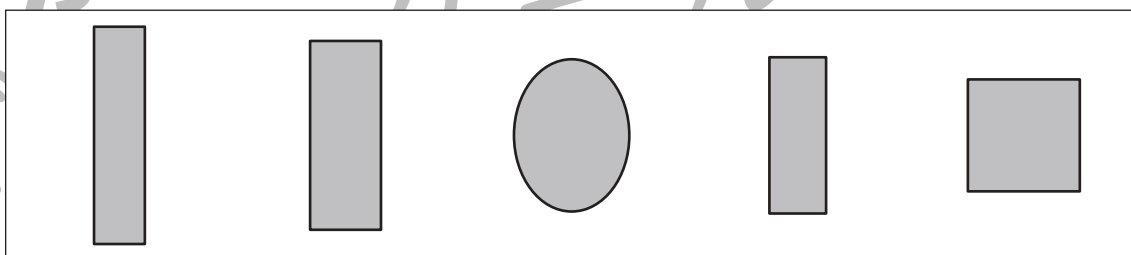
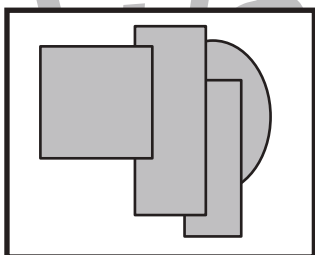
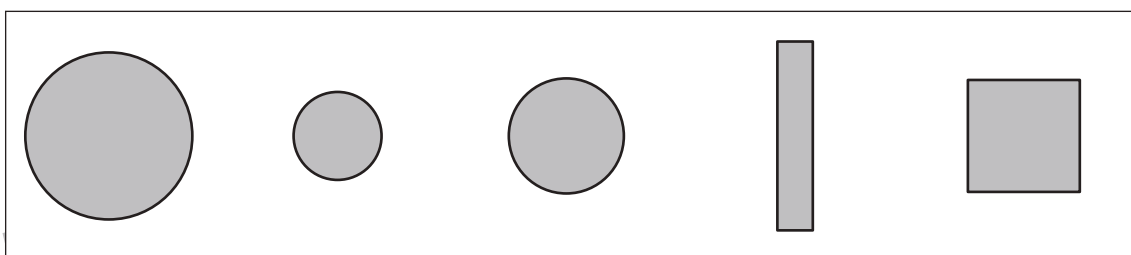
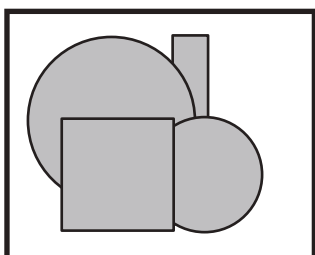
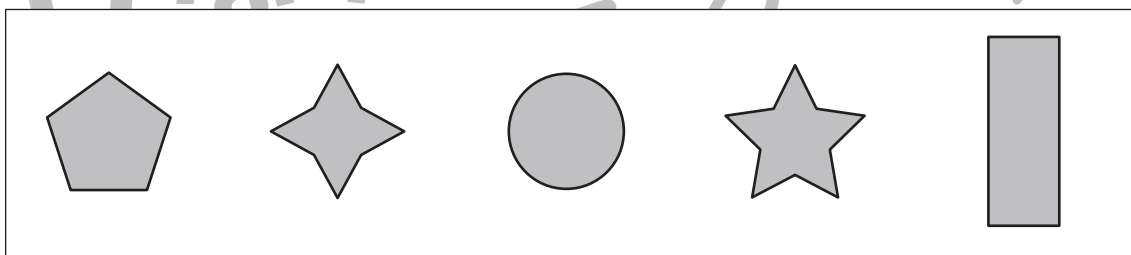
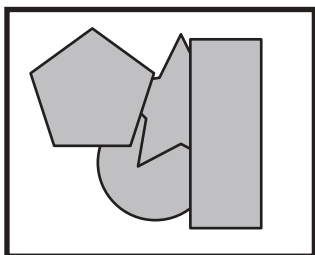
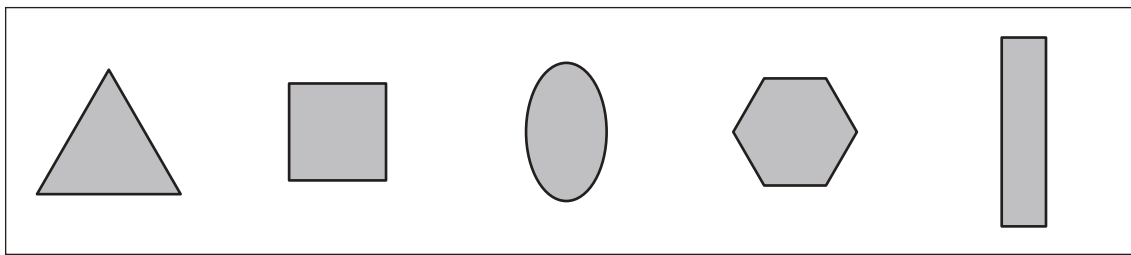
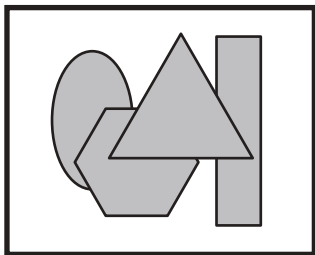


おうちで、やろう。

Study at home. 小学校受験の家庭学習教材

図形：重なり5

左の太い四角の中はいくつかの形が重なったものです。左の四角の中にある形を右の四角の中から見つけて×をつけます。



※1. このプリントは、しながわ・目黒こどもスクールのウェブサイトからダウンロードできます。無断複写・引用はご遠慮ください。
※2. このプリントを活用したオンライン授業のスケジュールは、しながわ・目黒こどもスクールのウェブサイトでご確認ください。



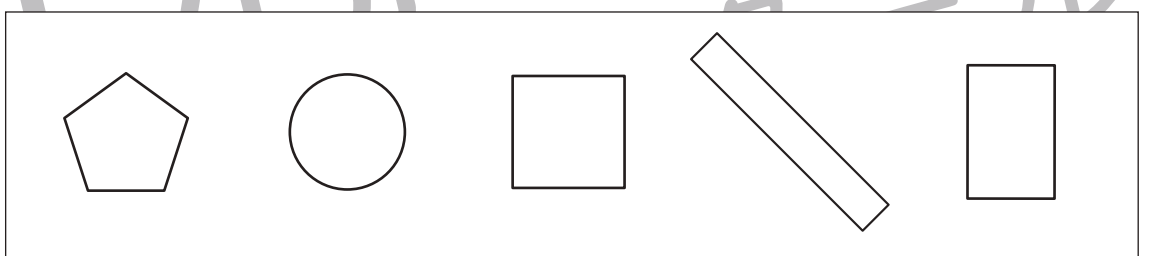
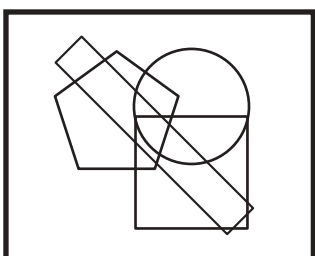
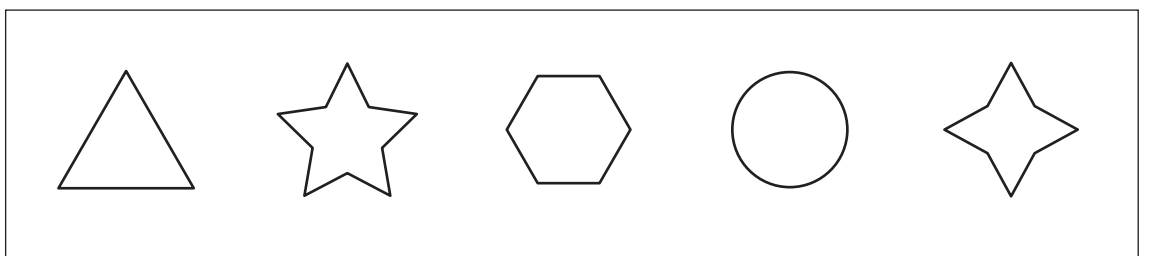

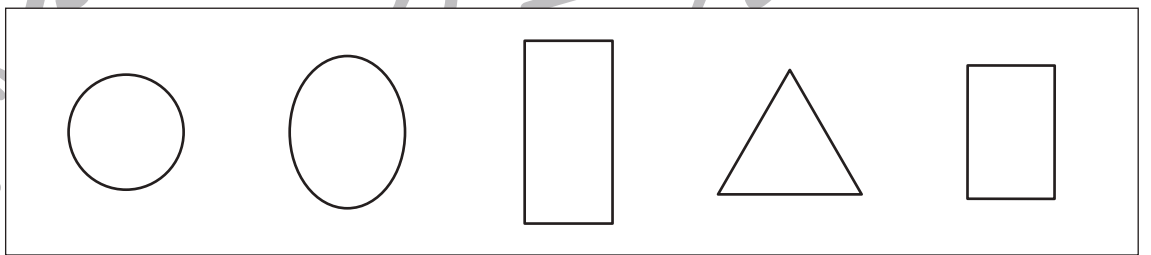

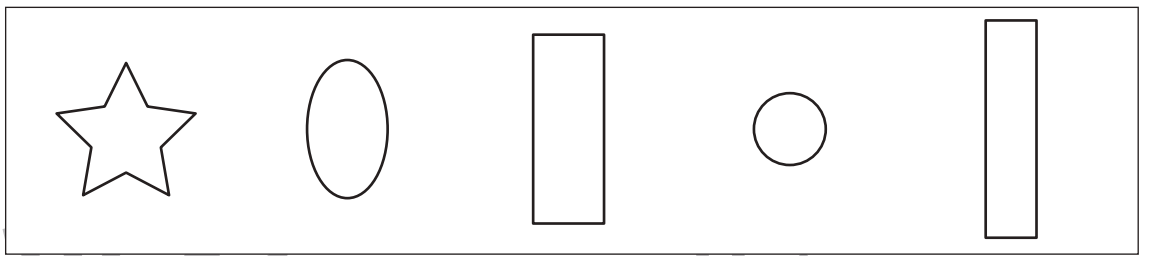
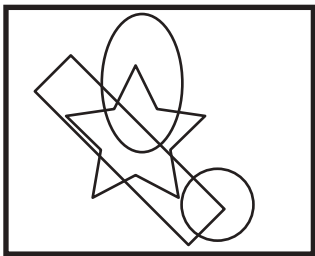
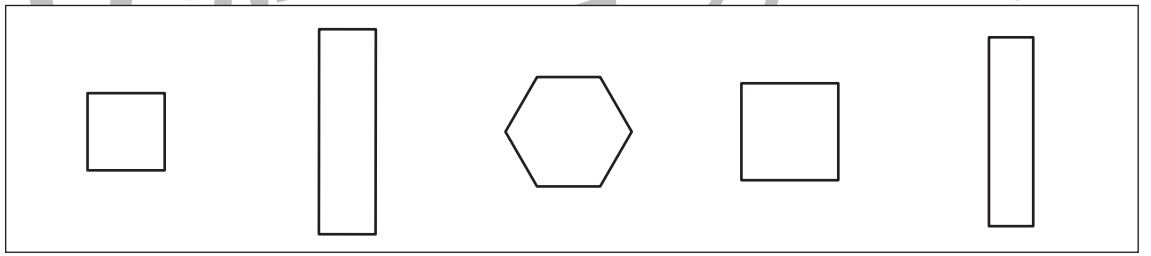
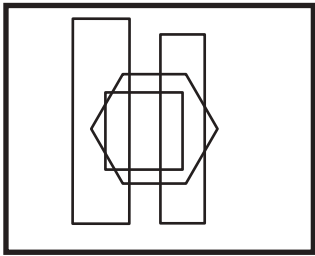
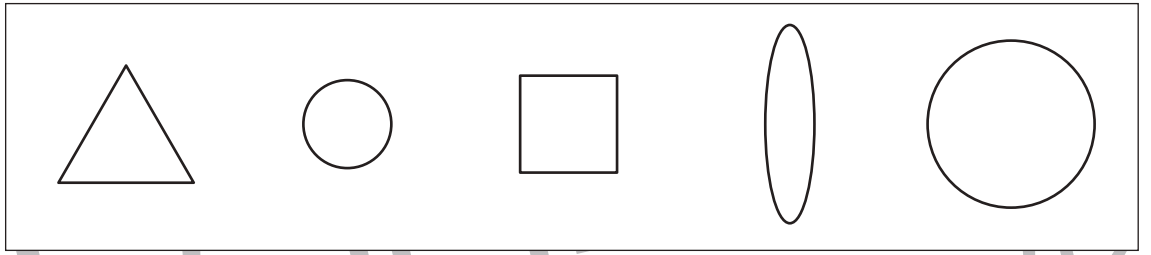



おうちで、やろう。

Study at home. 小学校受験の家庭学習教材

図形：重なり6

左の太い四角の中はいくつかの形が重なったものです。左の四角の中にある形を右の四角の中から見つけて×をつけます。



※1. このプリントは、しながわ・目黒こどもスクールのウェブサイトでダウンロードができます。無断複写・引用はご遠慮ください。
※2. このプリントを活用したオンライン授業のスケジュールは、しながわ・目黒こどもスクールのウェブサイトでご確認ください。



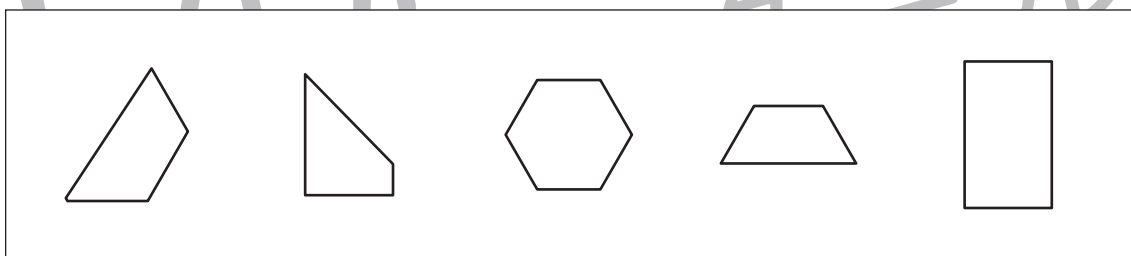

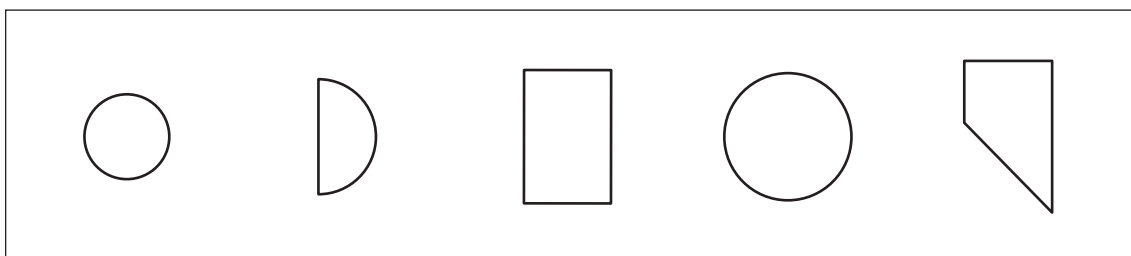
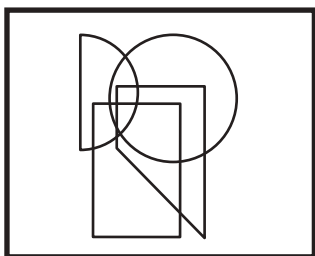
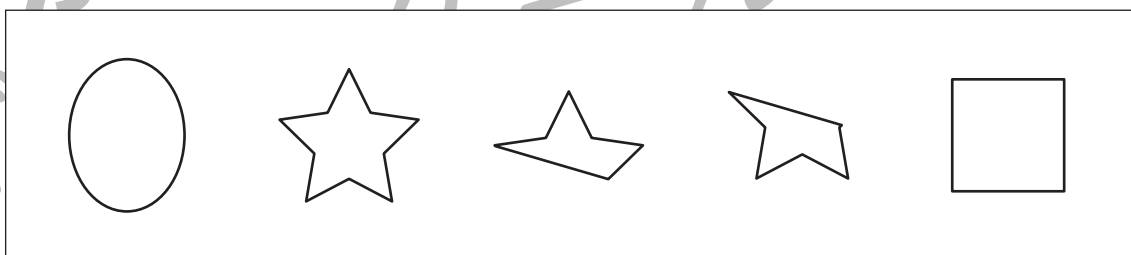
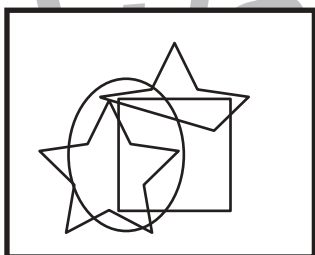
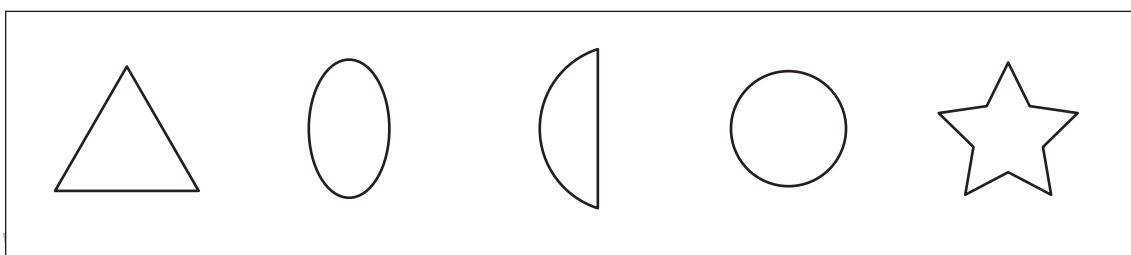

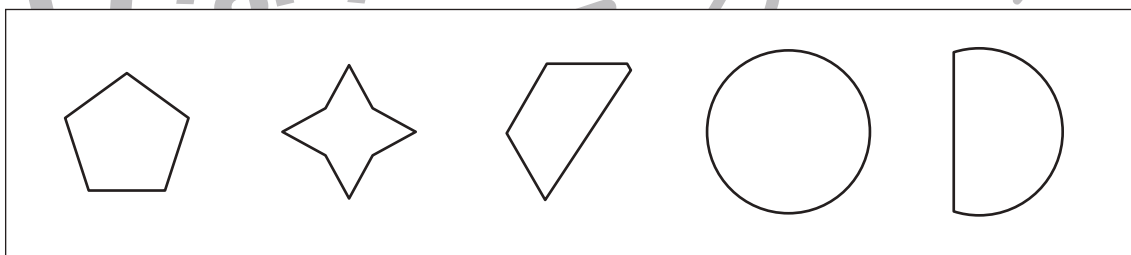

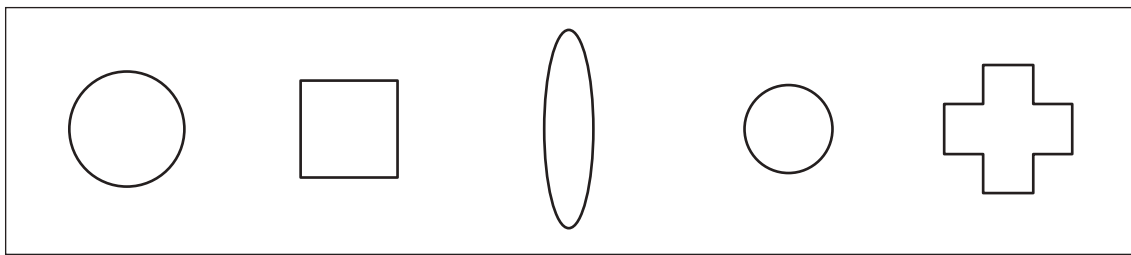
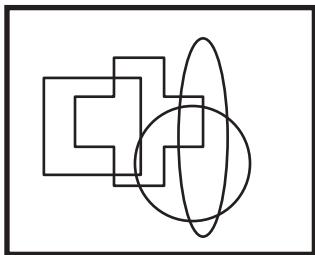


おうちで、やろう。

Study at home. 小学校受験の家庭学習教材

図形：重なり7

左の太い四角の中はいくつかの形が重なったものです。左の四角の中にある形を右の四角の中から見つけて×をつけます。



※1. このプリントは、しながわ・目黒こどもスクールのウェブサイトでダウンロードができます。無断複写・引用はご遠慮ください。
※2. このプリントを活用したオンライン授業のスケジュールは、しながわ・目黒こどもスクールのウェブサイトでご確認ください。





おうちで、やろう。

Study at home. 小学校受験の家庭学習教材

図形：模写 8

左のお手本の灰色と黒いマスの場所を考えて、右のマスの同じ場所に○を塗ります。

■	□	■	□
□	□	■	□
■	■	■	■
□	□	□	□

○	○	○	○
○	○	○	○
○	○	○	○
○	○	○	○

□	■	□	□
■	□	■	□
□	□	□	■
■	□	□	□

○	○	○	○
○	○	○	○
○	○	○	○
○	○	○	○

□	■	□	■
□	■	■	□
□	■	□	□
□	■	□	■

○	○	○	○
○	○	○	○
○	○	○	○
○	○	○	○

■	□	■	□
□	□	□	■
■	■	■	□
□	■	□	□

○	○	○	○
○	○	○	○
○	○	○	○
○	○	○	○

□	■	■	□
□	■	□	□
■	□	■	□
□	□	■	■

○	○	○	○
○	○	○	○
○	○	○	○
○	○	○	○

□	■	■	□
□	□	■	□
□	□	□	■
■	■	□	□

○	○	○	○
○	○	○	○
○	○	○	○
○	○	○	○

□	□	□	■
□	■	■	■
■	■	□	□
□	□	■	□

○	○	○	○
○	○	○	○
○	○	○	○
○	○	○	○

■	■	□	■
□	■	□	□
□	□	■	□
■	□	■	□

○	○	○	○
○	○	○	○
○	○	○	○
○	○	○	○

■	□	□	■
■	■	■	□
□	□	□	□
■	□	■	■

○	○	○	○
○	○	○	○
○	○	○	○
○	○	○	○

■	■	■	□
□	□	■	□
□	■	□	□
■	□	■	□

○	○	○	○
○	○	○	○
○	○	○	○
○	○	○	○

※1. このプリントは、しながわ・目黒こどもスクールのウェブサイトでダウンロードができます。無断複写・引用はご遠慮ください。

※2. このプリントを活用したオンライン授業のスケジュールは、しながわ・目黒こどもスクールのウェブサイトでご確認ください。



おうちで、やろう。

Study at home. 小学校受験の家庭学習教材

図形：模写9

左のお手本の白いマスの場所を考えて、右のマスの同じ場所に○を塗ります。

■	■	■	□
□	■	□	■
□	■	■	□
■	■	□	■

○	○	○	○
○	○	○	○
○	○	○	○
○	○	○	○

■	□	□	■
■	■	■	□
□	■	□	■
□	■	■	■

○	○	○	○
○	○	○	○
○	○	○	○
○	○	○	○

□	■	□	■
■	■	□	■
□	■	■	■
□	■	□	■

○	○	○	○
○	○	○	○
○	○	○	○
○	○	○	○

■	□	■	■
□	■	□	■
■	□	■	■
■	□	■	□

○	○	○	○
○	○	○	○
○	○	○	○
○	○	○	○

■	■	□	□
□	■	□	■
■	■	■	■
□	■	■	□

○	○	○	○
○	○	○	○
○	○	○	○
○	○	○	○

■	■	□	□
■	■	■	□
□	■	■	■
□	■	■	□

○	○	○	○
○	○	○	○
○	○	○	○
○	○	○	○

□	□	■	■
■	■	□	□
□	■	■	■
■	□	■	■

○	○	○	○
○	○	○	○
○	○	○	○
○	○	○	○

□	■	□	■
■	■	■	□
■	■	■	■
□	□	■	□

○	○	○	○
○	○	○	○
○	○	○	○
○	○	○	○

□	■	□	□
■	■	□	■
□	■	■	■
■	□	■	■

○	○	○	○
○	○	○	○
○	○	○	○
○	○	○	○

■	■	□	□
■	■	□	■
□	■	■	□
■	□	■	■

○	○	○	○
○	○	○	○
○	○	○	○
○	○	○	○

※1. このプリントは、しながわ・目黒こどもスクールのウェブサイトでダウンロードができます。無断複写・引用はご遠慮ください。
 ※2. このプリントを活用したオンライン授業のスケジュールは、しながわ・目黒こどもスクールのウェブサイトでご確認ください。


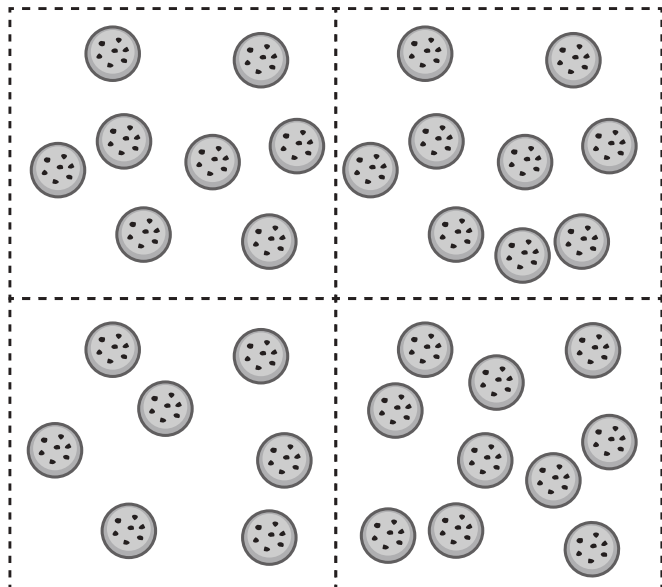
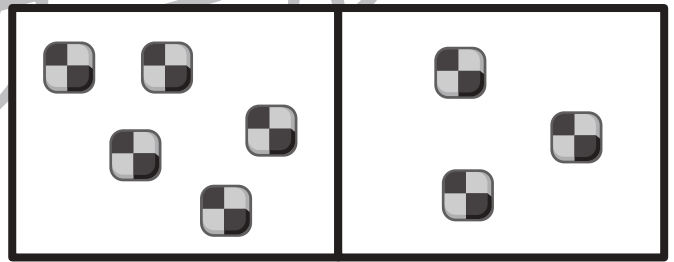
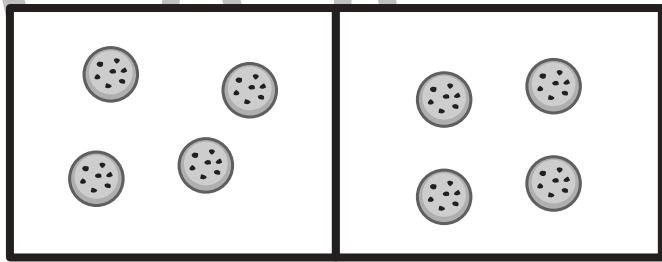
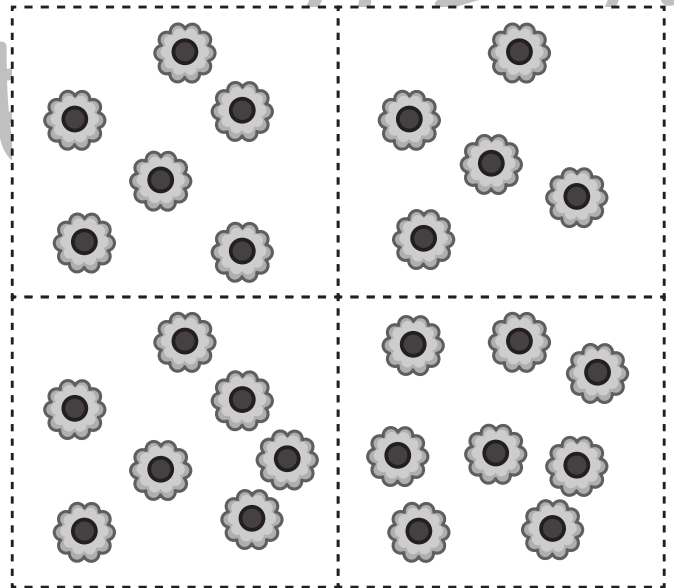
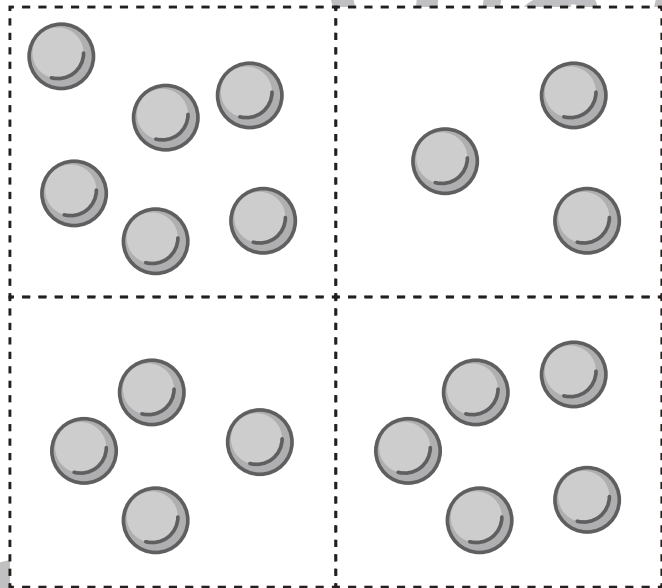
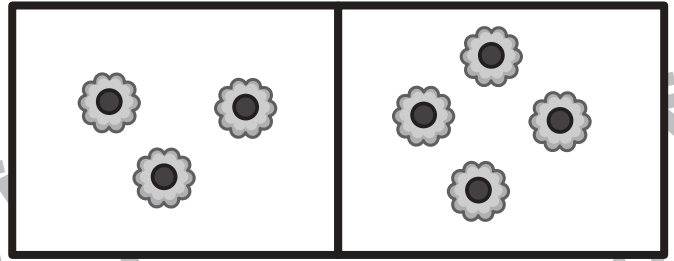
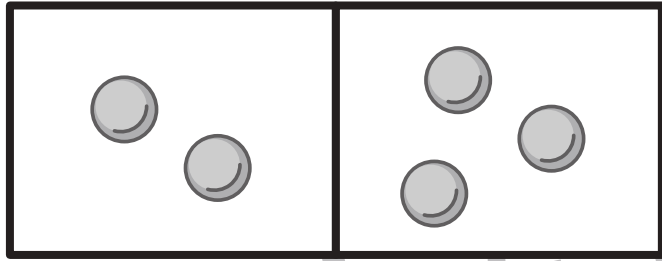


おうちで、やろう。

Study at home. 小学校受験の家庭学習教材

数量：加減1

太い四角の中にあるお菓子を合わせるといくつになりますか。下の四角の中から選んで○をつけます。



※1. このプリントは、しながわ・目黒こどもスクールのウェブサイトでダウンロードができます。無断複写・引用はご遠慮ください。
※2. このプリントを活用したオンライン授業のスケジュールは、しながわ・目黒こどもスクールのウェブサイトでご確認ください。

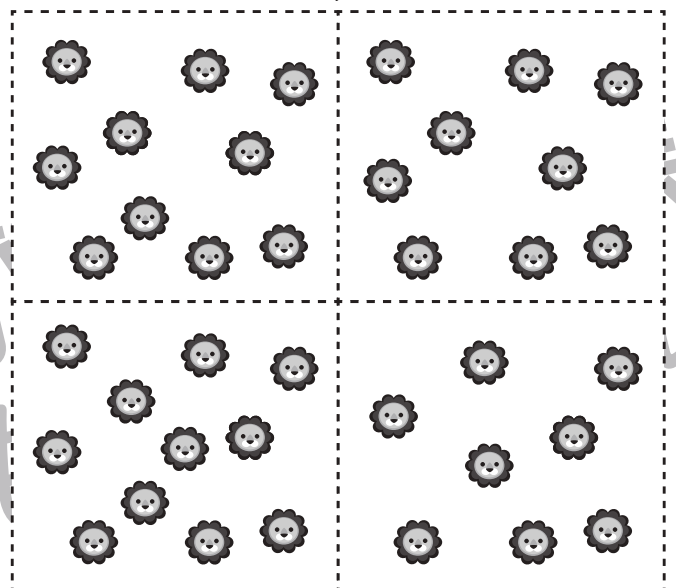
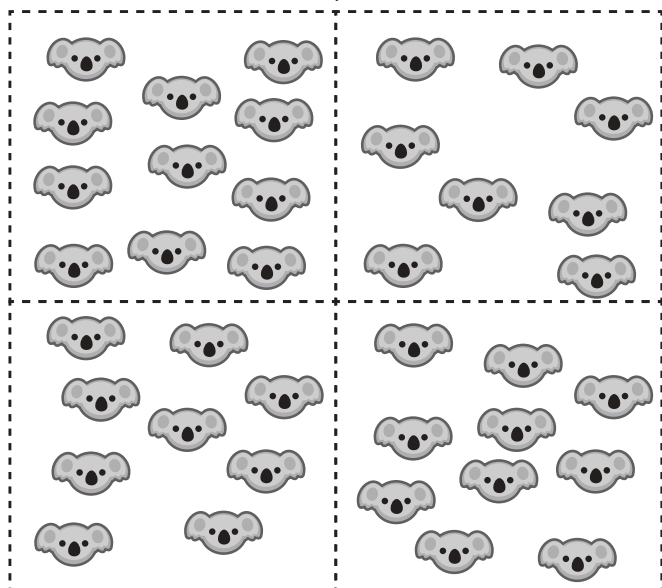








おうちで、やろう。

Study at home. 小学校受験の家庭学習教材

数量：加減2

太い四角の中にあるお菓子を合わせるといくつになりますか。下の四角の中から選んで○をつけます。



※1. このプリントは、しながわ・目黒こどもスクールのウェブサイトでダウンロードができます。無断複写・引用はご遠慮ください。

※2. このプリントを活用したオンライン授業のスケジュールは、しながわ・目黒こどもスクールのウェブサイトでご確認ください。












おうちで、やろう。

Study at home. 小学校受験の家庭学習教材

数量：加減 3

太い四角の中にあるお菓子を合わせるといくつになりますか。下の四角の中から選んで○をつけます。



※1. このプリントは、しながわ・目黒こどもスクールのウェブサイトでダウンロードができます。無断複写・引用はご遠慮ください。
※2. このプリントを活用したオンライン授業のスケジュールは、しながわ・目黒こどもスクールのウェブサイトでご確認ください。





おうちで、やろう。

Study at home. 小学校受験の家庭学習教材

図形：点図形 16

左のお手本と同じになるように右の四角に線をかきます。 ※このプリントに解答はありません。

※1. このプリントは、しながわ・目黒こどもスクールのウェブサイトでダウンロードができます。無断複写・引用はご遠慮ください。

※2. このプリントを活用したオンライン授業のスケジュールは、しながわ・目黒こどもスクールのウェブサイトでご確認ください。